





基隆市立武崙國中 110 學年度第一學期八年級公民科第二次段考試卷

班級： 座號： 姓名：

一、選擇題(共 35 題，1-5 題 2 分、6-35 題 2.5 分)

1. () 新北市政府啟用加強身心障礙者照顧及工作技能培訓的小型作業所「三重五華日間照顧服務中心」，市長表示多照顧一個身心障礙者就能多幫助一個家庭，減輕其家庭的經濟負擔。請問：以上敘述屬於何種地方政府的自治事項？ (A) 教育文化 (B) 安全衛生 (C) 社會服務 (D) 經濟發展。
2. () 在民主國家中，民眾會組成利益團體向政府反映意見，藉此影響政府的政策，使其較符合該團體的訴求。下列何者最可能是利益團體為實現其訴求而採取的行動？ (A) 對有關單位的官員進行遊說，以直接表達訴求 (B) 規畫具體的政策後，送交立法機關審議並表決 (C) 質詢有關單位的官員，並要求修正政策或法案 (D) 糾正推動政策不力的政府部門，要求限期改善。
3. () 我國憲法規定軍備採購、外交事務等由中央政府籌謀，而都市計畫擬定、垃圾處理方式等，則由地方政府規畫。當上述事務權限劃分發生爭議時，依我國相關法令判斷，應由下列何者處理此爭議？ (A) 總統 (B) 立法院 (C) 司法院 (D) 監察委員。
4. () 國文課教導「書信結構及用語」時，邱老師搭上祖父母節的慶祝活動，讓全班學生使用正規書信寫法，從學校寄一封信問候自己的祖父母，但是邱老師要將信件寄出時，卻發現有一位學生將地址寫錯了。若依我國地方制度層級，請判斷以下何封信件收件地址必須修正？
 (A) (B) (C) (D)



精辦大列各國民族遊 交通部補助方案

2019/05~2020/01 最高領2,000!

★自由行住宿優惠
 1. 每房1,000元 2. 每週6天(週日到週五適用)
 ★原購方案，推展多權限1次

1. 每房1,000元 2. 不分平假日皆適用

另外，去年觀光旅遊補助申請由中央政府統一核銷，審核時間將近3至4個月，讓配合的旅宿業者苦等良久，今年則改由地方政府負責審查民宿業者參與資格及受理補助申請，期待能有更有效的刺激國內觀光，讓國人玩得開心。

5. () 政府在推動重大政策時，無論經過多少次的修正，通常還是避免不了會有民眾批評，其最主要的原因是因為公共意見的哪兩種特性所致？ (A) 議題性、變動性 (B) 議題性、影響性 (C) 複雜性、變動性 (D) 影響性、變動性。
6. () 小禾安排寒假旅遊時，發現了右列的補助方案。請根據方案內容推論，地方政府應具有以下何種職權？ (A) 執行上級委辦事項 (B) 辦理地方自治事項 (C) 審議地方法規預算 (D) 監督行政機關施政。
7. () 我國中央與地方政府間的權限，是依據什麼進行劃分？
 (A) 事務的性質 (B) 經費的多寡 (C) 權力的制衡 (D) 人口的數量。
8. () 公共意見能影響政府的施政，在民主政治中扮演重要的角色。就公共意見的意義來看，下列敘述何者正確？ (A) 公共意見是指多數人的意見，因此是超過半數以上民眾的共識 (B) 公共意見必須由政黨匯集民眾的意見才能形成，並具備公信力 (C) 民主社會中公共意見是多元的，因此可以和國家公共事務無關 (D) 公共意見屬於民眾公開表達的意見，也是個人言論自由的展現。
9. () 請參考下列的文字資料：『拍板確定！2019 年預算歸 0！行政院將派人選赴此機關擔任議長，雖然修憲以後，此機關失去地方自治團體地位，但修憲以前它也曾是臺灣省位階最高的立法機關，在臺灣民主運動中扮演過重要角色，雖然組織已被精簡，但其意義仍值得我們回憶省思。』根據上述內容，推論此機關應為下列何者？ (A) 縣議會 (B) 市議會 (C) 省諮議會 (D) 區民代表會。
10. () 近來許多地方政府重新整頓閒置空間，每逢週末舉辦藝文活動，並對外進行攤位招商，有時還搭配配煙火秀吸引遊客。由於此舉易造成周邊交通堵塞，加上地方財政困難，因而輿論對此作法有許多批評，但不少地方政府仍持續舉辦相關活動。下列何者最可能是上述地方政府作為的目的？
 (A) 提供人民社會福利 (B) 籌措地方自治財源 (C) 維護自然環境資源 (D) 保障民眾言論自由
11. () 下列哪一法律保障我國人民的結社自由？ (A) 憲法 (B) 民法 (C) 政黨法 (D) 人民團體
12. () 按照法律之規定，我國哪些公職人員是由人民選舉產生？甲、澎湖縣議員；乙、新北市烏來區區長；丙、監察委員；丁、宜蘭縣羅東鎮鎮長；戊、臺灣省省諮議員
 (A) 甲乙丙 (B) 甲乙丁 (C) 甲丙戊 (D) 乙丙戊。

13. () 民國 109 年新型冠狀病毒 (COVID-19) 疫情嚴重，政府頒布了許多因應疫情的政策，透過新聞宣傳暫停醫療外科與 N95 口罩出口一個月、口罩實名制、居家隔離等配套措施，民間也發起換「我 OK，你先領」大頭貼的網路活動，全臺 1/3 醫護人員連署支持政府堅守防疫，就以上相關防疫活動，其中公共意見形成的途徑為下列何者？(A)政黨 (B)公聽會 (C)利益團體 (D)傳播媒體
14. () 下列是三位行政首長的發言內容：
- 甲縣縣長：「感謝縣議會的支持，本縣領先全國引進熱氣球活動，創造商機。」
- 乙市市長：「因應颱風來襲，為維護市民財產安全，本市今晚開放市區紅線停車。」
- 丙縣縣長：「未來是否在本縣設置觀光賭場，我們將交由縣民以公投方式決定。」
- 上述三位首長的發言內容，最足以彰顯下列何項概念？ (A)中央集權 (B)責任政治 (C)三權分立 (D)地方自治。
15. () 在辦理各項活動時，相關預算與花費必須經過立法機關審核才能使用，下列「行政—立法機關」的配對何者正確？(A)屏東縣政府—屏東縣民代表會 (B)恆春鎮政府—恆春鎮議會 (C)牡丹鄉公所—牡丹鄉議會 (D)林邊鄉公所—林邊鄉民代表會。
16. () 大安國和平縣將於今年 11 月舉行縣長改選。請就下表四位候選人所提出的參選政見判斷，哪一位的政見屬於縣長的職權範圍？(A)大實：加入世界衛生組織；拓展官外交 (B)阿娟：修改稅法；平衡中央與地方建設 (C)永安：發展交通建設；推動鄉土文化教育 (D)阿財：降低全民健保費用；提供縣民免費醫療
17. () 我國地方政府的組織層級分為直轄市、縣(市)、鄉(鎮、市)及直轄市山地原住民區，主要規範於哪一部法律之中？(A)憲法 (B)地方制度法 (C)地方自治法 (D)財政收支劃分法
18. () 某政黨的政治主張包含環境保護、生態平衡、注重草根民主、堅持社會平等與世界和平。請問該團體較可能透過何種方式來影響公共意見？甲. 推派候選人參與選舉 乙. 監督執政黨施政成效 丙. 向他黨進行政治遊說 丁. 蒐集民意以制定政策 (A)甲乙丙 (B)乙丙丁 (C)甲乙丁 (D)甲丙丁
19. () 我國於西元 2018 年年底辦理九合一地方公職人員選舉，為了讓民眾更了解候選人的理念，部分政黨在黨內初選時，即運用傳播媒體辦理電視政見發表或辯論會。請問：政黨舉辦政見發表會或辯論會，展現了政黨的何項功能？(A)服務選民 (B)組織政府 (C)監督政府 (D)教育民眾增進民主認知。
20. () 在民主國家，政黨運作最大的目標是取得執政的機會。下列敘述何者正確？(A)選舉失敗的政黨，為確實監督政府施政，對所有議案皆應持反對立場 (B)民主國家政權的轉移取決於民眾的選票 (C)為了貫徹政府的施政理念，執政黨可不必理會民意 (D)在選舉中敗選的政黨，應負起組織政府施政的重責大任。
21. () 在野黨立委接受食品業者陳情，要求政府重視食安危機。在野黨在此時發揮下列何種功能？(A)影響政府，以爭取黨員利益 (B)培育政治人才，提名候選人 (C)匯集與整群眾的利益與要求 (D)宣傳政黨理念教育社會大眾。
22. () 利益團體是民主社會的產物，該類團體的存在對利益的匯集與表達有一定的功能。下列關於利益團體的敘述，何者正確？(A)利益團體只能關注國家人民的利益或公共利益 (B)以獲取利潤為目標，在選舉中通常不會提名候選人並提出施政理念 (C)專業性的利益團體可彌補國會對專業問題了解的不足 (D)可調和民眾不同的利益，對國家發展會提出全面性政策。
23. () 地方政府原則上負責執行上級委辦事項，以及推動地方自治事項，但有些事務必須打破行政區界的線。下列何者必須由各地方政府跨區域合作？(A)交通部決定高鐵軌道從臺北到高雄 (B)高雄捷運延伸到屏東的東港鎮 (C)國中教育會考在各縣市同步舉行(D)漢光演習的戰車訓練從臺北開到宜蘭。
24. () 各地方政府都會積極爭取中央政府的統籌分配稅款。請問：地方政府爭取到的經費可用於下列哪一方面？(A)購置軍事國防武器 (B)成立優質國立大學 (C)辦理文化節慶活動 (D)廣泛設立國家公園。

題組 1 臺北市市長騎自行車完成 520 公里「一日雙塔」挑戰，車行路線從新北市富貴角燈塔出發，騎至終點屏東縣鵝鑾燈塔，途經桃園市、新竹縣、新竹市、苗栗縣、臺中市、彰化縣、雲林縣、嘉義縣、臺南市、高雄市。請問：

25. () 依照上文所述，車行路線中哪一個行政區與縣同層級？(A)新竹市 (B)新北市 (C)臺中市 (D)臺南市。

26. () 根據我國地方自治內涵，下列何者屬於此市長的工作職權？(A)質詢臺北市政府首長 (B)制定臺北市公共住宅財務計畫 (C)審查捷運公務預算 (D)訂定《臺北市廣告物管理自治條例》

題組 2 我國現有六直轄市山地原住民區乃經多方爭取後，才於西元 2014 年通過修正條文，於《地方制度法》中增列專章規範「直轄市山地原住民區」，明定其為地方自治團體。其規格相當於鄉鎮市，自治內容也較相近，不僅能選舉區長、區民代表；也具立法權，區民代表可以訂定區的法令，無須全部遵循直轄市法令；經費來源與運用皆獨立運作，並自行編列預算，直轄市只能監督經費運用是否合法；行使行政權與人事權時，也能自主決定，直轄市僅能做合法性的監督。請回答下列問題：

27. () 請問「直轄市山地原住民區」的設置，其目的可能為何？(A)為節約財政，令原住民族自行籌措地方建設經費 (B)落實原住民族自治的精神 (C)透過選舉區代表，加強中央對地方事務的監督 (D)賦予原住民族行政權與人事權的自主性。

28. () 關於直轄市原住民區及一般區的比較，下列何者正確？(A)甲乙 (B)丙丁 (C)乙丁 (D)甲丁。

29. () 下列哪一項議題，較可能出現在「直轄市山地原住民區」立法機關的討論中？(A)道路修補經費預算增列案 (B)針對區長違法貪汙的制裁方式 (C)與國外姐妹市締結國籍相互承認條約 (D)建立原住民族自願軍，守護傳統領域。

	原住民區	一般區
(甲) 區長產生 方式	居民投票	官派
(乙) 行政權	有	無
(丙) 立法權	無	有
(丁) 受直轄市 監督程度	低	高

題組 3 電子菸在網路、夜市唾手可得，成為未成年吸菸的「入門菸」。董氏基金會指出，電子菸明明是菸，卻定位模糊，青少年容易受誤導，呼籲政府將電子菸納入《菸害防制法》，明文管制買方行為。有民眾在國發會的公共政策網路參與平臺，提案要求「合法開放電子菸」，目前附議人數已經超過 5 千人門檻，依規定，相關主管機關須做出具體回應。衛福部表示，電子菸目前被列為偽劣藥，僅能管制賣方行為，會請地方政府協助追查處理賣方行為。至於電子菸是否合法化，適用於《菸害防制法》，將繼續蒐集意見再討論。

30. () 董氏基金會在電子菸的議題上，扮演下列何者角色？(甲)闢說官員，進行利益輸送 (乙)提出政見，投入立委選舉 (丙)透過媒體，宣傳菸的危害 (丁)透過遊說，影響政府立法 (A)甲乙 (B)甲丁 (C)乙丙 (D)丙丁。

31. () 民眾在國發會的公共政策網路參與平臺，提案要求「合法開放電子菸」。這是以何種方式來向政府表達對公共事務的意見？(A)以陳情的方式向政府表達民意 (B)透過正式管道，影響政府決策 (C)透過傳播媒體向政府提出建議 (D)以民意調查來收集民眾的意見。

32. () 如果小民想要直接向政府表達對「開放電子菸」的意見，他可以採取下列何種方式？(A)打電話到電臺節目反應 (B)寫信給董氏基金會 (C)直接向衛福部陳情 (D)加入政黨擔任黨職。

題組 4 地方政府主要分為地方行政機關，如縣政府、市政府等，負責推動該地區的自治事務；以及地方立法機關，如縣議會、市議會等。請回答下列問題：

33. () 下列何者屬於縣市議會的職權？(A)行政權 (B)立法權 (C)司法權 (D)監察權。

34. () 嘉義縣議會是嘉義縣的立法機關，其所負責的職權為下列何者？(A)處理地方自治事務 (B)議決花蓮縣的地方法規 (C)監督嘉義縣政府的施政 (D)審查行政院所提之預算。

35. () 假設基隆市議會將進行該年度的施政總質詢，則下列哪一個人必須接受該議會的質詢？(A)行政院院長 (B)基隆市市長 (C)新北市市長 (D)基隆市議會議長。

基隆市立武崙國民中學 110 學年度第一學期八年級公民科第二次段考非選擇題試卷

班級：

座號：

姓名：

得分：

二、非選擇題，共 15 分

基隆協和火力發電廠內燃油機組陸續除役，將改建天然氣機組，台電預計在協和電廠外海興建國內第四座天然氣接收站（簡稱四接），但儲氣槽與接收碼頭間需填海造陸 18.6 公頃相當於 443 個籃球場。

環保署於(11/1) 日下午舉行協和發電廠更新改建計畫第 3 次初審會議，在野黨之基隆市議員及民間團體在會議前召開記者會，痛斥填海造陸是「史上最爛方案」，因為會破壞外木山 7 萬多株珊瑚、破壞漁業資源，讓基隆僅存最長的自然海岸從此消失。

而環評現場出現許多「在地人」意見不同、針鋒相對。外木山海岸一帶許多里長、社區發展協會理事長等，皆為口徑一致贊成四接，均表示協和電廠從 1977 年設置至今，已讓在地居民飽受空氣品質的困擾，其空污總量將從每年 2 萬 8,052 公噸，下降為 1,439 公噸，減量比例約 95%。

永續海洋外木山工作室執行長張哲源講到，在地民意代表、里長、社區理事會等只敢說支持天然氣發電，沒人敢說支持填海造陸，且在地居民並不知道要蓋四接，台電公司在當地的說明會僅說明「天然氣接收站設置可以改善現有空氣」，並無說明要填海造陸，且計畫內容也未說明會撥出多少經費來做漁業保育區的劃設、協助在地漁民發展第二專長等措施，以因應漁業收入的損失。

台電則發表聲明回應，協和電廠現址便是以填海造陸的方式興建，證明填海造陸與人造海堤結構可兼顧供電與生態，而煤油改為燃氣也可改善當地空污問題，且現行場址是評估過唯一安全且可行的最佳方案。台電並強調，規劃填海面積已由最初的 29.25 公頃縮減至約 18.6 公頃，減少超過 3 成 5，後續也會進行珊瑚復育計畫，會利用海洋牧場補償海洋生態價值及經濟性漁獲等估算資料做量化。

1. 第二段內容提到在野黨之議員及民間團體痛斥填海造陸是「史上最爛方案」，其原因為何？(共 3 分，請勿照抄上面內容之文字)
2. 第三段內容提到，當地居民贊成四接的主因是什麼？(共 3 分，請勿照抄上面內容之文字)
3. 請寫出上述內容提到的利益團體（共兩個答案，共 2 分）
4. 看完此篇文章，你對台電在協和電廠外海興建四接的看法為何？並請說明原因。(共 4 分，請勿照抄上面內容之文字)
5. 你可以透過什麼管道表達你對此議題的想法？並請寫出具體方式。（共兩個答案，共 3 分）