

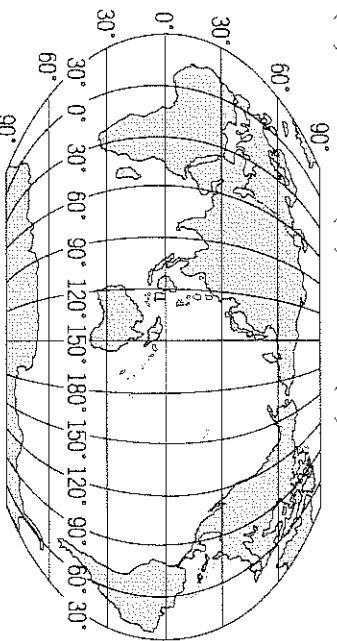
基隆市立武崙國民中學一一〇學年度第一學期第二次段考九年級地理科試題卷

注意事項：

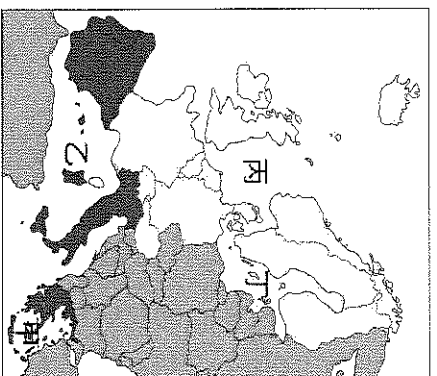
1. 本份試卷為單選題，每題2分，共50題，總分100分。
2. 答案卡限用2B鉛筆畫記，若畫記錯誤，請擦拭乾淨。分數以電腦讀卡分數為準。
3. 答案卡上的資料欄請確實填寫，若資料欄畫記錯誤導致電腦無法正確判讀，扣總分10分。

班級：九年 班座號： 姓名：

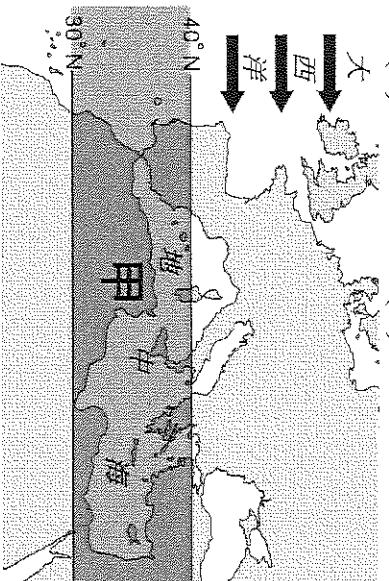
- () 1. 附圖為世界主要陸地分布圖，請根據圖中資料判斷，下列哪一條經緯線通過歐洲？(A)赤道 (B)本初經線 (C)回歸線 (D)國際換日線。



- () 2. 「黃色小鴨」是荷蘭藝術家霍夫曼所創作，若想把歐洲各海域當作一個大浴缸作為展覽場地，從南歐的希臘海岸出發，行經大西洋經過黃色小鴨的故鄉荷蘭，最後到北歐芬蘭的耶誕老人村慶祝耶誕節，行經的海域甲→乙→丙→丁依序為何？

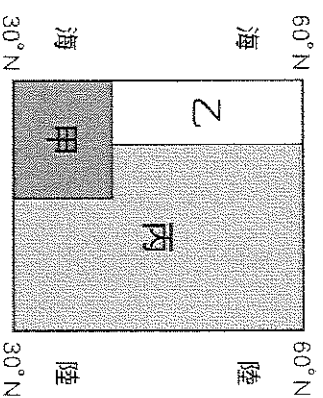


- (A) 黑海→地中海→北海→波羅的海
(B) 黑海→地中海→波羅的海→北海
(C) 愛琴海→地中海→北海→波羅的海
(D) 愛琴海→地中海→波羅的海→北海。
- () 3. 附圖為地中海地區7月氣壓帶的示意圖。「甲」應是哪一個氣壓帶？(A)西風帶 (B)東北信風帶 (C)赤道低壓帶 (D)副熱帶高壓帶。



- () 4. 冰河因重力的緣故，往低處前進時，有很強的侵蝕力，形成各式各樣的地形。請問：下列何者不屬於冰河地形？(A)冰蝕湖 (B)U型谷 (C)谷灣 (D)峽灣。
- () 5. 下列哪一種冰河地形因谷底寬平利於道路修築，常成為阿爾卑斯山區南北往來的天然孔道？(A)谷灣 (B)峽灣 (C)冰蝕湖 (D)U型谷。

- () 6. 附圖為歐洲溫帶氣候分布簡圖。若依照**海洋性、大陸性、地中海型**氣候的順序排列，下列何者正確？(A)甲丙乙 (B)甲乙丙 (C)乙丙甲 (D)丙甲乙。




- () 7. 西元1985年歐洲國家在盧森堡簽訂《申根公約》，其主要目的為何？(A)統合會員國為單一市場 (B)防堵他國的關稅壁壘 (C)人口與貨物便利流通 (D)工業原料互通有無。

- () 8. 直布羅陀海峽位於西班牙和摩洛哥之間，長約58公里，最窄處寬約13公里，因戰略地位重要，且是海上貿易的通道，成為世界強國爭奪的對象。請問：直布羅陀海峽控制下列哪兩個海域的交通往來？(A)黑海、裏海 (B)紅海、地中海 (C)地中海、黑海 (D)大西洋、地中海。

- () 9. 哪一條河流，發源自西歐，向東注入黑海，流經多個國家，是歐洲第二長河？(A)多瑙河 (B)萊茵河 (C)窩瓦河 (D)勒那河。

- () 10. 歐盟為一區域性的經濟、貨幣與政治合作國際組織，下列何者為歐盟的旗幟？



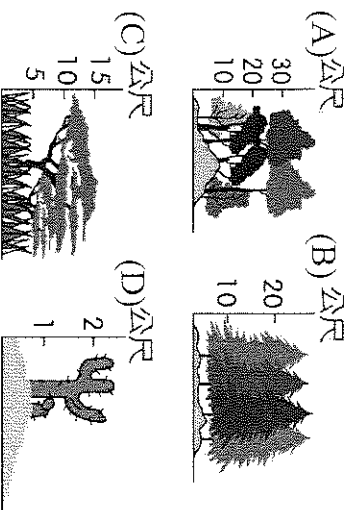

- () 11. 附表整理歐洲四個國家的主要出口產品，請判斷何者最可能為有「低地國」之稱的荷蘭？(A)甲 (B)乙 (C)丙 (D)丁。

甲	小麥、玉米
乙	石油、針葉林
丙	柑橘、橄欖油
丁	乳酪、花卉

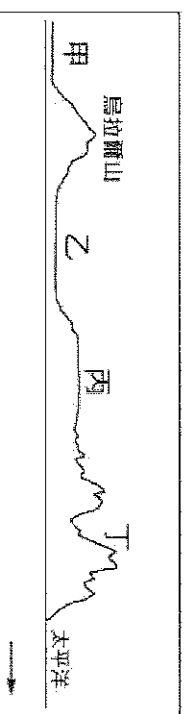
- () 12. 位在歐俄平原中央，為俄羅斯首都及放射狀鐵路中心的都市為下列何者？(A)基輔 (B)莫斯科 (C)聖彼得堡 (D)維科揚斯克。

- () 13. 下列哪一個歐洲半島因緯度較高，故受冰河侵蝕作用影響，有發達的冰蝕地形？(A)義大利半島 (B)伊比利半島 (C)巴爾幹半島 (D)斯堪地那維亞半島。

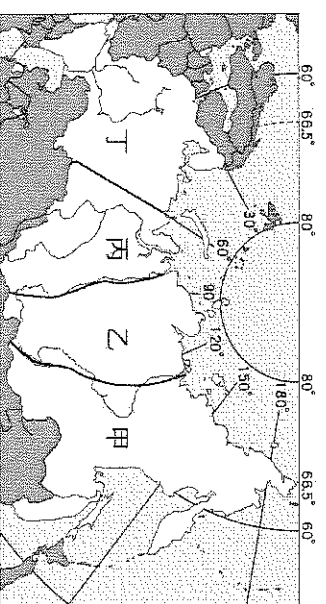
- () 14. 俄羅斯娃娃是由多個相同圖案的空心木頭娃娃，一個套一個組合而成，是俄羅斯最具代表性的紀念品（如附圖）。請問：根據產地判斷，此木頭應屬於下列哪一種植物林相？



- () 15. 日本 311 大地震引發強烈的海嘯，畫面藉由新聞傳送，讓人感受到自然災害的力量。附圖是俄羅斯地形剖面圖，下列哪一個地形區和日本擁有相同地質條件，也是地震好發區？(A)甲 (B)乙 (C)丙 (D)丁。



- () 16. 附圖為俄羅斯的主要地形分區圖。請問：哪一個分區的地形以高原為主？(A)甲 (B)乙 (C)丙 (D)丁。

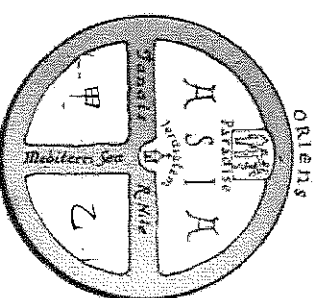


- () 17. 承上題，請問：附圖哪一地區因自然條件較佳，都市、產業、人口多集中於此？(A)甲 (B)乙 (C)丙 (D)丁。

- () 18. 下列關於俄羅斯人文環境的敘述何者正確？(A)以阿拉伯人為主 (B)主要信奉伊斯蘭教 (C)人口的空間分布極不平均 (D)人口集中西伯利亞地區。

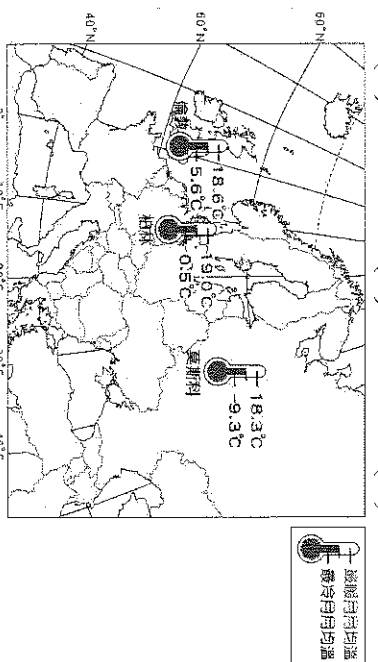
- () 19. Tina 今年到歐洲旅遊，前往瑞士搭乘最具盛名的高山火車，來回穿梭於南歐與西歐之間。請問：該鐵路線穿過了下列哪一座山脈？(A)烏拉爾山 (B)阿爾卑斯山 (C)喀爾巴阡山 (D)斯堪地那維亞山脈。

- () 20. 附圖是十三世紀羅馬人對世界的認知所繪的古地圖，其中丁字型部分為海洋或河流，其餘部分為三大陸塊。請問：甲陸塊和乙陸塊之間的水域為何？(A)太平洋 (B)地中海 (C)大西洋 (D)北極海。

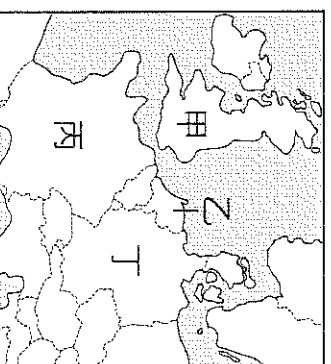


- () 21. 巧克力火鍋是瑞士的傳統甜點，香濃可口的牛奶巧克力是瑞士人於 19 世紀所研發，但瑞士並沒有生產巧克力的原料，而是以乳製品聞名世界。請問：瑞士居民飼養乳牛發展酪農業的主因為何？(A)位處低緯，全年有雨 (B)地形崎嶇，土壤貧瘠 (C)地勢低平，降水稀少 (D)鐵路發達，交通便利。

- () 22. 附圖為歐洲境內三個城市的最冷月及最暖月均溫的資料，依據圖中資訊判斷，影響這三個城市氣溫差異的主要原因為何？(A)植被多寡 (B)地勢高低 (C)緯度位置 (D)距海遠近。



- () 23. 辛苦工作的小丸子決定利用假期前往以葡萄酒聞名的某國，坐在塞納河畔的咖啡館，細細品嚐香醇的咖啡，還能到羅浮宮飽覽珍貴的藝術作品。請問：小丸子的假期將在附圖中哪一個國家度過？(A)甲 (B)乙 (C)丙 (D)丁。



- () 24. 東歐的經濟發展較歐洲其他地區緩慢，因此國民所得相對低落。請問：該地區發展較為遲緩的主要因素為何？(A)資源缺乏 (B)交通不便 (C)政治制度 (D)勞力不足。

- () 25. 海岸線綿長曲折的地方，因港灣眾多，大多適合向海洋發展。若以歐洲的分區來評估，何區的海上活動可能較少？(A)東歐 (B)西歐 (C)南歐 (D)北歐。

- () 26. 「非洲古大陸向地中海推移，板塊劇烈的擠壓形成南歐的主要地貌。」下列各項南歐的敘述，何者與引文中的地理事實關係最密切？
 (A)氣候多為溫帶地中海型氣候 (B)阿爾卑斯山大致為東西走向 (C)天然植被多為低矮灌木林 (D)農業發達，為西歐提供蔬菜、葡萄和柑橘等。
- () 27. 「Burberry 是一家英國服裝公司，風衣為其著名商品，是創始人專為英軍的需要而設計，其防水原料獲得專利保護。下雨刮風時豎起高領，繫好釦子，防水防風的質料能有效防止內衣被雨水打溼，長長的下擺也可免除褲子被濺溼。」請由文中敘述推論，英國氣候具有下列哪一項特徵？ (A)全年酷寒、降水稀少 (B)冬季短暫、乾季明顯 (C)夏熱冬寒、夏雨冬乾 (D)四季分明、終年有雨。

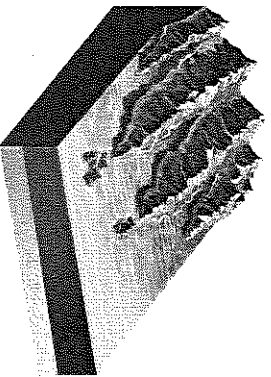
- () 28. 「人類至少在兩千年前，就已知道利用一種盛產於西班牙、葡萄牙、義大利和北非的作物，榨取其果核中的油脂成為食用油，這種油近年來因富含不飽和脂肪酸而成為世人新寵。」依氣候條件判斷，引文中所指的作物應是下列何者？ (A)椰棗 (B)橄欖 (C)花生 (D)黃豆。

- () 29. 「近年俄羅斯積極發展高科技產業，並參與國際性事務，朝多元化發展，以解決俄羅斯單一經濟的風險困境。」請問：「俄羅斯單一經濟」最可能是指下列何者？ (A)出口勞動力 (B)出口礦產及原物料 (C)出口糧食作物 (D)出口軍火工業。

- () 30. 下文摘錄自某則新聞內容，文中所提及的鄰近海域應為下列何者？ (A)黑海 (B)北海 (C)地中海 (D)波羅的海。

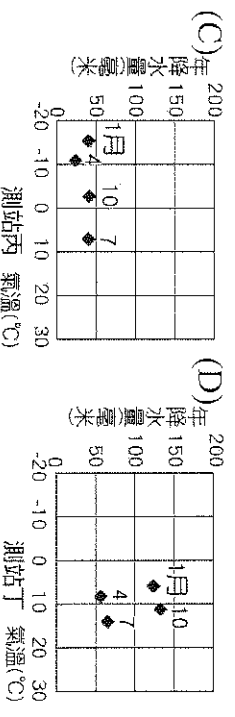
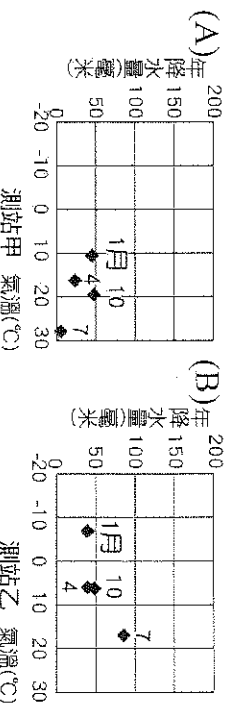
有鑑於國際石油和天然氣因市場需求增加而價格飆漲，日本大阪天然氣公司為直接取得原料，出資 334 億日圓，大手筆投入挪威、丹麥與英國鄰近海域的石油和天然氣礦區開發計畫。

- () 31. 歐洲聯盟為世界重要的經濟體之一，但近年來，該組織的葡萄牙、義大利、希臘、西班牙等會員國接連發生經濟危機，撼動世界。請問：上述發生經濟危機的國家，多位於歐洲的哪一個分區？ (A)北歐 (B)南歐 (C)西歐 (D)東歐。
- () 32. 附圖為北歐的挪威海岸地區典型景觀。圖中海灣地形的成因最可能為下列何者？ (A)冰河侵蝕後，海水入侵 (B)河流侵蝕後，海水上升 (C)火山爆發後，陸地下沉 (D)珊瑚礁石堆積後，陸地下沉。

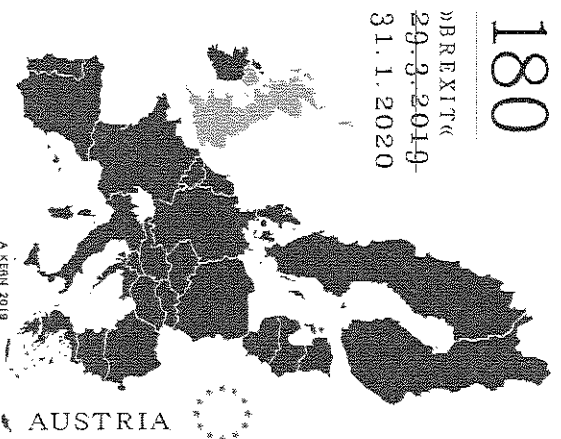


- () 33. 歐盟致力於將歐洲各國統合為單一市場，貨幣可自由流通，目前大部分的歐盟會員國所使用共同貨幣為歐元，但也仍有部分歐洲國家基於經濟主權等考量，並未使用此共同貨幣。請問：下列哪些國家並未使用歐元？ (A)義大利、西班牙 (B)法國、德國 (C)比利時、希臘 (D)丹麥、瑞典。

- () 34. 下列選項為四個歐洲氣象觀測站長時間統計的平均氣溫及年降水量資料，依據圖中資訊判斷，哪一測站最可能位於溫帶地中海型氣候區的範圍？



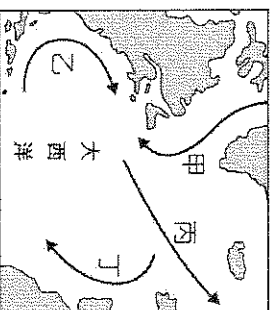
- () 35. 附圖為奧地利為了紀念某個重大事件而發行的郵票。由於協商不順利，使得該協議正式生效日一再拖延，直到 2020 年 1 月 31 日才達成。請問：該重大事件最可能為下列何者？ (A)英國脫歐 (B)歐洲聯盟成立 (C)東歐國家加入歐盟 (D)歐盟因應新冠肺炎疫情關閉邊境。



- () 36. 俄羅斯為世界面積最大的國家，領土遼闊，請問：其國內最主要的交通方式為下列何者？ (A)空運 (B)鐵路 (C)河運 (D)海運。

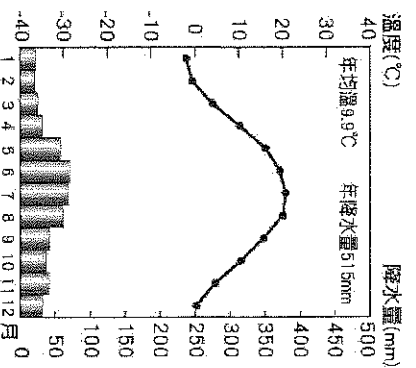
- () 37. 1492 年，哥倫布從西班牙出發，向西航行，經大西洋尋找想像中的「東方」國度；當時，他刻意將船隻航行的路線降至 30°N 以南的海域，以避免開 40°~60°N 終年盛行的某風帶阻礙。請問：哥倫布是想避開下列哪一個風帶的阻礙？ (A)副熱帶高壓帶 (B)東南信風帶 (C)東北信風帶 (D)西風帶。

- () 38. 俄羅斯的莫斯克是北極圈內最大的城市，離北歐的挪威及芬蘭不遠，由於洋流的關係，港口終年不凍，是俄羅斯北方艦隊的其中一個重要基地。請問：文中提及的洋流應為附圖中何者？(A)甲 (B)乙 (C)丙 (D)丁。

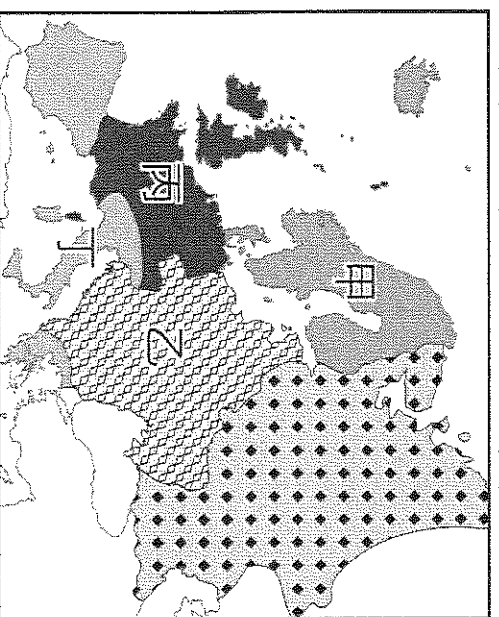


※歐洲的氣候大致可區分成下列五大類型：(甲)溫帶地中海型氣候(乙)溫帶海洋性氣候(丙)溫帶大陸性氣候(丁)高地氣候(戊)寒帶氣候。請問：

- () 39. 哪一種氣候類型受西風與暖流的影響，全年有雨，年溫差較小？(A)甲 (B)乙 (C)丙 (D)戊。
- () 40. 哪一種氣候呈現夏乾冬雨、夏熱冬暖的氣候特徵？(A)甲 (B)乙 (C)丙 (D)戊。
- () 41. 附圖是歐洲某地的氣候圖，最可能屬於哪一種氣候類型？(A)甲 (B)乙 (C)丙 (D)丁。



※附圖是歐洲分區示意圖。請問：

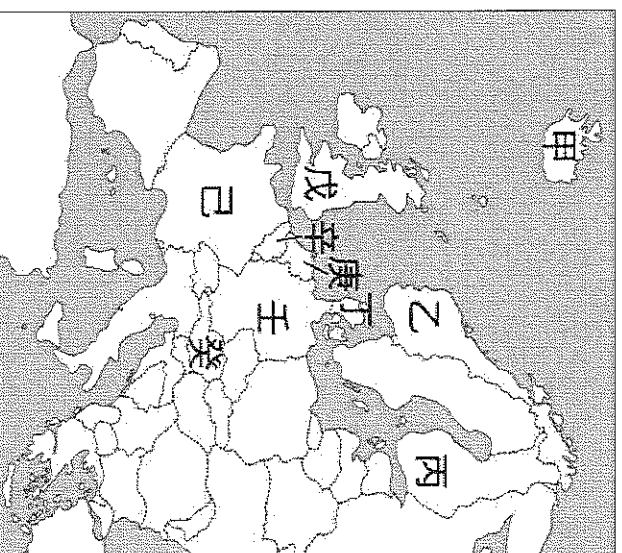


- () 42. 歐洲大平原主要分布在哪兩個代號區？(A)甲乙 (B)甲丙 (C)乙丙 (D)乙丁。
- () 43. 圖中的哪一區擁有發達的峽灣海岸，有利航海和貿易活動？(A)甲 (B)乙 (C)丙 (D)丁。
- () 44. 圖中的哪一區擁有希臘與羅馬古文明，歷史遺跡豐富？(A)甲 (B)乙 (C)丙 (D)丁。

※源自瑞士的萊因河，沿途流經五個國家，蜿蜒1,320公里後注入北海，是歐洲航運價值最高的河川，河面上運送各項原料及產品的船隻往來頻繁。請回答下列問題：

- () 45. 「當地人常暱稱萊因河為該國工業之父，因為流域內豐富的煤礦(如魯爾)及便利的水運條件，使得沿岸出現許多工業大城市，吸引全國近三分之一的人口居住於此，是人口密度最高、工業最發達的地區。」上述內容是指下列哪一個國家？(A)德國 (B)波蘭 (C)英國 (D)捷克。
- () 46. 萊因河流域的工業原料進口及產品出口，均要在河口進行轉運，碼頭上的工人及起重機具總是忙碌地運作著，這個歐洲吞吐量最大的港口應是下列哪一個城市？(A)鹿特丹 (B)巴黎 (C)倫敦 (D)布魯塞爾。

※西歐與北歐的國家各具特色。附圖為西歐、北歐位置圖，請問：



- () 47. 「這個國家將地熱作為發電能源，除了供應一般民生需求，還可發展溫室栽培、養殖漁業，對於同樣也是四面環海、環保意識高漲，希望減少核能發電的臺灣而言，是一個很值得學習的國家。」上述中的國家位於附圖中的何處？(A)甲 (B)乙 (C)丙 (D)戊。
- () 48. 我國經濟部部長欲前往歐洲聯盟總部洽談經濟合作事項，他應該前往哪一個國家？(A)丁 (B)戊 (C)庚 (D)辛。
- () 49. 美環想到工業革命的起源地，了解更多關於工業革命的發展歷史，她應前往圖中哪一個國家？(A)戊 (B)己 (C)壬 (D)癸。
- () 50. 「桑拿」是利用對全身乾蒸沖洗的刺激使血管反覆擴張收縮，增強血管彈性、預防血管硬化。請問：桑拿是圖中哪一個國家的傳統習俗？(A)丙 (B)戊 (C)己 (D)癸。

【試題到此結束，請再檢查一次！】