

一、選擇題：

- () 1. 附表是語欣為了完成課堂報告所蒐集、整理的資料。依照此表內容判斷，語欣的報告主題是在研究下列哪個地區？(A)希臘 (B)波斯 (C)馬其頓 (D)埃及

1. 曾建立橫跨歐亞非的帝國
2. 統治政策採寬容態度
3. 相信世上是善惡二元對立

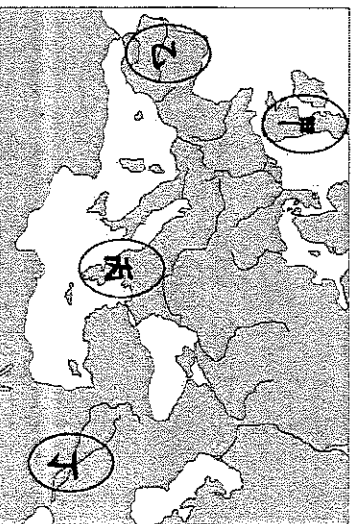
- () 2. 比較斯巴達與雅典的特點，下列何者正確？
(A)甲 (B)乙 (C)丙 (D)丁

政治體制	經濟
雅典	(甲)軍國主義
斯巴達	(乙)民主政治
	(丙)商業
	(丁)工業

- () 3. 治臻研究他的家鄉羅馬的歷史，做了如附表的統整，但其中只有一項正確。正確的為其中哪個？

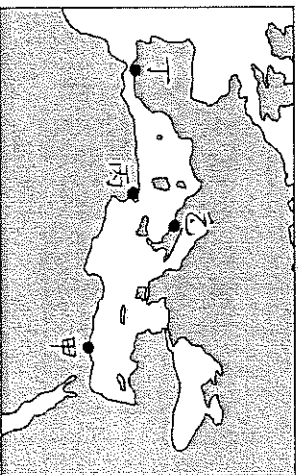
王政	(A) 貴族統治
共和	(B) 元老院執行政策 (C) 設立執政官
帝國	(D) 皇帝為虛位元首

- () 4. 此宗教認為火是真正的造物主最早創造出來的兒子，是象徵神的絕對和至善，是「正義之眼」，因此崇拜象徵光明的「火」，相信世界上有善與惡兩股對立的勢力。請問：此宗教的發源地在何處？
(A)兩河流域 (B)小亞細亞 (C)地中海東岸 (D)伊朗高原。
- () 5. 若庭參觀羅浮宮特展，看到一部有趣的碑文如下：「我，牧羊人漢摩拉比，聚集了豐富的資源，席捲整個世界，使巴比倫威名遠播，並將這份榮譽歸於我的主神。」若庭看到的碑文使用的文字為下列何者？
(A)象形文字 (B)希臘文 (C)楔形文字 (D)拉丁文
- () 6. 古埃及與中國一樣，對於曆法都非常重視，這是因為曆法與下列何者有著直接關聯？
(A)宗教信仰 (B)農業生產 (C)中央集權 (D)文化傳承
- () 7. 他是古希臘作家，他把旅行中的所聞所見，著成《歷史》一書，被後世稱為「史學之父」。請問：「他」是下列何者？
(A)荷馬 (B)歐幾里德 (C)阿基米德 (D)希羅多德
- () 8. 希臘城邦雖然能在波斯帝國人侵時，團結一致共同抗敵，但在擊敗波斯帝國後，城邦間的征戰不斷，鸚鵡相爭的結果，最後由哪一支民族趁機統一希臘城邦坐享漁翁之利？
(A)羅馬人 (B)日耳曼人 (C)馬其頓 (D)匈奴人。
- () 9. 下列哪個民族在羅馬帝國後期大舉遷移至帝國內部，後來導致西羅馬帝國的滅亡？
(A)希臘人 (B)馬其頓人 (C)匈奴人 (D)日耳曼人
- () 10. 羅馬人喜歡在全國各地豎立皇帝的塑像，代表羅馬皇帝的權威，最早被元老院獻上「奧古斯都」的尊號，使羅馬從此進入帝國時期的是哪一位君主？
(A)凱撒 (B)君士坦丁 (C)屋大維 (D)狄奧多西。
- () 11. 古代「這個地區」形成許多城邦，城邦各自為政，彼此之間戰爭不斷。戰爭需要士兵，士兵需要強壯身體，而體育是培養強壯士兵的重要關鍵。之後，準備兵源的軍事訓練和體育競技，與宗教慶典結合，逐漸變為世界性象徵和平與友誼的運動會。請問：上文中的「這個地區」位於圖中的何處？
(A)甲 (B)乙 (C)丙 (D)丁。

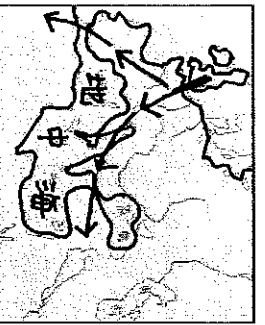


- () 12. 西元 2003 年美國出兵伊拉克，戰火波及幼發拉底河和底格里斯河一帶。請問：這兩條河的流域曾是哪一個古文化的發源地？ (A)埃及 (B)印度 (C)西亞 (D)希臘。
- () 13. 羅馬帝國的國勢在三、四世紀時陷入低潮，國內秩序崩壞，外患不斷。直到某位君主擴建拜占庭為新都，並將帝國首都遷往東方，重振了羅馬帝國。請問：這位君主是誰？ (A)凱撒 (B)屋大維 (C)狄奧多西 (D)君士坦丁。
- () 14. 埃及是古文化的發源地之一，木乃伊與金字塔是其重要的文化特色遺跡。請問：古埃及人製作木乃伊最主要的為何？ (A)幫助死者贖罪 (B)為了祭祀太陽神及陰間之神 (C)提供人死後靈魂投胎轉世之需 (D)保持肉體不壞，以備來世之用。
- () 15. 「希臘化文化」以其科學成就對後世的影響最為深遠，而何人發現槓桿、浮力原理，奠定了物理學的基礎？ (A)歐幾里德 (B)阿基米德 (C)希羅多德 (D)荷馬。
- () 16. 輸晨參加歐洲旅遊團，導遊介紹一座城市的歷史遺跡：「二千多年前，此處已有相當完整的道路、供水系統，城市整齊衛生，且當時制定的法律，影響日後歐洲的法學傳統。」請問：以上的成就，是由哪一民族所創造？ (A)羅馬人 (B)希臘人 (C)印度人 (D)蘇美人。
- () 17. 羅浮宮將舉辦一場「文明的曙光：美索不達米亞」珍藏品的展覽，在檢查展品清單時，文森佐發現了一項不適合本次展覽主題的展品，請問此展品是下列何者？ (A)刻在玄武岩上的《漢摩拉比法典》 (B)莎草紙上的《死者之書》 (C)巴比倫古城的還原模型 (D)蘇美的楔形文字泥板。
- () 18. 歐洲的英國、法國、西班牙及義大利，今日是各有不同文化、獨立自主的國家。但在歷史上，這些國家曾同在下列哪一帝國的統治之下？ (A)羅馬帝國 (B)拜占庭帝國 (C)亞歷山大帝國 (D)波斯帝國。
- () 19. 承恩一直不懂為什麼希臘會發展為各自獨立的小城邦，而不是一個大帝國。請問這主要是什麼原因所造成？ (A)水源充足，習慣散居 (B)宗教差異，相互敵視 (C)希臘多山，地形崎嶇 (D)人種複雜，互不妥協。
- () 20. 西元前四世紀，亞歷山大創立跨歐、亞、非的帝國，並在其征服的疆域內興建城市。圖中的甲、乙、丙、丁，何者最可能是他所興建的城市？ (A)甲 (B)乙 (C)丙 (D)丁。

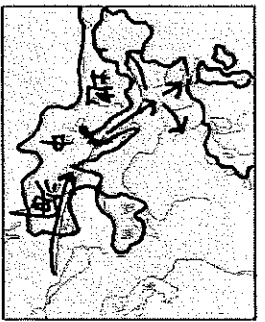
() 21. 關於西方文明大致的發源與擴張過程，下列哪一幅圖的表示內容較為正確？ (箭頭代表發源與擴張過程)



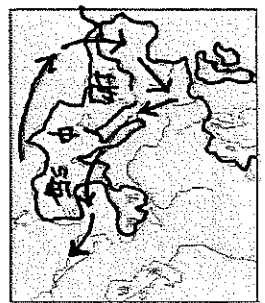
(A)



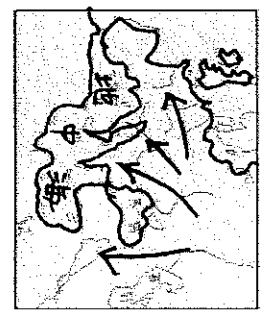
(B)



(C)

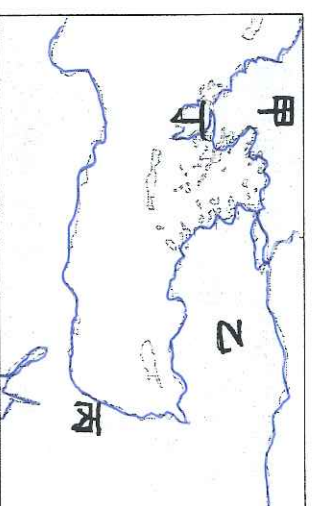


(D)



- () 22. 世界上四大古文明國的共同特色，是皆發源於大河地區，請問四大古文明國是指哪四個？
甲、中國；乙、印度；丙、希臘；丁、埃及；戊、西亞
(A)甲乙丙丁 (B)乙丙丁戊 (C)甲乙丙戊 (D)甲乙丁戊。
- () 23. 兩河流域地區因商業興盛，人民非常重視契約的簽訂，以保障自己本身的利益，古西亞地區著名且最完整的成文法典是哪一部？ (A)十二銅表法 (B)拿破崙法典 (C)漢摩拉比法典 (D)舊約全書。
- () 24. 承上題，這部法典的特色為何？ (A)以牙還牙、以眼還眼 (B)以德報怨，寬恕別人 (C)法律之前人人平等 (D)宣傳自由平等觀念。
- () 25. 希伯來人創立的猶太教，以舊約全書為經典，書中記載希伯來人是上帝的選民，並賜給他們流著奶與蜜的土地。請問：希伯來人口中流著奶與蜜的土地是指何處？ (A)美索不達米亞 (B)巴基斯坦 (C)巴勒斯坦 (D)兩河流域。
- () 26. 摩西在西奈山上要求希伯來人遵守十誡；十誡的第一條「除耶和華外不信別的神」，這種一神信仰對後來哪個宗教有很大的影響？甲、扶教；乙、基督教；丙、佛教；丁、伊斯蘭教 (A)甲乙 (B)甲丁 (C)乙丁 (D)乙丙。
- () 27. 西元前六世紀，當波斯建立帝國後，隨即陸續征服兩河與埃及等地，並對希臘地區造成威脅，希臘在哪一個城邦的帶領下，以寡擊眾擊敗波斯帝國，保持了各城邦的獨立？ (A)雅典 (B)斯巴達 (C)特洛伊 (D)奧林匹亞。
- () 28. 古代有一段時間稱作希臘化時代。請問：此時代的文化內涵融合哪些文化？
(A)希臘、西亞、埃及 (B)希臘、羅馬、西亞 (C)埃及、西亞、羅馬 (D)希臘、印度、羅馬
- () 29. 承上題，造成希臘化時期的融合文化，最大的關鍵和何者有關？ (A)波希戰爭 (B)亞歷山大東征 (C)羅馬帝國擴張 (D)日耳曼民族遷移。
- () 30. 小恩對希臘神話裡描述神與神、神與人之間的愛恨情仇的故事情節非常有興趣，小凱建議小恩可找伊里亞德與奧德賽兩本著作來閱讀。請問這兩部名著的作者是何人？ (A)柏拉圖 (B)希羅多德 (C)蘇格拉底 (D)荷馬。

- () 31. 西元前五世紀，雅典大政治家伯里克里聘請著名的建築師，建造了一座希臘式的建築強調均衡、對稱之美感，這座後來成為希臘式建築藝術代表的是何者？ (A)帕德嫩神廟 (B)聖彼得大教堂 (C)羅馬競技場 (D)比薩大教堂。
- () 32. 希臘的哲學思想家重在探討倫理道德與人生意義，最著名的有「希臘三聖哲」他們的學說成為後世西方哲學的主要範疇。請問：下列何人「非」希臘三聖哲？ (A)蘇格拉底 (B)歐幾里得 (C)柏拉圖 (D)亞里斯多德。
- () 33. 羅馬在西元一、二世紀時國勢達於極盛，帝國安定繁榮，不僅建造著名的羅馬競技場、公共浴場外，還免費提供各種表演活動供民眾觀賞。請問：當羅馬帝國稱霸於西方時，東方正值中國哪一個朝代？
(A)周朝 (B)秦朝 (C)漢朝 (D)唐朝。
- () 34. 西方有句諺語說：「羅馬不是一天造成的。」羅馬人不僅發明了混凝土，並大量興建引水道、道路等公共設施，使當時羅馬成為一個結構宏偉而功能齊全的城市。這些建設成就最主要反映出羅馬文化具有下列哪一種特性？
(A)重視哲學思辯 (B)重視實用技術 (C)重視人神關係 (D)重視生態平衡。
- () 35. 4世紀末，哪位皇帝執政時期正式將羅馬帝國分為東、西二部？
(A)凱撒 (B)君士坦丁 (C)屋大維 (D)狄奧多西
- () 36. 根據考古研究發現，哪一種文字經過簡化後，成為西方文字的起源？
(A)甲骨文 (B)楔形文字 (C)象形文字 (D)拉丁文字
- () 37. 西亞文明是世界最古老的文明之一。請問：下列有關西亞古文明的起源地，何者不包括在其中？
(A)兩河流域 (B)阿拉伯高原 (C)小亞細亞 (D)地中海東岸
- () 38. 西元前五世紀，波斯帝國向外擴張，最終與希臘諸城邦爆發一場大戰，這場戰爭為於附圖中何處？



羅馬人	法律
埃及人	醫學
蘇美人	文字
希臘人	?

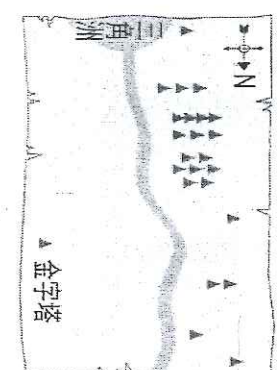
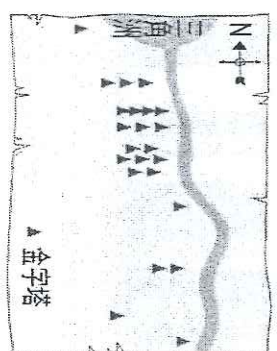
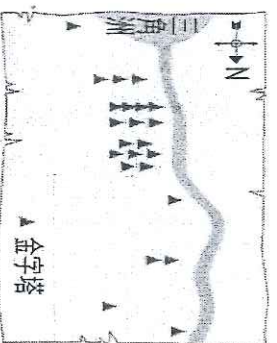
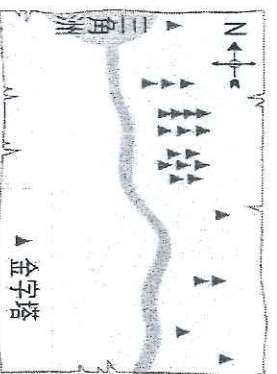
- (A)甲 (B)乙 (C)丙 (D)丁
- () 39. 欣欣在整理上古時期的文化成就，想歸納成表格形式，但她整理到一半，記憶卻有些混亂，你能幫她把右表問號的部分補上嗎？
(A)曆法 (B)哲學思想 (C)象形文字 (D)法律制度
- () 40. 《十二銅表法》被認為是今日「成文法」的始祖、歐陸法系中的羅馬法的起源，其應該是以哪種文字刻在青銅上？
(A)楔形文字 (B)象形文字 (C)希臘文 (D)拉丁文

三、題組：每題 2 分

- (一)、為了實現「讀萬卷書，不如行萬里路」的理想，曉華老師決定利用暑假到國外旅行。請搭配右邊的附圖，回答下列問題：
- () 41. 若想親眼目睹金字塔，必須造訪何地？
(A)甲 (B)乙 (C)丙 (D)戊
- () 42. 曉華老師在課本上曾經看過古波斯帝國的宮殿遺址照片，若欲親臨造訪，必須到圖中的何地？
(A)甲 (B)乙 (C)丙 (D)丁

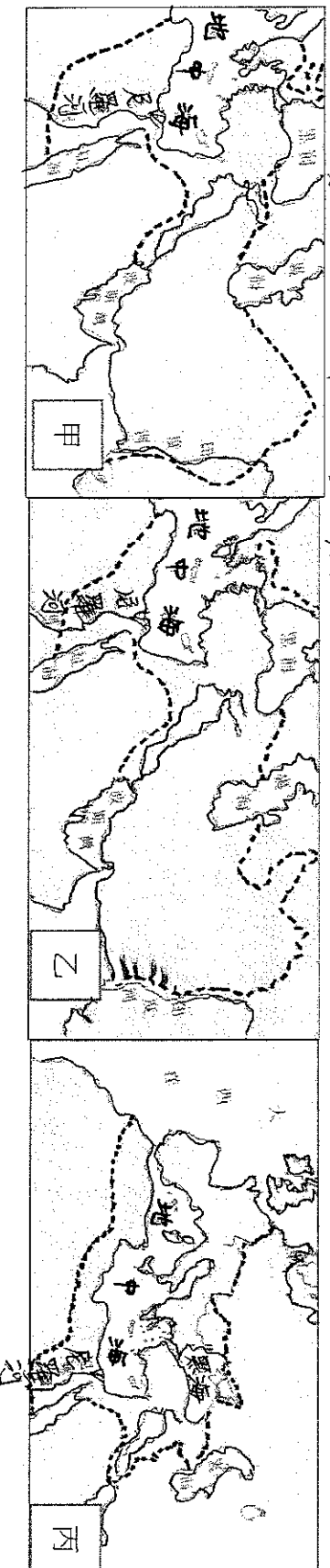


- (二)、嘉玲在閱讀一本課外書時看到以下敘述：「相傳在古埃及的世界裡，以尼羅河為界線畫分成東、西 2 個部分，城市多位在尼羅河東岸，而亡者都埋葬在尼羅河西岸，一如日出與日落的方位，象徵生命的開始與結束。」
- () 43. 請問：下列哪一張示意圖最符合上文對古埃及人土地利用的描述？
(A) (B) (C) (D)



- () 44. 金字塔在埃及的出現，象徵埃及的各種文化成就，請問下列哪是錯誤的？
 (A)代表中央王權的出現 (B)有穩定的行政制度組織人力 (C) 測量學和幾何學成就很高 (D)金字塔是祭祀太陽神的神殿

(三)、以下三張圖，為古代三個橫跨亞非帝國的版圖，請根據圖片回答
 (虛線代表帝國疆域)




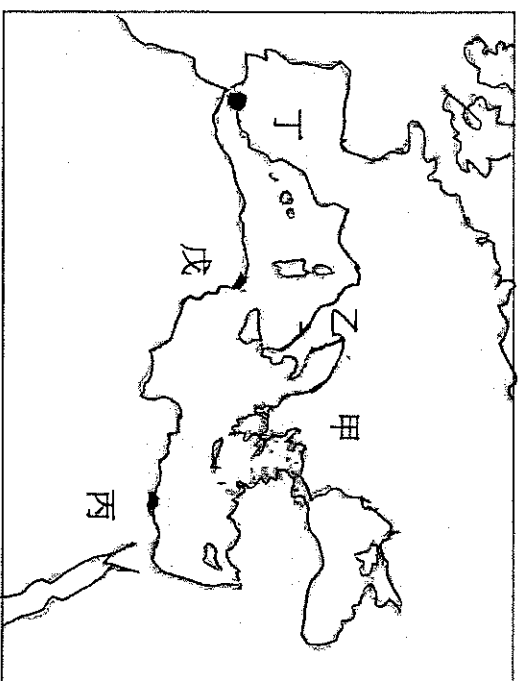
- () 45. 請依時間排列，三個帝國出現的先後順序？
 (A) 甲乙丙 (B) 乙甲丙 (C) 甲丙乙 (D) 丙甲乙
- () 46. 請問圖甲帝國境內以什麼語言流通最廣？(A)阿拉伯語 (B)拉丁語 (C)希臘語 (D)波斯語
- () 47. 請問圖丙帝國境內以什麼語言流通最廣？(A)阿拉伯語 (B)拉丁語 (C)希臘語 (D)波斯語

(四) 意斐和同學一起去博物館參觀西方文化特展，發現展覽中有一些是歷史老師有教過的古文明。但是他卻不太明瞭這些圖片的位置，請幫忙填入正確的位置：


- () 48. 請問：圖(I)，應該位在右圖中哪一位位置？
 (A) 甲 (B) 乙 (C) 丙 (D) 丁
- () 49. 請問：圖(II)，應該位在右圖中哪一位位置？
 (A) 甲 (B) 乙 (C) 丙 (D) 丁
- () 50. 請問：圖(III)，應該位在右圖中哪一位位置？
 (A) 甲 (B) 乙 (C) 丙 (D) 丁



圖(I)



圖(III)



圖(II)