

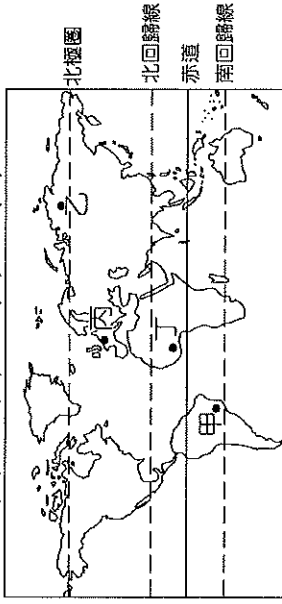
基隆市立武崙國民中學一一〇學年度第一學期第一次段考九年級地理科試題卷

注意事項：

1. 本份試卷為單選題，每題 2 分，共 50 題，總分 100 分。
2. 答案卡限用 2B 鉛筆畫記，若畫記錯誤，請擦拭乾淨。分數以電腦讀卡分數為準。
3. 答案卡上的資料欄請確實填寫，若資料欄畫記錯誤導致電腦無法正確判讀，扣總分 10 分。

班級：九年 班座號： 姓名：

- () 1. 「溫帶氣候具有最適合人類居住的優勢。」上述氣候區最有可能分布在附圖中的哪一個地區？ (A) 甲 (B) 乙 (C) 丙 (D) 丁。



- () 2. 非洲受到下列哪一個地形的阻隔影響，造成南北間的族群及文化上極大的差異？ (A) 撒哈拉沙漠 (B) 吉力馬札羅山 (C) 剛果盆地 (D) 東非大裂谷。
- () 3. 阿翔想到非洲利用當地豐富的農、礦資源設立工廠，下列哪一個開發企畫案**最難實現**？

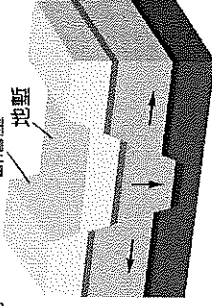
(A) 企畫一
地點：南非
類型：鑽石工廠

(B) 企畫二
地點：北非
摩洛哥
類型：葡萄酒工廠

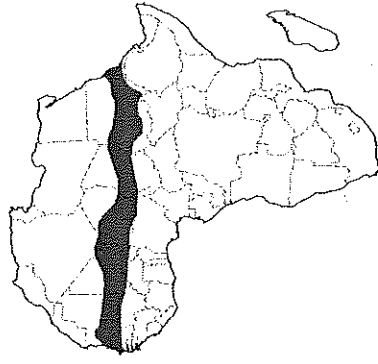
(C) 企畫三
地點：西非
迦納
類型：咖啡工廠

(D) 企畫四
地點：北非
埃及
類型：橡膠工廠

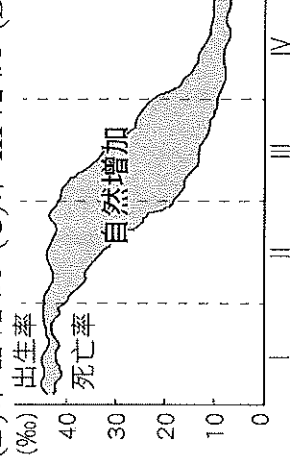
- () 4. 附圖為東非大裂谷示意圖。請問：造成此地形主要作用力為何？ (A) 風力侵蝕 (B) 雨水沖蝕 (C) 斷層陷落 (D) 火山噴發。



- () 5. 下圖中的區塊為非洲俗稱的「撒赫爾」地區，在這塊地區由於近年的過度開發，最有可能產生下列何種環境問題？ (A) 雨林濫墾濫伐 (B) 沙漠化區域擴大 (C) 沼澤持續消失 (D) 洪患問題加劇。



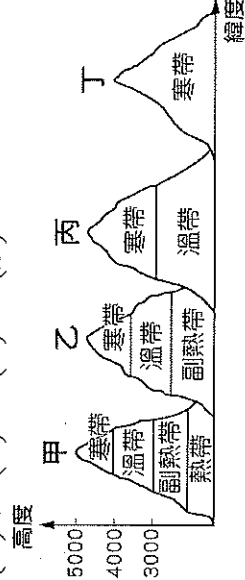
- () 6. 附圖是人口轉型四階段示意圖。漢南非洲各國在醫療改善下，死亡率已顯著降低；但農礦業的發展需要大量人口，因此出生率居高不下。請問：根據上文敘述，漢南非洲各國目前的人口轉型屬於圖中的第幾階段？ (A) 第 I 階段 (B) 第 II 階段 (C) 第 III 階段 (D) 第 IV 階段。



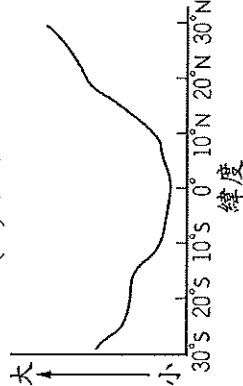
- () 7. 漢北非洲與漢南非洲有許多不同的差異，附表對於兩地的描述，請問何者正確？

(A) 人種	漢北非洲	漢南非洲
(B) 宗教信仰	華裔居多	黑種人居多
(C) 經濟發展	伊新蘭教為主	部落信仰為主
(D) 氣候環境	未開發國家	已開發國家
	熱帶	溫帶

- () 8. 諾貝爾文學獎得主海明威，在其著作《吉力馬札羅的雪》中寫道：「非洲第一高峰吉力馬札羅山，海拔 19,710 英尺，頂部長年被冰雪覆蓋，被肯亞和坦尚尼亞的遊牧民族馬賽人稱為『上帝的居所』。」請問：位於 3°S 的吉力馬札羅山，其山區氣候垂直分布情形應為何？ (A) 甲 (B) 乙 (C) 丙 (D) 丁。

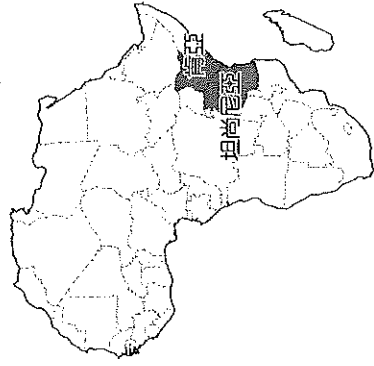


- () 9. 由於赤道橫貫非洲中部，故非洲的氣候大致呈現南北對稱的特性，附圖即為非洲某氣候要素統計數值隨緯度變化的情形，圖中縱軸應代表下列何者？ (A) 年降水量 (B) 年溫差 (C) 一月均溫 (D) 年降水日數。

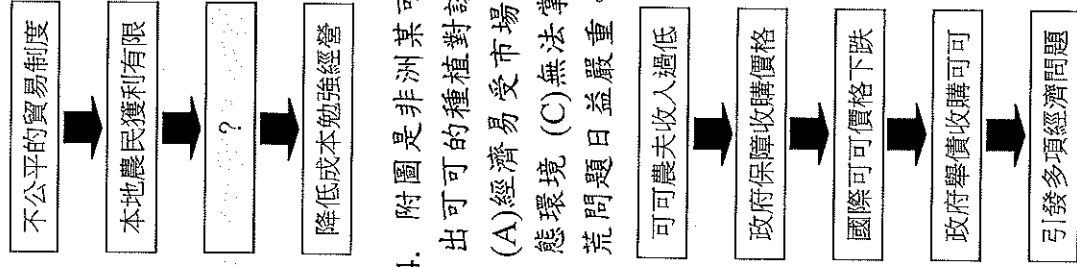


- () 10. 位於北半球的查德為典型的熱帶莽原氣候，若前往該地區旅遊，何時最容易遇到傾盆大雨的情況？ (A) 1 月 (B) 3 月 (C) 6 月 (D) 12 月。

- () 11. 東非以野生動物大遷徙聞名，每年有百萬隻牛羚、斑馬在坦尚尼亞及肯亞間往返，其地理位置如附圖所示。請問：上述遷徙範圍主要以何種地形為主？(A)高原 (B)平原 (C)盆地 (D)丘陵。



- () 12. 承上題，請問此地屬於何種氣候？(A)熱帶莽原氣候 (B)熱帶雨林氣候 (C)熱帶沙漠氣候 (D)高地氣候。
- () 13. 附圖是漠南非洲農場經營者的困境，在獲利有限的困境之中，他們最可能採取什麼措施(圖中空白處)來降低後續的農場營運成本？(A)雇用低薪童工 (B)使用化學肥料 (C)提高生產技術 (D)增加耕地面積。

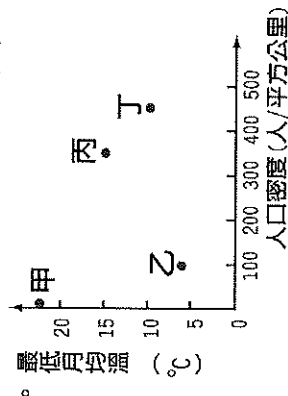


- () 14. 附圖是非洲某可可生產國的困境，由此圖可看出可有的種植對該國最大的影響為下列何者？(A)經濟易受市場價格波動影響 (B)破壞當地生態環境 (C)無法掌握生產關鍵技術 (D)造成饑荒問題日益嚴重。
- () 15. 漠南非洲歷年饑荒不絕，面臨嚴重的糧食問題，成為國際長年關注的焦點。除氣候與戰爭因素外，漠南非洲常見饑荒主要尚與下列哪些原因有關？(甲)過度的開墾導致沙漠化加劇；(乙)出生率下降導致高齡化嚴重；(丙)經濟作物種植排擠糧食作物；(丁)大量技術移民進入境內謀生(A)甲乙 (B)甲丙 (C)乙丙 (D)乙丁。

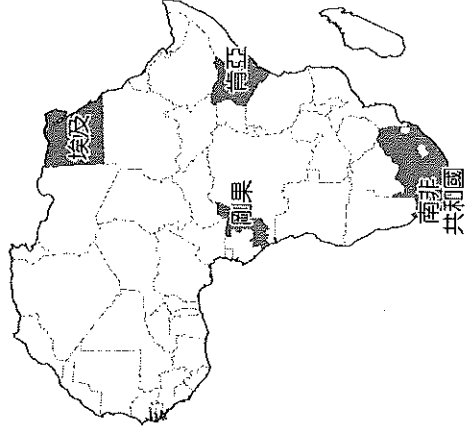
- () 16. 漠南非洲各國在獨立之後，依然受到昔日殖民母國的影響。附表是以殖民母國的語言為官方語言的國家，請問：這些國家的居民因受到殖民母國的影響多改信仰哪一種宗教？(A)伊斯蘭教 (B)基督教 (C)印度教 (D)佛教。

國家	殖民母國	官方語言
尼日	法國	法語
馬達加斯加	法國	法語
尚比亞	英國	英語
奈及利亞	英國	英語


- () 17. 「族人在乾季末期耕種之前，得先把森林中一小塊地面上的樹林燒掉，然後種山芋和樹薯。他們以掘棒、鋤等傳統農具耕作，並不施肥，若干年後，當土壤變得貧瘠時，農民便須移至他地，另闢田地。」請問：附圖中哪一種環境條件，最常出現上述的農耕方式？(A)甲 (B)乙 (C)丙 (D)丁。



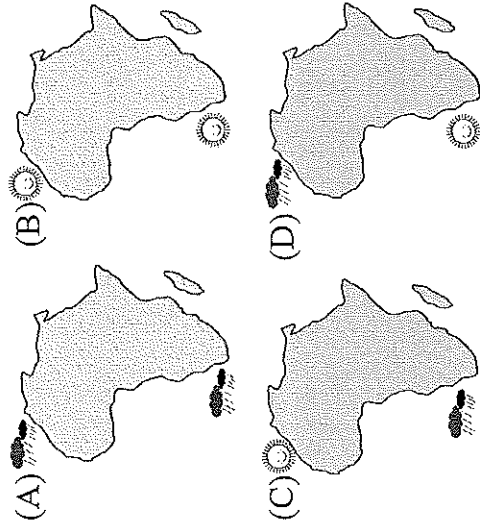
- () 18. 為了翻轉世人對非洲貧窮落後的印象，解決社會經濟問題，各國政府無不積極利用自身優勢，發展特色產業。以觀光旅遊業而言，下列四個國家主打的特色，何者明顯與其地理位置不符？(A)埃及：一覽世界四大古文明，悠遊尼羅河畔賞金字塔 (B)剛果：騎乘駱駝橫越世界最大的沙漠，體驗游牧文化 (C)肯亞：搭吉普車窺探動物遷徙，啜飲一口肯亞咖啡 (D)南非：在非洲南界好望角欣賞無敵海景，品味葡萄酒。



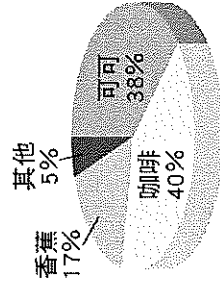
- () 19. 附圖是漠南非洲與世界平均經濟成長率統計圖，漠南非洲經濟發展快速的主因為何？(A)交通便利 (B)性別比高 (C)充足低廉勞動力 (D)基礎建設普遍。(%)



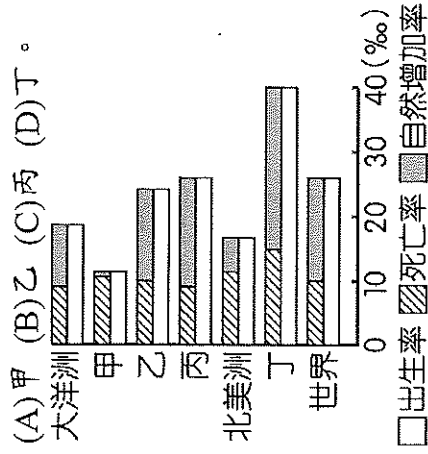
() 20. 非洲的氣候大致呈現南北對稱的特色，其中溫帶地中海型氣候區由於氣候宜人，成為主要的度假勝地。請問：非洲在七月時，其境內的溫帶地中海型氣候狀況，下列何者最為正確？



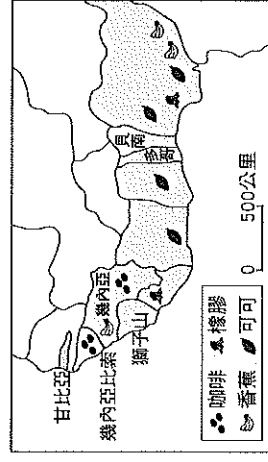
() 21. 附圖是非洲某一國家的主要作物生產示意圖，這些農產品也是該國對外貿易輸出的主力商品。請問，下列哪些敘述最可能符合該國現況？(甲)以第一級產業活動為主(乙)該國最可能分布在南非(丙)糧食缺乏需進口(丁)國家經濟穩定度高(A)甲乙(B)乙丙(C)甲丙(D)乙丁。



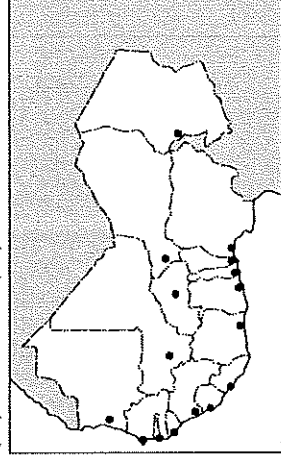
() 22. 人口成長影響各地區的區域發展，附圖為全球各大洲的人口成長數據，依圖中資料判斷，何者最可能是漠南非洲的人口狀況？



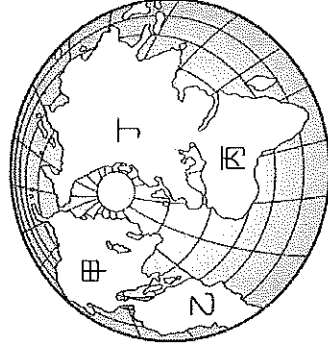
() 23. 漠南非洲的經濟發展相對落後，主要的產業類型多以農業活動為主，西非主要的農業活動分布如附圖。請問：該區的經濟發展特徵，**不**包括下列何者？(A)大面積農場，投入大量勞力(B)產品以外銷為主，海運發達(C)種植少數或單一經濟作物，收入不穩定(D)生長季與雨季不配合，需仰賴灌溉。



() 24. 附圖是西非各國最大都市的分布情形，該分布特色與殖民時期為輸出當地農礦產有關。下列哪一地區多數國家的最大都市，其發展歷程及分布特色與西非最類似？(A)西歐(B)北美(C)東北亞(D)東南亞。

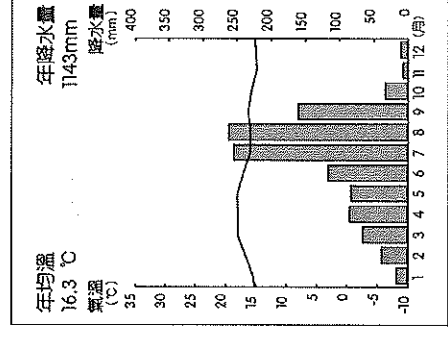


() 25. 「根據數據顯示，全球約有一半的鑽石產自這裡，它除了帶來財富外，也帶給當地人民無休止的暴力、血腥和自相殘殺。」文中敘述主要發生於附圖中哪一個地區？(A)甲(B)乙(C)丙(D)丁。



() 26. 圖(一)是漠南非洲某區的氣候圖，請由氣候圖判斷，該氣候位於圖(二)中的何處？

(A)甲(B)乙(C)丙(D)丁。



▲圖(一)

▲圖(二)

() 27. 熱帶栽培業為漠南非洲重要的經濟活動，下列有關該地區熱帶栽培業的發展敘述，何者正確？(A)主要種植葡萄、橄欖(B)造成糧食不足(C)種植多樣作物(D)屬於非洲傳統農作。

() 28. 附圖為非洲某種氣候的分布簡圖，依照氣候條件判斷，該區可能出產的作物為何？(A)可可(B)玉米(C)橄欖(D)咖啡。




() 29. 早期漠南非洲的奴隸買賣多輸往美洲，當西非幾內亞灣的黑奴利用海運前往美洲時，通常運輸船隻必須經過哪一個海洋？(A)太平洋(B)大西洋(C)印度洋(D)北極海。

- () 30. 炭志郎在超市買咖啡豆看到包裝上的兩個標籤如下圖。雨林聯盟認證指本咖啡包裝袋裡部分或全部的咖啡是來自符合保護農民、森林、野生動物和當地社區的農場生態，並且環境可持續的永續發展。而下列關於公平貿易標章的敘述，何者正確？ (A) 確保企業主得到最大利益 (B) 使漠南非洲農民獲利被壓縮 (C) 消費者以公平低廉價格買到產品 (D) 生產者在產品的貿易上得到較公平的待遇。

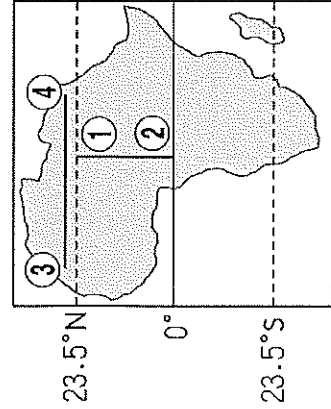


▲ 雨林聯盟認證 ▲ 公平貿易標章

- () 31. 植被類型會隨著氣候環境的差異而變化，圖(三)是由甲地至乙地的植被變化示意圖，其最能呈現圖(四)中非洲哪一路線沿線大致的植被變化？ (A) 由①至② (B) 由②至① (C) 由③至④ (D) 由④至③。



圖(三)



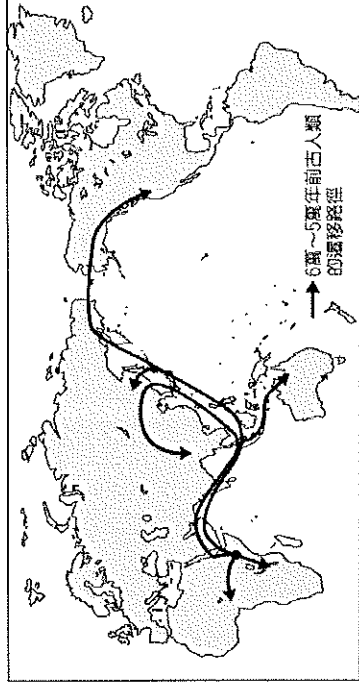
圖(四)

- () 32. 漠南非洲的傳統產業多為自給自足的農業，其種類**不包括**下列何者？ (A) 游耕 (B) 採集 (C) 放牧 (D) 漁獵。
- () 33. 「撒哈拉沙漠以南的非洲地區約有 11 億人口的分布，占全球的 14%，經濟生產總值則為全球的 2%。」上述資料反應出當地何種特色？ (A) 人口分布不均 (B) 自然增加率高 (C) 經濟發展落後 (D) 勞力資源短缺。

※ 漠南非洲族群複雜，導致國家多動亂，經濟發展緩慢。請問：

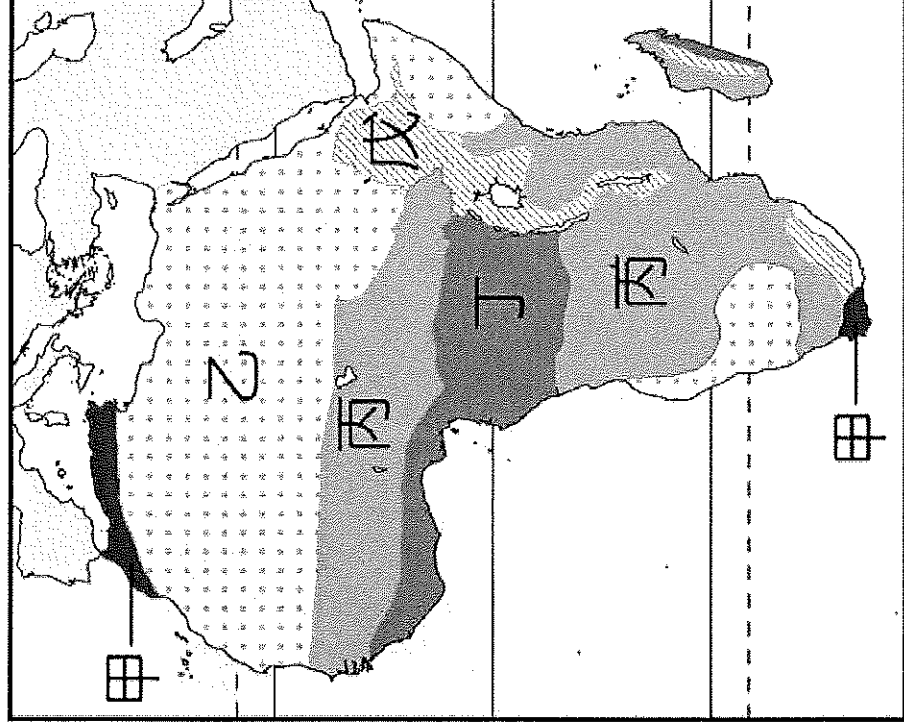
- () 34. 早期歐洲列強未考慮族群分布，以何種方式畫分殖民地，造成漠南非洲族群衝突多？ (A) 經緯線 (B) 人口 (C) 河流 (D) 部落分布。
- () 35. 漠南非洲以黑人為主，其中哪一國家曾經是少數白人統治多數黑人，施行種族隔離政策？ (A) 埃及 (B) 西非 (C) 南非 (D) 衣索比亞。

※ 考古學家在漠南非洲進行探索時，在當地發現 350 萬年前的人類遺骨，可說是目前發現最早的文明發源地。科學家更透過男性遺傳基因追尋古人類的遷移路徑，如附圖顯示即為 6 萬~5 萬年前古人類的遷移路徑。請問：



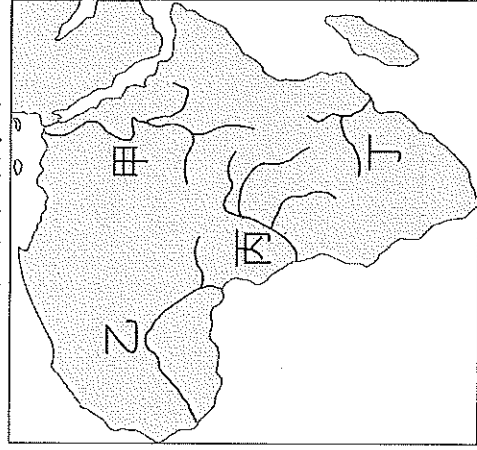
- () 36. 由附圖中資料判斷，最早的古人類發源地位於漠南非洲哪一個地形區？ (A) 撒哈拉盆地 (B) 剛果盆地 (C) 東非高原 (D) 喀拉哈里盆地。
- () 37. 根據科學家的研究顯示，6 萬~5 萬年前古人類的主要遷移路徑中，沒有通過哪一個海域？ (A) 大西洋 (B) 印度洋 (C) 太平洋 (D) 紅海。

※ 附圖為非洲的氣候區圖，請回答下列問題：



- () 38. 圖中哪一個氣候區的氣候特徵，受地形影響最大？ (A) 乙 (B) 丙 (C) 丁 (D) 戊。
- () 39. 某人自圖中丁區往北走到甲區，途中他經過地區的氣候特徵有何變化？ (A) 終年有雨 → 夏季多雨為主 → 冬季多雨為主 → 終年少雨 (B) 終年少雨 → 夏季多雨為主 → 冬季多雨為主 → 終年有雨 (C) 終年有雨 → 夏季多雨為主 → 終年少雨 → 冬季多雨為主 (D) 終年少雨 → 夏季多雨為主 → 終年有雨 → 冬季多雨為主

※附圖是非洲河川簡圖。



() 40. 請問：若以點圖來表示人口分布，則圖中哪兩條河川沿岸的點數量最多，且分布最密集？

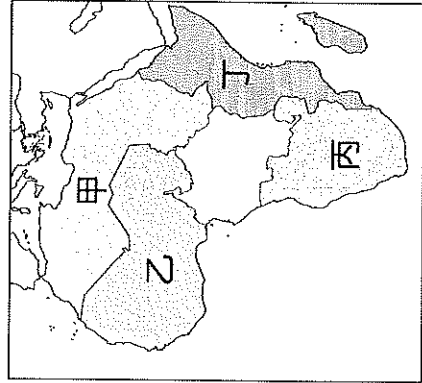
(A) 甲 乙 (B) 甲 丙 (C) 乙 丁 (D) 丙 丁。

() 41. 「這條河川中下游流經的盆地，在古代曾為一大湖，因大湖西南方被切穿，湖水外洩才形成盆地；切穿處上下落差達 200 多公尺，多急流、瀑布，非常不利河運。」請問：文中提及的河川應為附圖中何者？(A) 甲 (B) 乙 (C) 丙 (D) 丁。

() 42. 根據統計「非洲目前約高達 6 億以上的人無電可用，造成民眾生活不便，也阻礙非洲經濟成長，因此可以透過太陽能、風能與水力發電等再生能源的發展，解決非洲嚴重的經濟問題。」附圖中哪個地區最適合發展水力發電？

(A) 甲 (B) 乙 (C) 丙 (D) 丁。

※附圖為非洲分區圖，請依據圖中代號回答下列問題。



() 43. 「近年來，由於索馬利亞海盜十分猖獗，加上隔著紅海遙望的葉門內戰不斷，身為非洲面積第三小的國家，在缺乏天然資源的情況下，利用戰略位置的優勢讓各國軍隊進駐，藉此發展出獨特的軍事經濟。」請問：上述國家最可能位於圖中哪一區？(A) 甲 (B) 乙 (C) 丙 (D) 丁。

() 44. 「布吉納法索位於撒哈拉沙漠南部，因適合太陽能產業發展，吸引許多廠商投資。不過該國沒有足夠的專業人員清洗太陽能面板上的沙塵，加上人民窮困，無法購買可替換的電池，以致面板逐漸失去了功效，發電效果大打折扣。」請問：布吉納法索位於圖中何區？

(A) 甲 (B) 乙 (C) 丙 (D) 丁。

() 45. 「布吉納法索境內分布廣大沙漠，其形成沙漠的主因為何？(A) 位於西風背風側 (B) 深居內陸 (C) 副熱帶高壓籠罩 (D) 涼流流經。

※ 漢南非洲目前的經濟發展較為落後，使當地的社會問題及國家發展遇到瓶頸。請回答下列有關非洲發展特色的問題：

() 46. 漢南非洲的礦藏資源豐富，為該地區提供了充足的工業原料。請問：其礦藏豐富和該地區的哪一項因素關係最大？(A) 古老陸塊 (B) 地勢平坦 (C) 沙漠廣大 (D) 面積廣大。

() 47. 漢南非洲的礦藏豐富，但其工業發展卻較落後，最主要的影響因素為下列何者？(A) 殖民經濟 (B) 氣候乾燥 (C) 不易開採 (D) 勞工不足。

※ 請閱讀以下短文，並依據文章內容回答下列問題：

盧安達靠近赤道，為東非高原上的內陸小國，在近兩個世紀中，長期受到西方殖民統治。為了便於控制當地人民，西方人長期授權人數較少的圖西族統治人數較多的胡圖族，即使兩族之間外貌、語言、文化皆差異不大，卻仍導致族群之間矛盾日深。二十世紀後半，盧安達獨立建國後，長期受打壓的胡圖族取得政權，使得兩方的仇恨不斷加深。

一九九〇年代，由於盧安達兩大經濟作物價格走跌，導致經濟受到極大衝擊，加上西元 1994 年，盧安達總統座機遭炸毀，導致兩族之間的矛盾升到最高點，也演變成日後的「百日大屠殺」，在各國的漠視下，有近百萬人死於內戰之中。

() 48. 盧安達兩大種族之間的矛盾與紛爭，其主要原因為何？(A) 兩族膚色迥異 (B) 宗教彼此對立 (C) 殖民國家挑撥 (D) 文化差異甚大。

() 49. 從盧安達的地理位置判斷，該國兩大經濟作物最可能為下列何者？(A) 葡萄、橄欖 (B) 玉米、棉花 (C) 稻米、小麥 (D) 咖啡、茶葉。

() 50. 不只盧安達，非洲還有部分國家，長年陷於「內戰」的戰火之中，這顯示出非洲國家在建國時，已出現什麼問題？(A) 同一國家出現不同族群 (B) 以熱帶栽培業為主要產業 (C) 人民信仰宗教複雜 (D) 地理位置具戰略性。

【試題到此結束，請再檢查一次！】