

# 基隆市立武崙國民中學 110 學年度第一學期第一次段考八年級地理科試題卷

1. 單選題，每題 2 分，共 50 題，總分 100 分。

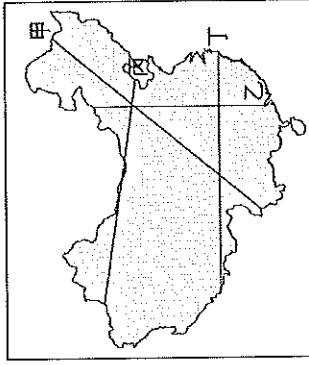
2. 答案卡請使用 2B 鉛筆畫記，若畫記錯誤，請擦拭乾淨。分數以電腦讀卡分數為準。

3. 答案卡上的資料欄請確實填寫，若資料欄畫記錯誤導致電腦無法正確判讀，扣總分 10 分。

班級： 年 班 座號： 姓名：

## 一、選擇題

- ( ) 1. 新疆地區能發展綠洲農業，主要是利用下列何種水源來灌溉作物？ (A) 雨水 (B) 河水 (C) 海水 (D) 雪水。
- ( ) 2. 小彤冬天到中國洽公，在廣州看到溫度顯示為 16°C；到了上海，溫度只有 10°C；到了哈爾濱，溫度剩 2°C。請問：造成此種氣溫變化的主要因素為何？ (A) 緯度差異 (B) 距海遠近 (C) 季風影響與否 (D) 地形起伏。
- ( ) 3. 中國三大氣候類型中，乾燥氣候又可細分為草原氣候與沙漠氣候，其主要是用下列哪一項指標來區分？ (A) 一月月均溫高低 (B) 地勢起伏 (C) 降水量多寡 (D) 年溫差大小
- ( ) 4. 由中國東南沿海一路向西北內陸前進，下列何種氣候資料數值會呈現增加的趨勢？ (A) 一月月均溫 (B) 雨季長度 (C) 年均溫 (D) 年溫差。
- ( ) 5. 中國曾流傳一個政策的口號：「少生孩子多種樹，少養孩子多養豬。」這個口號主要的目標是在宣導下列哪一項性質的政策？ (A) 加強學前教育 (B) 推動綠化保育 (C) 控制人口成長 (D) 推廣農牧發展。
- ( ) 6. 青藏高原氣候寒冷，不利農耕，僅東部與南部的河谷低地氣候較暖溼，可發展農業。請問：該地居民主要種植下列哪一種作物作為主要糧食？ (A) 小米 (B) 青稞 (C) 稻米 (D) 玉米。
- ( ) 7. 西元 2018 年，中國 0~4 歲的性別比為 114，此數字代表的意義為何？ (A) 每 200 個男生相當 114 個女生 (B) 每 200 個女生相當 114 個男生 (C) 每 100 個男生相當 114 個女生 (D) 每 100 個女生相當 114 個男生。
- ( ) 8. 下列何者『不是』影響中國人口分布的主因？ (A) 經濟發展 (B) 地勢高低 (C) 降水量多寡 (D) 鄰國的多寡。
- ( ) 9. 下列哪種牲畜是內蒙古的主要交通工具，有「沙漠之舟」的美稱？ (A) 駱駝 (B) 犏牛 (C) 天馬 (D) 山羊。
- ( ) 10. 有關秦嶺、淮河一線在中國地理上的重要性，下列哪一個選項有『誤』？ (A) 大致與 1 月均溫 0°C 等溫線位置相符 (B) 為副熱帶季風氣候與溫帶季風氣候的分界 (C) 為次高階梯與最低階梯的分界 (D) 水田與旱作的分界。
- ( ) 11. 中國的地形可分為三級階梯。請問：附圖中哪一條線段所經過的地區，完整涵蓋最高、次高、最低階梯的地形區？ (A) 甲 (B) 乙 (C) 丙 (D) 丁。



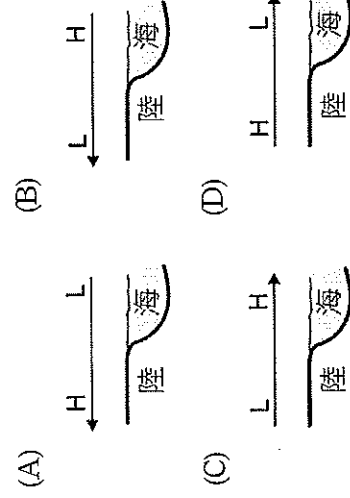
( ) 12. 下列哪些地理特徵受到中國地勢西高東低的影響？

- (甲) 人口集中東部 (乙) 西部山脈呈東西走向  
 (丙) 大江東去浪淘盡 (丁) 海洋水氣可深入內陸  
 (戊) 興建南北向運河 (己) 南船北馬

(A) 甲乙丙丁 (B) 丙丁戊己 (C) 乙丙戊己 (D) 甲丙丁戊。

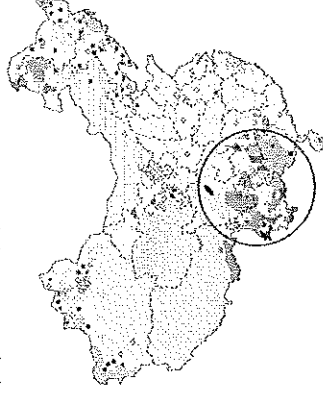
( ) 13. 小昀從北京市(東經 120 度)出發搭下午 1 點的飛機到西邊的新疆維吾爾自治區(東經 75 度)，坐了 4 個小時的飛機，終於抵達目的地。當他到達當地時，看到機場的時鐘顯示的時間應是下列何者？ (A) 下午 3 點 (B) 下午 4 點 (C) 下午 5 點 (D) 下午 6 點。

( ) 14. 下列為氣壓風向示意圖，H、L 各代表高、低氣壓，箭頭代表風向。下列何者是代表正確的「夏季」氣壓風向圖？



( ) 15. 中國族群多元，除了漢族外，少數民族大致有 54 族。附圖為中國少數民族分布圖，請問造成圍起處少數民族多元複雜的原因為何？

(A) 氣候 (B) 地形 (C) 交通 (D) 產業。



( ) 16. 「自治區位於中國華南地區，恰位於北回歸線兩側，相較於其他自治區，氣候較為溫和溼潤。」請問：中應填入何處？ (A) 西藏 (B) 寧夏回族 (C) 廣西壯族 (D) 新疆維吾爾。

( ) 17.

反送中示威運動 2019 年如火如荼展開，曾吸引近百萬人民共同上街抗議。運動雖然讓地方政府撤回逃犯條例草案，但北京今年 6 月底通過並實施「國家安全法」，連本帶利壓迫公民的自由與人權，引發國際社會高度關注，自英國回歸中國以來，本地人在自治與中央權力拉扯不斷；與相隔不遠的澳門形成行明顯對比。

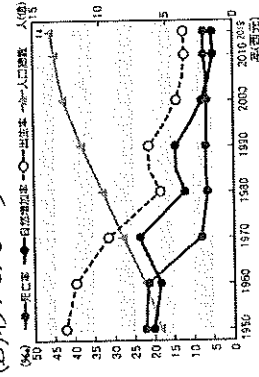
經濟日報 2020.9.17

請問：該新聞事件，其中「國家安全法」。最有可能發生於中國哪一個省級行政區呢？

- (A) 香港特別行政區 (B) 上海市  
 (C) 廣西壯族自治區 (D) 山東省

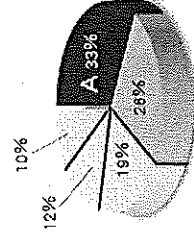
( ) 18. 附圖為中國歷年各項人口指標的變化曲線圖。由圖中可知，中國人口出生率已大幅降低，但人口總數還是逐年攀升，主要是受到下列何項因素影響？

- (A) 人口高齡化 (B) 人口基數多 (C) 人口素質低  
(D) 移入人口多。



( ) 19. 西藏地區的僧侶服飾，夏季午間常將外袍的袖子繫在腰間，袒出右臂或雙臂，如圖所示。請問：從這種穿著方式，可以反映出當地夏季具有下列哪一項氣候特色？ (A) 日溫差大 (B) 雨量稀少 (C) 風力強勁 (D) 空氣稀薄。

( ) 20. 「西元 2016 年起，中國全面□□化利多，激勵嬰幼兒童裝指標：麗嬰房、中國十大童裝品牌等類股大漲，累計近一個月漲幅逾 50%。」上文是某報社針對中國宣布某一項人口政策後，影響部分企業股票漲跌所做的報導。根據此報導內容推斷，報導中提及的「□□化」，所指的是中國何種人口現象？ (A) 一胎化 (B) 二胎化 (C) 都市化 (D) 高齡化。

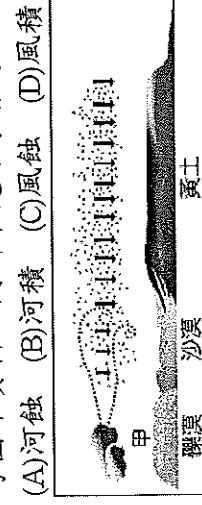


( ) 21. 附圖為中國五大地形面積比例圖。圖中的「A」主要位於中國地勢的哪一級階梯？ (A) 最高階梯 (B) 次高階梯 (C) 最低階梯 (D) 次低階梯。


( ) 22. 「北起大興安嶺，經太行山和巫山，沿雲貴高原東線、直到中越邊境，這條線恰可作為地形分界線。」請問：這條線以東，主要為哪兩類地形？

- (A) 高原、山地 (B) 高原、平原 (C) 山地、盆地  
(D) 平原、丘陵。

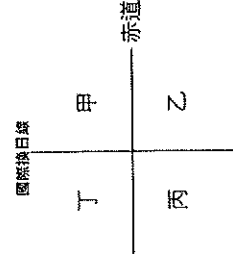
( ) 23. 下圖為蒙古高原及黃土高原的地形作用示意圖，請參考圖中資料，判斷甲處冬季會有哪一種外營力？



( ) 24. 附圖為畜牧方式的一種。請問：這種畜牧方式主要分布於哪一個地區？ (A) 黃土高原 (B) 新疆沙漠 (C) 青藏高原 (D) 嶺南丘陵。

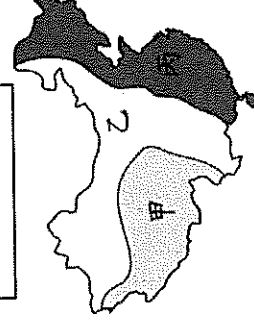
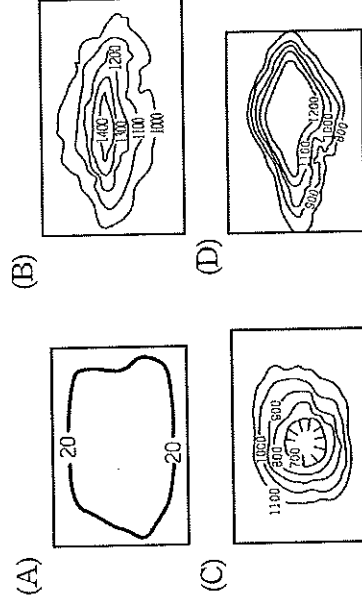


( ) 25. 小亮環遊世界旅途中，由美國拉斯維加斯要前往中國新疆，於是他買了一份世界地圖，想要了解中國的位置。他應該從附圖中的哪個區開始找，能最快找到中國？



- (A) 甲 (B) 乙 (C) 丙 (D) 丁

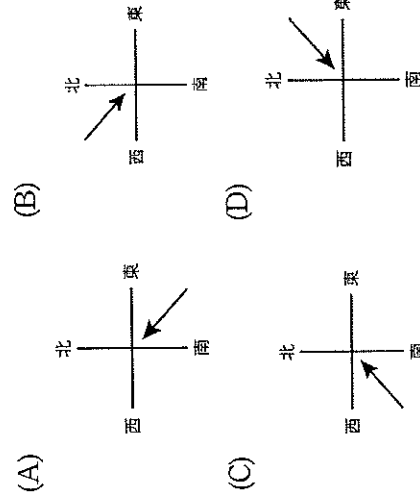
( ) 26. 下圖為中國地勢三階示意圖，請問以下各地形等高線圖所表示的地形種類，何者在甲區中出現的可能性最「低」？



( ) 27. 「身體強壯、矯健，在大雪中能爬坡，在湍急的河流中可以游水渡河，在崎嶇的岩石、高峻的險坡上行走如同平地，牠們成了藏胞最佳的運輸和交通工具，這就是「高原之舟」。請問：上文所敘述的交通工具是指下列何者？



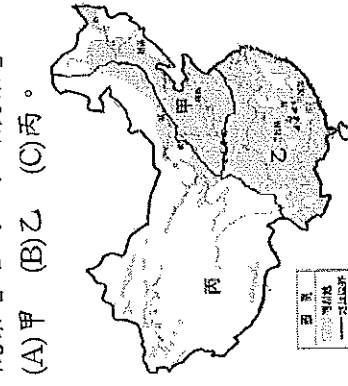
( ) 28. 中國受季風氣候的影響極大。請問：華北平原 12 月的季風風向為何？



( ) 29. 小孝看到網路小說的一段文字寫道：「守蜀地者，東漢有玄德諸葛之例，一入四川，偏安尚可，出川何其難也！」由文字來看，四川地區具有下列哪一項環境特徵？


- (A) 形勢封閉，易守難攻 (B) 山地阻隔，治安不佳  
(C) 南北通衢，交通便捷 (D) 缺乏天險，易攻難守。

( ) 30. 附圖為中國某行政區 2009 至 2014 年接待的國內旅遊附圖為中國農牧業分布圖。請問：想前往「瓜果之鄉」觀察著名的「綠洲農業」，須前往圖中的哪一個地區？

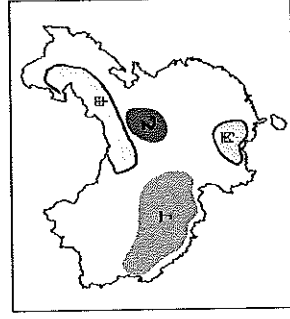


- (A) 甲 (B) 乙 (C) 丙。

- ( ) 31. 附圖為中國某行政區 2009 至 2014 年接待的國內旅遊人次統計，若根據旅遊者夏季會傾向至避暑勝地，冬季則至避寒勝地旅遊的特性來判斷，附圖最可能是下列何地的資料？ (A) 山東省 (B) 海南省 (C) 黑龍江省 (D) 西藏自治區。



- ( ) 32. 右圖為中國四大高原位置分布圖，請問：關於下列高原特色的敘述，何者正確？  
 (A) 甲一緯度高，寒漠遍布  
 (B) 乙一溶蝕作用強，地表崎嶇  
 (C) 丙一石灰岩地形發達  
 (D) 丁一一片平坦而遼闊的草原



- ( ) 33. 右圖為根據真人真事改編的公益電影《走路上學》的海報，此片講述生活在怒江邊上的瓦娃和娜香姊妹，為了到江對面的學校上學，不得不每天命懸一線、溜索過江的紀錄片，請問此片最有可能拍攝於下列哪個地區？  
 (A) 四川盆地 (B) 青藏高原  
 (C) 東南丘陵 (D) 橫斷山脈。

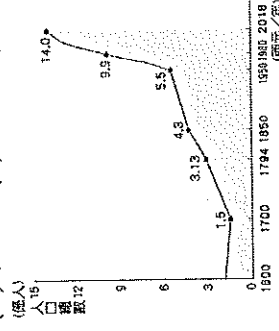


- ( ) 34. 附表為內蒙古高原東西部的比較。請問：哪一項資料有『誤』？ (A) 甲 (B) 乙 (C) 丙 (D) 丁。

內蒙古高原	東部	西部
(甲) 距海遠近	較近	較遠
(乙) 降水量	較多	較少
(丙) 畜牧方式	逐水草而居	放牧
(丁) 飼養牲畜	馬、牛	綿羊、山羊

- ( ) 35. 就中國行政區的層級分類而言，下列哪一個城市與其他三者『不同』？ (A) 廣東省 (B) 澳門特別行政區 (C) 上海市 (D) 南京市。
- ( ) 36. 此處為中國地勢最高的內陸盆地。這裡不僅是鹽的世界，還有豐富的石油、煤及多種金屬礦產，因此又有「聚寶盆」的美稱，請問此處為下列哪個盆地？  
 (A) 柴達木盆地 (B) 塔里木盆地 (C) 準噶爾盆地 (D) 四川盆地。
- ( ) 37. 附圖為近代中國人口成長變化圖。請問：影響中國一九五〇年代後人口成長變化的因素有哪些？  
 (甲) 政治穩定 (乙) 戰爭頻繁 (丙) 天災持續發生 (丁) 醫療條件逐漸改善

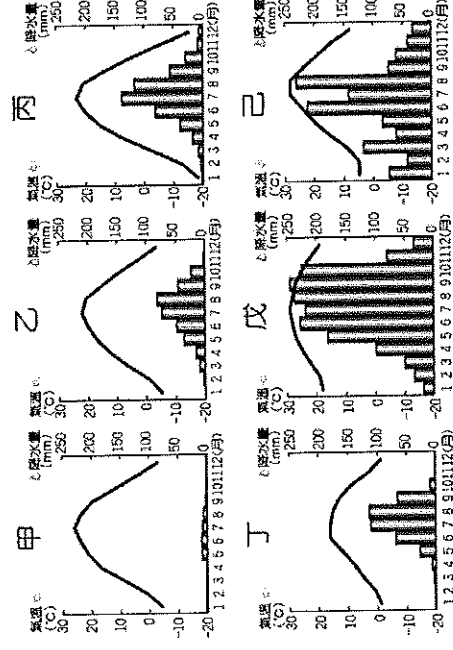
- (A) 甲乙 (B) 甲丁 (C) 乙丙 (D) 丙丁。



- ( ) 38. 中國的位置「進可攻、退可守」，是指中國位於海陸交接處，具有可自由向海或向陸發展的優良條件。上述所指的海與陸，分別為何？  
 (A) 太平洋、歐亞大陸 (B) 印度洋、歐亞大陸  
 (C) 大西洋、北美大陸 (D) 大西洋、北美大陸。

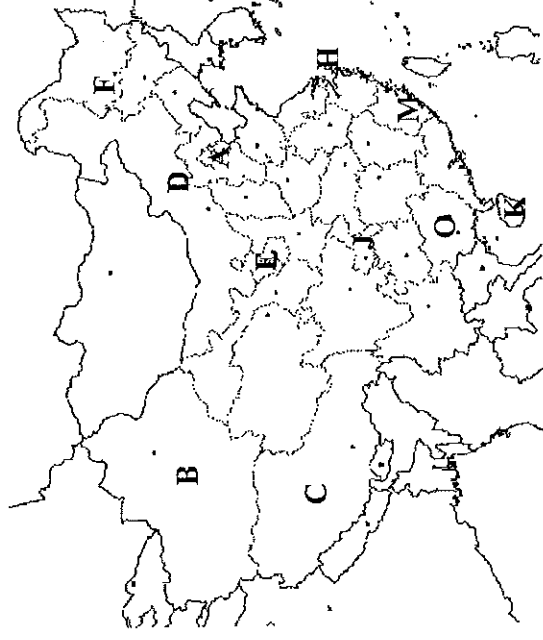
## 二、題組題

- (一) 下圖為中國境內某六個城市的氣候圖，請回答下列問題：



- ( ) 39. 由圖中的資料判斷，何者是副熱帶季風氣候？  
 (A) 丁 (B) 己 (C) 戊 (D) 甲。
- ( ) 40. 由圖中的資料判斷，何地最有可能是拉薩市？  
 (A) 甲 (B) 乙 (C) 丙 (D) 丁。

- (二) 下圖為中國的行政區圖，請判斷以下文句分別為哪一個行政區的區域特色或描述，並選出正確的答案：

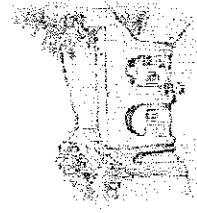


- ( ) 41. 「集中營」與「再教育營」的國際爭議不斷。儘管受國際譴責，中國仍以「分裂主義」罪名判處一名和平抵制中共對管地維吾爾民族政策的大學教授終生監禁，並剝奪全部財產。此舉使中國的國際輿論再次升溫。上面所描述的特色為哪一個行政區？  
 (A) B (B) C (C) E (D) J。
- ( ) 42. 這個位於北部的直轄市，其獨特性不僅限於「首都」的地位，也包括了擁有歷史悠久的皇城、以及中國高科技中心的頭銜。上面所述為哪一個行政區的特色？  
 (A) A (B) F (C) H (D) K。
- ( ) 43. 清領時期前臺灣人的祖籍，大部份都源自於這個僅一海之隔的省分；東南丘陵中武夷山區的茶園飄香，更是此處最醉人的景致。這段文字為哪一個行政區的特色？  
 (A) K (B) D (C) M (D) H。

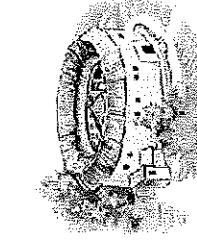
(三) 在中國陝西省延安市的鄉下村庄裡，56歲的村民張剛指著溝壑中幾排不甚整齊的孔洞說：「那裡就是我們村裡人過去住的地方，過去人窮，都是在黃土坡上拿鋤頭挖出來的洞，我家8口人就住在裡面。」現在這些洞多已廢棄，很多也已經坍塌，那些往昔的苦日子，也隨之被封存在其間。請問：

( ) 44. 文中所述張剛等一群村民所居住的孔洞，是指下列哪一個建築？


(A)



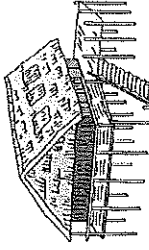
(B)



(C)

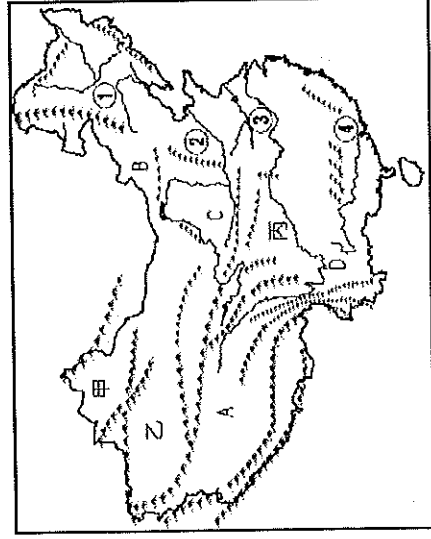


(D)




( ) 45. 文中所述張剛等一群村民所居住的孔洞現在多已坍塌，若以自然因素而論，最有可能是受到下列因素所造成的？ (A)板塊擠壓 (B)流水侵蝕 (C)風力堆積 (D)火山爆發。

(四) 飄飄在中國各地旅遊，並寫下的旅遊筆記。請根據下列中國地形分布圖，回答下列問題：(甲~丙為盆地；A~D為高原；①~④為平原)



( ) 46. 飄飄的筆記中附上當地的照片，圖中展現「小橋流水傍人家」、「舟子漁翁」說明當地有「水鄉澤國」之稱，所見的古色古香巷巷美景，恍若走進詩詞中的山水畫裡。請問：附圖中的旅遊景點最可能位於下列何處？

(A) ① (B) ② (C) ③ (D) ④



( ) 47. 某天，飄飄在他旅遊筆記中寫到：「導遊在介紹當地景觀時，吟了一首曲：『敕勒川，陰山下，天似穹廬籠蓋四野，天蒼蒼，野茫茫，風吹草低見牛羊。』來形容當地廣闊的草原景色與居民畜牧的生活習慣。」筆記中的旅遊景點最可能位於下列何處？

(A) A (B) B (C) C (D) D

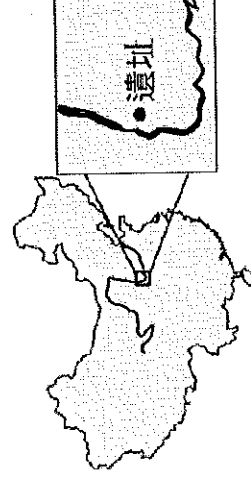
( ) 48. 筆記中也記錄了某地的情形：「這兒的氣候和臺灣天差地別，幾滴雨比幾滴石油來還的少，就因為乾燥，此地廣布著中國第一大沙漠，沙丘蜿蜒的景象讓人聯想起那『進得去、出不來』的詛咒。」飄飄的旅遊景點最可能位於下列何處？

(A) 甲 (B) 乙 (C) 丙 (D) 丁

(五) 下圖(一)為中國「蒲津渡遺址」的位置圖，該遺址處因河道較窄，且位居聯絡河岸兩側的交通要衝，自古即建有竹製浮橋，直到唐朝始興建鐵索浮橋。

當初興建鐵索浮橋時河岸兩側各有四隻鐵牛及四尊牽牛鐵人，共有八隻鐵牛八尊鐵人，皆面朝河道，作為固定鐵索的地錨之用。之後一場洪水將浮橋沖毀，其中一側的地錨被沖入河中，至今尚未尋獲。另一側的地錨則逐漸荒廢遭泥沙掩蓋，直到1989年中國一考古團隊在此處挖掘，四隻鐵牛及四尊鐵人才重見天日。

此次挖掘出的四隻鐵牛及四尊鐵人皆面朝西邊，鐵人外型呈現當時四大民族的形象與裝扮如圖(二)，其擺放位置恰好與現今各民族分布的相對位置雷同。



圖(一)

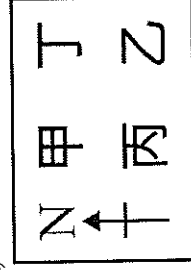


圖(二)

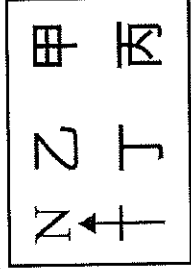
( ) 49. 根據上文及圖(一)資訊，掩蓋該遺址的泥沙主要來源應為下列哪一地形區？ (A)東北平原 (B)華北平原 (C)黃土高原 (D)雲貴高原

( ) 50. 根據上文及圖(二)資訊，四尊鐵人擺放的相對位置應為下列何者？

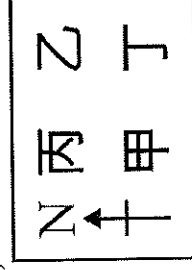
(A)



(B)



(C)



(D)

