

一、選擇題：(每題2.5分)

- () 1. 2019年底，美國眾議院以「濫用權力」與「妨礙國會調查」之由，通過了時任美國總統川普的彈劾案，川普成為美國史上第三位被彈劾的總統。後歷經4個多月的審理，最終川普在該彈劾案中獲判無罪。若上述事件發生在我國，則彈劾的程序為何？(A)立法院提案→公民投票決定 (B)立法院提案→司法院憲法法庭審理 (C)立法院提案→司法院懲戒法院審理 (D)監察院提案→司法院懲戒法院審理。
- () 2. 一九六八年十月，聯合國因一篇研究報告指釣魚台海域蘊藏有大量石油，成為世界注意之焦點。而我國、日本及中華人民共和國皆聲稱釣魚台為己所有，迄今其爭議仍未解決。請問：上述所爭的應該是下列哪一項？(A)領土 (B)國民 (C)國籍界定 (D)政府組成。
- () 3. 蔡英文總統106年率團訪問宏都拉斯、尼加拉瓜、瓜地馬拉及薩爾瓦多等邦交國。此行除藉「元首外交」深化與中美洲各友邦情誼外，並將見證我與「中美洲統合體」(SICA)之多邊合作成果，以及強化與各友邦間的經貿交流及合作，持續推動政府「踏實外交」理念。請問：根據上述內容判斷，總統此行將有助於實現國家的何種功能？(A)維護社會秩序 (B)保障國家安全 (C)發展社會福利 (D)伸張司法正義。
- () 4. 為管理政黨活動，甲制定了《政黨法》，歷時17年終於完成立法，三讀通過後，並由乙推動。上述中的甲、乙依序為？(A)立法院、行政院 (B)司法院、立法院 (C)立法院、總統 (D)監察院、行政院。
- () 5. 近年來有關國務機要費發票案及行政首長特支經費所引發爭議，其決算審計部分應由哪一個中央政府負責？(A)立法院 (B)監察院 (C)考試院 (D)司法院。
- () 6. 下列關於我國政府組織與職權的配對，何者錯誤？(A)司法院：設有各級法院 (B)考試院：負責各種國家考試 (C)行政院：規劃與執行政策 (D)監察院：糾正正、副總統的不當施政。
- () 7. 人民對憲法、法律與命令的適用有疑義時，可以向下列何者聲請解釋？(A)總統 (B)各級法院 (C)憲法法庭 (D)立法委員。
- () 8. 依法規定，監察院可行使彈劾權，彈劾違法失職的公務人員。請問：下列何人無法由監察院提出彈劾案？(A)宜蘭縣長 (B)台北市長 (C)基隆市議員 (D)衛福部部长。
- () 9. 波蘭女子凱蜜拉嫁給台灣老公多年，最近已順利取得中華民國國籍，請問：凱蜜拉取得中華民國國籍的行為稱為？(A)歸順 (B)移民 (C)居留 (D)歸化。
- () 10. 第九屆立法委員選舉於2020年1月11日舉行，立法院正、副院長於2月1日產生，請問：立法院正、副院長如何產生？(A)立委互選 (B)總統任命 (C)公民直選 (D)黨員選舉。
- () 11. 國家應設置什麼機關來伸張社會正義？(A)行政機關 (B)司法機關 (C)考試機關 (D)總統府。
- () 12. 我國如果總統、副總統無法代表民意或無法勝任職務時，要將其罷免，其程序為何？(A)由立法院提案通過並議決 (B)由行政院提案通過後，再交由憲法法庭議決 (C)由立法院提案通過後，再交由憲法法庭議決 (D)由立法院提案通過後，再交由人民投票表決。
- () 13. 由於中油錯誤操作，8月15日下午全台各地傳來大停電，包括彰化、林口、農委會、新竹、總統府等地都傳出停電。經濟部長召開記者會為停電事件造成人民的不便道歉，並請辭下臺，請問：這是哪一種民主政治的特色？(A)民意政治 (B)法治政治 (C)責任政治 (D)政黨政治。
- () 14. 下列關於國家主權的敘述，何者錯誤？(A)是國家最高的權力 (B)對內享有執行政策的權力 (C)國家有自己制定外交政策的權力 (D)政府的更替對於國家在國際上的地位有所影響。
- () 15. 日本天皇一直以來是終身地位，法律上也無關於天皇退位的規定，但已經82歲的明仁天皇，考慮到自己的身體逐漸衰弱，擔憂無法履行天皇的職責；因此透過電視轉播表達他想要退位的想法。明仁天皇雖表達退位的想法，但仍須日本政府通過相關法令，並依循法令才可退位。上述彰顯了何項民主政治的意涵？(A)法治政治 (B)責任政治 (C)政黨政治 (D)民意政治。
- () 16. 空軍近來傳出多起墜機意外，造成人員損傷並危及空防安全，監察委員主動提案調查，認為國防部對於人員訓練與機件維修保養未能善盡督導之責，一致通過○○案。請問：○○應填入何者？(A)糾舉 (B)彈劾 (C)糾正 (D)審計。
- () 17. 我國於民國105年的總統大選發生第3次政黨輪替，這代表透過定期選舉，使下列何者產生變動？(A)人口總數 (B)國家主權 (C)政府政權 (D)領土範圍。

班級：八年 班座號： 姓名：

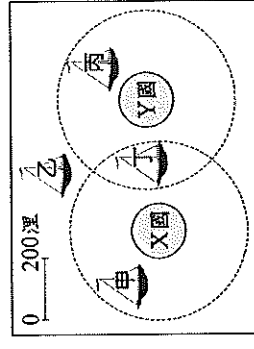
- () 18. 右表是浩正上台報告有關「國家與政府」的差異時所引用說明的比較表，其中哪一項錯誤？
 (A)(甲) (B)(乙) (C)(丙) (D)(丁)。
- () 19. 我國中央政府的組織與職權各有不同。請問：下列哪些人須經總統提名、立法院同意後，才可任命？ (甲)國防部長 (乙)考試委員 (丙)監察委員 (丁)審計長 (戊)行政院院長

財政流程	國家	政府
(甲) 範圍	涵蓋範圍較廣	國家的組成要素之一
(乙) 權力	擁有主權	擁有統治權
(丙) 持續性	短暫可改變的組織	永久性與持續性的主體
(丁) 功能	民主國家的主權屬於全體國民	政府行使統治權為民服務實現國家目的

- () 20. 下列是四位網友在網路聊天室聊天的內容，若其中一人為我國國民，僅根據他們的敘述判斷，何者在聊天當時最可能具有中華民國國籍？ (A)小萍：「我的出生地是美國，不過現在在臺灣工作。」 (B)小文：「等了五年，我下週將前往內政部申請歸化。」 (C)小君：「我的父母都是日本人，但我在花蓮縣出生。」 (D)小璋：「我出生當天，父親正好當選嘉義縣縣議員。」

- () 21. 憲法法庭是屬於司法院的組織，由大法官所組成。下列何者是憲法法庭所負責的事項？ (A)審理訴訟案件 (B)審議公務員的懲戒案件 (C)審理總統、副總統之罷免案 (D)審理政黨違憲解散案。

- () 22. 右圖，我國籍遠洋漁船上，船長與漁工的對話如下：漁工小義：「船長，我們可以下網捕魚了嗎？」船長小城：「沒問題，我們的船已經開到可自由捕魚的公海上了。」根據上述內容判斷，小城的船隻最可能位於圖(八)中哪一個位置？ (A)甲 (B)乙 (C)丙 (D)丁。



- () 23. 日本實施三權分立的憲政體制，其眾議院負責制定法律、審查政府的預算。日本眾議院其職權等同於我國的哪個中央政府機關？ (A)立法院 (B)行政院 (C)考試院 (D)監察院。

- () 24. 透過第15屆總統選舉，代表民進黨的蔡英文獲勝，民進黨因為勝選而成為下列何者？ (A)在野黨 (B)反對黨 (C)地下黨 (D)執政黨。

- () 25. 孫中山先生創立「五權憲法」，主張行政、立法、司法、考試、監察五權應獨立運作，是因為他發現三權分立存在下列哪些問題？ (甲)行政權兼有考試權，會產生濫用私人的流弊 (乙)立法權兼有監察權，容易形成議會專權的弊端 (丙)司法權兼有監察權，可能會出現效率低落的危機 (丁)行政權兼有監察權，會發生貪汙腐敗的現象 (A)甲乙 (B)甲丁 (C)乙丙 (D)丙丁。

- () 26. 右表，老師在課堂上讓同學進行角色扮演，透過相互對話的方式，了解我國中央政府的職權運作與互動關係。根據右表的內容判斷，下列關於甲、乙職權的敘述何者正確？ (A)甲可對乙提出覆議 (B)乙可對甲提出質詢 (C)甲可解釋法律命令 (D)乙可提出不信任案

同學	角色	對話內容
小哲	甲	我決定提名阿誠為大法官。
大熊	乙	我認為阿誠不適任，所以我不同意這個人事任命案。

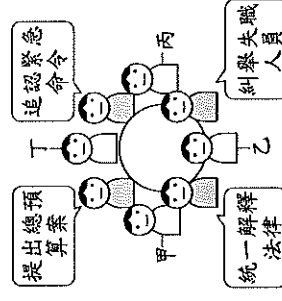
- () 27. 在政治上，「權力」與「權利」有所不同，下列何者是指權利？ (A)彈劾權 (B)審判權 (C)統治權 (D)受教權。
- () 28. 政府推動「長照十年計劃2.0」，提供多元服務，建立照顧型社區，希望提升長期照顧需求者與照顧者的生活品質。上述政府作為，主要在達成國家存在的哪一項目的？ (A)保障基本人權 (B)發展社會福利 (C)保衛國家安全 (D)維持社會秩序。

- () 29. 陳曉東借錢給鄰居吳賴漢，到了還款時間，吳賴漢卻拒不還錢，陳曉東只好提起訴訟。請問：上述訴訟案件應由下列何者負責審理？ (A)大法官 (B)憲法法庭 (C)各級法院 (D)懲戒法院。

- () 30. 為了提升台北市治安，加強春節期間安全維護的工作，台北市政府警察局於春節期間堅守崗位值勤、落實防搶與防竊，讓民眾安心過年。請問：警察致力於治安，是屬於國家何種功能的發揮？ (A)維持社會秩序 (B)發展社會福利 (C)保衛國家安全 (D)保障基本人權。

- () 31. 依法規定，監察院可行使彈劾權，彈劾違法失職的公務人員。請問：彈劾案是由監察院向何者提出？ (A)考試院銓敘部 (B)司法院懲戒法院 (C)司法院各級行政法院 (D)行政院法務部警政署。

- () 32. 阿鴻參加大學同學會，同桌有四位任職於我國中央政府機關的同學，分別談論了自己的工作職權，聊天內容與座位如右圖所示。若阿鴻兩旁的同學分別任職於行政院與司法院，根據圖中內容判斷，他的座位最可能位於圖中何處？ (A)甲 (B)乙 (C)丙 (D)丁



基隆市立武崙國民中學一一〇學年度第一學期第一次段考公民科試題

班級：八年 班 座號： 姓名：

() 33. 關於考試院的組織與職權，下列哪一項敘述不正確？ (A)舉行國中會考 (B)公務人員考績、任免之銓敘 (C)公務人員的撫恤、退休事宜 (D)舉行專門職業技術人員考試。

() 34. 在民主國家中，政府的各項施政都要向人民負責，為達成責任政治的理想，在我國中央政府組織中，除了監察院外，何者也具有監督行政機關的職權？ (A)總統 (B)考試院 (C)立法院 (D)司法院。

() 35. 雲林縣政府選定林內鄉烏塗村為興建垃圾焚化爐之廠址，縣府在4月11號向林內鄉民召開說明會，與當地居民、民代進行溝通，以傾聽民眾的聲音，請問：雲林縣政府的做法符合下列何者？ (A)法治政治 (B)責任政治 (C)民意政治 (D)政黨政治。

() 36. 我國中央政府五院中，何者為民意機關？ (A)行政院 (B)立法院 (C)監察院 (D)考試院。

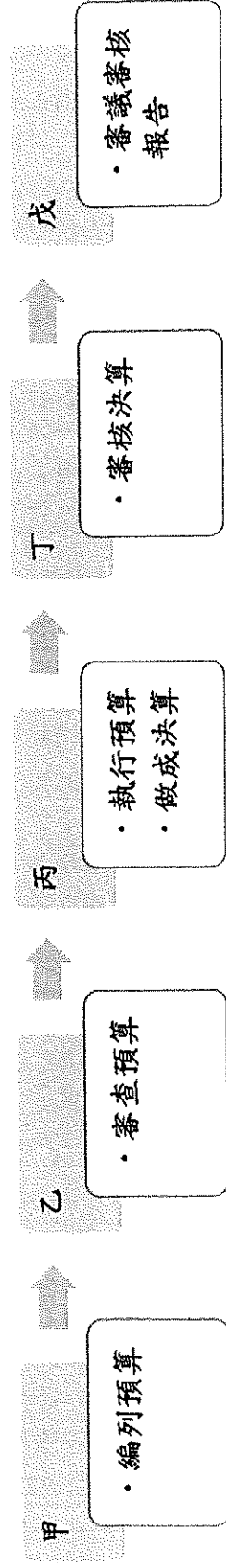
() 37. 行政院規畫與執行國家政策，並依法對立法院負責。當行政院認為立法院所通過的法律案、預算案、條約案窒礙難行時，該如何處置？ (A)得經監察院核可，移請總統附議 (B)得經監察院核可，移請立法院覆議 (C)得經總統核可，移請立法院覆議 (D)得經總統核可，移請監察院覆議。

() 38. 新聞報導：日前因人為疏忽造成全臺數百萬戶大停電，立法院不分朝野為了追究責任，將請行政院院長提出專案報告。此外，在野黨立委認為近來行政團隊表現不佳，若專案報告無法切中要點、妥善檢討，將對行政院院長提出不信任案。根據我國政府機關間的互動關係判斷，上述內容主要隱含下列何項概念？ (A)分權制衡 (B)均權制度

(C)主權在民 (D)地方自治

二、組合題：(每題 2.5 分)

1. 下列是我國預算及決算流程簡圖，請依圖中內容回答下列問題：



() 39. 圖中哪些流程的負責機關是立法院？ (A)乙 (B)甲丙 (C)乙丁 (D)乙戊。

() 40. 圖中哪些流程是審計部主要的職掌？ (A)乙 (B)丁 (C)戊 (D)丙丁。