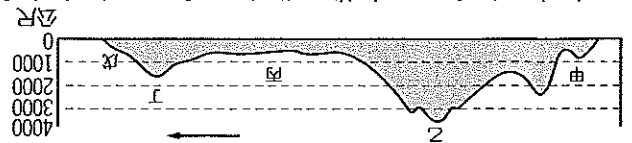


單一選擇題，共50題，每題2分，滿分100分

附圖為北美洲地形剖面圖，請回答1~6題：



1. () 請問附圖中箭頭指向的是哪一個海域？

- (A)太平洋 (B)墨西哥灣
(C)大西洋 (D)加勒比海

2. () 若想一想黃石國家公園老忠實噴泉90分鐘噴發一次，泉水高度達44公尺的威力，需要前往剖面圖中的哪一區？

- (A)甲 (B)乙 (C)丙 (D)丁

3. () 剖面圖中哪一區因其為古老地塊，形成年代久遠，因此蘊藏豐富礦產資源？

- (A)甲 (B)乙 (C)丙 (D)丁

4. () 美國眾多種類的自然災害往往成為好萊塢電影取材的靈感來源，請問地震和龍捲風這兩種天災最可能分別出現在哪兩個區域？(A)甲、乙 (B)乙、丙 (C)丙、丁 (D)丁、丙

5. () 美國為一個眾多移民人口組成的國家，請問亞裔人口因其移入位置的影響，在移民初期多集中生活於哪一個區域？

- (A)甲 (B)丙 (C)丁 (D)戊

6. () 剖面圖中的丙區主要由哪條河川沖積所形成？(A)亞馬孫河 (B)聖羅倫斯河 (C)密西西比河 (D)拉不拉他河

88《百年孤寂》為哥倫比亞作家馬奎斯『魔幻寫實主義』的代表作，在世界上享有盛名，也讓馬奎斯獲得1982年諾貝爾文學獎，瑞典皇家學院頒獎的理由是：『像其他重要的拉丁美洲作家一樣，馬奎斯永遠為弱小貧窮者請命，而反抗內部的壓迫與外來的剝削』。閱讀《百年孤寂》可以讓你看到整個拉丁美洲百年滄桑的縮影。請回答第7~13題：

7. () 本書以波恩地亞家族為核心串起在『馬康多』這個村莊百年的興榮繁盛與破滅衰亡，其中描述到某外地人在當地吃了一種東西後引來了大群工程師、農學家、地形及水文學家……，緊接著大規模的農場便轟轟烈烈的開發起來。請問外地人在這墾殖並栽種的經濟作物最可能為下列何者？(A)茶 (B)小麥 (C)香蕉 (D)水稻

14. () 邁阿密位於美國東南部沿海地區，優良的氣候與綿長的海岸線，不只成為著名的度假勝地，還成為老年人嚮往的養老天堂，請問邁阿密所在的佛羅里達州是屬於哪一種氣候？(A)溫帶海洋性氣候 (B)溫帶大陸性氣候 (C)溫帶地中海型氣候 (D)夏雨型暖溫帶氣候

13. () 請問《百年孤寂》這部鉅作的原文是以哪一種語言書寫而成？(A)英文 (B)葡

萄語 (C)西班牙文 (D)印地安文

12. () 波恩地亞家族與村民們擁有宗教信仰，而馬康多也有宗教建築。請問位在拉丁美洲的他們最可能信仰下列哪一種宗教？

- (A)佛教 (B)基督教(新教) (C)天主教 (D)伊斯蘭教

11. () 拉丁美洲由於外來的剝削導致內部的不安與紛亂，請問關於此地的人文環境下列何者正確？

- (A)貧富與城鄉差距大 (B)不同宗教紛爭不斷 (C)族群對立血腥屠殺 (D)爭奪資源內戰連年

10. () 目前拉丁美洲依舊深陷在歷史的包袱中，在經濟方面充滿問題與挑戰，請問下列何者『不是』此地經濟方面的難題？

- (A)礦產資源耗竭導致市場萎縮 (B)過度依賴歐美的資金及技術 (C)易受國際市場價格波動影響 (D)高度仰賴單一農礦產品出口

9. () 此書用波恩地亞家族隱喻了拉丁美洲再怎麼努力也擺脫不了悲劇的命運，外來的剝削讓這裡的人群深陷貧窮、破滅的輪迴。請問這裡的『外來剝削』指的是下列何者？

- (A)專制獨裁的政治體制 (B)殖民地式的經濟發展 (C)軍人干政與內戰不斷 (D)外來人口的大量移入

8. () 承上題，在哥倫比亞此種投入大量資金與勞動力的大規模農場是屬於下列哪一種農業類型？

- (A)綠洲農業 (B)自給性農業 (C)商業性農業 (D)熱帶栽培業

9. () 此書用波恩地亞家族隱喻了拉丁美洲再怎麼努力也擺脫不了悲劇的命運，外來的剝削讓這裡的人群深陷貧窮、破滅的輪迴。請問這裡的『外來剝削』指的是下列何者？

- (A)專制獨裁的政治體制 (B)殖民地式的經濟發展 (C)軍人干政與內戰不斷 (D)外來人口的大量移入

10. () 目前拉丁美洲依舊深陷在歷史的包袱中，在經濟方面充滿問題與挑戰，請問下列何者『不是』此地經濟方面的難題？

- (A)礦產資源耗竭導致市場萎縮 (B)過度依賴歐美的資金及技術 (C)易受國際市場價格波動影響 (D)高度仰賴單一農礦產品出口

11. () 拉丁美洲由於外來的剝削導致內部的不安與紛亂，請問關於此地的人文環境下列何者正確？

- (A)貧富與城鄉差距大 (B)不同宗教紛爭不斷 (C)族群對立血腥屠殺 (D)爭奪資源內戰連年

12. () 波恩地亞家族與村民們擁有宗教信仰，而馬康多也有宗教建築。請問位在拉丁美洲的他們最可能信仰下列哪一種宗教？

- (A)佛教 (B)基督教(新教) (C)天主教 (D)伊斯蘭教

13. () 請問《百年孤寂》這部鉅作的原文是以哪一種語言書寫而成？(A)英文 (B)葡

萄語 (C)西班牙文 (D)印地安文

14. () 邁阿密位於美國東南部沿海地區，優良的氣候與綿長的海岸線，不只成為著名的度假勝地，還成為老年人嚮往的養老天堂，請問邁阿密所在的佛羅里達州是屬於哪一種氣候？(A)溫帶海洋性氣候 (B)溫帶大陸性氣候 (C)溫帶地中海型氣候 (D)夏雨型暖溫帶氣候

【第1頁，共5頁】

15. () 美洲面積廣大，位置

橫跨南、北半球，各

區擁有不同的發展

特色。請問哪兩條分

界線將美洲分成北、

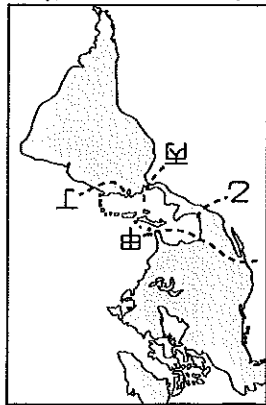
中、南三區？

(A)甲、乙

(B)甲、丙

(C)乙、丙

(D)乙、丁



16. () 外來移民形塑了美國的多元文化，也奠

定了美國強盛的基礎，請問下列關於美

國族群組成的敘述何者正確？

(A)歐洲白人為最早在此定居的人類

(B)各族群文化均獲得公平一致展現

(C)印第安及因紐特人文化逐漸消失

(D)拉丁美洲後裔為數量最少的族群

17. () 美國藉由自身強大的經濟實力將其生活

方式、文化及價值觀推展到全世界，請

問下列何者『並非』向世界拓展的美式

文化？(A)職棒大聯盟 (B)好萊塢電影

(C)世界盃足球賽 (D)麥當勞速食文化

18. () 2008 年的次貸危機不只重創美國華爾街，

更演變成全球性的金融危機，導致金融

海嘯與全球經濟的衰退，臺灣當時亦損

失慘重，許多企業面臨倒閉，而勞工不

是被放無薪假就是被裁員。請問當時美

國經濟可能是發生下列哪種問題？

(A)工業產能過剩，企業倒閉

(B)能源供應缺乏，油價大漲

(C)天災頻繁侵擾，產能驟降

(D)銀行經營危機，股價暴跌

19. () 《美墨加協定》又被稱為《北美自由貿

易協定 20》，其中不只增加了環境和勞

工法規還涵蓋了智慧財產措施。請問此

協定使用的語言除了英文外，還有下列

哪兩種？(A)法語、西班牙語

(B)法語、葡萄牙語 (C)德語、西班牙語

(D)西班牙語、葡萄牙語

20. () 美國大量使用化石燃料，境內的二氧化

碳排放量高居世界第二，然而卻不願意

簽署全球共同努力減少溫室氣體排放的

《京都議定書》，請問美國能源消耗多、

二氧化碳排放量大幅下列何者有關？

(A)人口眾多，需求龐大

(B)經濟發達，大量消費

(C)面積廣大，交通頻繁

(D)氣候極端，用電量大

21. () 美、加邊境的五大湖為世界上面積最大

的淡水水域，請問湖泊形成的作用力為

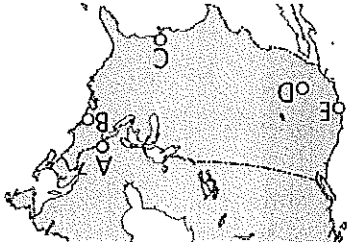
下列何者？(A)斷層陷落 (B)冰河侵蝕

(C)板塊運動 (D)火山噴發

22. () 若想在美國開著露營車旅遊，從附圖中

的城市 C 出發，途經城市 D，最後抵達

城市 E，請問會依序經過哪些氣候類型？



(A)溫帶沙漠→夏雨型暖溫帶→溫帶草原

→溫帶地中海

(B)夏雨型暖溫帶→溫帶草原→溫帶地中海

海→溫帶沙漠

(C)夏雨型暖溫帶→溫帶草原→溫帶沙漠

→溫帶地中海

(D)溫帶地中海→溫帶草原→溫帶沙漠

夏雨型暖溫帶

23. () 北美自由貿易協定簽署之後，美墨邊境

的加工廠如雨後春筍般大量出現，許多

勞工每日為了工作穿越國界，而美墨兩

國也各取所需，各自創造自己的價值。

請問關於協定下列何者『為非』？

(A)美國提供資金及技術

(B)墨西哥提供廉價勞工

(C)消除彼此間貿易障礙

(D)尋求單一市場及貨幣

24. () 來自臺灣

的餐飲集

團想要到

加拿大經

濟最發達、

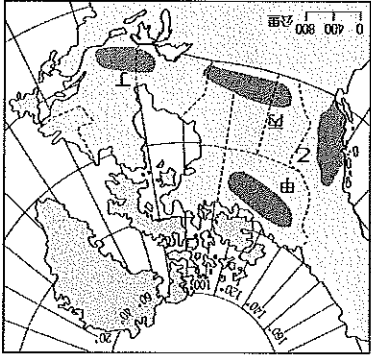
人口最稠

密的精華

區拓展餐

飲事業，請

問附圖中



25. () 承上題，請問此區域經濟發達、人口相

對密集的原因下列何者『為非』？

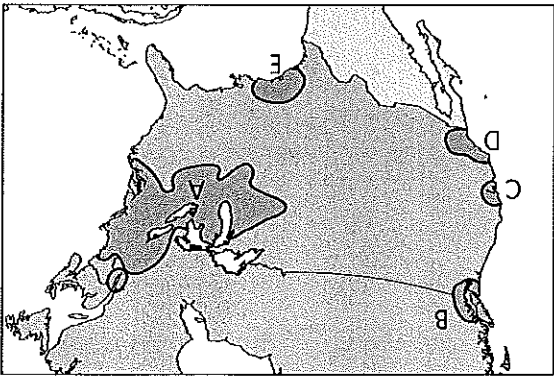
(A)氣候溫暖 (B)水運便利

(C)開發較早 (D)稅率較低

31. () 下表為北美洲與季風亞洲的農業經營特色比較，請問下列何者『錯誤』？

(A)	季風亞洲	自給性農業
(B)	北美洲	商業性農業
(C)	季風亞洲	機械化程度低
(D)	北美洲	單位面積產量小

86附圖為北美洲工業分布圖，請回答第32~34題：



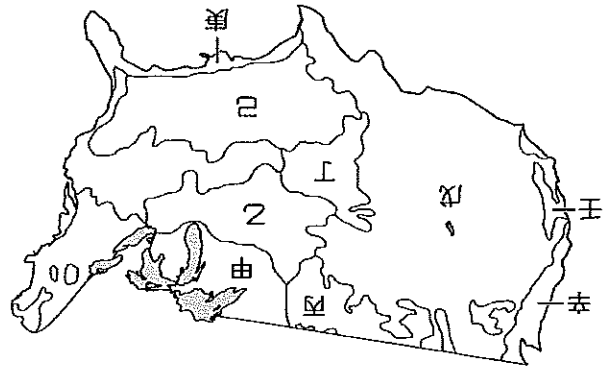
32. () 附圖中的A區是美國最大、最重要的工業地帶，請問關於此區的敘述下列何者為『非』？

- (A) 工業開發較早且人口集中
 - (B) 汽車及鋼鐵工業最為發達
 - (C) 擁有豐富煤、鐵、石油等礦產
 - (D) 產業升級為全球高科技工業中心
33. () 請問若居住於A這個工業帶並在這裡工作，將有可能面對什麼樣的氣候環境與天氣災害？

- (A) 甲、丙 (B) 甲、丁
 - (C) 乙、丙 (D) 乙、戊
34. () 美心計畫利用暑假前往美國參加航太科技夏令營，目前有兩個方案供她選擇：

- 甲：波音公司研發中心見習
 - 乙：美國太空總署NASA參訪
- 請問這兩個方案分別會需要前往附圖中哪些位置？
- (A) B、C (B) B、E
 - (C) C、D (D) D、E

86附圖為北美洲農牧業分布圖，請回答第26~31題：



26. () 臺灣老饕一向熱愛美國牛肉，然而卻因美牛曾出現狂牛症及牛肉有瘦肉精殘留問題而禁止進口美牛，這些問題自2003年起至今爭議不斷，進口與否成為政治的角力賽，然而依舊無法抵擋美食家對美牛的熱情。請問：美國的畜牧業主要分布於圖中何處？

27. () 甲區為美國酪農業集中分布的區域，請問酪農業圍繞五大湖區分布的主要原因為下列何者？

- (A) 市場區位考量人口稠密
- (B) 原料區位考量草料來源
- (C) 交通區域考量乳品運銷
- (D) 政策區位考量配合政府

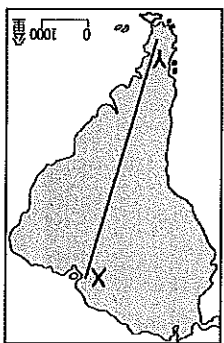
28. () 美國境內唯一的戰爭是1861~1865年的南北戰爭，戰爭發生的主因與黑人的解放與否有關，反對解放黑人的一方是需大量勞動力來種植與採收棉花的地帶，請問美國大量種植棉花的地區位在附圖何處？(A)乙 (B)己 (C)庚 (D)辛

29. () 此地因為地中海型氣候搭配肥沃、排水良好的土壤，十分適合葡萄生長，因此也擁有許多知名釀造葡萄酒的酒莊，請問若前往美國葡萄酒莊品嚐美酒，前往附圖哪一區域比較適合？

- (A) 戊 (B) 庚 (C) 辛 (D) 壬
30. () 美國農業如附圖所示呈帶狀分布，此型態與其大規模專業化的繁殖有關，此種農業經營方式的好處是產量大並能壓低成本，然而潛在的風險也不小，請問下列何者為此農業模式需要承擔的風險？
- (A) 需消耗大量勞動力
 - (B) 生產過剩價格崩跌
 - (C) 土地產權取得困難
 - (D) 運輸銷售管理不易

40. () 中美洲主要由三大地理區所組成，包含北側的墨西哥，南側以○地形為主的中央地峽，以及散布在◇上西印度群島。請問上文中□、○、◇分別為何？

- (A) 山地、丘陵、墨西哥灣
(B) 盆地、山地、墨西哥灣
(C) 高原、平原、加勒比海
(D) 高原、山地、加勒比海



41. () 附圖為南美洲地形圖，若搭乘直昇機沿 X 到 Y 飛行，請問沿途依序會經過哪些地形區？

- 甲、巴西高原
乙、巴拉圭亞高原
丙、拉普拉他平原
丁、亞馬孫盆地
(A) 甲→乙→丁→丙
(B) 甲→丁→丙→乙
(C) 丁→甲→乙→丙
(D) 丁→甲→丙→乙

42. () 智利為世界上國土形狀最狹長的國家，其東西寬度不超過 180 公里，南北則長達 4200 公里，也因此國境內南北各自擁

有不同景觀。請問若開車從智利北端一路暢遊到國境之南，沿途經過的氣候類型為下列何者？(A) 熱帶沙漠→溫帶地中海型→溫帶海洋性 (B) 熱帶草原→熱帶沙漠→溫帶地中海型 (C) 溫帶草原→溫帶沙漠→溫帶海洋性 (D) 夏雨型暖溫帶→溫帶草原→溫帶沙漠

43. () 中南美洲幅員廣闊，受緯度和地形影響氣候種類多元，請問此區域缺乏溫帶大陸性氣候的原因為下列何者？

- (A) 深受洋流影響 (B) 溫帶面積狹小
(C) 行星風系季移 (D) 橫跨南北半球

44. () 如附表所示，中南美洲國家都市化程度% 請問該地區都市化程度相對較高的原因為下列何者？

國家	都市化程度%
烏拉圭	95.3
阿根廷	91.9
智利	87.6
美國	82.3
臺灣	78.2

- (A) 經濟快速起飛 (B) 鄉村經濟蕭條
(C) 都市商業繁榮 (D) 跳躍式工業化



35. () 附圖為中美洲最重要的

聯洋運河，其營運價值之高讓其他國家也興起與其競爭的意願，例如興建尼加拉瓜運河來加以取代。請問上述的運河為下列何者？

- (A) 蘇伊士運河 (B) 巴拿馬運河
(C) 中央大運河 (D) 京杭大運河

36. () 2016 年的奧運於 8

月份在巴西舉行，如附圖所示首都巴西利亞也是主要場館的所在，各國選手齊聚在此為贏得獎牌而努力，請問這些運動健將所認識的巴西下列何者『為非』？

37. () 哥倫布大交換讓許多原生於中南美洲的農作物傳遞到舊世界，不只豐富了舊世界的食物來源，帶來更大量的人口繁衍，也改變了人類的飲食習慣，請問下列哪些是原產自中南美洲的農作物？

- 甲、玉米 乙、番茄 丙、咖啡
丁、甘蔗 戊、辣椒 己、馬鈴薯
(A) 甲、乙、丙、戊 (B) 甲、乙、戊、己
(C) 乙、丙、丁、戊 (D) 乙、丁、戊、己

38. () 首民經過漫長的轉機與航程來到中美洲進行他的古文明深度之探訪，下列為關於他的行程規劃，請問下列哪些行程是他可以在這趟旅程中達成的？

- 甲、在的喀喀湖參觀神廟遺址
乙、在墨西哥城參觀阿茲提克雕塑
丙、在馬丘比丘懷印加帝國遺產
丁、前往猶加敦半島探索瑪雅文明
(A) 甲、乙 (B) 甲、丙
(C) 乙、丁 (D) 丙、丁

39. () 存在於秘魯沙漠的納斯卡線，拜氣候乾燥之賜而得以在將近 500 年後展現在世人眼前，請問導致當地氣候乾燥的原因為何？(A) 涼流、副熱帶高壓籠罩
(B) 背信風、赤道低壓籠罩
(C) 背信風、位居內陸
(D) 寒流、背西風

48. () 1960年代以來，亞馬孫雨林被大規模開

發，人們大量砍伐雨林來從事農、林、牧業，嚴重破壞自然生態、生物棲地，甚至影響氣候環境。請問當地居民大範圍砍伐雨林的主要原因為下列何者？

- (A)人口激增 (B)獵取食物

- (C)內戰頻繁 (D)政府決策

49. () 玻利維亞的首都拉巴斯海拔3829公尺，

為世界上海拔最高的首都，而墨西哥的首都墨西哥市、哥倫比亞的首都波哥大也都在地勢較高的山區，這些地區都是該國人口相對集中的精華區，請問中南美洲這種人口分布現象與下列何者關係最密切？

- (A)氣候乾燥引用高山融雪為生

- (B)低緯山間盆地氣候涼爽宜人

- (C)山區礦產資源豐富引入聚集

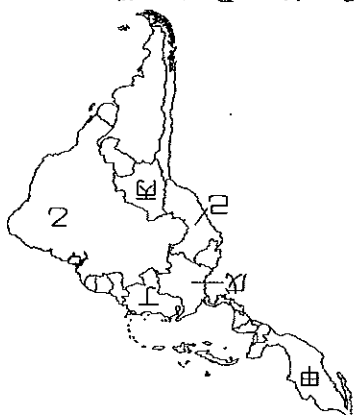
- (D)早期發展為躲避外來入侵者

50. () 中南美洲各國礦產資源豐富，請問關於

國家與其盛產的礦產資源配對何者『錯誤』？

- (A)甲—銀 (B)乙—鐵

- (C)丁—煤 (D)己—銅



【第5頁，共5頁，試卷結束】

45. () 曉楓計畫在明年2月前往巴西參加世界

三大嘉年華會之一的『里約熱內盧嘉年華會』，欣賞精彩絕倫與熱情奔放的花車、森巴大遊行，並體驗當地的風土民情，請問關於當地的人文特色下列何者正確？

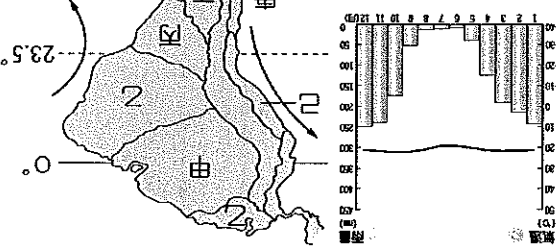
- (A)當地人多講西班牙語並信奉天主教

- (B)與北美洲相似各族群通婚情況少見

- (C)依舊保留傳統蓄養非洲黑奴的文化

- (D)森巴舞結合拉丁、非洲與印第安文化

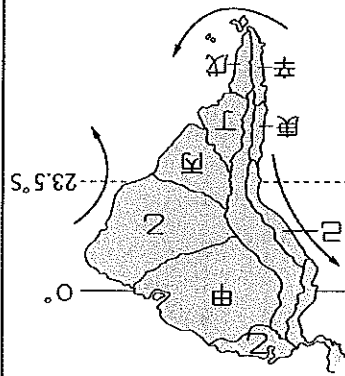
46. () 請問左側氣候圖所屬的都市是位於右圖



中哪個區域？

- (A)乙 (B)丙

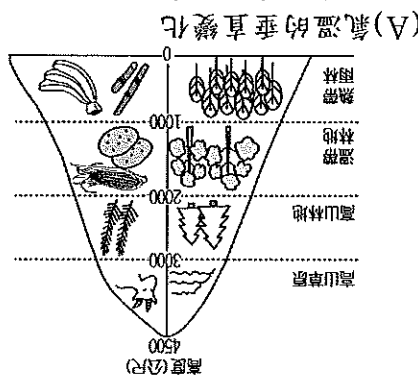
- (C)庚 (D)辛



47. () 附圖為安地斯山區的植被及農、牧業活動

動分布圖，請問當地農、牧業活動的分

布主要受下列哪一項因素影響較大？



- (A)氣溫的垂直變化

- (B)土壤的養分分布

- (C)不同族群居住處

- (D)交通的運輸模式