

基隆市立武崙國中 109 學年度第一學期 第二次段考 九年級社會領域地理科試卷

電腦讀卡，請使用 2B 鉛筆，答案卡無法判斷身分者，按規定將扣總分 10 分 班級：_____ 座號：_____ 姓名：_____

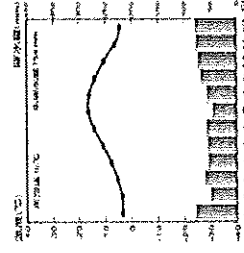
一、單選題 (每題 2 分)

() 1. 西歐的自然環境優越，氣候溫和。請問：下列有關西歐的氣候介紹，何者正確？

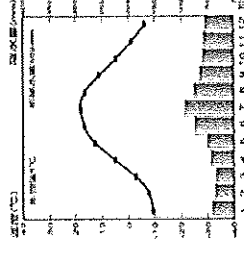
- (A) 氣候類型：中緯度大陸西岸地區，以地中海型氣候為主 (B) 降水特色：西風吹拂，氣候乾燥 (C) 氣溫特色：因暖流經過，沿海地區冬季較溫暖 (D) 氣候影響：沿海港口冬不結冰，利於太平洋航運發展。

() 2. 新婚的昂昂預計到法國蔚藍海岸度蜜月，請問他需要參考哪一張氣候圖來了解當地的氣候概況？

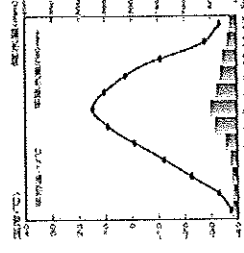
(A)



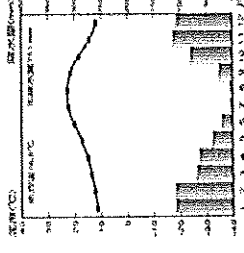
(B)



(C)



(D)



() 3. 飄飄準備前往北歐旅遊，她發現五國中有四個國家都使用自己的貨幣，只有這個鄰近俄羅斯的國家使用歐元，故遍遊五國要準備五種貨幣，相當麻煩。請問：上文中使用歐元的是哪一國家？

- (A) 瑞典 (B) 丹麥 (C) 挪威 (D) 芬蘭。

() 4. 北歐城市：北角位於 (北緯 71° 10' 21")，是北歐最北點，也是世界著名欣賞「午夜太陽」奇景的最佳地點。若飄飄規畫親身前往北角體驗難得的經驗。下列哪個國家與月分的組合，才能達成願望？

- (A) 冰島：7 月 (B) 挪威：7 月
- (C) 瑞典：1 月 (D) 丹麥：1 月。

() 5. 北海油田為世界著名的石油集中出產區，每天約可提供 600 萬桶石油的產出，請問有哪個國家可以共享北海石油的利益？(甲)德國 (乙)法國 (丙)瑞典 (丁)英國 (戊)荷蘭 (己)丹麥 (庚)挪威 (辛)芬蘭 (壬)比利時 (癸)立陶宛

- (A) 甲丁戊己庚 (B) 乙丙丁庚辛
- (C) 乙丁戊己壬 (D) 乙戊己壬癸。

() 6. 西伯利亞大型河川在春末夏初容易因融冰而氾濫成災的最主要因素為下列何者？

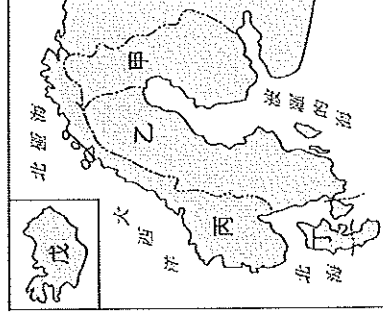
- (A) 上下游的地勢落差懸殊太大
- (B) 伐木業將木材集中河道運輸
- (C) 夏季融冰導致河川流量暴增
- (D) 河川流向由相對低緯往高緯。

() 7. 東歐北起波羅的海，南到黑海，地形以何處為界，北為平原，南多山地、丘陵？

- (A) 多瑙河 (B) 烏拉山 (C) 喀爾巴阡山
- (D) 阿爾卑斯山。

() 8. 北歐五國分有「冰火王國」、「歐洲牧場」、「千湖國」、「峽灣國」之稱，請問這些名稱依序是右圖中的哪些國家所擁有？

- (A) 甲、乙、丙、戊、丁
- (B) 丙、乙、戊、丁、丙
- (C) 戊、丁、乙、甲、丙
- (D) 戊、丁、甲、丙、丙



() 9. 請參考上題的附圖，NOKIA 原本是一間以伐木和造紙為主的公司，曾一度發展成世界最大的手機製造商，如今手機部門早已轉賣並畫下休止符。請問其母公司國家的位置與國名配為何？

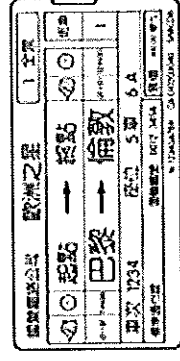
- (A) 甲，挪威 (B) 甲，芬蘭
- (C) 乙，芬蘭 (D) 乙，瑞典。

() 10. 北歐各國極為重視社會福利，號稱「從搖籃到墳墓」全程照顧。這些社會福利政策須配合下列哪一項措施，才可以有效達成？

- (A) 提高進口貨物的關稅 (B) 向人民課徵高額稅金 (C) 政府出錢補貼低收入戶 (D) 禁止外來移民進入北歐。

() 11. 吉田到歐洲旅遊的時候，他搭乘「歐洲之星」往返附圖中的兩國時，請問他會經過下列何處？

- (A) 阿爾卑斯山 (B) 伊比利半島
- (C) 愛爾蘭島 (D) 英吉利海峽。



() 12. 西歐的低地國為增加生活空間，昔日居民建堤防，利用風車抽水以填海造陸，這些風車雖然造型互異，但多朝向哪個方向？

- (A) 東方 (B) 西方 (C) 南方 (D) 北方。

() 13. 多瑙河為世界上流經最多國家的河川，且在 1992 年興建了連通萊因河的運河後，由黑海航行的船隻可藉由河運直達下列哪一個重要的港口入海，因而航運價值大增？
 (A) 英國倫敦 (B) 荷蘭鹿特丹 (C) 德國漢堡 (D) 荷蘭阿姆斯特丹。

() 14. 德、法兩國分別蘊藏哪項豐沛的礦產資源，使得彼此重工業都十分發達？
 (A) 德-鐵；法-煤 (B) 德-煤；法-鐵
 (C) 德-鐵；法-銅 (D) 德-鋁土；法-銅。

() 15. 請依序排列出與甲、乙、丙敘述對應的東歐國家？

甲	早期發展軍火工業，奠定工業基礎，近來吸引外資企業投資設廠，經濟快速成長
乙	位於前蘇聯與德國兩大強國間，地形平坦無屏障，昔日飽受戰火摧殘，疆域多變
丙	地形平坦且土地肥沃，農產量高，且以溫泉療效帶動觀光發展

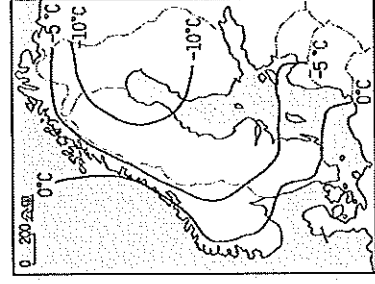
(A) 捷克、波蘭、匈牙利
 (B) 波蘭、匈牙利、捷克
 (C) 波蘭、捷克、匈牙利
 (D) 匈牙利、捷克、波蘭。

() 16. 德國地勢南高北低，河川多為南北流向，若要興建運河聯絡各大河川，運河應以哪種方向興建？

(A) 東—西方向 (B) 東北—西南方向
 (C) 南—北方向 (D) 西北—東南方向。

() 17. 中國廣西、貴州一帶氣候溼熱，溶蝕作用盛行，形成獨特的石灰岩地形景觀。地理學者最早針對此種地形進行系統研究的地區在哪裡？(A) 伊比利半島 (B) 義大利半島
 (C) 巴爾幹半島 (D) 斯堪地那維亞半島。

() 18. 附圖是北歐一月等溫線圖。圖中的等溫線在沿海呈南北分布，大致與海岸線平行。造成該地等溫線呈此分布型態的最關鍵因素為何？



(A) 緯度高低
 (B) 地勢起伏
 (C) 暖流流經
 (D) 植被疏密。

() 19. 請問哪些自然環境的限制使得芬蘭致力於無線通訊產業的發展？(甲) 多火山地震 (乙) 氣候嚴寒 (丙) 地廣人稀 (丁) 峽灣地形崎嶇 (戊) 管線鋪設成本高

(A) 甲、乙、丙 (B) 乙、丙、戊
 (C) 乙、丙、丁 (D) 丙、丁、戊。

() 20. 英國為 18 世紀工業革命的發源地，工業革命的出現除了機械技術改良外還加上英國有哪項資源優勢？

(A) 鑽石 (B) 黃金 (C) 鐵礦 (D) 煤礦。

() 21. 以同緯度的東歐與西歐地區比較，東歐哪項氣候資料的數據較小？(A) 年降水量

(B) 年溫差 (C) 夏雨比重 (D) 夏季最高溫。

() 22. 許多歐洲企業在盧森堡設立總部，因此吸引了世界各國資金，帶動金融業發達。請問：該國發展金融業的有利因素為何？

(A) 歐洲聯盟總部所在 (B) 採取低稅率政策 (C) 轉口貿易發達 (D) 為世界三大金融中心之一。

() 23. 俄羅斯是全世界面積最大的國家，領土橫跨歐、亞兩洲，正當首都莫斯科的中學生早晨正準備上學時，在太平洋沿岸城市—海參崴的學生可能已經是在下午要放學了。請問：這種現象和俄羅斯的哪項地理特色關係最大？

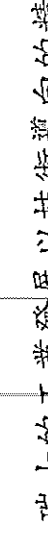
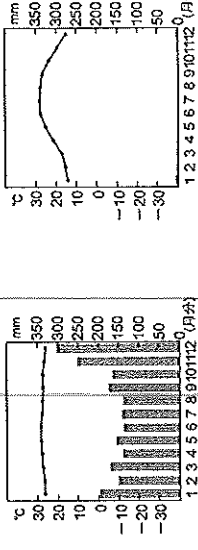
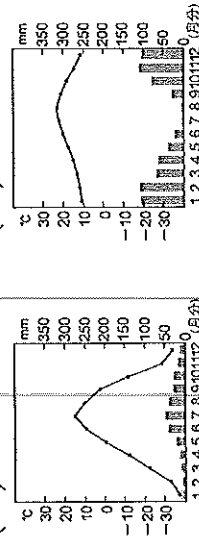
(A) 國土東西寬廣 (B) 地勢東高西低
 (C) 族群多元複雜 (D) 大多位居高緯區。

() 24. 「俄羅斯的聖彼得堡是當時俄皇彼得大帝為吸收西方文化而興建的城市，其選址以靠近西歐國家為考量。」根據上述，聖彼得堡應該位於下列哪個海域的海岸？(A) 北極海 (B) 貝加爾湖 (C) 裏海 (D) 波羅的海。

() 25. 近年來東歐各國是歐洲經濟成長較快的地區，請問：其原因不包括？(A) 東歐國家加入歐盟後，在經濟上得到援助 (B) 利用較西歐低廉的工資，吸引各國企業到此設廠 (C) 經濟自由化能刺激生產意願 (D) 高死亡率，使壯年負擔較小。

() 26. 芬蘭境內有個位於北極圈附近的「聖誕老人村」，最接近下列何種氣候類型？

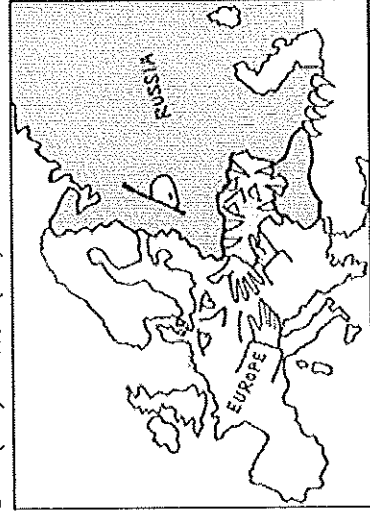
(A) (B) (C) (D)



() 27. 瑞士的工業發展以技術導向的精密工業為主，產品體積小價值高，請問造成此種工業發展傾向的影響因素是什麼？(A) 位處山區交通不便 (B) 方便行銷同為歐盟的國家 (C) 礦產資源豐富 (D) 水運便利。

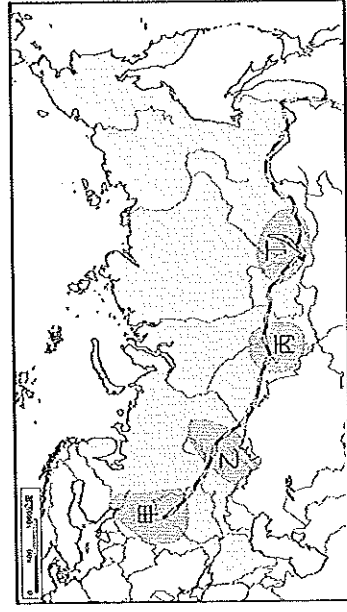
() 28. 歐洲是工業革命的發源地，該地區的經濟活動相當發達。下列關於歐洲主要的工業國家資料，哪一個是位在「北歐」地區？(A)歐洲經濟產值最大的國家，致力發展環保能源產業 (B)北部山地水力豐富，以汽車、大理石工業為主 (C)針葉林廣布與豐富鐵礦，以林業、家具和汽車工業聞名 (D)昔日以發展軍火工業為主，目前則以汽車工業最發達。

() 29. 附圖為美國政治漫畫網於2013年所張貼的漫畫，圖右方的「俄羅斯熊」把[]牢牢咬住，而圖左方的「歐洲」則試圖對求救的[]施以援手。上述的[]，這個在夾縫中求生存的家，但境內黑土平原遼闊，是有歐洲糧倉之稱的歐洲第二大國，不僅擁有聶伯河的水電且礦產豐富，農工業皆發達。文中指的[]指的是下列哪一個國家？(A)捷克 (B)羅馬尼亞 (C)波蘭 (D)烏克蘭。



() 30. 附圖甲~丁為俄羅斯的主要工業區分布圖。下列對於俄羅斯工業區的描述何者正確？

- (A)人口密集是各個工業區的發展基礎
- (B)工業區主要集中在歐俄平原
- (C)西伯利亞鐵路連結了各個工業區
- (D)甲工業區的有力資源是水力發電。



二、題組題 (每題2分)

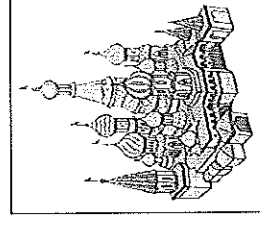
(一)歡迎參加武崙國中第一屆歐洲社會知識大競賽，以下為競賽的題目，快回答下列問題以爭取勝利吧。請問：

() 31. 【文學題】英國名推理作家柯南道爾筆下的福爾摩斯是一位名偵探，故事背景為著名的霧都，其裝扮常常是黑色紳士帽、風衣及隨身雨傘，此裝扮可能與當地何種氣候類型最相關？(A)溫帶海洋性 (B)溫帶大陸性 (C)溫帶地中海型 (D)高地氣候。

() 32. 【影視題】下列的歌詞均以國家城市為背景，請問：何者描述的首都位於「東歐」？

(A)「倫敦的愛情」—我呼吸倫敦的空氣，也聽見Sting唱歌的CD (B)「哥本哈根的童話」—鴿子和平的釋懷，陪伴的那人魚的愛，離開哥本哈根，妳帶走的愛 (C)「馬德里不思議」—馬德里不思議，突然的想念你，彩繪玻璃前的身影，只有孤單變濃郁 (D)「布拉格廣場」—我就站在布拉格黃昏的廣場，在許願池投下了希望。

() 33. 【宗教題】右圖為位於莫斯科科紅場的聖瓦西里大教堂，面積並不巨大卻擁有九個禮拜堂以及色彩繽紛的屋頂。請問：此教堂是哪個宗教的信仰中心？

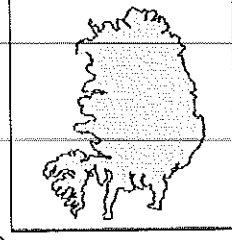


- (A)神道教 (B)東正教
- (C)天主教 (D)伊斯蘭。

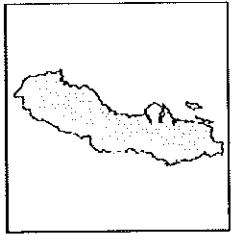
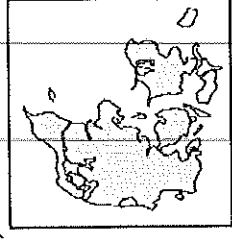
() 34. 【時事題】大西洋中間橫互著一條中洋脊，

○○即是中洋脊冒出岩漿堆積而成的火山島，地熱資源得天獨厚，而○○人也對開發地熱相當大膽積極，2016年8月起開掘○○深掘計畫(DDP)直達岩漿層，如今已經挖掘5公里深。請問：○○指的是北歐哪一個國家？

(A) (B)



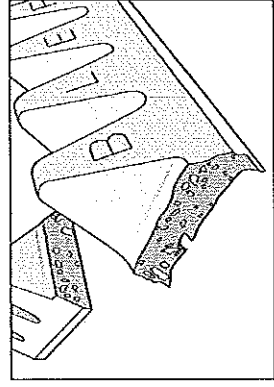
(C) (D)



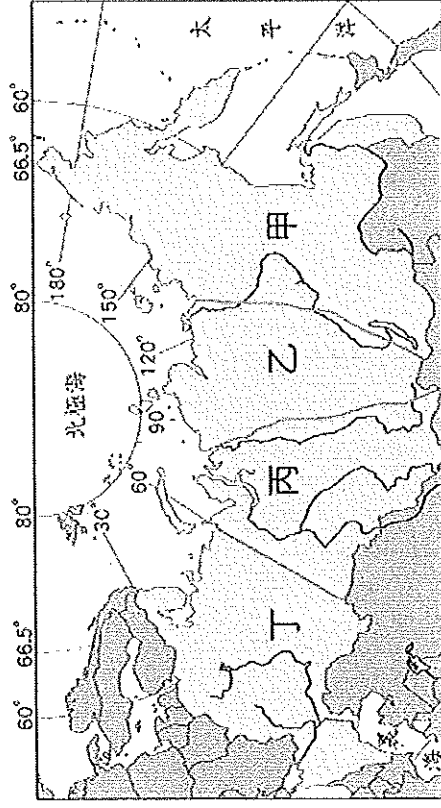
() 35. 【時事題】2019年4月16日，巴黎聖母院發生大火，媒體在播報上居然出現了一個非常明顯的錯誤，請問新聞畫面中的『萊因河』應該修改為何？(A)多瑙河 (B)泰晤士河 (C)塞納河 (D)奧得河。



- () 36. 【美食題】附圖是西歐某國家的巧克力品牌，巧克力外型是以當地阿爾卑斯山為靈感設計而成，該國且以冰河、湖泊、森林等美景聞名，而有「世界公園」之稱。請問：此巧克力品牌可能來自哪個歐國家？
 (A)瑞士 (B)希臘 (C)英國 (D)挪威。

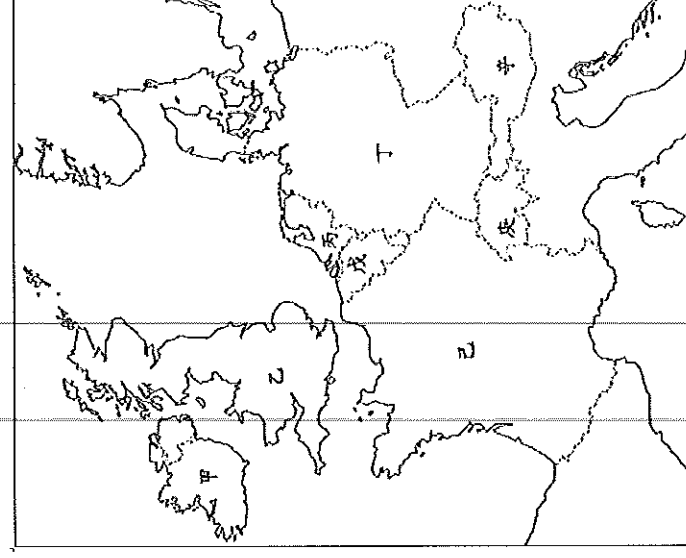


(三) 請根據附圖回答下列各題：




- () 37. 請問上圖的甲、乙、丙、丁分別為哪種地形？
 (A)平原、平原、高原、山地
 (B)平原、山地、高原、平原
 (C)山地、平原、高原、平原
 (D)山地、高原、平原、平原。
- () 38. CNN 雜誌報導：「俄羅斯境內在 2019 年 6 月發生芮氏規模 7.3 的地震，相關單位立即檢查境內主要的經濟設施，幸好沒有大礙，否則將對俄羅斯的經濟造成衝擊。」請問：若俄羅斯的自然環境特色判斷，這場地震的震央最可能位於附圖中哪一個地理區？
 (A)甲 (B)乙 (C)丙 (D)丁。
- () 39. 承上題，這場地震若對當地的下列何項產業設備造成損壞，將會大大影響俄羅斯的經濟發展？
 (A)鐵礦區開採設備 (B)針葉林砍伐設備
 (C)石油輸出管線 (D)電子工業生產儀器。
- () 40. 哪一個地形區因「鄂畢河」流經，流速慢、排水差，導致多凍土及沼澤遍佈？
 (A)甲 (B)乙 (C)丙 (D)丁。
- () 41. 俄羅斯商店販售純淨透明像水，但酒精濃度高達 40% 的伏特加烈酒，這是用俄羅斯生產的小麥經多次蒸餾而製成。從氣候條件來看，俄羅斯的小麥多生產於何地？
 (A)甲 (B)乙 (C)丙 (D)丁。

(三) 請根據附圖回答下列各題：



- () 42. 附圖是某個歐元區國家發行的歐元硬幣，硬幣正面圖案上是最著名音樂家阿馬迪厄斯·莫札特，象徵該國是一塊音樂的土地，音樂藝術氣息濃厚。試問此歐元發行的國家與其被稱為「音樂之都」的首都為下列何者？
 (A)乙，倫敦 (B)丁，柏林
 (C)己，巴黎 (D)辛，維也納。



- () 43. 歐洲國家在地理大發現後，於海外各洲紛紛取得殖民地，為其後來的經濟發展奠定基礎。請問：圖中哪一個國家的海外殖民地曾遍布世界各地，因此有「日不落國」的稱號？
 (A)甲 (B)乙 (C)庚 (D)辛。
- () 44. 「該國時尚產業與特色美食聞名全球，有花都之稱的首都更有許多知名景點值得一遊，浪漫氛圍瀰漫全境」，請問上文描述的國家及首都為下列何者？
 (A)乙，倫敦 (B)丁，柏林
 (C)己，巴黎 (D)辛，維也納。
- () 45. 請問下列哪一選項對於「戊」國的描述是正確的？
 (A)鐵礦豐富並為金融中心
 (B)盛產鑽石且加工技術聞名全球
 (C)首都是歐盟和北約總部的所在地
 (D)音樂氣息濃厚許多音樂家活躍於此。

後面尚有非選擇試題 (共 10 分)，
 請繼續作答，測驗完畢後，
 請繳交答案卡及非選擇題試卷