

基隆市立武崙國民中學一〇九學年度第一學期第二次段考公民科試題

班級：九年 班座號： 姓名：

一、選擇題：(每題2分)

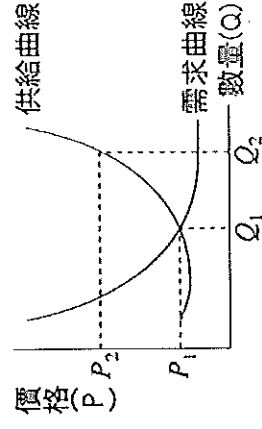
- () 1. 在經濟循環中，若以商品市場來看，生產者與消費者的供需行為是由一隻「無形的手」是指？主導，而價格是由誰決定？ (A)市場價格、供給者 (B)政府、供需雙方 (C)市場價格、供需雙方 (D)政府、需求者。
- () 2. 新聞報導：「連日豪雨造成中南部菜田受損，收成短缺。」請問：蔬菜收成短缺，可能會造成何種現象？
 (甲)蔬菜供過於求 (乙)蔬菜價格上漲 (丙)消費者改買其他較便宜的商品 (丁)生產者因蔬菜有利可圖，可能轉種蔬菜 (A)甲乙丙 (B)乙丙丁 (C)甲乙丁 (D)甲乙丙丁。
- () 3. 行政院公布三倍券的發放方案，109年12月31日前，全國不分男女老少、不分貧富，每人都可以獲得1000+2000元的三倍券，用於購買各種零售商品，或是用於餐飲旅遊消費。下列有關三倍券的敘述，何者有誤？
 (A)發放三倍券可以刺激景氣回升 (B)發放三倍券可以提高人民的購買力 (C)發放三倍券會使政府的負債增加 (D)發放三倍券會使政府的稅收減少增加。
- () 4. 表(十二)為某蛋糕店主打商品於試賣期間的記錄內容，其中甲、乙、丙、丁、戊分別表示由高到低的五種價格。該店販售的商品皆為當日製作，絕不販售隔夜商品。若表中甲、乙、丙、丁、戊皆非均衡價格，且不考量其他因素，則此商品的均衡價格最可能介於下列哪二者之間？ (A)甲、乙 (B)乙、丙 (C)丙、丁 (D)丁、戊。
- () 5. 世界各國普遍使用「紙鈔」作為通行的貨幣，主要原因有 (甲)紙鈔本身具有高價值 (乙)紙鈔可以簽帳使用 (丙)政府透過法令強制其具有價值 (丁)紙鈔方便攜帶 (A)甲乙 (B)乙丙 (C)丙丁 (D)甲丁。
- () 6. 下列哪一種供需方式是以市場機能來調節供給與需求，對生產者與消費者都同時最有利？ (A)拍賣網站上的自標銷售 (B)新臺幣升值嚴重，中央銀行釋出新臺幣 (C)颱風期間政府保證最低農產品收購價格 (D)臺灣口罩價格飆高，政府提供平價口罩
- () 7. 下表是有關統制經濟制度與市場經濟制度的比較，何者有誤？ (A)甲 (B)乙 (C)丙 (D)丁。

表(十二)

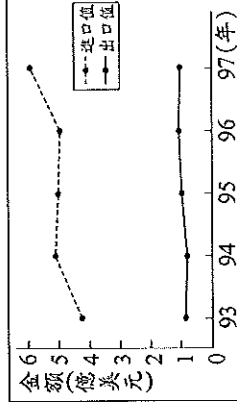
當日價格(元)	平均未賣出的商品數量(個/天)
甲	7
乙	4
丙	2
丁	0
戊	0

經濟制度	(甲)主導力量	(乙)所有權	(丙)特點	(丁)舉例(就業自由)
統制經濟制度	看得見的手	屬於國家	政府尊重市場的運作	經濟改革前的共產國家(蘇聯)
市場經濟制度	看不見的手	屬於人民	政府控制所有的經濟活動	美國、歐洲

- () 8. 假設生產一部腳踏車，我國和日本都各需要二十勞動小時，生產一部汽車，我國需要三十勞動日，日本需要十五勞動日，在此情況下兩國應如何從事貿易？ (A)我國出口腳踏車，日本出口汽車 (B)我國出口汽車，日本出口腳踏車 (C)我國出口汽車，進口腳踏車 (D)日本出口腳踏車，進口汽車。
- () 9. 在自由經濟市場中，商品價格主要由市場供需的狀況所決定。右圖為今年柳丁產季的供需圖，在其他條件不變的情況下，若價格由 P_2 變成 P_1 ，則其需求的數量將有何變動？ (A)增加 (B)減少 (C)不變 (D)不一定。



- () 10. 受到美國次級房貸的影響，金融風暴席捲全球，導致全世界的主要生產國出現通貨緊縮的現象，台灣也無法倖免。下列有關通貨緊縮的敘述何者錯誤？ (A)民眾儲蓄意願降低 (B)貨幣的購買力上升 (C)會導致失業率升高及經濟衰退 (D)人民預期所得減少，減少消費。
- () 11. 右圖是民國103年至107年，我國水果類農產品的國際貿易概況。根據圖中內容，可觀察出下列何種現象？ (A)我國生產水果具絕對利益 (B)水果類貿易呈現入超狀態 (C)我國生產水果具比較利益 (D)水果類貿易呈現出超狀態。
- () 12. 兩國進行國際貿易時，下列做法，何者正確？ (A)進口本國擅長的產品，形成貿易支出 (B)出口本國擅長的產品，形成貿易支出 (C)出口本國擅長的產品，形成貿易收入 (D)進口本國短缺的物品，形成貿易收入。



- () 13. 臺灣目前正面臨低利率的時代。請問：當銀行利率持續降低時，對於民眾的理財會有什麼影響？ (A)提高企業的投資意願 (B)民眾將外幣兌換為臺幣 (C)降低民眾的消費欲望 (D)民眾紛紛將錢存入銀行。

基隆市立武崙國民中學一〇九學年度第一學期第二次段考公民科試題

班級：九年 班座號： 姓名：

() 14. 全球股災，再加上以色列及巴勒斯坦又爆發流血衝突，使得油價飆漲，加深了人們對「通貨膨脹」之隱憂，請問「通貨膨脹」會造成哪些現象？(甲)貨幣貶值，物價不斷上漲 (乙)領月退休的人生活水準提升 (丙)人們喜歡囤積商品 (丁)國民整體儲蓄會提高 (戊)黃金、地價會上漲。

(A)甲丙戊 (B)乙丙戊 (C)甲乙丙 (D)甲乙戊。

() 15. 老闆僱用小偉、大智、阿雯為店員，並計畫選出其中二人合作製作煎餃與包子，表(十三)為此三人工作成效的資訊。老闆發現依比較利益法則分工，小偉不論與誰合作，皆是負責製作包子；而大智不論與誰合作，皆是負責製作煎餃，根據表中資訊判斷，下列對應關係何者正確？ (A)甲：小偉，乙：大智 (B)甲：大智，乙：小偉，丙：阿雯 (C)甲：阿雯，乙：小偉，丙：大智 (D)甲：小偉，乙：阿雯，丙：大智。

表(十三)

產品	包子	煎餃
店員		
甲	50	60
乙	50	50
丙	40	50

單位：個/小時

() 16. 今年冬天柳丁盛產，價格便宜。明美和瓊瑤各買了 10 斤柳丁，明美打算榨柳丁汁供家人食用；瓊瑤則打算在自己經營的泡沫紅茶店，增售柳丁汁，以提升銷售業績，請問：下列敘述何者正確？ (甲)明美購買的柳丁屬於商品 (乙)瓊瑤購買的柳丁屬於商品 (丙)瓊瑤購買的柳丁屬於生產要素 (丁)明美購買的柳丁屬於生產要素 (A)甲乙 (B)甲丙 (C)乙丁 (D)丙丁。

() 17. 經濟活動的循環，主要在說明市場經濟裡，需求者和供給者的消費行為和生產活動的關係。下列關於經濟活動循環中消費者和生產者的關係，何者敘述正確？ (A)生產者就是商品市場的需求者 (B)消費者就是生產要素市場的需求者 (C)生產者的銷貨收入會形成消費者的所得 (D)消費者的消費支出會形成生產者的銷貨收入。

() 18. 表(十五)是甲、乙兩國匯率變動的情形，以吸引乙國遊客為主的甲國觀光業者，看到此變化後感到很憂心。根據表中內容判斷，若甲國的物價水準維持不變，下列何者最可能是上述業者的憂慮？ (A)甲國觀光業者經營成本提高 (B)乙國人到甲國旅遊意願下降 (C)甲國觀光業者數量大幅增加 (D)乙國人的平均薪資所得減少。

表(十五)

時間	1 甲幣可兌換的乙幣
去年	10
今年	20

() 19. 阿土伯新開了一間餐廳，為了提供高品質的餐點，阿土伯重金禮聘曾在米其林餐廳服務過的阿雞師來擔任主廚。請問：依前述內容判斷，阿土伯屬於經濟活動循環中的何項角色？ (A)生產要素市場的需求者 (B)生產要素市場的供給者 (C)商品市場的需求者 (D)商品市場的供給者。

() 20. 小李是自助餐廳的老闆，為了提供客人新鮮的菜色，他每天一大早到果菜批發市場挑選，請問此時的果菜批發市場和下列哪一市場屬性相同？ (A)媽媽買菜的菜市場 (B)妹妹購買早餐的速食店 (C)哥哥參加的就業博覽會 (D)爸爸買賣股票的股票市場。

() 21. 「低薪使得年輕人沒有未來，如此這個國家必定也沒有未來。」因此在 2020 年，政府規定基本時薪由 158 元提高為 160 元。請問：基本時薪的決定方式與下列何者相同？ (A)一度電的價格 (B)精品店皮包的價格 (C)水果行的香蕉價格 (D)咖啡廳的餐點價格。

() 22. 當經濟不景氣時，最有可能發生下列何種現象？ (甲)人力資源不足 (乙)失業人口增加 (丙)公共建設增加 (丁)社會治安良好。 (A)甲乙 (B)乙丙 (C)甲丙 (D)丙丁

() 23. 美美每個月在銀行戶頭中存入 10000 元作為留學基金。預計存滿一百萬後將啟程赴英國留學進修，請問：這是屬於貨幣的哪一功能？ (A)價值衡量 (B)交易媒介 (C)價值儲存 (D)清償債務。

() 24. 國民經濟是透過各項的生產、分配與消費，其中必須有其買賣行為發生的處所，有些是有形的市場，有些是無形的市場。請問下表中那些是屬於「無形的市場」？ (甲)超級市場 (乙)便利商店 (丙)百貨公司 (丁)網購市場 (戊)股票市場 (己)保險市場 (A)甲乙丙 (B)乙丙戊 (C)丙戊己 (D)丁戊己。

() 25. 小英到幸福國旅遊的第一天，在咖啡店喝了一杯定價 150 元的爪哇咖啡，第三天要離開時又到同一家店，卻發現同樣的爪哇咖啡，每杯定價已變成 400 元，請問：幸福國可能正面臨何種經濟問題？ (A)生產過剩 (B)通貨緊縮 (C)惡性競爭 (D)通貨膨脹。

() 26. 我國中央銀行的主要功能在於那些？ (甲)辦理存款放款業務 (乙)保管國家黃金及外匯 (丙)調節國家貨幣的供給數量 (丁)輔助各類金融機構的正常運作。 (A)甲乙丙 (B)甲乙丁 (C)甲丙丁 (D)乙丙丁。

班級：九年 班座號：

姓名：

- () 27. 右圖是二家工廠負責人的對話。若這二家工廠都可生產甲、乙二種產品，但每家工廠同時只能選擇其中一種進行生產，在不考量其他因素的情況下，由圖中內容判斷，下列關於生產甲產品的敘述何者正確？ (A) 北海廠具有比較利益 (B) 南海廠具有比較利益 (C) 北海廠具有絕對利益 (D) 南海廠具有絕對利益。

- () 28. 知名藝人開演唱會時，常有許多人搶著買票，買不到票的民眾甚至用較高的價格去購買「黃牛票」。在其他條件不變下，上述現象代表該演唱會門票市場，呈現下列何種情況？ (A) 票價低於均衡價格，導致供過於求 (B) 票價低於均衡價格，導致供不應求

(C) 票價高於均衡價格，導致供過於求 (D) 票價高於均衡價格，導致供不應求。

- () 29. 國恩大學畢業後決定回到家鄉工作，國恩上人力網站，找尋相關的就業資訊，並逐一篩選、面試，最後終於找到一份理想的工作。上述文中提到哪些類型的市場？ (A) 有形市場、商品市場 (B) 無形市場、商品市場 (C) 有形市場、生產要素市場 (D) 無形市場、生產要素市場。

- () 30. 右圖為甲國在 2008 年至 2011 年進出口貿易的年度資料。根據圖中內容判斷，甲國在下列哪一年的貿易出超金額最多？ (A) 2008 年 (B) 2009 年 (C) 2010 年 (D) 2011 年。

- () 31. 根據供需法則，當其他條件不變的情況，下列敘述何者正確？ (A) 需求增加或供給減少，造成供過於求，價格上漲 (B) 需求減少或供給增加，造成供不應求，價格上漲

(C) 需求增加或供給減少，造成供不應求，價格上漲 (D) 需求減少或供給增加，造成供過於求，價格上漲。

- () 32. 小楓和小平合作生產蛋糕和蘋果派，每人同時只能製作其中一種商品，右表是他們的一日產量表。若依比較利益法則進行分工，小楓應負責生產蘋果派，而小平生產蛋糕。根據上述內容判斷，表中的甲最可能為下列何者？ (A) 600 個 (B) 500 個 (C) 400 個 (D) 300 個。

- () 33. 由於香蕉栽種過量，且出口減少，使得香蕉的價格大跌，下列有四種穩定香蕉價格的方法，其中哪一種方法無法達到這個目標？ (A) 外銷到日本、新加坡等國 (B) 鼓勵農民大規模生產，降低生產成本 (C) 鼓勵國內各機關團體多吃香蕉 (D) 推出「買一送一」的促銷活動。

- () 34. 公民老師為介紹歷史上某一重要事件所使用的簡圖，如附圖，其中甲、乙最可能為下列何者？ (A) 甲：政府持續大量發行貨幣，乙：人民生活水準上升 (B) 甲：政府持續大量發行貨幣，乙：人民生活水準下降 (C) 甲：政府減少貨幣流通數量，乙：人民生活水準上升 (D) 甲：政府減少貨幣流通數量，乙：人民生活水準下降。

二、整合題 (每題 2 分)

1. 國倫和美蘭是做麵食的師傅，右表是他們一個小時所完成的包子和饅頭的數量。請問：

() 35. 國倫生產一個包子的機會成本為何？ (A) $\frac{4}{5}$ 饅頭 (B) $\frac{5}{4}$ 饅頭 (C) $\frac{3}{5}$ 饅頭 (D) $\frac{5}{3}$ 饅頭。

() 36. 美蘭生產一個饅頭的機會成本為何？ (A) $\frac{2}{3}$ 包子 (B) $\frac{3}{2}$ 包子 (C) 2 包子 (D) $\frac{1}{2}$ 包子。

- () 37. 如果想要做出更多的包子和饅頭，兩人應該如何進行分工？ (A) 兩人同時生產饅頭 (B) 兩人同時生產包子

(C) 國倫生產饅頭，美蘭生產包子 (D) 國倫生產包子，美蘭生產饅頭。

2. 明美和永信在速食餐廳打工，右表是他們在一小時內製作豬排和漢堡的產量，請問：

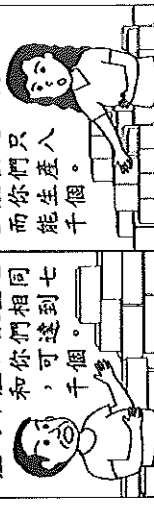
() 38. 如果想要做出更多的漢堡和豬排，他們兩人應如何有效分工？ (A) 兩人同時生產豬排

(B) 兩人同時生產漢堡 (C) 明美生產豬排，永信生產漢堡 (D) 明美生產漢堡，永信生產豬排。

排。

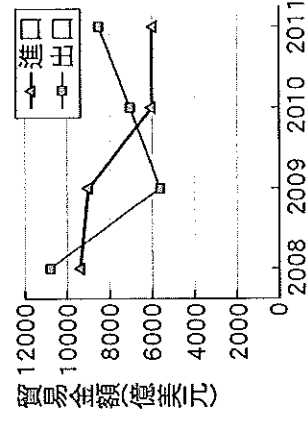
北海廠負責人

雖成立未滿一年，但我們甲產品每日所生產的數量和你們的甲產品可達七千個。

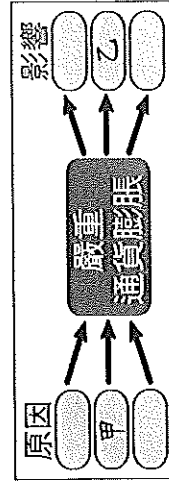


南海廠負責人

但是在生產乙產品方面，我們每天生產的數量達一萬個，而你生產的數量只有八千個。



	小楓	小平
蛋糕 (天)	400 個	300 個
蘋果派 (天)	500 個	甲



	國倫	美蘭
包子	5	3
饅頭	4	2

項目	豬排	漢堡
明美	4	7
永信	5	4

班級：九年 班座號： 姓名：

- () 39. 他們兩人要採取下列何種方法進行分工，才能發揮最大的效益？(A)比較利益 (B)絕對利益 (C)單打獨鬥 (D)機會成本。

3. 天使國與幸福國各自生產一架飛機與一艘輪船所需發費的時間，如右表所示。請

一架(艘)	飛機	輪船
天使國	9個月	4個月
幸福國	7個月	5個月

回答下列問題：

- () 40. 天使國生產一架飛機的機會成本為何？(A) $\frac{9}{7}$ 輪船 (B) $\frac{7}{9}$ 輪船 (C) $\frac{9}{4}$ 輪 (D) $\frac{4}{9}$ 輪船。
- () 41. 幸福國生產一艘輪船的機會成本為何？(A) $\frac{5}{7}$ 飛機 (B) $\frac{7}{5}$ 飛機 (C) $\frac{4}{5}$ 飛機 (D) $\frac{5}{4}$ 飛機。
- () 42. 依據比較利益原則，透過國際貿易分工，天使國與幸福國應分別採取哪一種策略較為適當？(A) 天使國進口飛機，幸福國進口輪船 (B) 天使國生產飛機，幸福國生產輪船 (C) 天使國出口飛機，幸福國出口輪船 (D) 天使國進口輪船，幸福國進口飛機。

4. 右表所示為四個國家一年的進出口貿易統計資料。請問：

單位： 元	巴西	大陸	美國	日本
出口 總值	460億	2341億	2500億	1240億
進口 總值	960億	2005億	3400億	670億

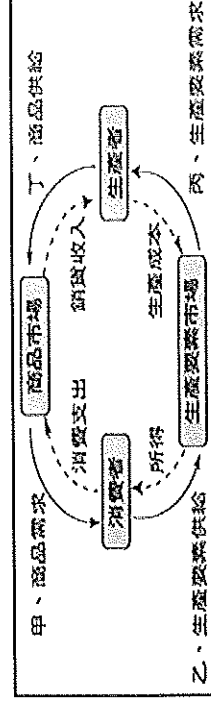
- () 43. 哪些國家出現貿易順差？(甲)巴西 (乙)美國 (丙)日本 (丁)大陸
(A) 甲乙 (B) 乙丙 (C) 甲丙 (D) 丙丁。
- () 44. 哪些國出現貿易赤字？(甲)日本 (乙)巴西 (丙)美國 (丁)大陸。
(A) 甲乙 (B) 乙丙 (C) 乙丁 (D) 丙丁。
- () 45. 當美金升值時，對美國的進出口貿易會產生何種影響？(A) 美金升值，對美國的出口有利 (B) 美金貶值，對美國的進口有利 (C) 匯率變動對進出口貿易沒有直接的影響 (D) 匯率變動頻繁，將使進出口貿易不易核算成本。

5. 表(1)是銀河咖啡店近來的營運計畫表，圖(1)則是經濟活動循環簡圖。請根據圖表資料，回答下列問題

▼表(1)

ㄅ	擴大經營 增聘工讀生(時薪120元， 工作時間為17:00~22:00)
ㄆ	提高產量 ★添購咖啡用具 ★添購全自動咖啡機
ㄇ	增加銷售量 舉辦「兩人同行，一人半價」 的促銷活動

▼圖(1)



- () 46. 銀河咖啡店的「ㄆ」計畫，屬於經濟活動循環簡圖中的哪個環節？(A) 甲 (B) 乙 (C) 丙 (D) 丁。
- () 47. 銀河咖啡店提出「ㄇ」計畫，以增加銷售量。對生產者而言，該促銷活動屬於經濟活動循環簡圖中的哪個環節？
(A) 甲 (B) 乙 (C) 丙 (D) 丁。
- () 48. 根據「ㄅ」計畫的內容判斷。銀河咖啡店的該項作為，屬於經濟活動循環簡圖中的哪個環節？(A) 甲 (B) 乙 (C) 丙 (D) 丁。
- () 49. 小裕為了存錢買筆記型電腦，決定到銀河咖啡店當服務生打工賺錢。小裕打工的行為是屬於經濟活動循環簡圖中的哪個環節？(A) 甲 (B) 乙 (C) 丙 (D) 丁。
- () 50. 消費者買咖啡的消費支出等於是「咖啡店」的什麼？(A) 所得 (B) 生產成本 (C) 消費支出 (D) 銷貨收入。