

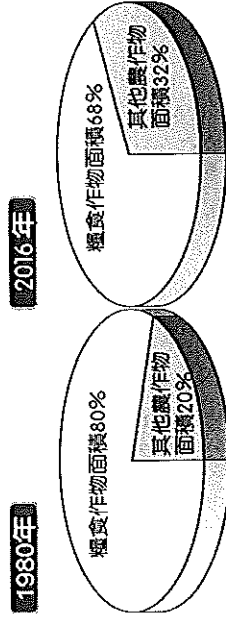
基隆市立武崙國民中學一〇九學年度第一學期第二次段考八年級地理科試題卷

注意事項：

1. 本份試卷為單選題，每題2分，共50題，總分100分。
2. 答案卡限用2B鉛筆畫記，若畫記錯誤，請擦拭乾淨。分數以電腦讀卡分數為準。
3. 答案卡上的資料欄請確實填寫，若資料欄畫記錯誤導致電腦無法正確判讀，扣總分10分。

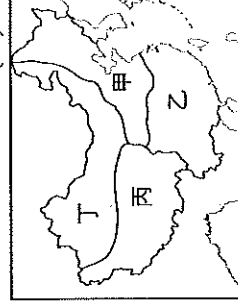
班級：八年 班座號： 姓名：

- () 1. 中國東北平原平坦遼闊，從事農業人口少，故採取何種措施解決人力缺乏問題？(A)人口老化 (B)生態農業 (C)人工施肥 (D)機械化耕作。
- () 2. 小南在雜誌中看到有關新疆的報導，其內容提及目前新疆的經濟有「黑白雙雄」之稱，「黑」指的是石油，則「白」指的是下列何種經濟作物？(A)甜菜 (B)棉花 (C)甘蔗 (D)茶樹。
- () 3. 中國的消費人口眾多，因此農業生產為該國重要的基礎產業。附圖為中國的農作栽種面積變化圖，其主要影響因素為下列何者？(A)市場需求 (B)生態保育 (C)農村人口外移 (D)氣候變遷。

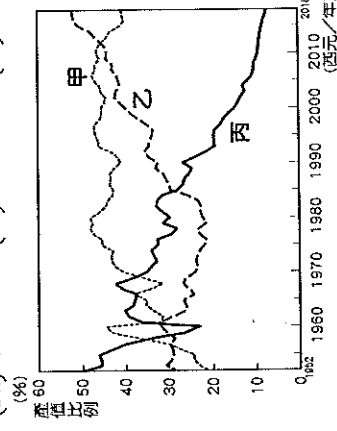


- () 4. 隨著經濟的發展，中國的飲食習慣出現改變，畜牧業的需求量與日俱增。然而中國卻在2017年及2019年出現大規模的禽流感及非洲豬瘟等問題，重創相關產業的發展。上述相關疫情和下列何種養殖方式的關係最大？(A)集約化 (B)多樣化 (C)環保化 (D)都市化。
- () 5. 農業發展受到自然環境的因素影響，形成不同類型的耕種方式。附圖為世界前六大面積國家的人均可耕地面積比較圖。請問：圖中中國的人均可耕地面積大小，最主要受到哪一因素影響？(A)人口數量 (B)面積大小 (C)生產技術 (D)降水多寡。(國家)(公頃/人)
- | 國家 | 人均可耕地面積 (公頃/人) |
|-----|----------------|
| 世界 | 0.19 |
| 俄羅斯 | 0.85 |
| 加拿大 | 1.21 |
| 美國 | 0.47 |
| 中國 | 0.09 |
| 澳洲 | 1.9 |
| 巴西 | 0.39 |
- () 6. 中國有一經濟區屬於傳統重工業重心，但隨著礦產枯竭、設備老舊，產業發展趨緩，急需轉型。請問：中國政府針對此區提出何項政策？(A)東北振興 (B)東部率先發展 (C)中部崛起 (D)西部開發。
- () 7. 上海過去原是一個小漁村，目前是中國經濟發展的重要城市，其主要發展的條件與下列哪一項較無關？(A)位於中國東部海岸線的中點 (B)位於中國最長的河川出海口 (C)開發較早，歷史古蹟眾多 (D)位置優越，腹地廣大。

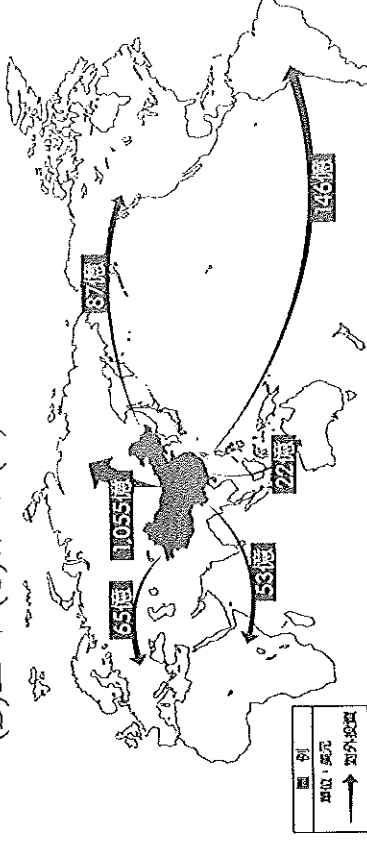
- () 8. 中國水資源分布不均，近年來積極施行的「南水北調」工程最主要是要解決附圖中哪個地區的缺水問題？(A)甲 (B)乙 (C)丙 (D)丁。



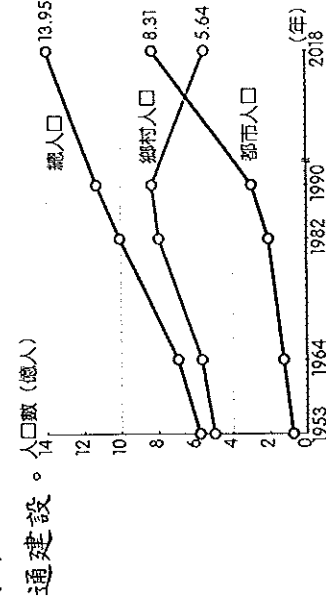
- () 9. 中國農業生態環境不斷惡化，中國政府可能推行下列哪些方案？甲、使用環境汙染監測系統；乙、提升農民環境意識；丙、提高化肥的使用率；丁、推廣資訊化農業技術
- (A)甲乙丙 (B)甲乙丁 (C)乙丙丁 (D)甲乙丙丁。
- () 10. 附圖為中國三級產業產值占GDP的比重變化圖。請由圖判斷，第一級、第二級、第三級產業的GDP分別為圖上的哪一條曲線？
- (A)甲乙丙 (B)甲丙乙 (C)乙甲丙 (D)丙甲乙。



- () 11. 附圖是2018年中國對各洲投資金額示意圖，圖中中國對哪一洲投資金額最高？(A)歐洲 (B)亞洲 (C)非洲 (D)南美洲。



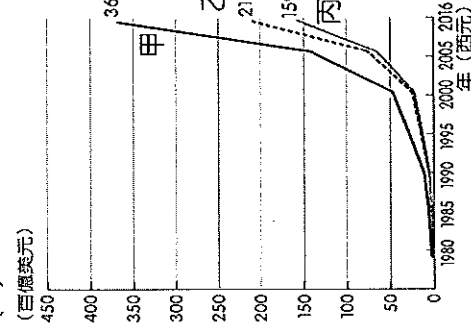
- () 12. 附圖為中國的城鄉人口變化圖，近年來人口的變化趨勢主要是受到下列哪一因素影響？(A)人口減少 (B)戶籍制度 (C)經濟發展 (D)交通建設。



()13. 中國改革開放後，臺商是中國外資企業的主力之一。請問：臺商在中國設廠，對中國最大的助益為何？(A)提供大量的勞力 (B)帶來資金與技術 (C)供應豐富的原料 (D)提供生產環境。

()14. 中國經濟發展的過程中，對外貿易順差成為重要外匯來源。附圖為中國貿易曲線圖，請問：下列何者敘述正確？

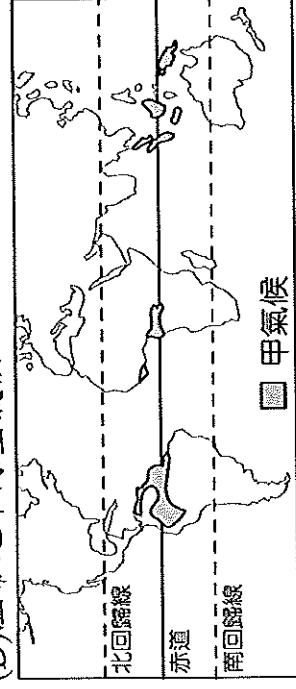
- (A) 甲—出口總額；乙—進口總額；丙—貿易總額
 (B) 甲—進口總額；乙—貿易總額；丙—出口總額
 (C) 甲—貿易總額；乙—進口總額；丙—出口總額
 (D) 甲—貿易總額；乙—出口總額；丙—進口總額。



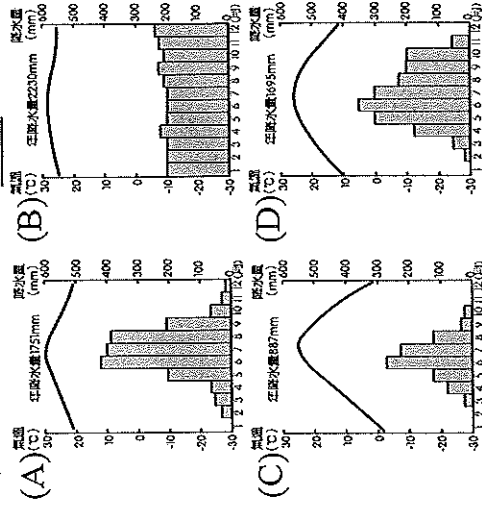
()15. 熱帶與寒帶氣候特色不同，下列有關這兩者的特色，何者正確？(A)甲 (B)乙 (C)丙 (D)丁。

	熱帶氣候	寒帶氣候
(甲)太陽照射角度	角度較小	角度較大
(乙)緯度位置	緯度較高	緯度較低
(丙)年溫差大小	年溫差小	年溫差大
(丁)年均溫	年均溫較低	年均溫較高

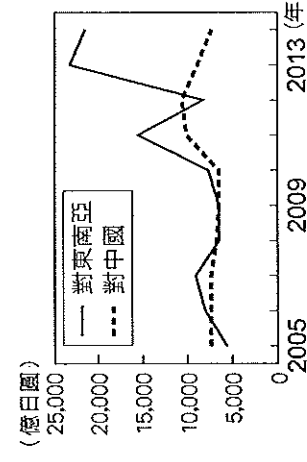
()16. 附圖為世界簡圖，請依地理位置判斷，圖中的「甲氣候」應屬哪一種氣候類型？(A)熱帶雨林氣候 (B)熱帶莽原氣候 (C)熱帶沙漠氣候 (D)溫帶地中海型氣候。



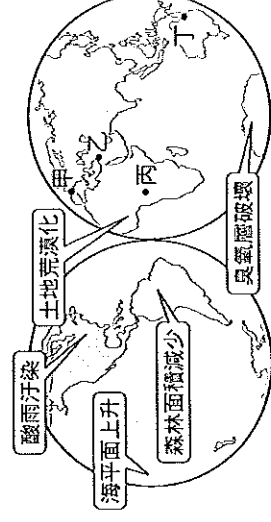
()17. 緯度高低會影響一地區的氣候狀況，因而發展出不同的區域特色。請問，依下列氣候圖判斷，何者所處的緯度最低？



()18. 附圖為近年日本對於中國和東南亞國家的投資金額統計圖，為何2012年後日本對中國投資額減少，而對東南亞地區明顯增加？(A)近年中國已成為世界工廠 (B)中國勞力和原物料生產成本增加 (C)中國消費市場潛力龐大 (D)東南亞生產技術精進。



()19. 隨著科技進步，各地因人為活動而引發了不同的環境問題。根據附圖全球主要環境問題分布圖判斷，南極地區主要的環境問題是下列何者？(A)酸雨汙染 (B)海平面上升 (C)森林面積積減少 (D)臭氧層破壞。



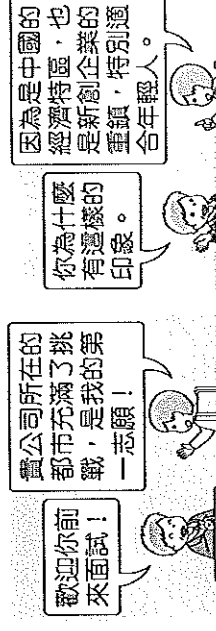
()20. 根據「2020 中國商業地產投資意向調查報告」顯示，雖然受到新型冠狀病毒的疫情影響，大部分投資人仍對市場有信心，其中尤以外資為甚，外資受訪者均表示未來12個月內都有在中國最大工、商、金融中心進行投資的計畫。上述消息一出，附圖中何地的前景大為看好？

- (A)甲 (B)乙 (C)丙 (D)丁。



()21. 附圖是大學畢業的小南正在進行面試的情景，他所面試的企業最可能位於下列何處？

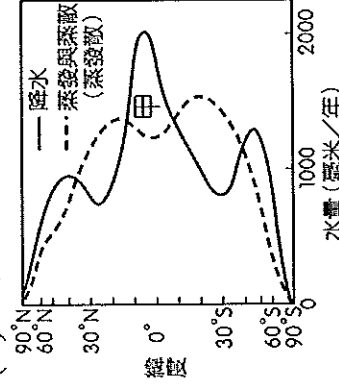
- (A)北京 (B)上海 (C)廣州 (D)深圳。



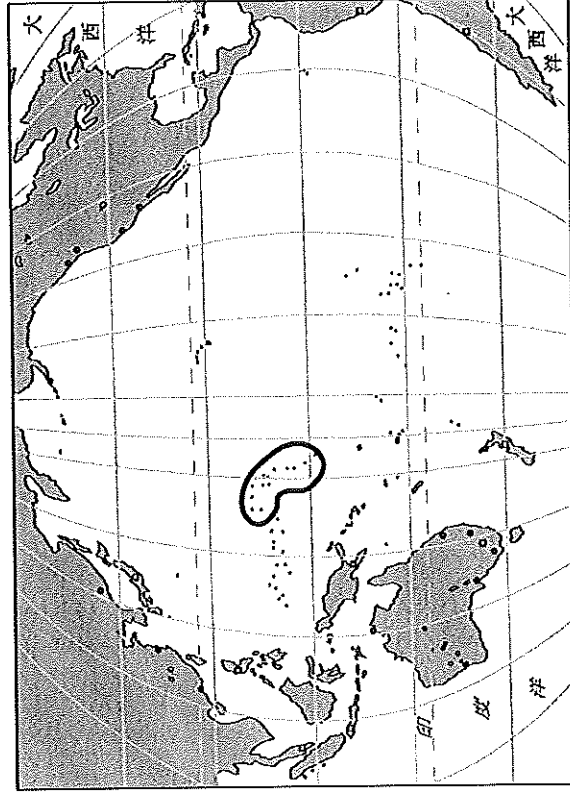
()22. 工業發展的過程中，隨著交通革命的進步，紛紛視各地生產條件的差異而將工廠設於不同國家。由於許多商品在中國製造的產量高居世界第一，因此中國有了「世界工廠」的稱號。請問：當時中國生產的產品因為具備下列何項特質，故有利於行銷世界各地？(A)技術進步 (B)價格低廉 (C)知名品牌 (D)設計性高。

- () 23. 根據中國境內的經濟發展狀況判斷，下列哪一個行政區內的每人平均 GDP 最高？(A) 貴州省 (B) 北京市 (C) 西藏自治區 (D) 廣東省。
- () 24. 近年來中國企業逐漸在全球經貿中扮演重要角色，積極併購海外企業，如瑞典的汽車公司、美國的家電品牌等。請問：中國企業採用上述方式，其主要目的為下列何者？(A) 擴展國家領土範圍 (B) 減緩國內勞力短缺 (C) 獲取產業生產技術 (D) 均衡國內區域發展。

- () 25. 附圖為全球各緯度降水量與蒸發散量的變化情形。當一地的蒸發散量小於降水量時為「剩水區」，反之則為「缺水區」。依圖中甲區代表的水文現象及所在的緯度位置判斷，下列哪種氣候類型應位於甲區的範圍內？(A) 熱帶雨林氣候 (B) 熱帶沙漠氣候 (C) 溫帶海洋性氣候 (D) 溫帶大陸性氣候。

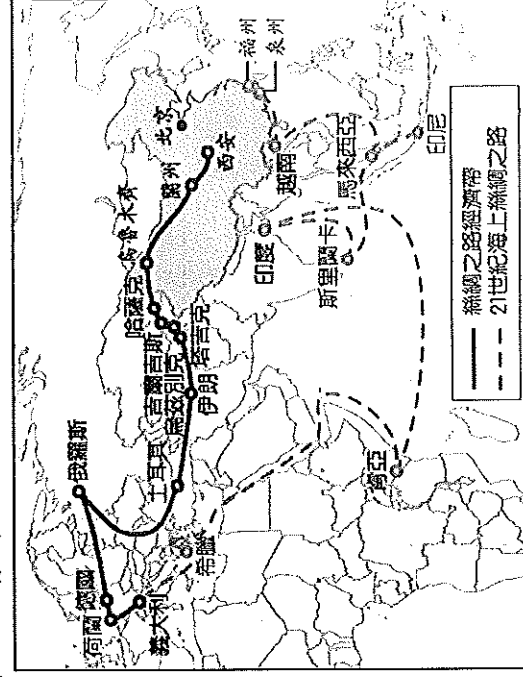


※某島國居民在紐約街頭進行示威遊行，抗議工業國家所導致的碳排放問題造成他們的生存危機，除了國土淹沒外，其沿岸土地在海水退了之後，也無法從事農耕。附圖圈起處為該國的地理位置。請問：



- () 26. 若相關學者欲前往當地進行實察，應前往下列哪一個海域？(A) 大西洋 (B) 太平洋 (C) 印度洋 (D) 北極海。
- () 27. 土地消失及糧食生產減少造成當地居民面臨生存的威脅，造成這種情況的直接原因最可能為下列何者？(A) 降水量低於平均值 (B) 生物棲息地環境改變 (C) 土石流 (D) 海面上升。
- () 28. 下列哪個協議是世界各國為降低碳排放量所簽訂的協定？(甲) 巴黎協定 (乙) 蒙特婁議定書 (丙) 京都議定書 (丁) 里約環境與發展宣言
(A) 甲乙 (B) 甲丙 (C) 乙丙 (D) 丙丁。

※中國在改革開放後，經濟發展上見到成效，和美國並列為世界兩大經濟強國，其國內生產毛額及對外投資金額高居世界第二、消費量更成為世界之首。近年來中國為擴展自身經濟版圖與國際影響力，在 2013 年推出「一帶一路」的經濟政策，其規畫路線圖如附圖所示，請問：



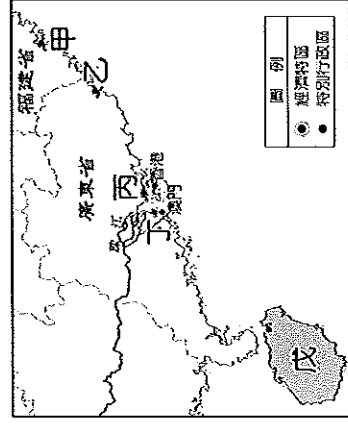
- () 29. 一帶一路計畫包含了兩個交通路線，其中「絲綢之路經濟帶」主要串聯哪兩洲的商業運輸？
(A) 亞洲、歐洲 (B) 亞洲、非洲 (C) 非洲、歐洲 (D) 東北亞、東南亞。
- () 30. 承上題，根據附圖判斷，中國哪個行政區位於這兩洲之間的必經之地，重要性相對明顯？
(A) 西藏自治區 (B) 新疆維吾爾自治區 (C) 內蒙古自治區 (D) 寧夏回族自治區。
- () 31. 下列何者是「一帶一路」計畫中，中國針對西部經濟帶擬定的發展策略？(A) 強化鐵路等交通運輸功能 (B) 利用廉價勞力吸引外商投資 (C) 出口當地豐富的農牧資源 (D) 大量輸出西部過剩勞動人口。
- () 32. 中國和一帶一路上的國家經濟合作，主要以下列何者作為外交手段？(A) 投資貸款 (B) 石油供應 (C) 勞力提供 (D) 穀物供給。
- () 33. 一帶一路計畫沿線國家多數具有下列何項特質？(A) 技術進步 (B) 資金充足 (C) 資源豐富 (D) 宗教相同。
- () 34. 一帶一路計畫面臨到許多變數與問題，其中不包括下列哪一項？(A) 參與國面臨龐大債務負擔 (B) 中國左右參與國政治與經濟發展 (C) 參與國與中國發生利益糾紛 (D) 參與國引進大量國際移工。

※近年來，中國的經濟快速發展，由於生活改善與市場需求的大幅轉變，造成中國農牧業面臨轉型。請問：

- () 35. 受到全球化等因素影響，傳統自給性農牧業的轉變，下列何者不正確？(A) 商業化 (B) 專業化 (C) 糧食作物耕作面積增加 (D) 經濟作物耕作面積增加。
- () 36. 中國的農業多半採取「集約」的方式耕作，有關集約農業的敘述下列何者正確？(A) 通常發生在地狹人稠的地區 (B) 通常以商品化為生產目標 (C) 通常以機械來耕作 (D) 通常單位面積產量低，總產量高。

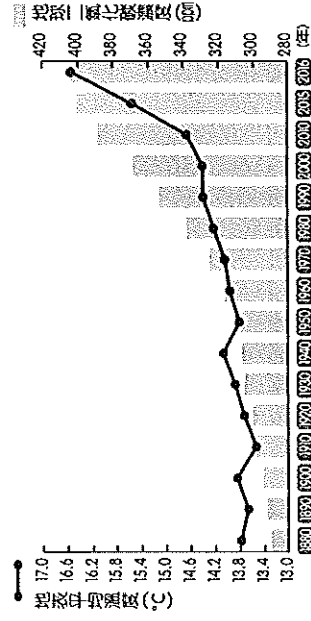
※經濟特區是指為了經濟發展需要而設立的特定區域，1979年7月起，中國陸續在深圳、珠海、汕頭、廈門和海南設置經濟特區。請問：

- () 37. 最早設立的經濟特區位於附圖中何處？
 (A)甲 (B)乙 (C)丙 (D)丁。



- () 38. 哪一個經濟特區距離臺灣最近，吸引許多臺商前往投資？ (A)廈門 (B)汕頭 (C)深圳 (D)海南。
 () 39. 經濟特區的工業類型，其性質最類似於臺灣哪一種工業區？ (A)加工出口區 (B)石化專業區 (C)科學工業園區 (D)資源型工業區。
 () 40. 這5個經濟特區具有下列哪一項共同的優越性？ (A)天然資源豐富 (B)對外交通便利 (C)資金相當充足 (D)技術非常先進。

※全球的氣候變遷已成為重要的環境課題，許多學者紛紛提出警告，若不再加以因應將導致嚴重的後果。附圖為專家學者觀測地球二氧化碳濃度、地表平均溫度後所繪製的圖表，請根據圖中資料回答相關問題：



- () 41. 圖中二氧化碳濃度不斷增加，影響了地球的自熱環境。請問：這和哪一種產業活動的發展關係最大？ (A)農業 (B)林業 (C)工業 (D)礦業。
 () 42. 由圖中可發現地球上二氧化碳的濃度增加，這將造成下列何種現象？ (A)高緯區可耕地面積減少 (B)低窪地區地層下陷嚴重 (C)高山冰川融化速度加快 (D)兩極地區海面下降。
 () 43. 隨著氣候的變化，下列哪一個地區的國家受到海面上升的威脅最大？ (A)歐洲 (B)亞洲 (C)大洋洲 (D)北美洲。

※「金磚五國」是指世界五個重要的新興市場，包括：中國、印度、俄羅斯、巴西及南非，其人口和國土面積在全球占有重要的份量。請問：

- () 44. 中國目前吸引了相當多的國際企業前往投資設廠，因此貿易額日漸擴大。中國吸引外資設廠的有利條件主要為下列哪些？ (甲)交通中樞 (乙)市場廣大 (丙)資訊流通 (丁)工資低廉
 (A)甲乙 (B)丙丁 (C)甲丙 (D)乙丁。

- () 45. 根據中國國家統計局資料顯示，上海市每人平均GDP為15,000多美元，而貴州省每人卻僅有4,000多美元。上述資料顯示出下列何種特色？ (A)中國經濟發展快速 (B)中國對外貿易額大 (C)中國內陸市場廣大 (D)中國區域發展不均。

- () 46. 中國GDP總額極高，位居世界第2位，但每人平均GDP卻遠低於世界各國。此現象和下列何者最為相關？ (A)平原狹小 (B)人口眾多 (C)政治型態 (D)沙漠廣大。

※中國的經濟發展由改革開放政策揭開序幕，然而由於各地發展的時間及條件各異，形成不同的發展差異。下列為該國主要四大經濟區分布圖。請問：



- () 47. 圖中哪一個地區因對外交通不便，經濟發展腳步較緩慢？ (A)甲 (B)乙 (C)丙 (D)丁。
 () 48. 圖中丙地區近年來具備下列何者有利條件，因此吸引東部的工廠遷移至此，成為未來發展潛力最被看好的地區，有利當地的經濟崛起？ (A)資金充沛 (B)市場廣大 (C)技術進步 (D)工資較低。

※西元2019年底，特斯拉在中國上海的超級工廠僅花一年時間就完工，特斯拉電動車就好像是規模放大的智慧型手機，生產線已經高度自動化，從料件運輸，到沖壓、組裝，車身產線的自動化已經高達95%，整座工廠裡面幾乎都只能看到一座一座的機器人手臂，特斯拉上海廠傾向建立本土化自主供應鏈，不過特斯拉上海廠供應鏈，不見得全以中國本土廠商為主，未來部分關鍵零配件，也有可能由臺灣廠商替代。請問：

- () 49. 中國是全球最大車市，智慧化電動車競爭激烈，特斯拉選擇在上海設廠，除了上海市政府的優惠措施外，最主要的原因是下列何者？ (A)最早改革開放 (B)水力發電充足 (C)消費市場廣大 (D)土地成本便宜。

- () 50. 由文中可知，受到中國經濟快速發展的影響，近年來前往中國投資設廠的臺商逐漸轉向以投資何種性質的產業為主？ (A)原料密集 (B)勞力密集 (C)資金密集 (D)技術密集。

【試題到此結束，請再檢查一次！】