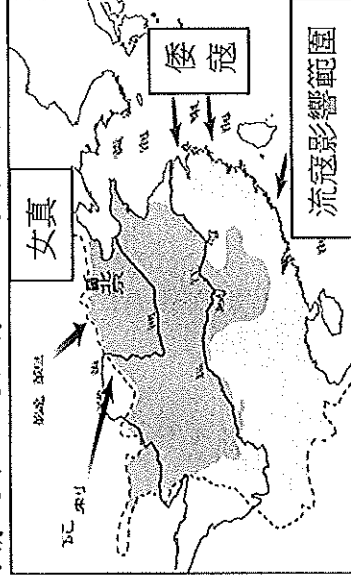


基隆市立武崙國民中學 109 學年度第一學期第二次段考社會(歷史) 科考試卷

年 班 座號： 姓名：

一、單選題：(90%)

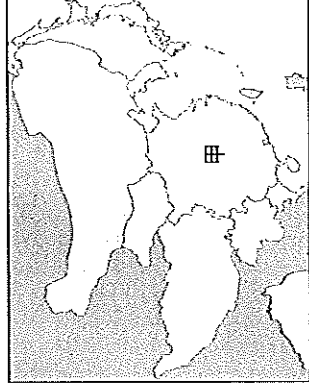
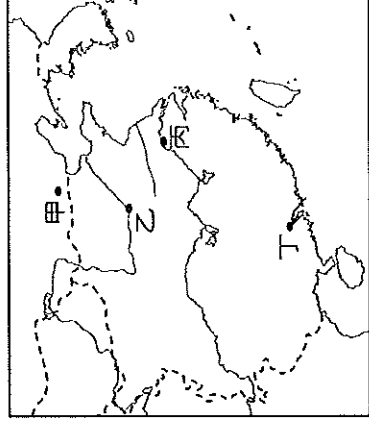
- () 1. 關於兩宋首都的位置，下列配對何者正確？(A)北宋—汴京；南宋—開封 (B)北宋—汴京；南宋—臨安 (C)北宋—臨安；南宋—汴京 (D)北宋—北京；南宋—南京
- () 2. 10 至 12 世紀的中國進入了多個政權並立的局勢，宋國與周邊國家形成多元的國際關係。下列有關宋國周邊國家與民族名的配對，何者正確？ (A)遼—女真，夏—党項，金—契丹(B)遼—契丹，夏—女真，金—党項(C)遼—契丹，夏—党項，金—女真，夏—女真，金—契丹，夏—党項 (D)遼—女真，夏—契丹，金—党項
- () 3. 小馬是宋朝時期四川地區的商人，當時由於銅錢笨重，不利於大量的商業貿易，他會考慮使用哪一種貨幣在四川境內進行買賣？(A)黃金 (B)交子 (C)會子 (D)白銀
- () 4. 元朝在各地廣設什麼機構，作為政府傳遞訊息、官員休息的場所。此一機構的設置也促進了歐亞等地貿易與貨物的流通？ (A)洋行 (B)商館 (C)市舶司 (D)驛站。
- () 5. 史學家黃仁宇認為：「從物質生活講，十二世紀的中國，無疑的已領先世界。」這主要是針對宋代哪一項特色而提出的看法？
- () 6. (A)兼容並蓄的多元文化 (B)科技發達與商業興盛 (C)統一幣制並通行全國 (D)開鑿運河使物資交流
- () 7. 一份歷史文告寫道：「自宋朝覆亡，北方外族入主中原，百年不到，天下大亂。我本是平民，被眾人推舉，率軍攻占金陵（今南京），再北上驅逐胡虜。色目（指西域的人）等雖為異族，但若衷心歸順，仍是中華子民。」以上敘述與下列哪一史事關係最密切？
- () 8. (A)宋元砲起兵反元 (B)鄭成功反清復明 (C)趙匡胤黃袍加身 (D)鐵木真創建蒙古國
- () 9. 據《東京夢華錄》記載，為滿足市民的夜生活，原先的坊市制、宵禁全無法再實施了，城裡出現夜市、早市。各稱店舖經常營業至三更方盡，五更又重新開張。上述城市現象最早出現在何時？
- () 10. 楊筱明到福建經商時，正巧遇到當地稻米歉收，許多人靠吃「番薯」才免於餓死。在歷史上，這種情景應該最早出現於何時？ (A)秦漢 (B)隋唐 (C)宋元 (D)明清。
- () 11. 當新航路發現後，東亞地區紛紛受到西方文化的衝擊。下列歐洲國家到東亞地區建立貿易據點的配對何者正確？ (A)荷蘭：菲律賓 (B)葡萄牙：澳門 (C)西班牙：澳門 (D)英國：臺灣南部。
- () 12. 亮亮想要製作〈中西文化交流〉的歷史報告，她應該引述下列哪兩項敘述？ (甲)蒙古西征將中國的造紙術西傳 (乙)清朝時小米、高粱等作物傳入，有效解決飢荒 (丙)明朝時耶穌會教士東來，他們引進西學以利傳教 (丁)鄭和下西洋帶動華人移民東南亞的潮流 (A)甲乙(B)乙丙(C)丙丁 (D)甲丁。
- () 13. 亮亮在《漫話中國歷史》一書裡，發現下列附圖，表示中國某一政權正面臨嚴峻的考驗，處於內憂外患不斷的情況下。這很有可能是哪個朝代的問題？



註：韃靼、瓦剌是指蒙古

- () 14. (A)唐代 (B)宋代 (C)明代 (D)清代
- () 14. 火藥在中國原本是煉丹的副產物，至唐朝後逐漸用於典禮煙火與軍事用途，至宋元時期已經成為戰爭利器。火藥傳入西方後，使城堡失去防禦功能，加速中古歐洲封建制度的瓦解。火藥傳入西方與下列哪個事件有關？ (A)蒙古西征 (B)市舶司的設立 (C)蒙古征服宋國 (D)掃馬西行朝聖
- () 15. 大清建國之後，陸續消滅反對勢力，不斷開拓疆域。請問：下列哪些地區是在清代時納入版圖的？ (甲)臺灣 (乙)朝鮮 (丙)日本 (丁)新疆 (戊)西藏 (A)甲乙丙 (B)甲丁戊 (C)乙丙戊 (D)丙丁戊。
- () 16. 蒙古帝國統治了歐亞大陸後，當時哪一個城市扮演著路上絲路與海上絲路的轉運站？ (A)泉州 (B)廣州 (C)汴京 (D)大都
- () 17. 中國東北的女真族，在 12 世紀時為東亞的霸主，後來為他族所滅，至 17 世紀再度崛起，入主中原。請問：這一個民族曾先後建立哪兩個政權？(A)遼、清 (B)金、清 (C)金、元 (D)遼、金。

- () 18. 威廉是位熱愛中國文化的外國人士，喜歡到中國各地旅行。若他想追尋《清明上河圖》中的風貌，拜訪右圖中的哪個城市可以達到目的？(A)甲 (B)乙 (C)丙 (D)丁
- () 19. 附圖為東亞「甲」王朝與周邊國家的形勢圖。在此王朝之前，周邊民族往往向中國稱臣朝貢，但此王朝卻與鄰國建立平等的國際關係，主因為「甲」王朝武力積弱不振，而周邊民族武力卻日益強大。附圖中的「甲」應該是下列何者？



- () 20. (A)唐朝 (B)宋朝 (C)元朝 (D)明朝
接上題，此王朝卻與鄰國建立平等的國際關係，主要源自雙方發生了哪一事件而導致此改變？
(A)靖康之禍 (B)聯金滅遼 (C)澶淵之盟 (D)蒙古西征
- () 21. 蒙古帝國稱霸亞洲之時，也改變了周邊國家與中原政權的互動關係。以高麗為例，其原本為中國的藩屬國，至元朝時則成為附庸國。上述的轉變，發生於哪一任大汗的期間？
(A)鐵木真 (B)窩闊臺 (C)蒙哥 (D)忽必烈
- () 22. 小花於暑假至琉球旅行時，看到一座牌樓，上面寫著「守禮之邦」，因此被稱為「守禮門」。關於琉球的相關描述，下列何者正確？ (A)日本於大化革新時，廢琉球藩 (B)牡丹社事件發生於琉球 (C)曾同時向中國與朝鮮朝貢 (D)學習明朝的科舉考試制度
- () 23. 清順治到康熙年間，朝廷曾強制沿海居民一律向內地撤退，濱海30里內的田園、房舍全部焚毀，並派兵駐守，以達到「片板不許下海，粒貨不許越疆」。當時清廷實施這項政策的主要目的，最可能是下列何者？(A)防備倭寇掠奪東南沿海區 (B)禁止居民與鄭氏政權往來 (C)阻止傳教士東來中國傳教 (D)朝廷欲獨占海外貿易利益。
- () 24. 「★」結束了日本的戰國時期，於16世紀末統一日本，並積極向外擴張，企圖建立以日本為中心的東亞新秩序。「★」所指，為下列何人？ (A)織田信長 (B)豐臣秀吉 (C)德川家康 (D)後藤新平
- () 25. 某國積極擴展其版圖，也因邊界問題多次與中國發生衝突。兩國直至1689年簽訂《尼布楚條約》，才確定邊界，平息糾紛。根據上文所述判斷，該國為下列何者？
(A)安南 (B)緬甸 (C)俄羅斯 (D)朝鮮
- () 26. 17世紀時，法國巴黎出版了拉丁文版的《論語》，其背景最可能為下列何者？
(A)絲路開通傳播中國文化 (B)帝國版圖擴大促進交流 (C)蒙古西征造成文化交流 (D)在中國的歐洲傳教士回國帶入中國典籍。
- () 27. 13世紀時，有著阿拉伯血統的巴夏爾，來到元帝國統治下的中國，生活了一段時間，留下一些生活紀錄。下列何者應是他的紀錄中會有的記述？ (A)陸路貿易多險阻，我只能由海路來中國進行貿易 (B)城市生活好國際化，我居然在杭州看到同鄉的樂團在表演 (C)身邊信仰伊斯蘭教的人不多，也沒有清真寺可以讓我去做禮拜 (D)做生意需要各地奔波，還好有市舶司，讓我有可以落腳休息的明末清初由於引進新的糧食作物，如玉米、馬鈴薯等，紓緩中國因人口壓力所引起的糧食問題。上述作物是由何處傳入中國的？ (A)歐洲 (B)亞洲 (C)美洲 (D)非洲
- () 28. 喜歡數學的小傑決定在歷史報告中介紹中國數學的發展，他發現中國居然有《幾何原本》的中譯本，最早由明朝的□□和傳教士利瑪竇合譯了前半部。上述空格為何人？(A)鄭和 (B)沈括 (C)徐光啟 (D)畢昇
- () 30. 亮亮趁暑假時到杭州探訪親戚時，意外看到一份祖先在明清之際的生活手記。在這份手記中，可能會出現何種內容？ (A)出門做生意時，紙幣最實用；銅錢、銀兩根本用不上 (B)我雖對天主教有興趣，但不准祭孔、祭祖，實在讓我左右為難 (C)閒暇時去逛夜市，一邊吃烤玉米和烤番薯 (D)大河聯繫東西水路交通，讓貿易非常興盛。
- () 31. 班上同學正在討論中國科技的發展。柏翔說：「早在唐代我們已經把火藥運用到戰爭中。」浩宇說：「火藥在張騫經營西域之後就西傳了！」楊明說：「中國活字版印刷術是沈括發明的！」筱荷說：「指南針的技術運用於航海，經蒙古西征傳入歐洲！」。請問哪一同學的說法是正確的？
(A)柏翔 (B)浩宇 (C)楊明 (D)筱荷。
- () 32. 老師講述中國歷史時說到：「這個民族是中國歷代邊疆民族中，漢化程度較淺的民族之一。他們入主中國後，為了保持統治地位，各級長官甚少任用漢族人士，對漢人採取高度控制的態度及手段，結

果引起漢人的不滿與反抗。」老師介紹的是下列哪一民族？(A)鮮卑族 (B)契丹族 (C)女真族 (D)蒙古族。

- () 33. 「因為明朝實施海禁政策，導致★在海上擁有廣大勢力，並前往日本、馬尼拉、澳門、大員等地與歐人貿易。除了從事商業行為外，也具備私有武力，儼然成為獨立勢力。」根據上文所述判斷，★可能為下列何者？(A)豐臣秀吉 (B)朱一貴 (C)鄭芝龍 (D)郭懷一
- () 34. 歷史老師要進習與元代歷史有關的隨堂測驗，許多同學忙著複習，下列關於同學們複習的內容，何者有誤？(A)魯夫：元帝國是蒙古族建立的 (B)香吉士：元帝國的建立者是成吉思汗 (C)騙人布：元帝國首都都在大都(今北京) (D)喬巴：元帝國是第一個統治整個中國的草原民族
- () 35. 13世紀，蒙古建立跨越歐亞的大帝國，但百年後蒙古帝國衰微，漢人也重建政權。請問：蒙古帝國瓦解之後，蒙古對中國的漢人政權採取何種行動？
- (A)向南侵擾 (B)通婚和親 (C)互不接觸 (D)通貢互市。
- () 36. 甲、滅西夏；乙、滅金；丙、滅南宋；丁、建立元帝國，以上均為蒙古族的重要史事，依時間先後排列為何？(A)甲乙丙丁 (B)乙丙甲丁 (C)丁甲乙丙 (D)甲乙丁丙。

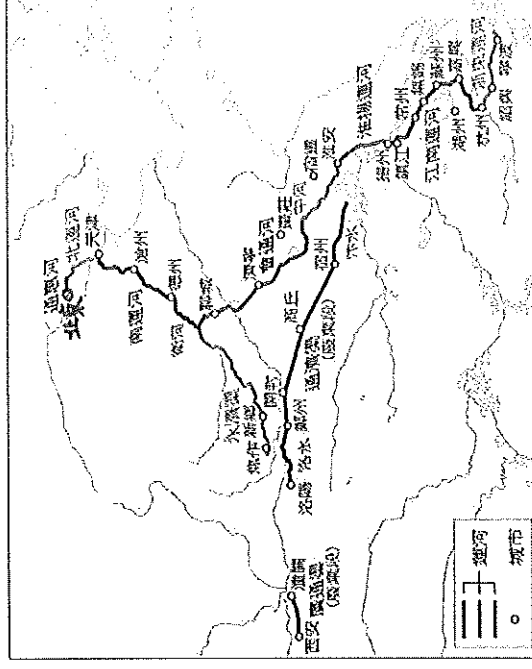
■ 宋元時期，得益於遠洋航海技術的發展，沿海城市頗為繁榮，某城市被譽為「東方第一大港」，因應興盛的貿易，宋代政府還在當地設立一個海關機構。到了元代，該城商業更為繁盛，來自海外的商人、僧侶、貴族絡繹不絕，阿拉伯商人尤多。事實上，阿拉伯人在當時傳布伊斯蘭文化，不但將其信仰帶入中國，在該城建立清真寺，其中有些人還受聘專門觀測天象，此外，有些從事醫療工作的阿拉伯人還被稱為「回回醫生」。

請依本文回答[37]、[38]題：

- () 37. 依據本文的內容判斷，某城市應為下列何者？(A)大都 (B)汴京 (C)泉州 (D)上海。
- () 38. 根據上文，阿拉伯人對元帝國的影響主要在下列哪些方面？甲、宗教；乙、醫學；丙、天文；丁、農業 (A)甲 (B)甲乙 (C)甲乙丙 (D)甲乙丙丁。
- () 39. 惠君導演正在策畫一部以中國宋元時期海上貿易大城市為背景的相關電影，他需要到哪一個城市拍攝，才能還原歷史的場景？(A)上海 (B)泉州 (C)大都 (D)杭州
- () 40. 宸漢是生活在元朝大都的商人，當時他有一批貨物在大都，需要透過大運河的輸送，將貨物販運到大運河終點的城市。請問這批貨物是要運送到何處？(A)上海 (B)泉州 (C)杭州 (D)廣州
- () 41. 明朝航海家鄭和，曾經多次航行，某地國王獻上長頸鹿以為貢品，由於從未見過這種生活在熱帶的動物，因此當時的中國人將其稱為「麒麟鹿」。請問：他的遠航創下中外歷史的新紀錄，從當時鄭和首航起點江蘇省出發，追尋鄭和當時遠航的路線。請問：他們的行程不可能經過下列何處？(A)馬來西亞 (B)東非 (C)朝鮮 (D)阿拉伯。
- () 42. 以下是中國某朝代首都的簡介：「這是一座依計畫興建的城市，城中可見基督教教堂、伊斯蘭教清真寺及佛教寺廟。朝廷聘用穆斯林擔任財政官員，並推行全國性紙幣政策，加上各地物資的集中，讓這座城市成為金融經濟中心。」上述城市最可能是指下列何者？(A)唐代長安 (B)北宋汴京 (C)南宋臨安 (D)元代大都
- () 43. 「這個時代，東亞地區充滿了變動；歐洲諸國先後來到東亞，建立商貿與傳教據點，造成不少衝擊；日本幕府為了鞏固統治，實施鎖國；至於中國，來自東北的民族建立新王朝，並對反抗勢力施行海禁政策。」上文雙底線處最可能是指下列何者？
- (A)臺灣民主國成立 (B)朱一貴結黨起兵 (C)郭懷一號召漢人抗爭 (D)鄭成功家族反清復明
- () 44. 明代的朝貢體制中，周邊的國家經常到中國納貢貿易表示臣服，成為明帝國的藩屬國，請問：以下哪一國家不可能在此時到中國來進行朝貢貿易？(A)日本(B)安南(C)朝鮮(D)琉球
- () 45. 請判斷下面敘述和圖表，回答問題。請問：從隋 唐到元 明 清，大運河的走向有著巨大的改變，可能是因為何種原因？(A)有效平定內亂(B)促進東西交流(C)對抗不同外族(D)歷代定都各異

● 歷史上的大運河先後主要有兩條河道，一條河道是隋煬帝楊廣時期開鑿的隋朝大運河，以聯絡首都長安（今西安）。另一條河道則是元世祖 忽必烈時期開鑿的元朝大運河。明朝初年，又先後兩度疏浚會通河，這才形成了明清時期勾連起北京地區與江南地區的京杭大運河。從隋 唐到元 明 清，大運河的走向有著巨大的改變，可明顯看出一個「由彎變直」的過程。

參考資料：〈京杭大運河為什麼「由彎變直」〉



基隆市立武崙國民中學 109 學年度第一學期第二次段考社會(歷史) 科考試卷

年 班 座號： 姓名：

一、單選題：(90%)	二、非選擇題(10%)	總分

二、非選擇題(10%)(請用黑色或藍色原子筆書寫)(每小題 2 分)

第一大題：

《燕行錄》

以下是歷史書籍《燕行錄》的簡介：

歷史學者習慣將朝鮮使者的見聞稱為《燕行錄》，燕是北京的古稱，可以簡單地將此理解為「前往北京的紀錄」。值得注意的是，這種稱呼只流行於清代。對於景仰明帝國的朝鮮人而言，朝見天朝上國的行旅，要稱為《朝天錄》。

那麼，一個生於 16~18 世紀時期的朝鮮人，他腦海中的「世界」是什麼樣子？

明清時期，「朝鮮使節團」連年以三百人的規模，浩浩蕩蕩地來到中國。這趟行程長達 1,200 公里，使節團沿著鴨綠江，需要 40~60 天，才能穿過山海關，來到北京。

朝鮮使節竭力蒐羅關於中國的書籍、文獻，裝箱封存，運回朝鮮。朝見天朝是莫大的文化工程，向朝鮮輸入中國新知。在他們眼中，明帝國並非積弱不振，反而是援救朝鮮免於日本攻占的強盛國家，中華文化以及中國製造的布疋、貨物與商品更是備受推崇，每逢朝鮮使節團出訪中國，都是一趟滿載而歸的高貿交流。

然而，隨著明清改朝換代，朝鮮的世界觀也產生了劇烈的改變！對於滿人入主中原，朝鮮人與明帝國的遺民們同仇敵愾。他們認為滿族建立的清帝國，是以「夷人」身分統治中國的野蠻國家，對此充滿鄙夷。所以，派遣至清帝國的朝鮮使節，稱呼也有所改變，從「朝天使」改為「燕行使」。

請根據你的歷史知識，回答下列的問題：

1. () 根據本文，朝鮮派往明帝國的使節，正式稱呼應該是？

(A) 朝天使 (B) 朝明使 (C) 朝鮮使 (D) 燕行使。

2. () 我們可以怎麼解釋「燕行使」這個名詞？

(A) 代表朝鮮派往中國的所有使者

(B) 只能代表北京派往朝鮮的使者

(C) 反映朝鮮對清帝國地位的不認同

(D) 清帝國取代明帝國後主動要求改稱。

3. 文中的哪一段話，最能體現明帝國的朝貢貿易體制？(請節錄)

答：【

第二大題：

資料甲：

有一首敘述民歌〈木蘭辭〉講述木蘭代父從軍的故事。出發前，她採買了她的行頭：「東市買駿馬，西市買鞍韉，南市買饅頭，北市買長鞭」，在各個集市購買從軍的商品，各集市有固定的開放與營業時間。

資料乙：

義大利商人馬可波羅到了泉州有此描述：「大可汗從這個城市收穫極大的稅額，所有從印度來的船，要付 10% 的稅額」，而其他如胡椒、沉香木、檀香木等商品，則要收取 40% 的運費。」此外，泉州還建有中國第一座清真寺。

資料丙：

南宋偏安一隅，有文人懷念北宋的京城：「每個巷弄皆有茶坊、酒店，還有雜耍人賣藝的場所。商人通常會在店鋪購買飲食，不自己烹飪。□□到了半夜三更(晚上十一點到凌晨一點)才打烊，到了五更(凌晨三點到五點)又開張」

1. 資料乙中，馬可波羅描述泉州商稅的收取，請問：此地收稅的單位源自唐代的何種機構？【

2. 依據資料甲乙丙，對這些城市的敘述，三者的時間順序為何？【

★此試卷需交回★