

基隆市立武崙國中 109 學年度第一學期 第二次段考 七年級社會科試卷—歷史科

電腦讀卡，請使用 2B 鉛筆，並依據題號在答案卡上作答，答案卡無法判斷身分者，扣總分 10 分

範圍：第一冊 L.3~L.4 本試卷共 42 題 共 4 面 班級：_____ 座號：_____ 姓名：_____

*單選題 (第 1~26 題，每題 2 分；第 27~42 題，每題 3 分)

1. 歷史老師要同學發表十七世紀時臺灣的發展狀況，下列哪位同學發言完全正確？

- (A)  荷蘭統治時期，可以完全控制全島。
- (B)  原住民被征服，沒有建立政權。
- (C)  在這個時期，有數個勢力競逐臺灣。
- (D)  此時期的臺灣尚未進入歷史時代。

2. 今日淡水地區有為數不少的天主教信徒，天主教在淡水的傳播可以追溯至西元十七世紀，當時所建成的玫瑰聖母堂可以說是最早的教會。該宗教的傳播與下列哪個國家殖民臺灣有關？ (A) 葡萄牙 (B) 荷蘭 (C) 西班牙 (D) 日本

3. 大約在 16~19 世紀的北臺灣地區，有一群人被認為是凱達格蘭族支系的原住民，他們除了語言能力好，並擅長漁獵、操舟，和外人接觸頻繁。請問：上文中提到的原住民，應該是下列何者？

(A) 麻荳人 (B) 馬賽人 (C) 噶瑪蘭人 (D) 新港人

4. **承上題**，漢人多至此交易原住民的何項商品？ (A) 稻米 (B) 蔗糖 (C) 小米 (D) 硫磺

5. **右圖**為清朝某一皇帝與官員討論事情的畫面，請問，圖中的皇帝應為下列何者？



(A) 順治 (B) 康熙 (C) 雍正 (D) 乾隆

6. **承上題**，這樣的對話應是發生在以下何時呢？

(A) 16 世紀初 (B) 16 世紀末 (C) 17 世紀初 (D) 17 世紀末

7. 清帝國早期，臺灣社會有一句俗諺：「無田宅、無妻子、不土不農、不工不賈、嫖賭偷竊、械鬥樹旗，靡所不為。單身遊食四方，隨處結黨，且衫褲不全，赤腳終生。」請問：這是描述早期臺灣哪一種身分的生活寫照？

(A) 巫師 (B) 知識分子 (C) 傳教士 (D) 羅漢腳

8. 清帝國時期政府為了解決漢番衝突，乃以劃分「特定區塊」的方式限制漢人開墾、伐木，但因執行不徹底，成效有限。此「特定區塊」的名稱為？ (A) 番界 (B) 保護區 (C) 限制區 (D) 漢界

9. **承上題**，以下哪一地名與此「特定區塊」**無關**？ (A) 新北市土城區 (B) 台中市石岡區土牛里 (C) 基隆市中正區和平島 (D) 台北市北投區石牌

	康熙	雍正	嘉慶
府	1	1	1
縣	3	4	4
廳	0	2	3

10. **右表**是整理自清朝的地方行政區劃變遷圖，這些數據的演變具有何種意義？

(A) 海盜盛行官民恐懼 (B) 人口漸多需加強統治 (C) 證明台灣北方開發程度優於南方 (D) 教育事業遍及全臺

11. 「因苛政擾民，激起民變，肇事者揭竿起義，自稱『中興王』，建號『永和』，發表

反清復明的文告，恢復明朝髮式服飾，大封其黨眾，全臺震動。」上文所述的事件發生於康熙 60 年，此事件為以下何者？ (A) 郭懷一事件 (B) 林爽文事件 (C) 鄭克塽事件 (D) 朱一貴事件

12. 西元 1888 年的政府公告說：計畫於臺北府城設局開辦郵政事務，並准許商人平民照章買票，附遞信件。請問：這個公告的歷史背景為何？ (A) 臺灣開港後，英國人計畫在臺灣設立郵局 (B) 劉銘傳來臺擔任巡撫，創辦郵局等新政 (C) 荷蘭治理臺灣時期，首度將新式郵局制度引進臺灣 (D) 沈葆楨來臺建設時，致力推動郵政制度，改善臺灣通訊

13. 花蓮縣玉里鎮舊名樸石閣，這裡盛產羊羹以及 Q 彈可口的玉里麵。此地也是登山客群聚之處，這些登山客很多是為了要從玉里經八通關古道通往南投竹山的。請問，這條古道的設置與下列那個歷史事件有關？ (A) 霧社事件

(B) 清法戰爭 (C) 牡丹社事件 (D) 甲午戰爭

14. 顯至在古物市場中買到一份古文書，他請教歷史老師，發現這是一份荷治時期漢人與原住民買賣土地時簽訂的雙語契約。請問：此契約中的雙語，應該是指哪兩種語言？ (A)漢文、新港文 (B)漢文、荷蘭文 (C)荷蘭文、新港文 (D)新港文、羅馬文



15. **右圖**是臺灣在 1640 年代出現的一幅景象，圖中原住民所說的「動物」應是下列何者？

(A)獼猴 (B)黑熊 (C)梅花鹿 (D)水牛

16. 過去臺灣有句俗語說：「有唐山公，無唐山媽。」此句話代表的意義為何？

(A)早期移民臺灣者大多是女子 (B)早期移民臺灣者大多是男子 (C)早期移民臺灣者能存活的大多是女子 (D)早期移民臺灣者能存活的大多是男子

17. 瑞龍是清代雍正時期的臺灣人，他想從打狗到雞籠旅遊。請問：其路線順序應為下列何者？

(甲)淡水廳；(乙)彰化縣；(丙)鳳山縣；(丁)諸羅縣；(戊)臺灣府

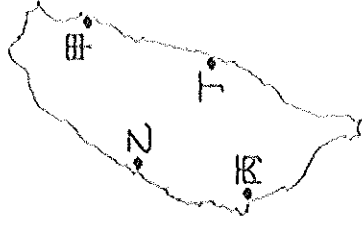
(A)戊乙甲丙 (B)乙戊甲丙 (C)丙戊丁乙甲 (D)丙戊丁甲乙

18. 清朝將臺灣納入版圖，卻在經歷了兩百年後才開始積極治理臺灣。清廷此一政策的轉變與下列哪個原因有最直接的關係？ (A)臺灣物產連年豐收 (B)瘟疫傳播無法控制 (C)外來勢力不斷侵略 (D)臺灣人民強烈要求

19. 《漫畫臺灣史》中有如**右圖**的敘述。請問，這和哪位大臣的建議有關？

(A)吳沙 (B)沈葆楨 (C)施琅 (D)劉銘傳

20. 《臺灣府志》〈土番風俗〉提到：「自紅彝以來，習其字能書者，謂之『教冊』，凡出入之數，皆經其手，用鴉管削尖，濡墨橫書，自左而右，非直行也。」文中所提到的「教冊」，其背後的歷史意義為何？ (A)荷蘭人以荷蘭文字教授臺灣原住民識字 (B)荷、西兩國教導台灣人民識字是為求方便治理 (C)荷蘭人以羅馬拼音教導原住民寫出他們自己的語言 (D)臺灣原住民為了與荷蘭及西班牙溝通而自己發明的文字



21. 清廷因施琅的據理力爭而將臺灣納入版圖。請問：施琅能得以「力爭」是因為下列何事造成？

(A)平定民變 (B)擊退荷蘭人 (C)擊敗鄭氏政權 (D)掃蕩海盜勢力

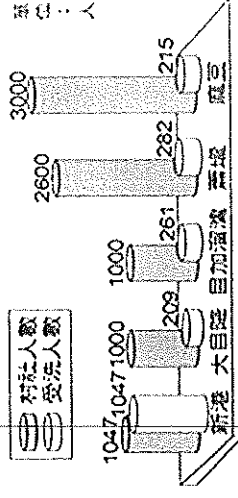
22. 皓峻是雍正年間的商人，他在當時臺灣最繁榮的府城經商致富。如果我們要探尋他的經商地，應至**右圖**中的何處？ (A)甲 (B)乙 (C)丙 (D)丁

23. 從清帝國時期對臺灣行政區劃的調整，可以看出臺灣的開發方向為何？

(A)以臺灣中部為中心向南北同步發展 (B)由南向北逐漸開發 (C)由東部向西部逐漸擴張 (D)由北向南逐漸開發

24. **右圖**是荷蘭統治臺灣時期，對原住民傳教成果的統計。由圖中內容，我們可以解讀下列哪項訊息？

(A)新港社原住民的宗教信仰改變最小 (B)荷蘭人使用武力脅迫人民改變信仰 (C)各原住民社群皆有人接受新的宗教 (D)原住民社群受洗者的人數日漸降低

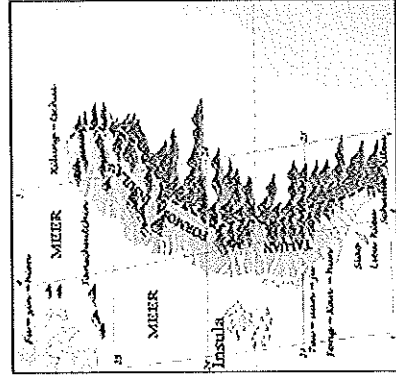


25. 清帝國早期，藍鼎元隨堂兄藍廷珍來臺平定朱一貴事件，並提出一個主張：

「諸羅地方遼闊，鞭長莫及，應畫虎尾溪以北，另設一縣，駐紮半線。」因此一建議，清廷增設了哪一行政區？

(A)淡水廳 (B)恆春縣 (C)彰化縣 (D)卑南廳

26. **右圖**是清康熙年間由西洋傳教士繪製的臺灣地圖。此圖只繪製臺灣西半部，反映出當時清廷治臺的何種政策？ (A)禁絕漢人渡臺，防止臺灣成為反清基地 (B)施行劃界封山，禁止漢人入侵原住民區 (C)開港通商，設定西半部為對外貿易據點 (D)加強建設西半部，使該地成為海市重鎮



題組

(一)請閱讀以下文章，回答第 27~29 題

以下為某歐洲商人在荷蘭占領臺灣時所遺留下來的片段生活日記，請先閱讀後再回答以下問題：

〈8月1日〉

荷蘭東印度公司今天轉達北方國家要購買士兵盔甲內的防護材料，但是最近貨源不多，不知道麻豆社的當地人最近收穫如何？

〈9月10日〉

從麻豆社回來的頭家今天告訴我，這幾年獵物的蹤跡越來越難發現，麻豆社的壯丁們得往靠近山的那一頭追蹤獵物，只是這樣一來可能會遇到那群兇猛的人，這個風險很高……唉，看來東印度公司需要的皮毛量可能無法達成了！

27. 從日記中，歐洲商人提到荷蘭東印度公司要買士兵盔甲內的「防護材料」，你認為可能是以下何者？

(A)樹皮 (B)動物的脂肪 (C)動物的皮毛 (D)動物的獸骨

28. 從日記中，你認為歐洲商人提到的「麻豆社當地人」可能是以下哪個臺灣平埔族？

(A)噶瑪蘭 (B)西拉雅 (C)道卡斯 (D)凱達格蘭

29. 此一歐洲商人的生活日記應該是在以下哪段時間駐留台灣時所記載的呢？

(A)15世紀 (B)16世紀 (C)17世紀 (D)18世紀

(二)請閱讀以下文章，回答第 30~31 題

道光十五年（1835年），噶瑪蘭通判柯培元曾有一首〈熟番歌〉：「人畏生番猛如虎，人敢熟番賤如土，強者畏之弱者欺，無乃人心太古，熟番歸化勤躬耕，山田一甲唐人爭，唐人爭去餓且死，番悔不如從前生，……。」請利用這段資料，回答下列問題：

30. 從上文中可了解下列哪一項史事？ (A)漢人侵墾生番土地的情形很嚴重 (B)漢人侵墾熟番土地的情形很嚴重 (C)漢番相處融洽，沒有衝突 (D)漢人教導熟番農耕技術，使熟番從不會農耕學會耕作

31. 此時政府對生番的態度為何？ (A)將生番視為敬畏崇拜的對象 (B)對生番、熟番一視同仁 (C)將生番視為化外之民，採行劃界封山政策 (D)企圖教化生番為漢民

(三)請閱讀以下文章，回答第 32~35 題

此為清同治年間某對外條約的內容，請回答下列問題：

一、日本國此次所辦，原為保民義舉起見，中國不指以為不是。

二、前此所有遇害難民之家，中國定給撫卹銀兩。日本所有在該處修造、建房等件，中國願留自用。

三、所有此事兩國一切往來公文，彼此撤回註銷，永為罷論。

32. 此對外條約的簽訂，是由於下列哪一事件的發生？ (A)日本實施鎖國政策 (B)清廷將臺灣納入版圖

(C)日本出兵臺灣南部 (D)中日爆發甲午戰爭

33. 上文條約中的第二條所提到的「該處」最接近今日何地？ (A)基隆 (B)淡水 (C)恆春 (D)澎湖

34. 上文條約中，清廷承認日本的出兵行為是「保民義舉」，讓日人有藉口聲稱何處為日本所有，而加以併吞？

(A)恆春 (B)澎湖 (C)蘭嶼 (D)琉球

35. 此條約的簽訂主要與下列哪一原住民部落息息相關呢？ (A)麻荳社 (B)新港社 (C)牡丹社 (D)大肚社

(四)請閱讀以下文章，回答第 36~37 題

臺灣在 17 世紀時有一個原住民部落聯盟，其勢力範圍主要在今日的臺中市、彰化縣和南投縣的一部分。當荷蘭人統治臺灣時，雙方爆發衝突，最後該組織妥協接受荷蘭人統治，因而失去獨立地位。到鄭氏時期，遭到鄭軍強力鎮壓，該組織逐漸式微，至 18 世紀已消失瓦解。請問：

36. 上文中提到的聯盟，其共主應該是下列何者？ (A)台灣王 (B)馬賽王 (C)大甲王 (D)大肚王。
37. 該聯盟共主若接受荷蘭人統治，會在何種場合公開獲得權杖以象徵權威與榮耀？ (A)教會禮拜 (B)荷蘭商館 (C)地方會議 (D)部落祭典

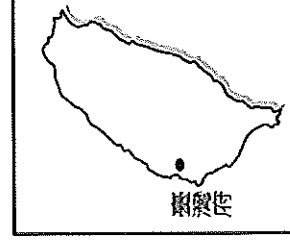
(五)請閱讀以下文章，回答第 38~40 題

清朝光緒皇帝在位期間，有一位官員奉派來臺處理某件重大危機的善後工作。他除了在億載金城建設新式炮臺加強防務，又「奏設臺北府，隸縣三」，他還為鄭成功請益、建祠，以「(振)作臺民忠義之氣」，繼他之後來臺的官員，則為首任巡撫。請問：

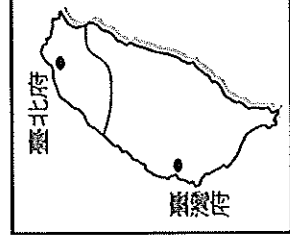
38. 文章開頭所述，在光緒皇帝期間，有一位官員在億載金城建設新式炮台加強防務，請問，此一官員是為以下何者？ (A)施琅 (B)沈葆楨 (C)陳永華 (D)劉銘傳
39. 下列何者最有可能是文中所指的「重大危機」？ (A)英法聯軍 (B)日軍侵臺 (C)中法戰爭 (D)海盜騷擾
40. 文末所述的首任巡撫應為下列何者？ (A)沈葆楨 (B)鄭成功 (C)劉銘傳 (D)施琅

(六)請閱讀以下文章，回答第 41~42 題

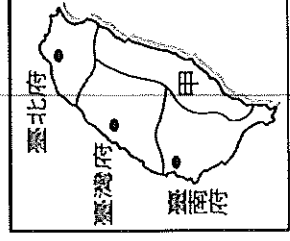
附圖是十七至十九世紀的臺灣行政區演變圖。請問：



圖(一)



圖(二)



圖(三)

41. 由圖(一)演變成圖(二)，是在經歷了哪個國家的人侵之後？ (A)英國 (B)日本 (C)法國 (D)荷蘭
42. 圖(三)中「甲」行政區的名稱為何？ (A)卑南廳 (B)噶瑪蘭廳 (C)臺東直隸州 (D)恆春縣