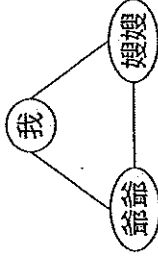


基隆市立武崙國民中學 109 學年度第一學期七年級公民科第二次段考試題

一、單選題：(1-5 題每題 2 分，6-35 題每題 2.5 分，選擇題共 85 分)

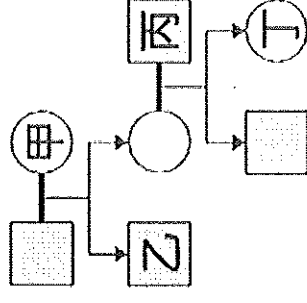
- () 1. 阿泰家庭的成員很單純，只有爸爸、媽媽、姊姊和阿泰，也由於家庭成員單純，平常會用到的稱謂不多，所以每到家族聚會時，很多長輩的稱謂一時之間會想不太起來。今年過年前，阿泰特別用心地整理了一份稱謂與親屬關係的筆記，卻只有一個是正確的。請幫阿泰看看，下列哪一項筆記是正確的？(A)大舅舅是爸爸的哥哥 (B)外公是我的旁系血親 (C)小阿姨是媽媽的妹妹 (D)我和伯父是姻親關係

- () 2. 依附圖，三者之間包含哪兩種親屬關係？



- () (A)收養、血親 (B)姻親、配偶 (C)姻親、妯娌 (D)血親、姻親
- () 3. 財團法人天主教福利會自民國六十年起迄今，已經為 1,400 多位失依兒童、早產兒、發展遲緩及身心障礙兒童，安排合適的收養家庭。上述收養家庭中的收養人與被收養人，在法律上屬於哪種親屬關係？(A)自然血親 (B)直系血親 (C)姻親 (D)法定血親
- () 4. 大立自在自傳中寫道：「我生長在一個祖孫家庭中。」由此可知，下列何人並未與大立同住？(A)大立的祖父母 (B)大立的父母 (C)大立的妹妹 (D)大立的弟弟
- () 5. 有學者提出呼籲，提醒現代疼愛子女的父母：「先做孩子的監護人，再做孩子的朋友」，並強調父母有規範孩子行為的責任，以建立孩子生活紀律及是非觀念。這位學者在強調家庭的哪一項功能？(A)生育功能 (B)教育功能 (C)經濟功能 (D)保護與照顧功能
- () 6. 某雜誌調查統計，有近六成的家長，每天有四個小時以上和孩子相處的時間，但是進一步探討親子相處時間的品質，除了做功課，就是看電視。聊天的話題不是「課業」就是「學校」，而孩子最想和父母聊的是「心情」和「情緒」，但好像不得其門而入。這表示家庭的哪個功能是現代孩子所渴望得到的？(A)教育功能 (B)保護與照顧功能 (C)經濟功能 (D)生育功能
- () 7. 下列關於兩性相處時的一些想法與表現，哪種方式最容易引起衝突或不愉快？(A)兩性相處的基本原則是相互尊重 (B)夫妻雙方應共同負起照顧家庭的責任 (C)擺脫「男主人、女主人」的傳統刻板印象，共同分擔家務 (D)男生在所有能力條件上較優於女生，所以事情都應該由男生決定即可
- () 8. 孩童受虐事件時有所聞，嚴重者甚至因而失去生命。身為父母應如何管教子女才較適當？(A)盡量滿足孩子的所有要求 (B)適度的管教，給予他發展空間 (C)嚴厲的懲罰可以使孩子不再犯錯 (D)只要不觸犯法律，任何行為都是被允許的
- () 9. 家庭暴力事件層出不窮，對於當事人也造成極大的身心傷害。下列有關家庭暴力事件的敘述，哪一項正確？(A)只會發生在比較窮困的家庭中 (B)家醜不可外揚，因此家暴事件與他人無關 (C)其包括身體和精神上的不法侵害行為 (D)目前仍無相關法律可以規範家庭暴力事件
- () 10. 臺灣社會的老年人口比例愈來愈高，政府的各項福利政策及措施都必須考量到社會的現狀。隨著高齡化社會的來臨，臺灣社會可能面臨何種問題？(A)貧富差距擴大 (B)老人安養問題 (C)離婚率升高 (D)幼兒照顧問題
- () 11. 因為社會階級與薪資結構不平衡，促使年輕人不願承擔社會、家庭責任，造成晚婚、低生育率的普遍現象；婦產科醫師說，生殖最大的殺手即是老化，會嚴重影響生殖功能。這樣的發展「弱化」了哪一項家庭功能？(A)生育功能 (B)經濟功能 (C)教育功能 (D)保護與照顧功能
- () 12. 英國研究指出，儘管夫妻雙方在家事分配的差距有所減少，但女性還是要比男性每天多花 74 分鐘在家事上。夫妻能夠在家務分工上做好合理的分配，有助於下列何者的達成？(A)落實夫妻平權 (B)保障子女權益 (C)維護父母管教權 (D)離婚率的提高
- () 13. 我國社會進入高齡化，並以小家庭的家庭型態居多，因此政府不斷宣導三代同鄰的孝養觀念，並提供三代同堂的家庭可以優先承租國宅的機會。上述主要在解決現代家庭所面臨哪項新考驗？(A)離婚率的提高 (B)跨國婚姻的增加 (C)幼兒照顧的壓力 (D)老人安養與照顧

() 14. 附圖為曉明的家庭示意圖，曉明與朋友聊天中提到，自己與家中成員的關係皆為血親關係。若以代表男性，代表女性，線段代表婚姻關係，箭頭代表親子關係，則曉明最可能是圖中哪一個位置？



(A) 甲 (B) 乙 (C) 丙 (D) 丁

() 15. 小南向好友抱怨：「晚餐後，爸爸總是叫我去看書寫作業，自己卻跟人打麻將，在這麼吵雜的環境下，我怎麼能唸得下書？」依此內容判斷，小南的家庭哪項功能明顯不彰？

(A) 生育 (B) 教育 (C) 經濟 (D) 保護與照顧

() 16. 小蘭從小父母離異，由爸爸帶大。在她 3 歲時，爸爸娶了工作上的夥伴，繼母和爸爸在小蘭 10 歲時生下一子小新。關於上述四人的親屬關係，何者錯誤？

(A) 直系血親：小蘭和爸爸 (B) 法定血親：小蘭和繼母 (C) 自然血親：繼母和小新 (D) 旁系血親：小蘭和小新

() 17. 請問，保護令是依據下列哪項法律所核發的命令？

(A) 《社會救助法》 (B) 《家庭教育法》 (C) 《性別平等教育法》 (D) 《家庭暴力防治法》

() 18. 關於「育嬰假」相關規定，下列何者錯誤？ (A) 只有女性員工可以請育嬰假 (B) 育嬰假的申請必須在子女滿 3 歲前 (C) 育嬰假最多只能請兩年 (D) 依據性別工作平等法的規定，員工可以申請育嬰假

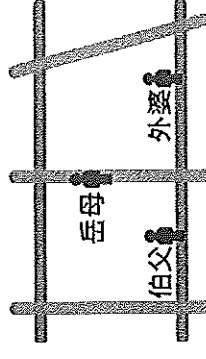
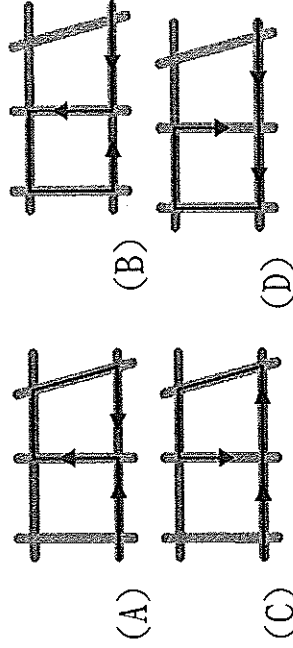
() 19. 關於建立平權的家庭，下列哪一項做法較為適當？ (A) 父母有權為孩子決定一切事務 (B) 家庭中經濟由丈夫擔負，家務則由妻子負責 (C) 父母對未成年子女重大事項權利行使意見不一致時，可請求法院以子女最佳利益裁定 (D) 子女即使曾被父母家暴，仍不得請求減輕扶養義務

() 20. 少子化及高齡化的社會現象愈顯著，政府應盡速規畫並落實何種政策，才能減少社會問題的發生？ (A) 提高教育品質 (B) 強化國防武力 (C) 完善社會福利 (D) 促進族群融合

() 21. 家庭暴力的受害者可以依(甲)法向法院聲請限制或禁止父母行使親權，更可依法向；(乙)單位聲請保護令。上述提及的(甲)、(乙)分別為何？

(A) 《民法》、法院 (B) 《民法》、警察局 (C) 《憲法》、社會局 (D) 《憲法》、社會局

() 22. 力豪慢跑時遇到了三位親戚，相遇地點附圖所示。若力豪與這三位親戚相遇的先後順序為旁系血親、直系血親、姻親，則他的慢跑路線最可能為下列何者？



() 23. ㊟是指行使、負擔未成年人養育照顧的權利及義務，根據㊟的規定，在此項權利與義務上，夫妻平等。上述㊟、㊟，依序應為下列何者？

(A) 監護權、《憲法》 (B) 親權、《民法》 (C) 探視權、《民法》 (D) 管理權、《憲法》

() 24. 林先生夫妻兩人決定要收養一個小女孩、一圓為人父母的心願。請問：收養程序應至下列哪一個機關辦理？ (A) 法院 (B) 市政府 (C) 警察局 (D) 區公所

() 25. 對多數人而言，下列何者是最早接觸的團體？ (A) 家庭 (B) 學校 (C) 政府 (D) 國家

() 26. 家庭成員中的人際關係構成了各種親屬關係。其家庭成員間的親屬關係，都規定在下列何種法律中？ (A) 《憲法》 (B) 《民法》 (C) 《性別平等教育法》 (D) 《性別工作平等法》

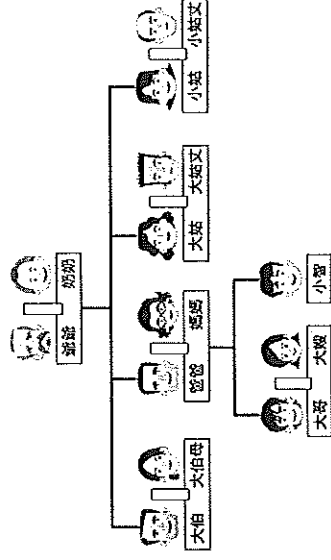
() 27. 正男與美杏夫妻兩人，因為工作的緣故、分別居住在臺北與高雄，上述家庭的型態稱為下列何者？ (A) 核心家庭 (B) 三代家庭 (C) 兩地家庭 (D) 單親家庭

() 28. 下列是針對臺灣社會中的家務勞動所做的敘述，請找出不符合當前社會的真實現況？

(A) 包含煮飯、打掃、教育子女等事項 (B) 「男主外、女主內」的思維妨礙男性在職場上的參與 (C) 分工不均易使婦女難以兼顧工作與家庭 (D) 受性別刻板印象的影響，家務勞動多由女性承擔

二、題組：

1. 附圖為小智家的親屬關係圖。請問：



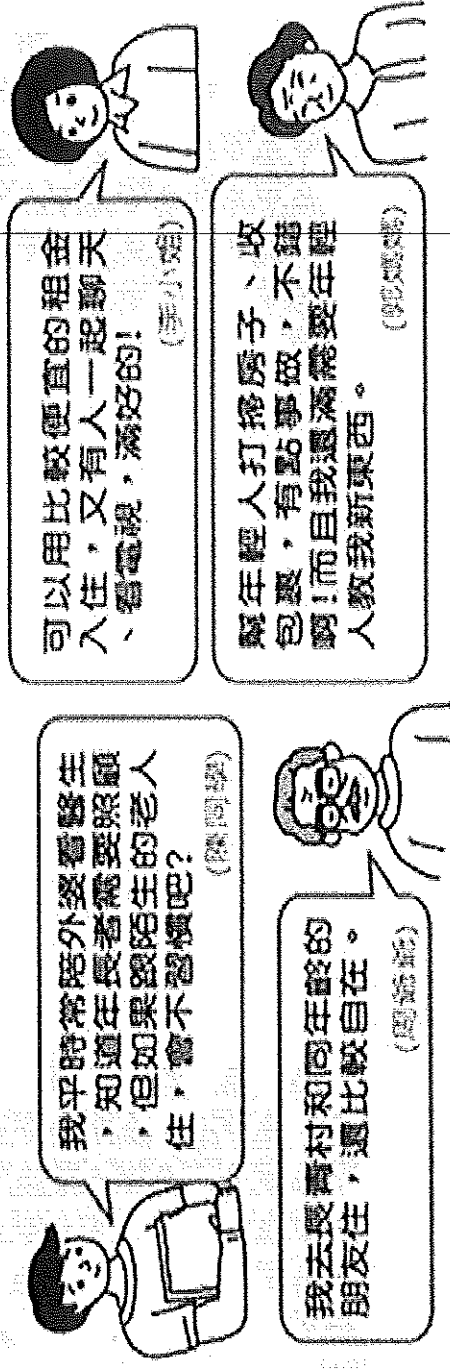
- () 29. 依據附圖判斷，下列何者與小智沒有血緣上的關係？
 (A)大伯 (B)大姑 (C)大哥 (D)小姑丈
- () 30. 依據附圖判斷，哪兩個人彼此之間的關係稱為「連襟」？
 (A)小智與大嫂 (B)小智媽與大伯母 (C)大姑丈與小姑丈 (D)大姑與小姑丈
2. 星期六阿瑜的媽媽參加社區媽媽聚會，無法在家準備晚餐，由爸爸下廚。阿瑜的爸爸煮了一桌海鮮大餐，媽媽很開心的對爸爸說：「老公，你菜煮得這麼好，當個家庭煮夫也沒問題了。」阿瑜和姊姊兩人今年分別要從國中及高中畢業，阿瑜說：「爸，國中畢業後，我想要去唸護專。」爸爸沉默不語，姊姊接著說：「媽，我想要繼續升學，我的目標是唸到博士。」看完本文，請就「性別平等」的觀念回答下列問題。請問：
- () 31. 阿瑜的爸爸聽完了媽媽的讚美，他應有哪種反應比較不會引起家庭紛爭？ (A)堂堂男子漢怎麼可以做家事 (B)家事本來就要分工，我們可以輪流煮飯 (C)煮飯、洗衣是女人分內的事 (D)我出外賺錢已經很累了，還叫我煮飯
- () 32. 爸爸對於阿瑜想去報考護專一事，應表示哪種意見最為適宜？ (A)男生當護理師會被人恥笑 (B)當醫生比較高尚 (C)我尊重你的選擇，只要有心，我相信你可以勝任 (D)傻孩子，護理師只適合女孩子擔任
- () 33. 媽媽聽完阿瑜的姊姊對未來的規劃，應表示哪種意見最為適宜？ (A)「女子無才便是德」，不需要唸什麼書 (B)你高中畢業了，應該去找一份工作，供弟弟唸書 (C)女生不需要有高學歷，找個好老公嫁比較重要 (D)很好的理想，媽媽一定全力支持你
3. 附表是民國五十年至今，老年人口占總人口的比例，試根據表中資料回答問題。請問：
- | | 民國 50 年 | 民國 82 年 | 民國 106 年 |
|-------------|---------|---------|----------|
| 老年人口佔總人口的比例 | 2.49% | 7% | 13.9% |
- () 34. 由此表可以知道，臺灣的社會人口產生了哪種變化？ (A)獨居老人愈來愈多 (B)幼童居多但死亡率高 (C)青壯年人口負擔老人人口比例愈來愈小 (D)呈現高齡化現象
- () 35. 此時要注意的問題有哪些？(甲)兒童受教問題(乙)福利政策實施(丙)醫療設施的需求(丁)老人家的休閒活動 (A)甲乙丙 (B)乙丙丁 (C)甲乙丁 (D)甲丙丁

班級： 座號： 姓名： 得分：

三、非選擇題，共 15 分

青銀共居，好家哉？

政府近期結合民間資源，嘗試推動青年與銀髮族共居，安排沒有血緣關係、不同年齡層、不同世代的人共享居住空間。



1. 請從上述四人對話判斷，有哪兩位是支持青銀共居政策，並歸納他們支持的原因。

(不可重複對話文字。共兩個答案，每個答案 3 分)

2. 請從上述四人對話判斷，有哪兩位是傾向不支持青銀共居政策，並歸納他們不支持的原因。(不可重複

對話文字。共兩個答案，每個答案 3 分)

3. 你認為為什麼政府要推動「青銀共居」的政策，請簡述原因。(3 分)