

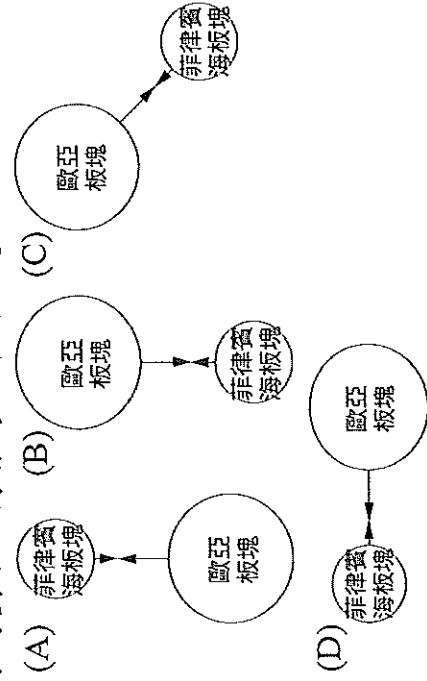
基隆市立武崙國民中學一〇九學年度第一學期第二次段考七年級地理科試題卷

注意事項：

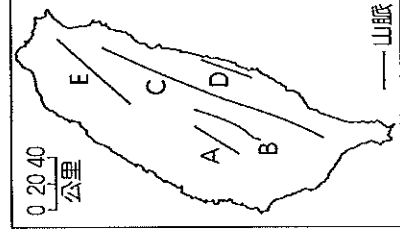
1. 本份試卷為單選題，每題2分，共50題，總分100分。
2. 答案卡限用2B鉛筆畫記，若畫記錯誤，請擦拭乾淨。分數以電腦讀卡分數為準。
3. 答案卡上的資料欄請確實填寫，若資料欄畫記錯誤導致電腦無法正確判讀，扣總分10分。

班級：七年 班座號： 姓名：

- () 1. 山坡地過度開墾容易導致土石流災情。請問：下列哪個縣市發生土石流的機率最小？(A)臺北市 (B)澎湖縣 (C)臺中市 (D)花蓮縣。
- () 2. 日本觀光客來臺前往桃園、新竹、苗栗一帶進行深度旅行，行程中所見到的地形以哪兩種為主？(A)平原、盆地 (B)盆地、山地 (C)丘陵、台地 (D)丘陵、平原。
- () 3. 下列是關於臺灣島的形成與板塊擠壓作用力的方向圖示，何者為正確的示意圖？



- () 4. 承上題，請問：其交界帶位於下列哪一個地形區中？(A)臺中盆地 (B)埔里盆地 (C)花東縱谷平原 (D)蘭陽平原。
- () 5. 附圖為臺灣的五大山脈簡圖：
(甲)中央山脈(乙)海岸山脈
(丙)阿里山脈(丁)雪山山脈
(戊)玉山山脈，若依照圖中A、B、C、D、E的順序排列，以下何者正確？
(A)甲乙丙丁戊 (B)乙丙戊甲丁
(C)丙戊甲乙丁 (D)丁丙甲乙戊



- () 6. 就地質年代而言，臺灣島是一個很年輕的島嶼。請問：下列哪個現象最能說明此一特徵？
(A)海岸線平直，缺少良港 (B)丘陵、台地南北綿延於西部 (C)中央山脈偏於東部 (D)高山疊起，高峰林立。
- () 7. 考試將近，同學們熱烈討論有關地形的上課重點。請問：誰的發言不正確，可能須要再調整觀念？

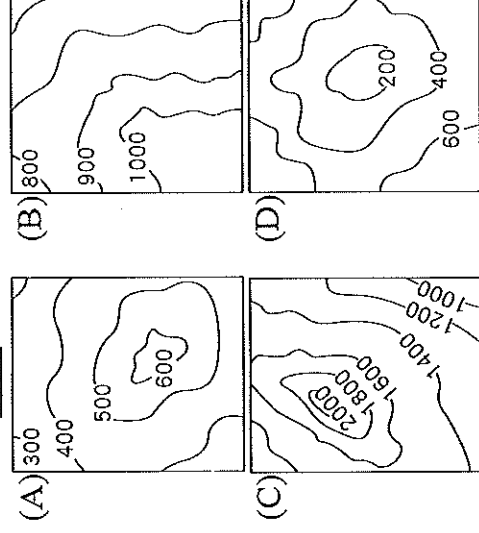
(A) 平原為地勢低且開闊平坦的地形。

(B) 臺地的高度比丘陵高，起伏也較大。

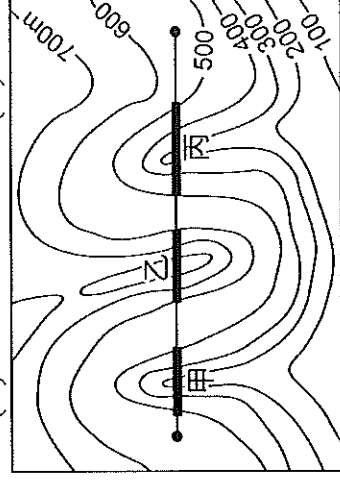
(C) 山地相對高度高，坡度也較陡峭。

(D) 盆地是指四周高中間低的地形。

- () 8. 衛星影像與航空照片都是近代科技進步的產物，關於這兩種地形表示的敘述，何者錯誤？
(A)航空照片的拍攝距離較近 (B)兩種圖的更新速度都很快 (C)兩種都適合用來分析短時間地貌的改變情況 (D)兩種都是利用飛機作為載具，拍攝地面狀況。
- () 9. 下列為世界各地所發生的地理現象，其中何者並非由內營力所造成？(A)印尼火山爆發，造成多人的傷亡 (B)連日暴雨造成澳洲南部山洪爆發 (C)海洋板塊活動形成地震，引起大海嘯侵襲日本沿海 (D)喜馬拉雅山褶曲作用持續進行當中，每年均升高數公分。
- () 10. 住在臺北市的小康在上完地理課後，找了四張等高線圖。請問：下列哪張等高線地形圖最能代表小康家鄉的地形？



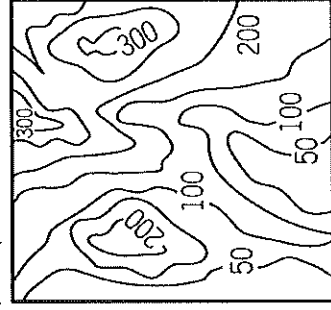
- () 11. 政府計畫興建一條快速道路，規畫的路線如附圖所示。道路沿線有山地及河流阻隔，因此經過河谷需興建橋梁，遇到山脊則需開挖隧道，以求最短距離。根據附圖的等高線判斷，甲、乙、丙三個路段需興建的項目，依序為下列何者？(A)橋梁-隧道-橋梁 (B)隧道-橋梁-隧道 (C)隧道-隧道-橋梁 (D)橋梁-橋梁-隧道。



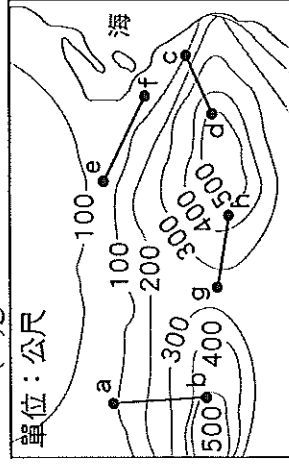
- () 12. 下列關於各種地形表示方法的敘述，何者錯誤？(A)地表海拔高度相同的各點連接成的閉合曲線，稱為剖面線 (B)衛星影像可觀察地表土地利用現象 (C)分層設色圖是以顏色來表示地形的高低 (D)等高線分布愈密集，代表坡度愈陡峭。

- () 13. 颱風來襲常造成臺灣山區爆發土石流、山崩等災害，使得山區聯外道路中斷。若是救難小組想要在最短時間內掌握最新災情，可使用哪種類型的地圖？(A)立體地形圖 (B)等高線地形圖 (C)分層設色圖 (D)衛星影像。

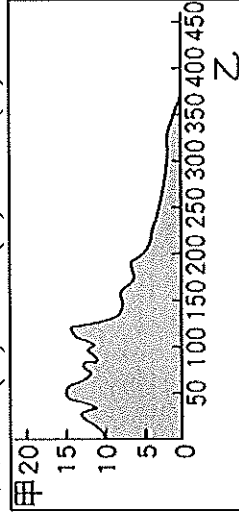
- () 14. 連日大雨後，國內相關消防單位連忙發布警報，提醒住在附圖中南方地勢最低窪地區的民眾盡速疏散到較高的北方地區避難，以免洪水來時受困。請問：根據附圖這張等高線圖的分布狀況判斷，其方向標示應該為下列何者？



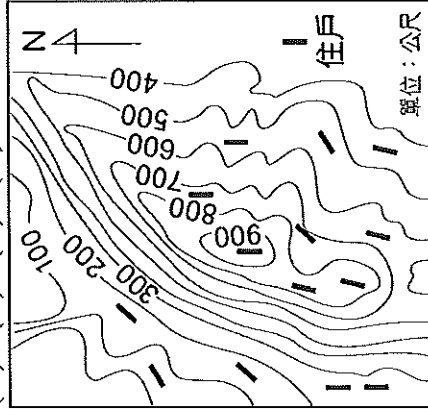
- (A) (B) (C) (D)
- () 15. 附圖的等高線地形圖中，哪個線段的高低起伏變化最平緩？(A)ab線段 (B)cd線段 (C)ef線段 (D)gh線段。



- () 16. 附圖為地形剖面圖。圖中垂直軸「甲」代表什麼？(A)高度 (B)距離 (C)位置 (D)方向。

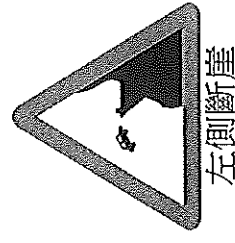


- () 17. 颱風已經登陸，為防範豪雨造成山區發生土石流，預備緊急撤離海拔500公尺以上的住戶。請問：附圖中有多少的住戶應該緊急撤離？(A)6 (B)7 (C)8 (D)9。



- () 18. 近年來，臺灣各地常有土石流災害發生。除了地質脆弱、降雨強度大等因素外，土石流災害頻傳的原因，也和下列哪項人類活動有關？(A)山坡地不當的開發利用 (B)西南沿海地區超抽地下水 (C)沿海溼地開發為工業區 (D)河川上游廣設攔沙壩。

- () 19. 附圖是道路交通標誌，提醒用路人注意道路左側為斷崖，請小心駕駛，以免落海意外。請問：在行經下列哪個路段時，最容易看到附圖標誌？



左側斷崖

- (A)西部海岸，北上方向 (B)西部海岸，南下方向 (C)東部海岸，北上方向 (D)東部海岸，南下方向
- () 20. 海岸常見的景觀特色有下列幾項，其中哪幾項為沙岸的海岸特色？(甲)海岸線單調平直 (乙)海水較深(丙)海岸平原寬廣(丁)海岸地形崎嶇 (A)甲乙 (B)甲丙 (C)乙丙 (D)乙丁。


- () 21. 承上題，下列何者不是沙岸海岸常見的景觀？(A)觀光海水浴場 (B)養殖業魚塭遍布 (C)鹽田及白色鹽山 (D)高山深海相鄰、斷崖遍布。
- () 22. 寒假即將來臨，小康打算以野柳地質公園為出發點，順時針前進，完成環臺濱海旅行。依據小康規劃的路線判斷，他依序會經過附表哪些海岸？

- (A)甲→乙→丙→丁 (B)甲→丁→丙→乙 (C)丁→甲→乙→丙 (D)乙→丙→丁→甲。

甲	海岸灣澳與岬角相間
乙	有鹽山、養殖漁業
丙	珊瑚礁海岸
丁	沿岸有高聳峭壁，海岸陡直

- () 23. 西元1626年西班牙軍隊抵達今臺灣東北部的福隆附近，隨後將此地命名為「Santiago」，後來音譯為現在的三貂角。之後陸續占領基隆等地，並且逐步占領北臺灣。請問：西班牙人最早登陸臺灣的地點，當地的海岸類型最可能是下列何者？(A)沙岸 (B)斷層海岸 (C)珊瑚礁海岸 (D)岬灣海岸。

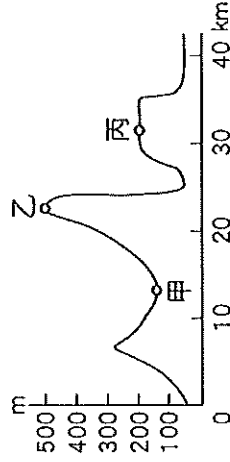
- () 24. 某國家要推動自由經貿園區，希望規畫港口供大型貨輪進行轉口貿易使用，成為區域經貿中心。若以港口條件來判斷，則下列何者較為適合？



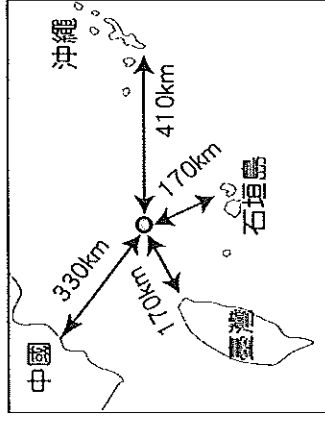
- () 25. 小康在翻閱臺南市海岸古地圖時，發現一張荷蘭人占領臺灣時期的「台江內海」手繪地圖。請問：這張地圖呈現出下列何種海岸地形？(A)潟湖 (B)岬角 (C)斷層崖 (D)珊瑚礁。



- () 26. 附圖為某地的地形起伏示意圖。請問：乙、丙兩地的相對高度大約是多少公尺？ (A) 200m (B) 300m (C) 400m (D) 500m。

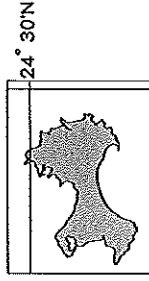


- () 27. 附圖為臺灣某離島與各國之間的距離示意圖，因位置關係，此離島產生國際主權爭議，請問，此離島為下列何者？ (A) 金門列嶼 (B) 太平島 (C) 澎湖群島 (D) 釣魚臺列嶼。



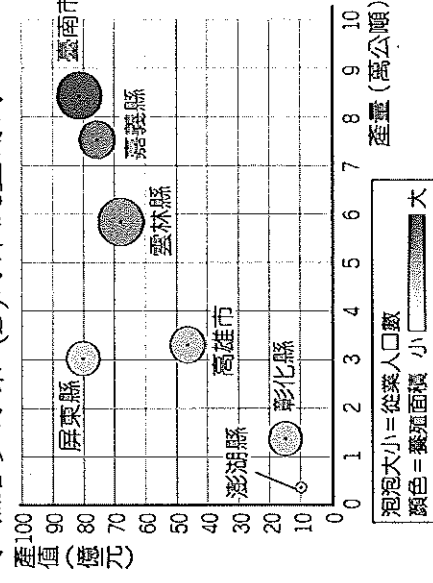
- () 28. 承上題，2012年此離島曾發生臺中日三方衝突，我方政府也派遣了艦隊前往當地，由圖中資料判斷，艦隊上所設定的航行目的地座標應該為下列何者？ (A) 東經 125 度，北緯 20 度 (B) 東經 119 度，北緯 23 度 (C) 東經 120 度，北緯 24 度 (D) 東經 124 度，北緯 25 度。
- () 29. 「我國漁船曾在臺灣東南方巴士海峽海域遭到射擊，造成船長不幸罹難。此事件在我國對『該國』強力反應下，已進入調查，但面對層出不窮的漁事糾紛，政府也應思考對策來因應。」依上文敘述，文中的『該國』應為下列何者？ (A) 中國 (B) 菲律賓 (C) 日本 (D) 南韓。
- () 30. 臺灣周圍有許多離島：(甲)澎湖群島(乙)釣魚臺列嶼(丙)琉球嶼(丁)蘭嶼(戊)東沙島(己)綠島(庚)太平島。其中，屬於火山島的有哪些？ (A) 甲乙丁己 (B) 乙丁戊己 (C) 丙戊己庚 (D) 甲丁己庚。

- () 31. 地理現象的分布往往具有一定的趨勢或邏輯可循，參考附圖，請問臺灣的離島在甲乙丙三個方位的分布中，分別依序主要以哪種島嶼為主？ (A) 火山島、大陸島、珊瑚礁島 (B) 火山島、大陸島、大陸島 (C) 大陸島、火山島、珊瑚礁島 (D) 大陸島、珊瑚礁島、火山島。
- () 32. 附圖是臺灣的離島之一，依照其形狀特徵與經緯度位置判斷，此離島最有可能是下列哪座島嶼？ (A) 金門列嶼 (B) 馬祖列嶼 (C) 綠島 (D) 龜山島。

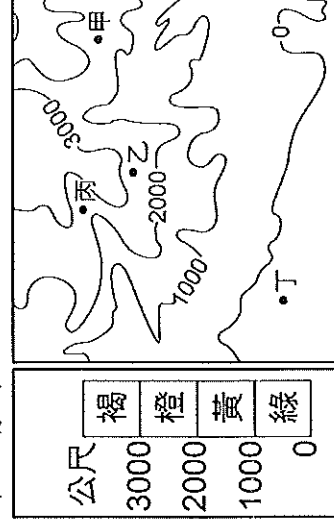


- () 33. 「熱鍋邊的螃蟹」是一部生態紀錄片，片中的主角「烏龜怪方蟹」是生存在高達 140°C 海底熱泉的特有生物，為臺灣特有種。請問：這一部紀錄片最有可能在下列哪個離島拍攝完成？ (A) 金門 (B) 馬祖 (C) 龜山島 (D) 琉球嶼。

- () 34. 附圖為臺灣養殖漁業重鎮的相關資料。根據圖中地區判斷，當地有利發展的條件為下列何者？ (A) 水淺多瀉湖海灘 (B) 水深魚群資源多 (C) 淺水礁岩少汙染 (D) 海岸陡直開闊。

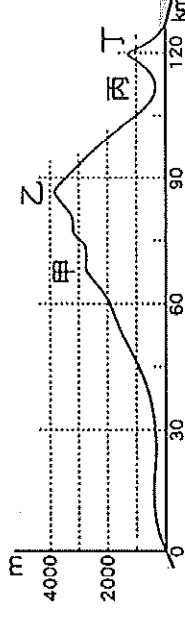


- ※地理老師發給同學一張如附圖的等高線地形圖，做為回家功課。請問：

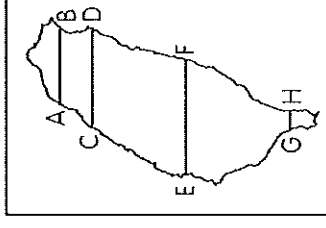


- () 35. 小康按照附圖中的高度表繪製分層設色圖時，甲地應塗上哪種顏色？ (A) 綠色 (B) 黃色 (C) 橙色 (D) 褐色。
- () 36. 根據附圖中四個地點的等高線分布狀況判斷，哪個地點最可能是河谷所在？ (A) 甲 (B) 乙 (C) 丙 (D) 丁。

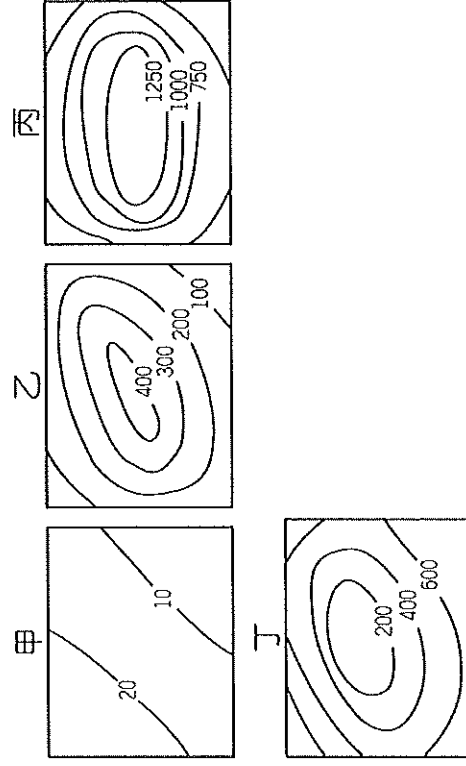
※附圖為臺灣某兩地間的地形起伏示意圖。請問：



- () 37. 附圖這種可以表現地形起伏的地圖，稱之為何？ (A) 等高線地形圖 (B) 地形剖面圖 (C) 分層設色圖 (D) 航空照片。
- () 38. 此圖應是參考附圖中的哪一條線繪製而成？ (A) AB (B) CD (C) EF (D) GH。

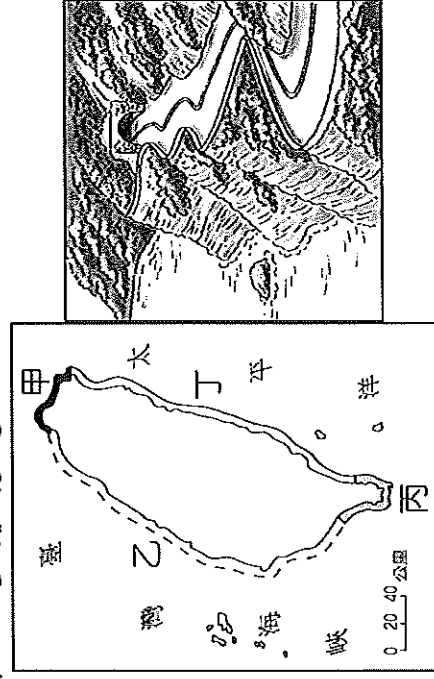


※附圖中有四幅等高線地形圖，依據圖中資料，回答下列問題：



- () 39. 臺灣本島缺乏哪一類地形？(A)甲 (B)乙 (C)丙 (D)丁。
- () 40. 哪一類地形附近的居民最可能在當地開闢茶園、果園？(A)甲 (B)乙 (C)丙 (D)丁。

※圖(一)為臺灣海岸地形的分布圖，請參考下列兩張附圖，回答 41~43 題：



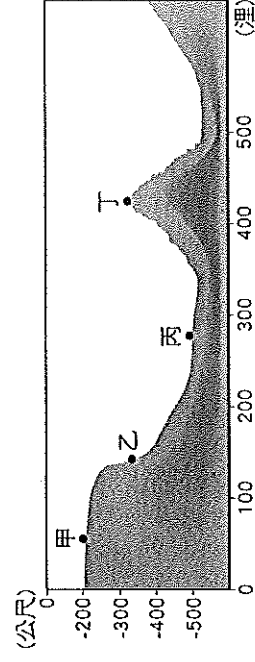
▲圖(一)

- () 41. 圖(二)為臺灣某處海岸示意圖，附圖中高山深海相鄰，形成陡峭的斷層海岸。請問：此處海岸應位於圖(一)中何處？(A)甲岸 (B)乙岸 (C)丙岸 (D)丁岸。

- () 42. 小康為研究臺灣海岸的特徵，特別實地走訪調查。請問：小康在「甲」海岸最不可能看到下列哪個景觀？(A)七股潟湖 (B)富貴角燈塔 (C)基隆港貨櫃起降 (D)野柳女王頭。

- () 43. 某艘馬來西亞籍貨船於巴士海峽遇到颱風來襲，準備緊急向臺灣恆春半島航行避難。請問：當船員靠近「丙」海岸時，必須特別注意下列何種意外的發生？(A)陡峭的岸邊 (B)沙洲的阻擋 (C)潟湖淤積擱淺 (D)廣布的暗礁。

※附圖是某國沿海的海底剖面圖。請問：



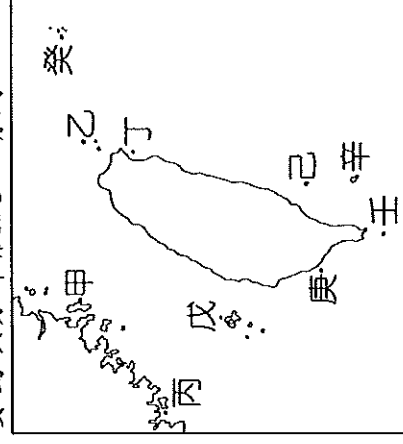
- () 44. 各國的經濟海域是由領海基線向外延伸幾哩的海域範圍？(A)100 哩 (B)200 哩 (C)300 哩 (D)400 哩。
- () 45. 這個國家擁有經濟海域合法開發、探勘的權利範圍，可包含圖中哪些地區？(A)甲 (B)甲乙 (C)甲乙丙 (D)甲乙丙丁。

※附圖為某處海岸的示意圖，請問：



- () 46. 周圍露出海面的小島嶼，在島嶼分類上應屬於哪種類型？(A)大陸島 (B)沙洲島 (C)火山島 (D)珊瑚礁島
- () 47. 此種島嶼形成的主要原因為何？(A)海平面上升 (B)海底火山噴發 (C)珊瑚礁浮出海面 (D)河川帶來的沖積物堆積。
- () 48. 下列哪個島嶼是屬於這種類型？(A)蘭嶼 (B)馬祖列嶼 (C)澎湖群島 (D)太平島。

※臺灣四面環海，周邊離島眾多，涵蓋各種不同類型的島嶼，因此觀光資源相當豐富。附圖為臺灣周邊主要島嶼分布狀況，請問：



- () 49. 觀光局在設計廣受歡迎的「跳島行程」時，希望規畫出一條包含不同成因類型島嶼的路線。請問：下列何者最為適合？(A)甲丙戊 (B)丙戊庚 (C)己辛癸 (D)甲戊辛。
- () 50. 某島嶼位於恆春東方海域，島上住有達悟族，俗稱「飛魚的故鄉」。請問：上述內容是指附圖哪座島嶼？(A)甲 (B)丙 (C)己 (D)辛。

【試題到此結束，請再檢查一次！】