


請用 2B 鉛筆依題號在電腦卡上作答，電腦讀卡時無法判斷身分者，扣總分 10 分。  
範圍：第五冊 L. 1~L. 2 班級：\_\_\_\_\_ 座號：\_\_\_\_\_ 姓名：\_\_\_\_\_

### 基隆市立武崙國中 109 學年度第一學期第一次段考九年級社會試卷歷史科

一、單選：(每題 2 分，共 100 分)

- ( ) 西元前 3000 年以後，不同的民族先後遷入兩河流域，建立政權。有些民族使用閃族語言，有的則使用印歐語言。這些民族的語言雖然不同，但此地區的文化與貿易能夠持續成長，學者認為這種情況主要是由於下列哪一個共通的重要基礎？(A) 使用鐵器 (B) 宗教統一 (C) 軍事技術 (D) 楔形文字。
- ( ) 西元前 6 世紀左右，波斯人改革多元信仰的傳統宗教，創立了「祆教」，為宗教歷史作出偉大的貢獻。請問：波斯人的宗教主張被認為是古代思想革命的原因何在？(A) 推翻了以神話為主要思維的宗教習慣 (B) 建立了因果報應與靈魂輪迴的宗教精神 (C) 強調人的智慧，推翻了神的存在 (D) 建立了善惡二元論的宗教觀點。
- ( ) 小玲研讀西洋史發現下列哪些項目是淵源於古西亞文明？(甲)一神信仰的猶太教 (乙) 確立一週七天制 (丙) 太陽曆的使用 (丁) 發明「零」的觀念 (A) 甲乙 (B) 乙丙 (C) 丙丁 (D) 甲丙。
- ( ) 下列關於文化遺產、民族、活動地區的配對，哪些是正確的？(甲) 六十進位法→蘇美人—兩河流域 (乙) 《漢摩拉比法典》→巴比倫人—伊朗高原 (丙) 猶太教→希伯來人—地中海東岸 (丁) 傳播文化→腓尼基人—兩河流域 (A) 甲乙 (B) 丙丁 (C) 甲丙 (D) 乙丁。
- ( ) 農業是孕育人類文明的主要經濟活動，古文明的發展通常與其密切相關。若從世界四大古文明來看，可發現皆位於下列哪一位置？(A) 大河流域的氾濫平原 (B) 乾燥酷熱的沙漠中央 (C) 地勢高聳的高原頂部 (D) 廣闊大洋上的火山島。
- ( ) 古西亞地區有一民族擅長於航海經商，經常往返於地中海地區，並將古埃及文字改良後傳入歐洲。請問：上文所述應是指下列哪一個民族？(A) 亞述人 (B) 蘇美人 (C) 腓尼基人 (D) 巴比倫人。
- ( ) 《漢摩拉比法典》是至今內容保存較完整的早期法典，這是古西亞哪一民族的重要貢獻？(A) 巴比倫人 (B) 蘇美人 (C) 加爾底亞人 (D) 腓尼基人。
- ( ) 臺大考古學系欲前往古西亞文明的發源地，下列哪一地區不是其目的地之一？(A) 地中海東岸 (B) 兩河流域 (C) 尼羅河流域 (D) 小亞細亞。
- ( ) 哈利比較古埃及人與蘇美人在文化上的成就，發現兩者有哪些相同的貢獻？(甲) 制定曆法 (乙) 製作木乃伊 (丙) 數學用六十進位法 (丁) 發明文字 (A) 甲丁 (B) 甲乙 (C) 乙丙 (D) 乙丁。
- ( ) 妙麗對埃及歷史特別有興趣，她研究發現古埃及國王具有哪些特色？(甲) 稱為「法老」 (乙) 是尼羅河神之子 (丙) 具有無上權威 (丁) 代表循環不息的再生力量 (A) 甲丁 (B) 甲丙 (C) 甲乙 (D) 乙丙。
- ( ) 同學們在課堂上討論古埃及的政治發展，下列何者敘述正確？(A) 榮恩：古王國時期，國力富強，以大量製造木乃伊著稱 (B) 石內卜：中王國時期，貿易發達，已成為地中海東部的商業盟主 (C) 鄧不利多：中王國時期，武力強大，是埃及版圖最遼闊的時代 (D) 佛地魔：新王國時期，被來自希臘的斯巴達所滅。
- ( ) 麥教授帶領一群學生參觀國立自然博物館的埃及文物特展，參觀後他們紛紛發表心得及感想。請問：哪些學生的敘述正確？甲：埃及人以木乃伊來保存屍體以備復活之需。乙：埃及人的楔形文字是表意符號的文字。丙：埃及人的金字塔建築是法老的陵墓。丁：埃及人的宗教信仰是多神信仰，有太陽神、尼羅河神等。(A) 甲乙丙 (B) 乙丙丁 (C) 甲丙丁 (D) 甲乙丁。
- ( ) 對宗教十分重視的埃及人，他們認為主宰循環再生力量的是哪位神明？(A) 太陽神 (B) 耶和華 (C) 善神 (D) 尼羅河神。
- ( ) 根據考古研究發現，古埃及文字大約創於西元前 3500 年，由圖像和表音符號所構成，多刻在墓穴、紀念碑、廟宇的牆壁或石塊上，被稱為「聖書體」。請問：古埃及的文字屬於下列何者？(A) 拼音文字 (B) 楔形文字 (C) 象形文字 (D) 拉丁文字。
- ( ) 馬份搭飛機前往非洲，飛經尼羅河上

空時，看到好幾座如附圖的建築物。請問：這些建築物所代表的意義為何？




(A)國王的宮殿 (B)人民的穀倉 (C)尼羅河神的神殿 (D)法老的陵墓。

16. ( )《摩訶婆羅多》是世界第三長的史詩，內容講述人生的四個目標：愛、財、法和解脫，其中有許多篇幅是在描述因果報應與靈魂輪迴，這首史詩深深影響了當地的宗教與哲學觀。請問：《摩訶婆羅多》是哪個民族智慧的結晶？(A)埃及 (B)巴比倫 (C)希伯來 (D)印度。

17. ( )新聞報導：「近來印度性侵案頻傳，屢屢躍上國際新聞版面，當地學者認為，重男輕女與種姓制度是這股亂象的元凶，在錯誤觀念尚未被導正前，即使提高刑責也無法改變現狀。」有關新聞中提及的「種姓制度」，具有下列哪一特色？(A)創造出平等和諧的社會 (B)與婆羅門教有密切關係 (C)分為貴族、庶人、奴隸三階級 (D)平民可以藉由才能與努力成為貴族。

18. ( )附圖為露娜在《漫畫世界史》中看到的內容，書中記載此人因目睹眾生飽受生老病死之苦，於是出家修行，在菩提樹下悟道成佛的故事。請問：此人應為下列何者？



(A)漢摩拉比 (B)耶和華 (C)阿育王 (D)釋迦牟尼。

19. ( )附圖為我們日常使用的阿拉伯數字演變圖，圖中的源頭是發源於何地？

源頭	୨	୨	୨	୪	୪	୬	୭	୮	୯
阿拉伯數字	1	2	3	4	5	6	7	8	9

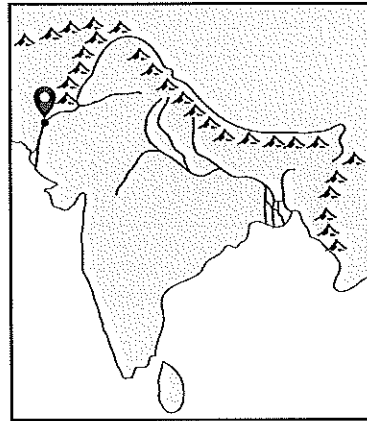
(A)印度 (B)中國 (C)西亞 (D)埃及。

20. ( )在印度孔雀王朝時期，佛教成為東

亞、東南亞等地的重要宗教，此時提倡佛教、派遣高僧向外弘揚佛法的是下列何人？(A)阿育王 (B)玄奘 (C)釋迦牟尼 (D)法顯。

21. ( )芽菜教授到印度作宗教信仰的考察研究，發現現今多數的印度人多信奉哪一宗教？(A)印度教 (B)佛教 (C)婆羅門教 (D)猶太教。

22. ( )奈威跟著考古隊前往摩亨約達羅遺址進行考察，附圖為奈威打卡的位置所在，從考古遺跡發現這座由達羅毗荼人興建的城市，經過良好的都市設計，裡面有排水系統、公共浴池。請問：這座城市瀕臨哪一河川？



(A)尼羅河 (B)印度河 (C)恆河 (D)底格里斯河。

23. ( )雅典城邦是世界上最早的民主發源地，下列金妮撰寫有關雅典城邦的報告中，只有何者正確？(A)位在義大利半島 (B)以勇武著稱但未能統一全希臘 (C)成年人均可以參與立法和政治活動 (D)其文化、藝術盛極一時，堪稱是「全希臘的學校」。

24. ( )貝拉乘著時光機來到了古希臘城邦，她可能會有下列哪些遭遇？(甲)在奧林匹亞遇到盛大的敬神祭典(乙)看見蘇格拉底在街上辯論人生的意義(丙)觀賞均衡、對稱的帕德嫩神廟(丁)研讀希羅多德的《伊里亞德》(A)甲乙丙 (B)乙丙丁 (C)甲丙丁 (D)甲乙丁。

25. ( )《木馬屠城記》出自《伊里亞德》與《奧德賽》中有關特洛伊戰爭的情節，過去一直被視為是希臘神話故事，直至19世紀才被業餘考古學者證實特洛伊城的遺址。請問：上述的《伊里亞德》和《奧德賽》是何人的著作？(A)歐幾里德 (B)亞里斯多德 (C)阿基米德 (D)荷馬。

26. ( )雅典和斯巴達是古代希臘最具代表的兩大城邦，不過受到地理條件及經濟壓力的影響，發展出截然不同的體制。在西元前5世

紀，這兩個相互征戰的城邦，也曾經聯合其他希臘城邦，共同合作對抗過下列哪一民族的侵略？(A)波斯 (B)羅馬 (C)埃及 (D)印度。

27. ( )希臘古典文化影響後世深遠。請問：希臘古典文化主要興起於哪一個地區？(A)大西洋東岸 (B)愛琴海 (C)太平洋東岸 (D)歐洲內陸。

28. ( )孚立維教授上課推薦了一本以波希戰爭為題材的書，並說明這本書有兩個值得閱讀的理由如下。請問：此書的作者應該是何人？(一)這位古希臘作家把旅行中的所見所聞，經過查訪與考據寫成書。

(二)他撰寫了西方最早的歷史作品，並致力於淡化由神主宰人生的觀念，著眼於人的現世事蹟。

(A)蘇格拉底 (B)荷馬 (C)亞里斯多德 (D)希羅多德。

29. ( )路平在歷史課時上臺分組報告，在他所報告有關希臘的敘述中，何者錯誤？(A)宗教上屬於多神信仰 (B)藝術著重均衡、對稱、和諧 (C)斯巴達以勇武著稱，終於統一希臘 (D)哲學家著重探討人生意義。

30. ( )西元1798年，拿破崙軍隊在尼羅河三角洲的村莊發現一塊刻有三種文字的官方公告石碑：最上面為古埃及象形文字，中間是埃及草書通俗體，最下面為古希臘文。以三種字體書寫的目的是為了讓各族人都能看懂此石碑意涵。請問：石碑中由三種文字書寫與下列何者有關？(A)擅長航海與經商的腓尼基人將希臘文字向外傳播 (B)波斯人征服兩河流域、埃及，並建立帝國 (C)雅典領導希臘城邦在波希戰爭中擊敗波斯 (D)亞歷山大建立了橫跨歐、亞、非三洲的大帝國。

31. ( )如果我們要找尋有關希臘化世界的相關資料，應該去翻閱下列哪一本著作？(A)《漢摩拉比法典》 (B)《蘇格拉底傳》 (C)《亞歷山大傳》 (D)《成吉思汗傳》。

32. ( )建立跨越歐、亞、非三洲的亞歷山大大帝國的亞歷山大大帝，出身哪一王國？(A)雅典 (B)斯巴達 (C)特洛伊 (D)馬其頓。

33. ( )某電視臺正籌畫拍攝以希臘化時代為背景的紀錄片，下列何人可能出現在影片中？(A)荷馬 (B)蘇格拉底 (C)希羅多德 (D)歐幾里德。

34. ( )穆敵在查閱某本著作資料時看到以下兩段描述，請問：這本著作應為下列何者？


資料一：希臘化時代的科學巨著，是後世幾何學的重要教材。

資料二：明末徐光啟與利瑪竇曾合譯內容為中文。


(A)阿基米德《槓桿原理》 (B)歐幾里德《幾何原本》 (C)荷馬《奧德賽》 (D)希羅多德《歷史》。

35. ( )如果依照亞歷山大東征的路線旅遊，最有可能順道參觀下列哪一個古蹟？


(A) 羅馬競技場




(B) 埃及金字塔



(C) 中國萬里長城



(D) 巴黎凱旋門



36. ( )亞歷山大大帝在世僅33年，但憑著其智慧與征戰功績，而被列入世界百大著名君王之一。關於亞歷山大的功績，下列何者敘述正確？(A)領導希臘聯軍擊敗波斯人，保住希臘文明 (B)將帝國分為三個王國，分別統治歐洲、亞洲與埃及 (C)驅逐印度半島的阿利安人，統治印度長達200年 (D)東征時在各地興建希臘式城市，傳播希臘文化。

37. ( )天狼星正在構思一部科幻歷史小說，其中某一個段落安排秦始皇與屋大維一同坐在宴席上共飲美酒，並且兩人還表現出惺惺相惜的態度。請問：這兩個人有什麼共同之處？(A)秦始皇創年號紀年；屋大維創立西元紀年 (B)都是帝國第一個皇帝 (C)兩者生活於同時期，建立東西方兩霸權 (D)兩者皆統一帝國內部文字。

38. ( ) 18 世紀英國史家吉朋在《羅馬帝國衰亡史》談到大帝國滅亡原因時，點出：「西羅馬帝國之所以衰亡，是『野蠻和宗教的勝利』。」請問：上文所指的「野蠻」意涵為何？ (A) 來自北方的日耳曼民族 (B) 來自東方的匈奴人 (C) 來自地中海的海洋民族 (D) 羅馬內部的自相殘殺。

39. ( ) 喬治參加旅行團出國旅遊，到了某個國家時，導遊說：「羅馬人在這裡留下許多遺跡，有引水的管道、競技場，各種神廟建築。」請問：喬治可能身處在何處？ (A) 印度南部 (B) 西班牙西南部 (C) 非洲中部 (D) 阿拉伯半島南部。

40. ( ) 歷史課時，幾位同學討論有關羅馬帝國之史實，下列何人敘述正確？ (A) 弗雷：凱撒是羅馬帝國第一位皇帝 (B) 比爾：羅馬帝國恰與中國的唐朝時間相當 (C) 茉莉：西元 4 世紀末，羅馬帝國分裂為二 (D) 亞瑟：羅馬帝國使用希臘文。

41. ( ) 花兒將四個西方早期大帝國，依建立的先後順序排列，下列何者正確？(甲) 亞歷山大帝國(乙) 波斯帝國(丙) 埃及新王國(丁) 羅馬帝國 (A) 乙丙甲丁 (B) 丙乙甲丁 (C) 丙甲乙丁 (D) 甲乙丙丁。

42. ( ) 迷糊的莉莉做任何事總是漫不經心，例如她歸納羅馬帝國的重點整理時，其中只有一個重點是正確的，是下列何者？ (A) 羅馬人自豪地認為波羅的海是「我們的海」 (B) 奠定二百年間「羅馬和平」基礎的人是凱撒 (C) 東羅馬帝國早於西羅馬帝國滅亡 (D) 狄奧多西將羅馬帝國分為東、西二部。

43. ( ) 如果想要尋訪古羅馬帝國最初的建國所在，可以選擇到下列何處旅遊才不虛此行？ (A) 義大利半島 (B) 阿拉伯半島 (C) 小亞細亞 (D) 巴爾幹半島。

44. ( ) 西元 313 年羅馬皇帝公布《米蘭敕令》，宣布羅馬帝國境內有信仰基督教的自由，並且發還已沒收的教會財產，亦承認基督教的合法地位。請問：上文中的羅馬皇帝是何人？ (A) 凱撒 (B) 屋大維 (C) 狄奧多西 (D) 君士坦丁。

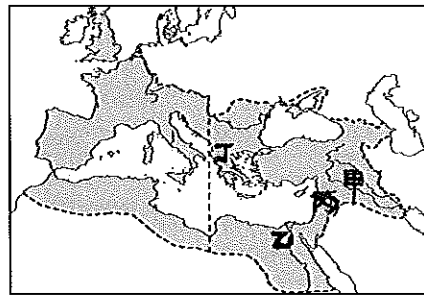
45. ( ) 詹姆研究《世界宗教史》時，發現佛教與基督教就其形成的背景有何共同的特徵？ (A) 都是在追求天堂世界的永生 (B) 都根源於一神信仰 (C) 都是為對抗政府的高壓統治 (D) 都對固有宗教的教義提出改革。

46. ( ) 基督教基本經典是《聖經》，由《舊約》和《新約》兩大部分構成。傳統的基督教

教義認為《聖經》是經由神啟示，而人寫下來的，前後有四十餘位執筆作者，前後寫作時間跨越約 1600 年。下列對於此一宗教的敘述，何者正確？ (A) 耶穌的言行記載於《新約》 (B) 耶穌為唯一真神 (C) 耶穌傳教引起羅馬皇帝狄奧多西不滿，最後被釘死在十字架上 (D) 猶太人與阿拉伯人受到基督教的影響，成立一神信仰的宗教。

47. ( ) 基督教創立初期，備受羅馬政府的打壓，主要是基督徒哪項行為所致？ (A) 意圖顛覆羅馬帝國 (B) 不向國家納稅 (C) 批評時政 (D) 拒絕膜拜羅馬皇帝。

48. ( ) 附圖是羅馬帝國時期的疆域圖，請問：西元 1 世紀時，耶穌在圖中何處宣揚平等博愛的理念？



(A) 甲 (B) 乙 (C) 丙 (D) 丁。

49. ( ) 關於基督教與猶太教，下列敘述哪些是正確的？(甲) 基督教是改革猶太教而逐漸形成的宗教(乙) 猶太教信仰耶和華，基督教不信耶和華，只信耶穌(丙) 猶太教的唯一經典是《舊約》，基督教的唯一經典是《新約》(丁) 猶太教與基督教皆創立於巴勒斯坦地區 (A) 甲丙 (B) 丙丁 (C) 乙丙 (D) 甲丁。

50. ( ) 羅馬帝國的君士坦丁、狄奧多西皇帝對基督教的發展均有重大的貢獻，兩人對基督教信仰的影響為何？ (A) 兩者皆迫害基督教信徒 (B) 兩者皆反對基督教信仰 (C) 前者派遣耶穌到巴勒斯坦傳教 (D) 後者促使基督教成為羅馬帝國國教。