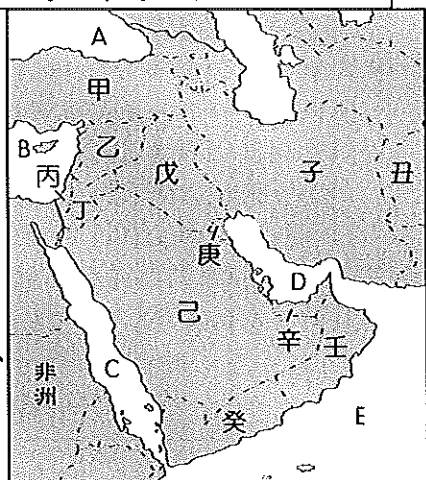


基隆市立武崙國民中學 109 學年度第一學期第一次段考 九年級地理科試題卷

單一選擇題，共 50 題，每題 2 分，滿分 100 分 班級：_____ 姓名：_____ 座號：_____

附圖為西亞地區海域及各國家位置示意圖，請回答第 1~12 題：



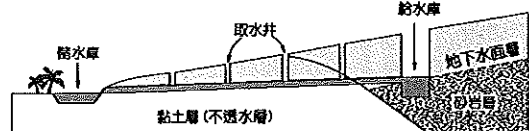
1. () 請問印度洋、地中海、黑海、紅海在地圖中的代號依序為何？

- (A) B, C, D, E (B) C, B, A, D
(C) E, B, A, C (D) E, A, C, D

2. () 西亞地區因其豐富的石油蘊藏，使得區域的穩定與否影響原油的價格，更牽動著世界經濟的發展。請問附圖中哪個海域周圍的石油蘊藏量最為豐富？

- (A) A (B) B (C) C (D) D

3. () 附圖為西亞某地區傳統農業使用的灌溉方式，請問使用此灌溉系統的國家為何？

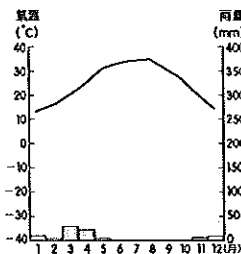


- (A) 甲 (B) 己 (C) 子 (D) 丑

4. () 承上題，此灌溉系統興建暗渠引水的原因及其引用的水源分別為何？

- (A) 防止搶水糾紛，河水 (B) 避免快速蒸發，雪水
(C) 減少人為污染，雨水 (D) 加快集水速度，地下水

5. () 兩軒即將到西亞某國家的首都工作，為了方便個人必需品的攜帶，他參考了該城市的氣候圖(如右圖)，請問他即將前往的城市最有可能屬於哪種氣候類型？



- (A) 熱帶沙漠 (B) 熱帶草原
(C) 溫帶沙漠 (D) 溫帶地中海型

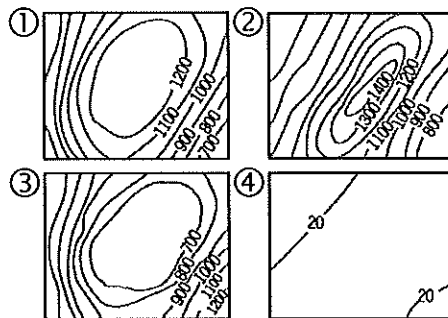
6. () 西亞因其氣候條件對於農業有較嚴苛的限制，因此需要投入更多的人力與資本，請問哪個國家運用其技術抽取深層地下水來灌溉人工綠洲？

- (A) 甲 (B) 丙 (C) 己 (D) 子

7. () 庫德族為西亞地區的遊牧民族，為尋求獨立建國長期與所分布的國家發生衝突，種族鬥爭、迫害與滅絕的事件時有所聞，請問庫德族主要分布在哪四個國家境內？

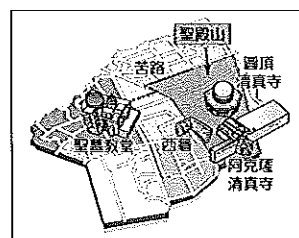
- (A) 甲, 乙, 丙, 丁 (B) 甲, 乙, 戊, 子
(C) 乙, 丁, 戊, 己 (D) 乙, 丙, 丁, 己

8. () 人類生活、經濟發展與該地的地形條件關係密切，附圖①~④為四種不同地形的等高線圖。請問甲、戊、己三國的地形分別依序為何？



- (A) ①、④、① (B) ①、③、②
(C) ②、①、③ (D) ④、①、④

9. () 附圖為西亞地區既神聖又充滿衝突的都市，請問此宗教聖地位的名稱及其於哪個國家？



- (A) 麥加，戊 (B) 麥加，己
(C) 耶路撒冷，乙 (D) 耶路撒冷，丙

10. () 承上題，請問上述都市為下列哪些宗教的聖地，導致族群及爭奪聖地的衝突不斷？

- ① 佛教 ② 印度教 ③ 猶太教
④ 神道教 ⑤ 基督教 ⑥ 伊斯蘭教
(A) ①、②、⑤ (B) ①、③、④
(C) ②、④、⑥ (D) ③、⑤、⑥

11. () 西亞地區戰略地位重要，1990 年伊拉克入侵並佔領科威特，以美國為首的 34 個國家在取得聯合國授權後對伊拉克發動攻擊展開波斯灣戰爭，請問請問伊拉克與科威特分別位於圖中何處？

- (A) 甲、戊 (B) 戊、庚 (C) 己、辛 (D) 子、戊

12. () 承上題，伊拉克入侵科威特最主要的原因為下列何者？

- (A) 爭奪聖地主權 (B) 種族差異矛盾 (C) 爭搶石油資源
(D) 水資源分配不均【第 1 頁，共 5 頁】

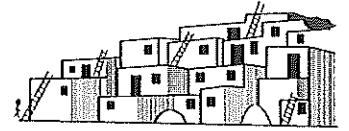
☞氣候乾燥的烏茲別克為了積極發展農業，大規模開發灌溉水利工程，然而過度的引用河水灌溉卻導致了當地生態環境面臨嚴重的破壞。請回答第13~17題：

13. () 當地因超限灌溉導致一連串的環境破壞，不只影響國家的經濟發展更連帶威脅人類與動植物的生存。請問下列何者並非當地環境面臨的浩劫？(A)荒漠化範圍擴大 (B)湖水鹽度增加 (C)土壤鹽鹼化 (D)水土嚴重流失
14. () 烏茲別克的過度引水灌溉使得哪個水體的面積大幅度縮減？(A)裏海 (B)死海 (C)鹹海 (D)黑海
15. () 中亞的淡水資源主要截取下列哪兩條重要河川？①幼發拉底河②底格里斯河③塔里木河④阿母河⑤錫爾河
(A) ①、② (B) ①、③
(C) ③、④ (D) ④、⑤
16. () 承上題，中亞的這兩條重要河川除了上游能提供水力發電，下游更擁有良好的灌溉條件，請問河川的水資源主要來自於下列何者？(A)季風的季節性降雨 (B)挖掘深層地下水 (C)高山融化雪水 (D)西風引進暖溼雨水
17. () 烏茲別克大規模引用河水主要是為了灌溉他們在農業上的經濟命脈，請問他們最有可能灌溉的是下列哪一種農產品？(A)小麥 (B)稻米 (C)椰棗 (D)棉花

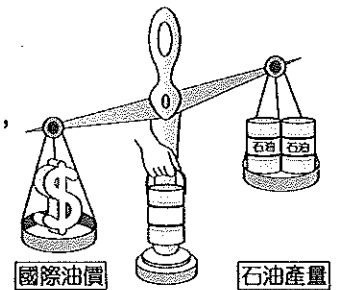
☞哈薩克國家石油天然氣公司為國營企業，近年來積極發展石化工業並與中國合作開採石油，更大力興建輸油管將石油出口到其他國家。請回答第18~19題：

18. () 中亞地區的石油、天然氣主要蘊藏在某水體的底部，隨著石油與天然氣的開採連帶引發該水體主權的劃分與歸屬問題，直至今日依舊爭議不斷。請問該水體為下列何者？(A)裏海 (B)黑海 (C)鹹海 (D)地中海
19. () 哈薩克的石油出口主要是透過輸油管線，然而輸油管線的興建與維修不只耗費鉅資，在越過其他國家的鋪設上更是政治與經濟的角力，請問哈薩克選擇透過輸油管輸出石油的主要原因為何？(A)鄰近國家戰亂不斷 (B)位處內陸缺乏海港 (C)管線輸送減少耗損 (D)避免他國覬覦強奪

20. () 附圖為西亞地區的传统建築，當地人將房屋作如此的設計與興建主要是有下列哪一項考量？



- (A)向陽以爭取日照
(B)古蘭經指示型式
(C)避免風沙及日曬
(D)防火躲戰亂波及
21. () 阿拉伯聯合大公國的產業從原先的游牧轉型到工礦業並積極朝向金融貿易與光觀休閒產業發展，一連串的產業轉型的主要目的為下列何者？
(A)多元發展避免過度依賴單一產業
(B)宗教啟示遵從聖諭轉換產業模式
(C)產業升級避免陷入石油爭奪內戰
(D)石油枯竭被迫轉換經濟發展策略
22. () 以色列和巴勒斯坦之間不斷發生的暴力衝突已經成為破壞區域和平及穩定的嚴重問題，請問下列哪項並非以巴之間所面臨的衝突？
(A)爭搶土地和水資源
(B)石油利益分配不均
(C)猶太教與伊斯蘭教信仰差異
(D)猶太人和阿拉伯人之間的民族糾紛
23. () 附圖中有隻手能操控石油產量的多寡及國際油價的漲跌，請問這隻手最有可能是下列哪一個組織？



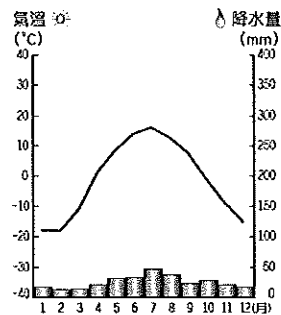
- (A)EU
(B)UN
(C)APEC
(D)OPEC
24. () 位於西亞和中亞地區的國家在氣候上普遍較為乾燥少雨，請問導致這兩個區域氣候乾燥的主要原因分別為何？

	西亞	中亞
(A)	位於盛行風背風側	副熱帶高壓籠罩
(B)	副熱帶高壓籠罩	位居內陸距海遙遠
(C)	位居內陸距海遙遠	位於盛行風背風側
(D)	副熱帶高壓籠罩	副熱帶高壓籠罩

25. () 中亞與西亞兩個區域除了氣候條件相似外，也因位置獨特具有重要的交通及戰略地位，請問這兩個區域的地形主體分別為何？

- (A)盆地、高原 (B)平原、盆地
(C)高原、盆地 (D)高原、高原

26. () 張教授被高薪、高福利聘請到哈薩克首都阿斯塔納的納札爾巴耶夫大學任教，由於學校每年提供家屬前往哈薩克探親的來回機票，因此張教授特別把當地的氣候圖給他的家人，以利他們攜帶衣物。請問當地的氣候類型為下列何者？



- (A)熱帶沙漠 (B)溫帶沙漠
(C)溫帶草原 (D)溫帶季風

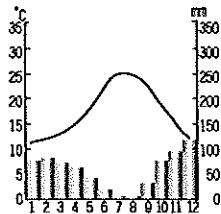
27. () 以色列所發明的農業滴灌設備主要是為了改善當地農業面臨的哪一種問題？

- (A)熱帶沙漠氣候嚴重的日夜溫差
(B)地中海型氣候生長季缺水灌溉
(C)石灰岩土質貧瘠缺乏生長養分
(D)土壤含鹽高需用淡水洗去鹽份

28. () 高纖、高鈣、抗氧化等具備健康概念的『地中海飲食』曾經風靡一時，請問下列哪些食物盛產於地中海一帶，架構出當地美味的餐飲文化？

- (A)玉米、辣椒、馬鈴薯、咖啡
(B)番茄、柳橙、橄欖油、葡萄酒
(C)椰棗、小麥、棕櫚油、駱駝奶
(D)胡椒、茴香、肉豆蔻、椰子汁

29. () 附圖為歐洲某都市的氣候圖，該地夏季乾燥炎熱，冬季卻陰雨綿綿，請問該地夏乾冬雨的氣候特色分別是受到哪些因素影響？

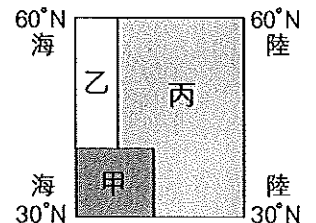


	夏乾	冬雨
(A)	位居內陸距海遠	對流旺盛形成降雨
(B)	位於西風背風側	信風引進高空水氣
(C)	副熱帶高壓籠罩	赤道低壓籠罩
(D)	副熱帶高壓籠罩	西風帶進海洋水氣

30. () 北歐和阿爾卑斯地區均有發達的冰河地形，冰河的存在、侵蝕與堆積形塑了當地特殊的自然地景，更影響了當地的產業經濟，請問導致這兩個地區冰河地形發達的原因分別為何？

- (A)緯度高、地勢高
(B)緯度高、板塊擠壓
(C)兩地均為地勢高聳
(D)海洋侵蝕、強風吹蝕

31. () 附圖為歐洲溫帶氣候分布簡圖，請問甲、乙、丙三區的氣候類型排列下列何者正確？

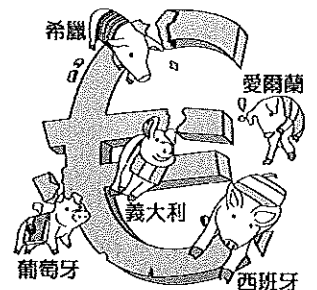


- (A)莽原、地中海型、海洋性
(B)海洋性、地中海型、沙漠
(C)高地、地中海型、過渡性
(D)地中海型、海洋性、大陸性

32. () 歐洲哪個區域的經濟發展較為遲緩，國民所得較低，近年來加入歐盟成為歐洲便宜勞動力的供應地區？

- (A)北歐 (B)南歐
(C)西歐 (D)東歐

附圖為歐豬五國的諷刺漫畫，意指這五國經濟發展狀況不佳甚至拖累歐盟其他會員國。請回答第 33~35 題：



33. () 請問這五國中唯一『不位於』南歐的國家為何？

- (A)希臘 (B)西班牙
(C)義大利 (D)愛爾蘭

34. () 請問圖中的 € 符號所代表的意義為何？

- (A)為歐盟會員國 (B)使用歐元為貨幣
(C)簽署申根公約 (D)參與世界貿易組織
35. () 歐豬五國中的義大利為『八大工業國組織(G8)』的會員國之一，工業發展相對發達，請問下列何者為該國工業發展的有利條件？

- (A)豐沛的水力提供發電
(B)開闊的平原交通便利
(C)石油的開採提供資金
(D)古老的地塊礦產豐富

36. 十年未曾見面的四個大學同學相約在前往義大利進行一段回憶之旅，以下為四個人分別提出想在旅程中體驗的項目，請回答第 36~38 題：

【敏心】乘坐貢多拉漫遊水鄉，並參加年度盛宴
面具節嘉年華

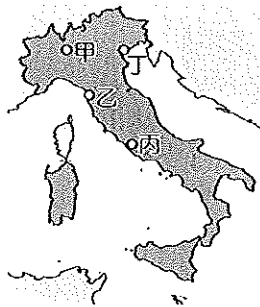
【雅婷】暢遊集時尚、藝術、觀光與建築的最大都會區，體驗天主教大教堂的莊嚴之美

【可晴】參觀聞名的傾斜鐘塔，感受此世界文化遺產帶來的震撼

【郁芬】參觀電影《神鬼戰士》拍攝的背景，在附圖中的建築拍攝一系列網美照



36. () 若依照地圖中甲→丁→乙→丙的順序來安排行程，請問四位同學滿足旅遊心願的順序下列何者正確？



- (A) 可晴→郁芬→敏心→雅婷
- (B) 敏心→可晴→雅婷→郁芬
- (C) 雅婷→敏心→郁芬→可晴
- (D) 雅婷→敏心→可晴→郁芬

37. () 雅婷的計畫參訪的都市位於阿爾卑斯山和波河之間的倫巴底大區，此地為文藝復興的重要中心，每年兩次的時裝週更是吸引許多設計、時尚界名流到訪共襄盛舉，請問此都市的名稱為下列何者？
(A) 米蘭 (B) 威尼斯 (C) 佛羅倫斯 (D) 巴賽隆納

38. () 面具節為世界三大嘉年華之一，其舉辦的時間依照基督教傳統曆法計算，大約會在每年二月左右舉辦，如果安排這個時間前往還能一同參訪秋冬時裝周的盛宴，請問此時段出遊的他們最可能看到下列哪幅景象？
(A) 陣陣雨水夾雜海水漫淹的馬可波羅廣場 (B) 熱浪來襲石壁發燙的競技場 (C) 大雪紛飛夾雜漫天黃沙的主教座堂廣場 (D) 陣陣乾冷寒風無情吹拂的傾斜塔樓

39. () 歐洲平原地區的各项氣候數據若『由東向西』呈現，下列何者正確？

年均溫愈□、年雨量愈□、年溫差愈□

- (A) 低、少、大 (B) 低、多、大
- (C) 高、多、小 (D) 高、少、小

40. () 位處歐洲中心東西橫互的阿爾卑斯山，地勢高聳有許多座海拔超過 4000 公尺的山峰，卻未造成南北交通的上的阻隔，請問最關鍵的因素是擁有許多下列何種地形？
(A) 冰河侵蝕的 U 型谷
(B) 河川侵蝕的 V 型谷
(C) 火山噴發的溝谷
(D) 斷層陷落的地塹

41. () 西班牙因其優越的自然環境在沿海平原種植大量蔬菜、水果外銷給西、北歐國家食用，而贏得「歐洲菜籃子」的美名。請問西班牙擁有的優越條件為下列何者？
(A) 緯度低生長季較長
(B) 廣闊平坦的大平原
(C) 礦物質豐富的土壤
(D) 雨季和生長季一致

42. () 歐洲的自然與人文發展深受海洋影響，發達的海洋運輸一直帶動著歐洲經濟的繁盛，請問下列何者並非歐洲航運發達的有利因素？
(A) 暖流使沿岸冬不結冰
(B) 谷灣及峽灣地形多良港
(C) 四面環海海洋文化深厚
(D) 眾多半島使海岸線綿長

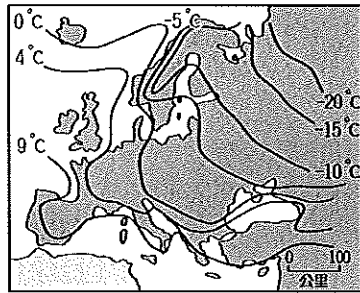
43. () 歐洲大部分地區均適合人類居住，為世界各大洲中人口分布最平均的一洲，請問導致此現象的原因最有可能為下列何者？
(A) 海岸線長、交通便利
(B) 歷史悠久、開發較早
(C) 氣候溫和、平原遼闊
(D) 經濟發達、社會福利佳

44. () 均宥計劃利用留學的兩年走訪歐洲四大半島，請問他若從北歐出發『逆時針』前行，依序到訪的半島排列下列何者正確？
(A) 斯堪地那維亞→巴爾幹→義大利→伊比利
(B) 斯堪地那維亞→伊比利→義大利→巴爾幹
(C) 伊比利→巴爾幹→義大利→斯堪地那維亞
(D) 義大利→斯堪地那維亞→巴爾幹→伊比利

45. () 英國在 2016 年公投決定脫離歐盟，2017 啟動脫離歐盟程序，2020 年 1 月 31 日 23 時正式脫離歐盟。請問下列哪項在英國脫歐後會面臨的問題將會『較小』？
(A) 貨幣轉換 (B) 貿易關稅
(C) 共同市場 (D) 國界管制

46. () 歐洲許多國家經濟發達，人民擁有高國民所得、高教育水準、高社會福利，然而這些國家在人口成長方面卻呈現停滯甚至負成長，請問導致此人口問題最可能的原因為下列何者？
- (A) 經濟壓力沉重移出率高
 (B) 出生率低人口老化嚴重
 (C) 排斥外來移民融入當地
 (D) 貧富差距嚴重死亡率高

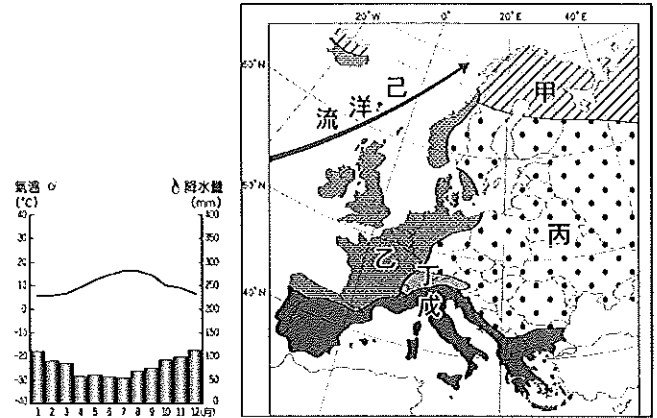
47. () 附圖為歐洲冬季等溫線分布圖，請問當地冬季氣溫除了受緯度影響外，還深受



下列哪一項因素的影響？

- (A) 西風 (B) 暖流
 (C) 山脈走向 (D) 副熱帶高壓
48. () 筱熙前往希臘進行深度之旅，在當地體驗美食、參觀歷史古蹟及欣賞藝文表演，請問下列哪項體驗不該出現在希臘這趟行程裡？(A) 在聖托里尼島的白牆藍屋頂下喝美味紅酒 (B) 搭乘郵輪航行在島嶼眾多的愛琴海 (C) 前往衛城參觀大理石建成的帕德嫩神廟 (D) 在聖家堂附近的廣場欣賞佛朗明哥舞

38 附圖為歐洲氣候類型分布簡圖，請回答第 49~50 題：



49. () 請問上列氣候圖最可能出現在歐洲氣候類型分布圖的哪個位置？
 (A) 乙 (B) 丙 (C) 丁 (D) 戊
50. () 請問氣候圖中的降水主要來自於下列哪些因素的影響？
 (A) 西風、低壓 (B) 信風、暖流
 (C) 西風、暖流 (D) 地勢、距海遠近