

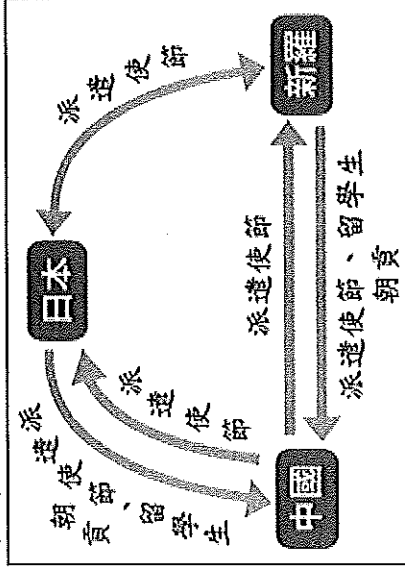
# 基隆市立武崙國中109學年度8年級社會(歷史)科第一次考試卷

年 班 座號：

姓名：

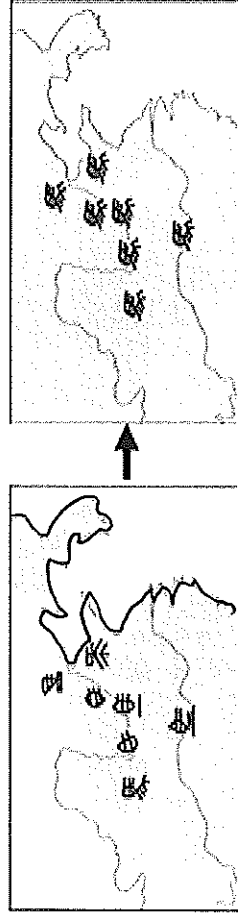
## 一、單選題：(每題2分，共100分)

- ( ) 「國家是否富強，關鍵在於國君能否掌控權力；若國君能掌握權力、決定一切，就能產生治國的威信。國君擁有威信，人民相信他會論功行賞，就會努力爭取表現，國君便能成功治理國家；人民相信他會懲罰惡行，就不會去做姦邪之事。」這段文字應是闡述下列哪一家學說的理念？(A)儒家 (B)道家 (C)墨家 (D)法家。【99年第一次基測】
- ( ) 小明參加班上「春秋戰國風雲」話劇演出，發現此時是中國歷史上上一個變動的時代。若話劇內容須合於史實，下列何者是錯誤的？(A)人民逐漸擁有私人的土地 (B)各家學說出現，形成百家爭鳴 (C)參加科舉考試，掌握官員的任命權 (D)君主為富國強兵，紛紛改革變法。
- ( ) 唐朝劉禹錫詩：「朱雀橋邊野草花，烏衣巷口夕陽斜，舊時王謝堂前燕，飛入尋常百姓家。」請問：類似王、謝這些世家大族的沒落，除與政治上的動亂有關外，亦與下列哪一項制度的廢除有關？(A)封建制度 (B)孝廉選官 (C)九品官人法 (D)科舉制度。【93年第二次基測】
- ( ) 佛教自西漢末年傳入中國後，在唐朝達於鼎盛，下列有關佛教在唐朝發展的情形，何者不正確？(A)唐太宗時，玄奘前往印度取經 (B)玄奘有系統的翻譯佛經，有助佛教的發展 (C)佛教的派別以淨土宗最具代表性 (D)唐朝子民都必須剃度出家。
- ( ) 新羅是唐代非常徹底的國家，中國的文字、曆法、儒學、佛學、佛教都為新羅所全力模仿，新羅因而有「君子國」之稱。請問：新羅是今天的哪一個國家？(A)西藏 (B)日本 (C)韓國 (D)琉球。
- ( ) 阿拉伯人靠著伊斯蘭教凝聚勢力，建立了地跨歐、亞、非三洲的大帝國，其亞洲東部疆域，部分與中國為鄰，伊斯蘭教因而傳入中國。請問：此時相當於中國的哪個朝代？(A)漢朝 (B)唐朝 (C)明朝 (D)清朝。【96年第二次基測】
- ( ) 秦始皇統一六國之後，採行「郡縣制度」作為管理帝國的方式。這種方式可以達到哪個目的？(A)中央集權 (B)君主世襲 (C)選賢與能 (D)布衣卿相。
- ( ) 秦始皇不但在政治上統一六國，也將六國的文物制度一併統一了。他的這種作為可以達到什麼效果？(A)促成平民崛起 (B)使學術思想不自由 (C)助於國內經濟發展 (D)擴展國家的疆域。
- ( ) 「君王集軍政大權於一身，其下有輔助推動政務的宰相，以及漸趨系統化和專業化的文武官員，地方上的郡縣長官也由君王直接任命。這些大小官員大部分不再是憑藉血緣世襲的封建貴族，而是平民出身的才學之士。」上文最能說明中國歷史上何種情況的發展？(A)世族社會的出現 (B)地方勢力的割據 (C)九品官人制度的實施 (D)中央集權的形成
- ( ) 一個政府組織的運作，賦稅的收入扮演重要的角色。中國古時候的人民繳納的賦稅，不包括下列何者？(A)徭役(B)田賦(C)人頭稅(D)所得稅
- ( ) 武崙國中參觀「絲路」特展，四名學生們對於「絲路」一名的由來展開討論。其中何者的解釋才是正確的？(A)智者：因為這條路線像絲綢一樣綿延不絕 (B)天才：因為途中經過產絲的地點 (C)神人：因為絲綢經由此路線銷往西方 (D)聖賢：因為經過此處需繳交絲綢做為通行費
- ( ) 小明在電影臺上看到港片「九品芝麻官」，覺得十分有趣，因此翻閱書籍仔細查閱名稱相似的九品官人制度。下列哪本書可以查到相關資訊？(A)《大唐盛世》 (B)《先秦諸子學說》 (C)《魏晉制度史》 (D)《漢代的任官制度》
- ( ) 魏晉南北朝時，許多家族因累世為官，社會聲望甚高，最後形成一股大勢力。這些家族崛起的背景與何者相關？(A)經商致富 (B)軍功顯赫 (C)通達經學 (D)巴結權貴
- ( ) 《陰陽師》作者夢枕獏的作品—《沙門空海》，是以中國某個朝代為背景，當時有位日本高僧前來中國學習佛法，並在中國遇見的一些神奇事件做為故事題材。依你的歷史知識，請推測當時的年代約為中國哪個朝代？(A)三國時代 (B)漢代 (C)曹魏 (D)唐代
- ( ) 「朝為田舍郎，暮登天子堂」是形容哪種制度的實施，促成社會階級的流動，使寒門子弟也有機會入朝為官？(A)察舉孝廉 (B)宗法禮樂制度 (C)科舉制度 (D)九品官人法
- ( ) 附圖是某一時期亞洲三個國家交流的情形，根據內容判斷，此時期的交流對當時日本造成了何種影響？



(A)採行「大化革新」，努力吸收中國文化 (B)推動「大政奉還」，天皇重新掌權執政 (C)推行「明治維新」，日本成為亞洲強國 (D)採行「鎖國政策」，只許中荷前來貿易

17. ( ) 上課時老師用附圖(一)到附圖(二)的變化來說明某位君主改革的內容判斷，根據內容判斷，此君主最可能是下列何者？

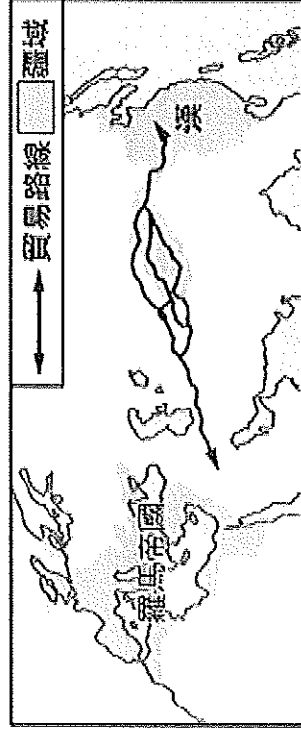


附圖(一)

附圖(二)

(A)齊桓公 (B)秦始皇 (C)漢武帝 (D)北魏孝文帝

18. ( ) 附圖呈現某一時期中外交流概況，下列何者符合該時期的往來情形？



(A)這條路線和秦始皇經營西域有關 (B)道教隨著商人傳入中國 (C)西亞的小麥於此時輸入中國 (D)中國以絲綢為主要輸出品

19. ( ) 士大夫中，出現了一些累世專攻某一學問的家族，他們的弟子動輒數百人甚至數千人。通過入仕，又形成了一些累世公卿的家族，例如：弘農楊氏，自楊震以後，四世皆為高官；汝南袁氏，自袁安以後，四世中居高官之位者多至五人。這些人都是最大的地主，他們由於世居高位，門生、故吏遍於天下，因而又是士大夫的領袖。這些累世公卿的家族，他們家傳的學問是？ (A)經學 (B)佛學 (C)道學 (D)玄學

20. ( ) 「從某個時期開始，朝廷開始將所有平民編入戶籍，並頒布法律管理，類似我們現在的戶籍制度。」上文所述的時期指的是下列何者？ (A)商朝 (B)戰國時期 (C)漢朝 (D)唐朝

21. ( ) 在秦朝統一天下前，每個國家都有自己的貨幣、度量衡與文字，無論是經商貿易或是溝通交流上難免存在藩籬。秦朝為了增加行政效率與管理方便，所實施的「書同文」政策是使用哪一種字體？

(A)甲骨文 (B)小篆 (C)隸書 (D)楷書

22. ( ) 「門當戶對」這個成語來自於中國古代建築形式，從門戶大小、顏色與裝飾程度，就可以判斷這戶人家的身分高低。中國歷史上，以門第高低來決定是否通婚的現象，於下列哪一個時期發展最為鼎盛？

(A)秦朝 (B)漢朝 (C)曹魏 (D)唐朝

23. ( ) 秦統一天下後，宰相李斯向秦始皇提出建議，指出周文王與周武王雖然封了許多同姓子弟，但是在關係疏遠後卻像是仇敵般互相爭鬥，連周天子也無法阻止。如今皇帝統一天下，更應該在各個行政區實施郡縣制。上述制度最大的特色為下列何者？ (A)地方官員由地方諸侯遴選 (B)地方官員卸任後，職位可傳給後代 (C)地方推薦德行為優秀的人才擔任官職 (D)無論郡守或縣令皆由皇帝指派

24. ( ) 「天子」的意涵，不僅代稱君王，也代表君王的身分尊貴，是上天在凡間的代理人。若天子施政沒有照顧好人民，嚴重的話會導致一個朝代的滅亡。此觀念最早出現在哪一個朝代？ (A)商朝 (B)周朝 (C)漢朝 (D)唐朝

25. ( ) 小叮嚀搭乘時光機抵達中國某個朝代，那時游牧民族的胡牀、琵琶與胡餅等物品相繼傳入。他應是前往哪一個朝代？

(A)周朝 (B)秦朝 (C)漢朝 (D)唐朝

26. ( ) 弱冠之年常用來形容剛成年的男性，也被代稱為20歲左右的年輕男性，經過加冠後代表成為成年人。這樣的習俗儀式最早應該出現在哪個時期？ (A)商周時期 (B)秦漢時期 (C)曹魏時期 (D)隋唐時期

27. ( ) 班固於《漢書·藝文志》中提出諸子百家皆出於王官：「儒家者流，蓋出於司徒之官」。下列四位同學的說法，何者最符合統治者施行仁政的治國思想？

(A)小夫：隨時準備動員戰鬥 (B)大雄：順應自然規律 (C)胖虎：減少對人民的干涉 (D)靜香：以禮治理人民

28. ( ) 北魏孝文帝推行漢化政策，相關措施包含：遷都洛陽、祭祀孔子、設史官、禁穿胡服與改用漢語等作為。關於胡服的介紹，下列何者正確？ (A)為游牧民族的衣著 (B)多為寬袍大袖的長衣 (C)首先傳入長江流域 (D)服裝樣式為短衣短褲

29. ( ) 「道教是中國代表性的本土宗教，起初是瘟疫流行之時，有位名叫張角的男子以燃燒符咒加水替人治病，吸引眾多信徒。」關於上述現象，組織化的道教最早應是出現於何時？ (A)商朝 (B)秦朝 (C)漢朝 (D)唐朝

30. ( ) 一個地區的飲食習慣與當地的氣候、環境有相當的關聯。例如中國黃河流域因為氣候乾燥，以小米為主食；長江流域特色為高溫多雨，故食用稻米。然而，經由文化交流也會引進新的飲食習慣。像是中國因為「甲」，便有大量來自外地的食物傳入，如：番石榴、胡瓜與胡餅等食物。「甲」為下列何者？

(A)秦王贏政統一天下 (B)中央集權的建立 (C)積極的探索絲路 (D)佛教的傳入

31. ( ) 中國主要以農立國，因此計算時節與順應氣候的作息成為國家的重要課題，著名的二十四節氣便由此而來。如果計算錯誤，可能會帶來災難與飢荒。歷代開國君主在改朝換代時，以下列何者來象徵統治的正當性？

(A)興建萬里長城 (B)戶籍資料的建立 (C)分封貴族頭銜與土地 (D)制定新的曆法

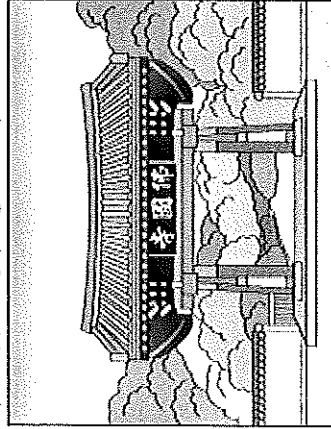
32. ( ) 臺灣是一個擁有諸多宗教的國家，在臺北、高雄等大城市不難見到伊斯蘭教的清真寺圓頂，而清真寺的傳入與戰後中國移民有關。伊斯蘭教在中國也擁有諸多信仰人口，特別是新疆、維吾爾族的居住區域。伊斯蘭教最早傳入中國的契機與何者有關？ (A)秦王贏政統一天下 (B)漢朝出現渴望長生不死的信仰 (C)漢朝時，中國積極探索絲路 (D)唐朝時，阿拉伯商人往來中國貿易

33. ( ) 漢朝初年，漢高祖感念天下剛經過一場動亂，決定對百姓的治理抱持寬鬆的態度。稅收上盡量減稅，勞役也不要造成人民太重的負擔。為的就是不干擾人民，讓人民好好休養生息，不要再回憶起過去秦朝的暴政。下列何者與漢高祖的施政方針有相同的理念？(A)主張和平不征戰 (B)順應大自然規律 (C)重視增加生產 (D)準備動員戰鬥
34. ( ) 大強請教老師：「周朝之後，古代中國政治發展最大的變革是什麼？」老師隨即以附表說明，其中的「★」，最早應出現於何時？

時代	制度特色
周朝	<ul style="list-style-type: none"> <li>封建諸侯擁有世襲的領地和人民。</li> <li>以「親戚關係」為基礎，由統治者經過公開的儀式，確立繼位人選。</li> </ul>
★	<ul style="list-style-type: none"> <li>地方上的行政首長直接由皇帝任命。</li> <li>官位不再世襲。</li> </ul>

(A)秦朝 (B)漢朝 (C)隋朝 (D)唐朝

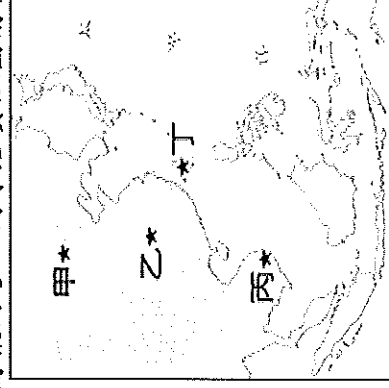
35. ( ) 靜香到韓國旅遊，參觀的佛教寺院建於新羅時代，於1995年列入世界文化遺產。靜香在寺中看到如附圖的文字，下列哪一項敘述最適合用來說明此現象？



- (A)中國文化對周邊民族的影響 (B)甲骨文在新羅王國的傳布 (C)漢字與韓國圖片假名關係密切 (D)新羅長期被中國統治
36. ( ) 附圖(一)為「各地民族文化特色」的簡報內容。同學若要組團前往當地考察，應至附圖(二)的何處進行田野調查？

- 生活：食肉飲奶，游牧為生。
- 服飾：長衣緊袖、長褲皮靴。
- 行動：以馬騎乘，往來快速。

附圖(一)



附圖(二)

(A)甲 (B)乙 (C)丙 (D)丁

37. ( ) 小夫正在玩一款線上遊戲，他在遊戲中扮演一位商人，聽聞不久前張騫終於返抵國門，帶回許多西域的資訊，加上自己(甲)多次在科舉考試中落榜，於是轉行經商，預計(乙)帶領運載原產於中國的絲綢、胡牀、琵琶等珍貴貨物的駱駝商隊前往羅馬。她從長安出發，(丙)先向東方前進敦煌，經今新疆境內翻越蔥嶺，(丁)經過中亞、西亞，歷經重重關卡，最終平安抵達地中海。成功完竣後，小夫對絲路的歷史充滿好奇，但在搜尋資料後發現這款遊戲有多項設定不符合史實。根據遊戲過程判斷，其中哪項設定符合史實？(A)甲 (B)乙 (C)丙 (D)丁

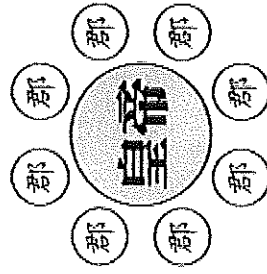
38. ( ) 小丸子正在收看一齣歷史連續劇，劇中有一位扮演戰國時期思想家荀子的演員，其臺詞內容如附圖所示。根據附圖內容判斷，荀子的這段話應是在解釋當時的人們在選擇服飾時，需依據下列何者而遵守不同規範？



39. ( ) 胖虎是一位漢代的地方官員，每年需要撰寫報告向長官說明轄區內的狀況。根據當時的規定，他必須使用下列何種文字撰寫報告？(A)甲骨文 (B)隸書 (C)小篆 (D)楷書

40. ( ) 附圖為胖虎撰寫的歷史小論文中附錄的一張示意圖。根據圖中資訊判斷，他的小論文題目最可能為下列何者？

(A) )階級差異 (B)貧富差距 (C)年齡差距 (D)性別差異



(A) 中國君位傳承的形成與發展 (B) 中國封建制度的形成與發展 (C) 中國民主政治的形成與發展 (D) 中央集權政治的形成與發展

41. ( ) 文字史料是我們了解歷史的重要訊息，然而這些的紀錄卻需透過地下的考古挖掘資料來相互佐證，才能獲得證實。就東亞地區考古挖掘的資料，東亞地區最早的王權統治者為下列何者？  
 (A) 秦朝 (B) 商朝 (C) 周朝 (D) 漢朝
42. ( ) 甲、乙、丙、丁四人針對中國商周至秦漢時期的統治政策進行討論，四人的觀點中何者正確？  
 (A) 甲：當時的統治階層多是透過考試的方式進行選拔  
 (B) 乙：為了有利於統治，此時期逐漸出現統一的語言  
 (C) 丙：此時期為了集權中央，統治者逐步地推展了郡縣制度  
 (D) 丁：地方官員在推行政策時，逐漸形成諸侯割據的局面
43. ( ) 甲骨文是中國文字演變過程中主要的文體之一。下列有關甲骨文的論述，何者的觀念正確？  
 (A) 甲骨文是中國秦朝普遍使用的文字 (B) 此文字主要由貴族用於占卜與記事 (C) 此文字的普遍使用與秦王嬴政統一文字有關 (D) 多數文字被刻畫在鎧甲與人骨上，因此被稱為甲骨文
44. ( ) 小丸子到博物館參觀「東亞地區最早王權統治物件」的展覽，會場中的展示品包括青銅禮器、龜甲、獸骨等，能讓我們了解當時人們的生活樣貌。請問這些資料是在哪一個區域被發現的？  
 (A) 長江流域 (B) 珠江流域 (C) 黃河流域 (D) 印度河流域
45. ( ) 假日回到鄉下外婆度假的小夫，發現一間小廟，廟內拜的竟然是一顆石頭，經外婆解釋才知道該廟是當地有名的石頭公。小夫所接觸的小廟屬於哪一類型的信仰？  
 (A) 佛教信仰 (B) 泛靈信仰 (C) 道教信仰 (D) 巫術信仰
46. ( ) 生命禮俗代表的是每一個文化發展的象徵，在中國古代商周時期，男性貴族的成年禮都如何舉辦？  
 (A) 由長輩在男子頭上插上笄，稱為笄禮 (B) 由男子抓取竹籃裡的物品，稱為抓周  
 (C) 由長者為男子戴上頭冠，稱為冠禮 (D) 由家長送給親朋好友油飯與紅蛋，以象徵成年
47. ( ) 東亞地區的族群在彼此文化的影響下，飲食文化也大大進行了交流，改變了各自的飲食習慣。下列哪一個案例可以視為此種狀況的展現？  
 (A) 游牧民族開始飲茶 (B) 游牧民族開始食肉飲奶 (C) 黃河流域的人民開始食用小米 (D) 長江流域的人們開始食用稻米
48. ( ) 隋朝開國皇帝名為楊堅，諡號隋文帝。據說楊堅從出生開始就不是一般人。他的母親呂氏是在寺廟中夢見蒼龍踞腹而生產的。史書上說，當他降生時，紅光照室，並有紫氣滿庭，紫氣使人的衣服都變成了紫色，這讓周圍的人驚異不已。由於他是在佛寺中出生的，因此傳聞其承有天命，不僅能得有天下，並肩負有復興佛法的使命，因此楊堅得天下後，佛教也隨之在隋朝大興。 請問：上文中的「天命」思想，最早起源於中國的哪一個時期？  
 (A) 周朝 (B) 漢朝 (C) 唐朝 (D) 宋朝

◎請閱讀下列文字，回答 49 題

佛教經典的初級階段，設有五種禁戒，而儒家經典所講的仁、義、禮、智、信，都與它們相合。仁就是不殺生的禁戒，義就是不偷盜的禁戒，禮就是不淫亂的禁戒，智就是不酗酒的禁戒，信就是不虛妄的禁戒。至於像狩獵、征戰、飲宴、刑罰等行為，我們還得順隨著老百姓的天性，不能把它們一下子全部根除掉，只能讓它們存在而有所節制，不至於過分發展。由此看來，那些皈依周公、孔子之道卻違背佛教宗旨的人，是多麼糊塗啊！

49. ( ) 請問：這則資料的觀點應該是下列何者？

(A) 強調儒家地位高於佛教的論述 (B) 佛教所設五禁乃受中國化影響 (C) 論證儒家與佛教兩者能夠會通 (D) 作者強調佛教

與儒家的相異處

50. ( ) 臺大教授高明士在他所編撰的《東亞文化圈的形成與發展：儒家思想篇》的序言中提到「十九世紀中葉以前的東亞地區，以中國為中心，包括朝鮮半島、日本列島，以及中南半島的越南等地方，可說是處在有秩序又有人情味的時代。……我們可發現在古代的東亞地區，是文化背景相差不大且可以溝通的區域。這種地理上文化上的共同體，我們可以稱做『東亞文化圈』」學界又將其稱為『中國文化圈』，或者稱為『漢字文化圈』。」根據上述資料，何者是東亞文化圈的共同特色？

(B) 民主政治制度 (B) 儒家文化思想 (C) 貿易經濟交流 (D) 道教長生不老思想