

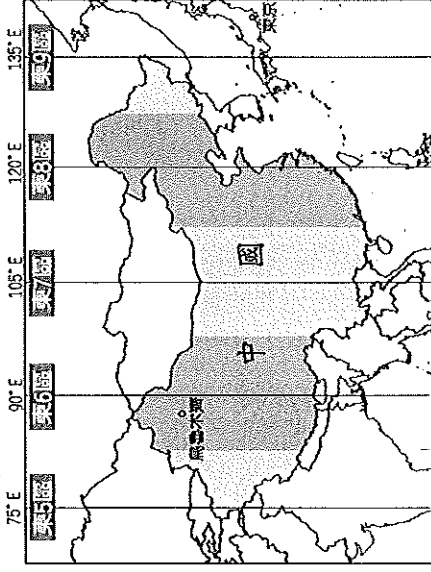
基隆市立武崙國民中學一〇九學年度第一學期第一次段考八年級地理科試題卷

注意事項：

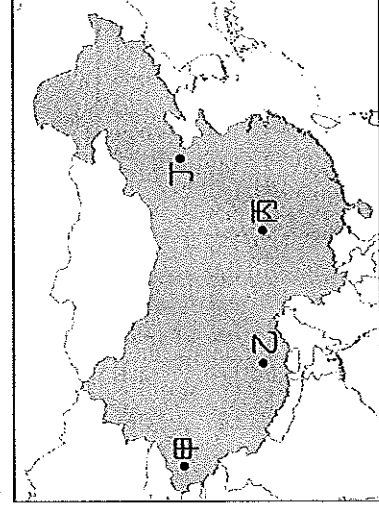
1. 本份試卷為單選題，每題 2 分，共 50 題，總分 100 分。
2. 答案卡限用 2B 鉛筆畫記，若畫記錯誤，請擦拭乾淨。分數以電腦讀卡分數為準。
3. 答案卡上的資料欄請確實填寫，若資料欄畫記錯誤導致電腦無法正確判讀，扣總分 10 分。

班級：八年 班座號： 姓名：

- () 1. 附圖為中國時區圖，請問：中國境內統一以哪一個時區作為標準時間？ (A) 東 6 區 (B) 東 7 區 (C) 東 8 區 (D) 東 9 區。

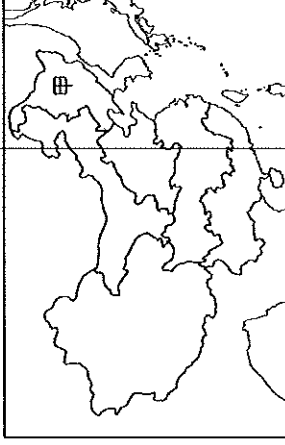


- () 2. 為呼籲全球正視氣候變遷議題，各國紛紛發起地球一小時(Earth Hour)活動，藉由夜晚熄燈 1 小時來減碳、守護地球。若中國在 3 月 28 日晚 8 點於各大城市舉辦上述活動，則附圖中哪一城市在關燈時的天色最亮？ (A) 甲 (B) 乙 (C) 丙 (D) 丁。

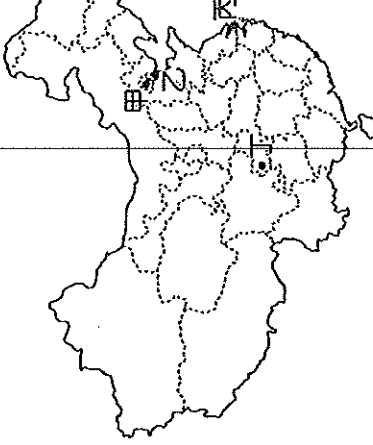


- () 3. 放寒假的時候，芷翔去了哈爾濱滑雪，劬尹則去了海南島享受海島風光，兩地景觀差異如此大的主要原因為何？ (A) 緯度跨度大 (B) 海陸差異大 (C) 經度跨度大 (D) 地形差異大。
- () 4. 中國現行的行政區劃中，下列何者不屬於省級行政區？ (A) 經濟特區 (B) 自治區 (C) 特別行政區 (D) 省。
- () 5. 北回歸線穿越的行政區有：(甲) 廣東省 (乙) 雲南省 (丙) 廣西壯族自治區，由西向東排列，下列何者正確？ (A) 甲乙丙 (B) 丙甲乙 (C) 乙丙甲 (D) 乙甲丙。
- () 6. 藏族服裝的基本特點是「寬大、長袖、寬腰、右襟」，是一種無需量體裁衣的直線服裝。其特點主要是為適應當地何種氣候特徵？ (A) 日溫差大 (B) 年溫差小 (C) 降水稀少 (D) 空氣稀薄。
- () 7. 中國的山脈中，下列何者是呈「東北—西南」走向？ (A) 崑崙山 (B) 秦嶺 (C) 大興安嶺 (D) 天山。

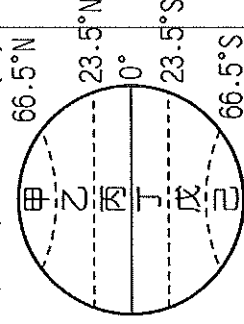
- () 8. 附圖為中國境內分區圖，圖中甲區域的陸上鄰國為下列哪些國家？ (A) 蒙古、南韓 (B) 俄羅斯、哈薩克 (C) 蒙古、印度 (D) 北韓、俄羅斯。



- () 9. 附圖為中國四個直轄市的分布位置圖。圖中哪個城市現為中華人民共和國的首都，也曾是奧運的主辦城市？ (A) 甲 (B) 乙 (C) 丙 (D) 丁。



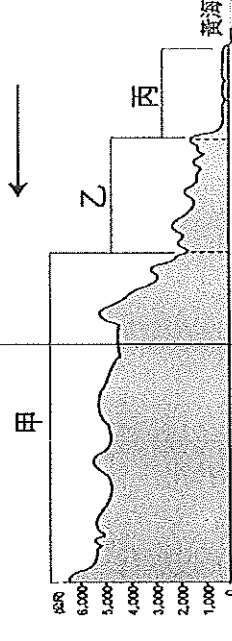
- () 10. 中國位於季風亞洲，天然環境優越，物產豐富，人口眾多。請問：中國的疆域主要位於附圖中哪一區？ (A) 甲 (B) 乙 (C) 丙 (D) 丁。



- () 11. 英國有「日不落國」之稱，殖民地遍布全球，部分被殖民的國家或地區將英國的米字旗放在國旗的左上角。中國某個地區在主權移交之前，其代表旗幟如附圖，請問：該旗幟最可能為中國哪個行政區早期所有？ (A) 上海 (B) 廣州 (C) 香港 (D) 澳門。



- () 12. 附圖是中國沿著 36°N 繪製的地形剖面圖。請問：圖中箭頭所指的是哪個方向？ (A) 東方 (B) 西方 (C) 南方 (D) 北方。

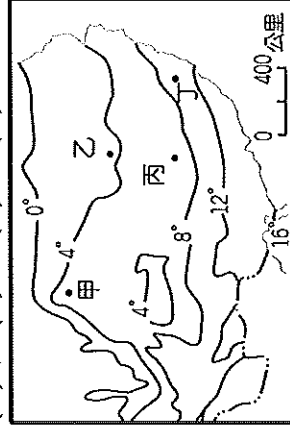


() 13. 古代將東方的絲綢、瓷器等商品運送至西方的交通路線，稱為「絲路」。請問：中國早期藉由陸上絲路和下列哪個地區進行商業貿易活動？

(A)北美洲 (B)南美洲 (C)大洋洲 (D)歐洲。

() 14. 附圖是中國某地區的等溫線圖(單位：°C)，根據圖中資料判斷，圖中哪一地點的氣溫最低？

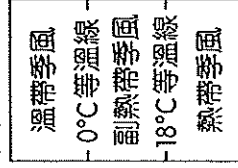
(A)甲 (B)乙 (C)丙 (D)丁。



() 15. 山脈常具有自然及人文環境的阻隔性。請問：附圖中哪座山脈是中國北部區域與南部區域的重要分界？ (A)甲 (B)乙 (C)丙 (D)丁。



() 16. 附圖為中國季風氣候類型的分界線圖。請問：圖中的分類準則為何？ (A)最暖月均溫 (B)最冷月均溫 (C)年均溫 (D)年溫差。



() 17. 附圖中，中國境內哪個地區因為距海遙遠、氣候乾燥，成為全國最大沙漠分布地？ (A)甲 (B)乙 (C)丙 (D)丁。



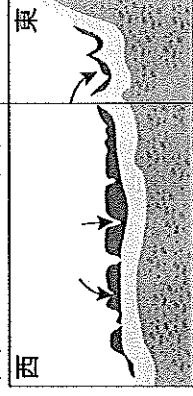
() 18. 「珠江三角洲」過去主要為農地和村落，經改革開放後，大量資金湧入設廠，逐漸成為中國重要的製造重鎮。請問：珠江三角洲位於附圖中何處？ (A)甲 (B)乙 (C)丙 (D)丁。



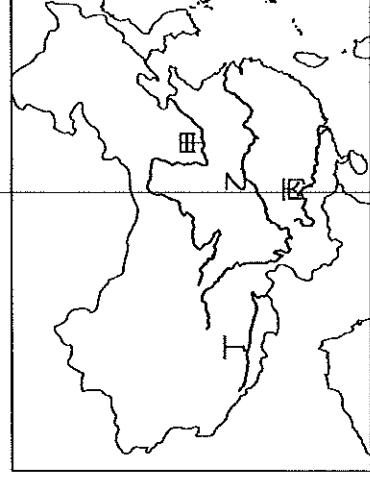
() 19. 附表為中國四大高原的地形特色。請問：表中哪座高原的景觀特色為千溝萬壑且水土流失嚴重？ (A)甲 (B)乙 (C)丙 (D)丁。

高原	地形特徵
甲	覆蓋深厚黃土層
乙	雪山連綿，冰河地形廣布
丙	石灰岩地形發達
丁	地形平坦，景色荒涼

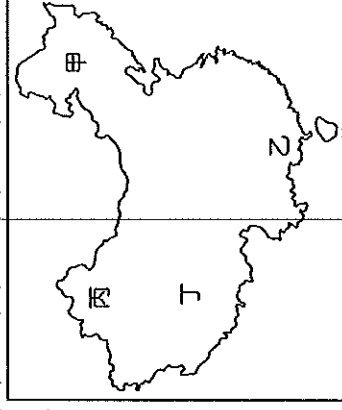
() 20. 承上題，附圖為此處地形示意圖，圖中箭頭所指的是「溝谷」。請問：這些「溝谷」形成的原因為下列何者？ (A)斷層陷落 (B)風力侵蝕 (C)雨水溶蝕 (D)流水侵蝕。



() 21. 附圖為中國主要河川分布圖。請問：圖中哪一條河川的流域經過高地、乾燥及季風三種類型的氣候區？ (A)甲 (B)乙 (C)丙 (D)丁。

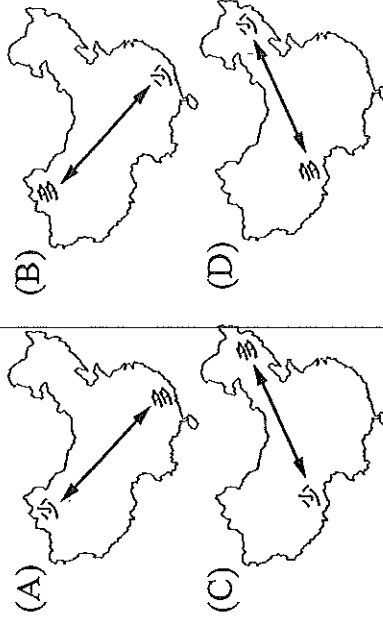


() 22. 中國各地的溫差受到緯度高低及距海遠近的影響。附圖中哪個地方的年溫差及日溫差最小？ (A)甲 (B)乙 (C)丙 (D)丁。

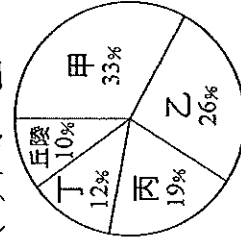


() 23. 影響中國氣候的因素有：(甲)緯度(乙)季風(丙)地形(丁)距海遠近。請問：中國年降水量的分布受到哪些因素的影響較大？ (A)甲乙丙 (B)甲乙丁 (C)甲丙丁 (D)乙丙丁。

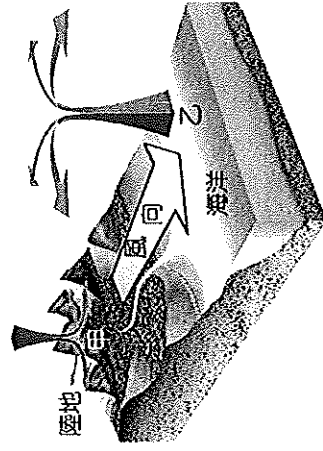
() 24. 承上題，下列哪一示意圖，最能正確呈現中國年降水量的分布？



- ()25. 中國實施一胎化政策造成人口金字塔圖出現明顯的變化，而其所造成的影響不包括下列何者？(A)性別比上升 (B)未來勞動人口短缺 (C)城鄉人口分布不均 (D)人口高齡化現象。
- ()26. 中國境內有55個民族，除了漢族，多為少數民族所組成，因此特別成立自治區以維持其特色。請問：目前成立自治區的民族中不包括下列何者？(A)回族 (B)滿族 (C)藏族 (D)壯族。
- ()27. 附圖為中國五大地形面積比例圖，請問：圖中甲乙分別為何種地形？(A)山地、高原 (B)平原、盆地 (C)平原、高原 (D)山地、盆地。



- ()28. 下列哪些原因造成中國人口分布集中於東半部？(甲)地形平坦(乙)氣候乾燥(丙)交通便利(丁)經濟發達 (A)甲乙丙 (B)甲乙丁 (C)甲丙丁 (D)乙丙丁。
- ()29. 附圖為某季節氣壓及風向示意圖，請問：依圖中資料判斷，甲、乙所代表的氣壓現象分別為何？(A)甲—高氣壓；乙—低氣壓 (B)甲—低氣壓；乙—高氣壓 (C)皆為高氣壓 (D)皆為低氣壓。



- ()30. 附圖為中國疆域。請問：圖中甲地冬、夏季風風向分別為何？
 (A)冬：↑，夏：↓ (B)冬：↙，夏：↗
 (C)冬：↓，夏：↑ (D)冬：↘，夏：↖



- ()31. 早期中國文化重心在北方，因饑荒或戰亂等因素，造成人口遷移。請問：上述的遷移方向可能為下列何者？(A)丙→甲 (B)乙→丙 (C)丙→丁 (D)乙→丁。



- ()32. 中國境內的氣候多以秦嶺及淮河作為分界線，請問：下列有關中國以秦嶺、淮河為分界線的氣候特色的敘述，何者有誤？(A)甲 (B)乙 (C)丙 (D)丁。

項目	(甲)年雨量	(乙)氣候類型	(丙)交通	(丁)作物
秦嶺淮河以北	<500mm	溫帶季風氣候	陸運為主	小麥為主
秦嶺淮河以南	>500mm	副熱帶季風氣候	水運為主	稻米為主

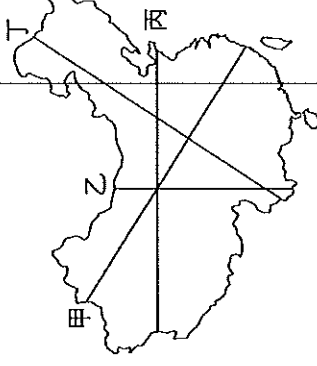
- ()33. 承上題，附表哪一個地區最可能位於秦嶺、淮河以北，居民以麵食為主？(A)甲 (B)乙 (C)丙 (D)丁。

地區	年雨量(mm)	一月均溫(°C)	七月均溫(°C)
甲	19	-8.1	33.2
乙	683	-5.0	25.4
丙	1,223	3.5	28.8
丁	2,290	20.4	28.0

- ()34. 小婷到上海人民公園休閒散步，看到某位父親張貼海報為兒子徵婚，如附圖。請問：此與現象中國哪一種人口問題相關？(A)人口數太多 (B)少子化 (C)高齡化 (D)性別比失衡。



- ()35. 中國人口分布不均，附圖中哪條線可做為中國人口分布密集與稀疏的主要分界？
 (A)甲 (B)乙 (C)丙 (D)丁。



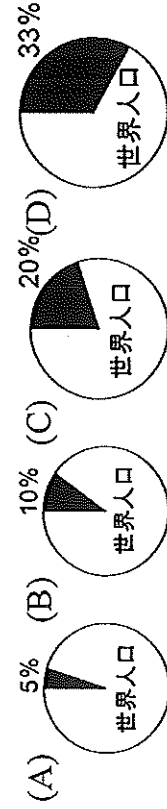
- ()36. 尚緯計畫撰寫一篇關於「明清時期臺灣漢人移民」的報告。若他想要在報告中利用地圖輔助，標示出漢人移民來源地，請問，他應標示下列哪一個地區？(A)甲 (B)乙 (C)丙 (D)丁。



【試題尚未結束，請翻頁繼續作答！】

※中國總人口在西元2010年已經超過13億，是全世界人口最多的國家。請問：

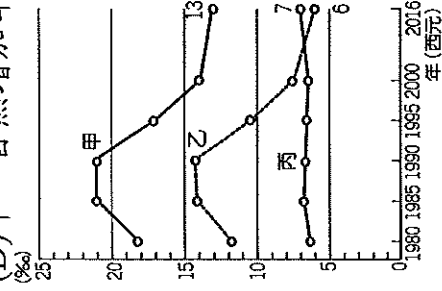
- () 37. 若以黑色部分標示中國人口所占的比例，則下列哪一張圖最接近現狀？



- () 38. 中國有全世界最龐大的人口數量，此種人文特性為中國經濟發展提供哪些優越的條件？
(A)原料、市場 (B)資金、勞工 (C)原料、動力 (D)勞工、市場。

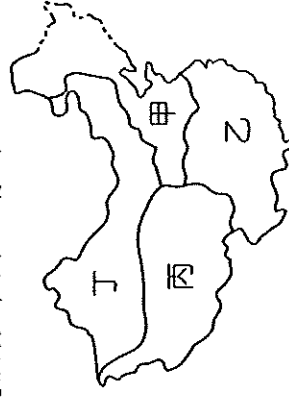
() 39. 附圖為中國自1980年以來的出生率、死亡率、自然增加率統計圖，請問：圖中甲、乙、丙線段依序代表應為哪一種人口變化曲線？

- (A)甲—出生率、乙—死亡率、丙—自然增加率
(B)甲—出生率、乙—自然增加率、丙—死亡率
(C)甲—死亡率、乙—出生率、丙—自然增加率
(D)甲—自然增加率、乙—出生率、丙—死亡率



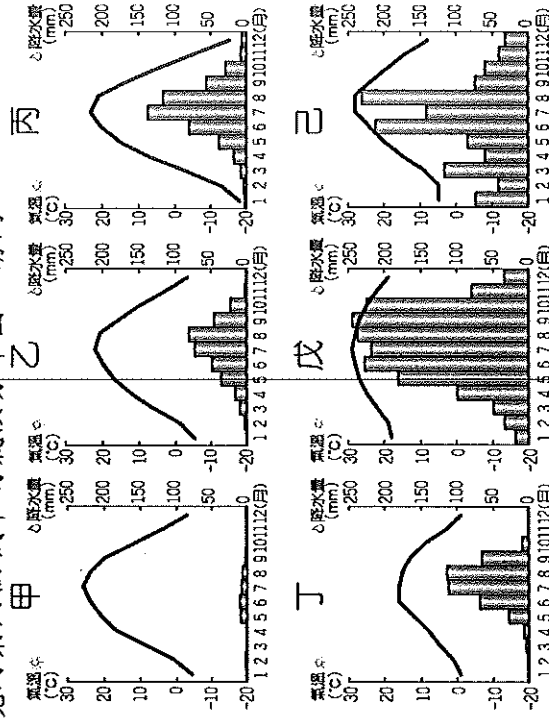
- () 40. 承上題，請問：由圖中資料判斷，下列相關敘述，何者正確？ (A)出生率下降、人口增加 (B)死亡率下降、人口增加 (C)出生率下降、人口減少 (D)死亡率上升、人口減少。

※中國氣候多樣，對各地居民的生活方式影響甚鉅，附圖為中國氣候分布圖，請問：



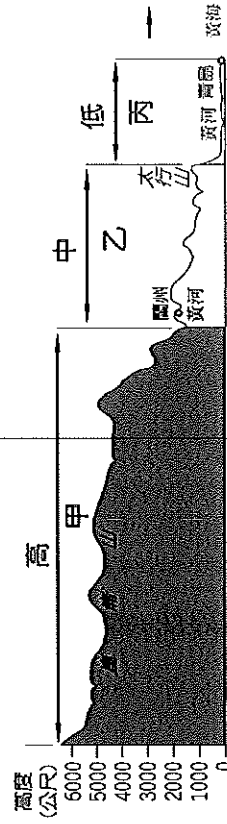
- () 41. 附圖中哪一個地區因為氣候乾燥，年、日溫差均大，人口多集中於綠洲附近，造成人口分布不均，影響聚落及產業的發展甚鉅？ (A)甲 (B)乙 (C)丙 (D)丁。
- () 42. 「當地居民因逐水草而居，容易拆卸的帳棚為居所，駱駝是他們遷徙所使用的傳統交通工具……。」上文描述的生活方式最可能出現在附圖中哪一個地區？ (A)甲 (B)乙 (C)丙 (D)丁。
- () 43. 「居民以肉、乳為主食，為適應嚴寒的高地氣候，飼養犛牛，以其為主要的獸。」上文描述的是附圖中哪一個地區的生活方式？ (A)甲 (B)乙 (C)丙 (D)丁。

※中國面積廣大，形成多樣性的氣候分布特色。附圖為中國境內某六個城市的氣候分布圖，請問：



- () 44. 秦嶺、淮河為中國氣候上重要的地理分界線，其北、南兩側分別為附圖中哪兩種氣候類型？ (A)甲乙 (B)乙丙 (C)丙己 (D)丁戊。
- () 45. 影響中國氣候的因素包含了緯度、地形、距海遠近等。請問：哪一張氣候圖所在地因高海拔、終年積雪，風力強？ (A)甲 (B)丙 (C)丁 (D)己。
- () 46. 緯度是影響中國氣候的重要因素，請問：附圖中何處距離赤道應最近？ (A)甲 (B)丙 (C)丁 (D)戊。

※附圖為「中國三階梯地形剖面圖」。請問：



- () 47. 圖中的低階地形中，主要以哪些地形為主體？ (A)山地、高原 (B)高原、盆地 (C)平原、丘陵 (D)高原、丘陵。
- () 48. 由圖可知中國地形的特徵為何？ (A)地勢西高東低 (B)平原面積比例高 (C)疆域面積廣闊 (D)山脈呈南北走向。
- () 49. 承上題，此種地形特徵所造成的影響與下列何者沒有直接的因果關係？ (A)冬、夏兩季的風向會相反 (B)重要大河大多由西往東流 (C)東部沿海地區人口較稠密 (D)海洋暖溼氣流能向西深入內陸。
- () 50. 圖中的甲、乙、丙分別是中國哪個地形區？ (A)青藏高原、黃土高原、華北平原 (B)內蒙古高原、黃土高原、東北平原 (C)青藏高原、內蒙古高原、珠江三角洲 (D)內蒙古高原、雲貴高原、長江中下游平原。