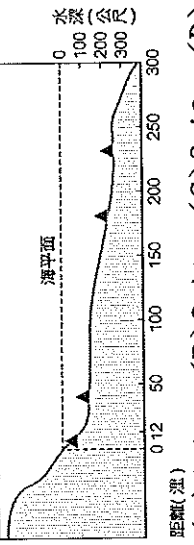


# 基隆市立武崙國民中學 109 學年度第一學期公民科第一次段考試卷

## 一、單選題：全部共 40 題 每題 2.5 分 滿分 100 分

- ( ) 1. 「對內有完全的統治能力，對外能免於各種干涉和侵略，並與他國建立平等的關係。」上述中所指的是哪項國家構成要素？  
(A) 人民 (B) 領土 (C) 主權 (D) 政府
- ( ) 2. 根據內政部的統計，近年來臺灣因異國婚姻而移入的外籍配偶及其生育的第二代人數均急速的攀升。這將大幅影響國家組成的哪一個要素結構？  
(A) 人民 (B) 領土 (C) 政府 (D) 主權
- ( ) 3. 國家統治權行使的特定範圍稱為「領土」。一個國家的領土包括下列哪些範圍？  
(甲) 領空；(乙) 領陸；(丙) 領海；(丁) 經濟海域  
(A) 甲乙丙 (B) 甲丙丁 (C) 乙丙丁 (D) 甲乙丁
- ( ) 4. 下列哪一位同學的敘述最符合國家構成要素的意涵？  
(A) 小明：「沒有政府的原始人也能組成國家。」 (B) 老張：「每個國家一定會有自己的國旗、國歌。」 (C) 阿軒：「全世界都知道英國人喝下午茶的习惯。」 (D) 小鳳：「臺澎金馬地區為目前中華民國所管轄的範圍。」
- ( ) 5. 中國經常干預我國加入聯合國、世界衛生組織等國際組織，並屢次在國際會議中無理打壓，將我國矮化為中國的一部分。上述現象主要涉及何種爭議？  
(A) 人民 (B) 政府 (C) 領土 (D) 主權
- ( ) 6. 胖虎閱讀世界歷史書籍時，看到下列句子：「要防止濫用權力，就必須以權力約束權力。」上述概念最可能用來強調下列何者？ (A) 權力分立的重要性 (B) 性別平權的重要性 (C) 法律的強制性 (D) 主權的獨立性
- ( ) 7. 人民為國家的構成要素之一。依據法律的相關規定，人民如果具有某國國籍，就是該國國民。下列哪個人的敘述，最足以判斷他是中華民國的國民？  
(A) 小強：「我的大學學生證號碼是 9401086。」 (B) 老王：「我在市政府擔任外語翻譯的工作。」  
(C) 龍哥：「下個月市長選舉時，我有投票權。」 (D) 小史：「我居住在臺南，就讀高職一年級。」
- ( ) 8. 附圖為某一國家海底地形剖面示意圖，▲記號為油氣蘊藏區的位置。依「領海及經濟海域可開採資源」的劃分方式判斷，這個國家在圖中擁有幾個油氣蘊藏區的開採權？  

- ( ) 9. 大法官在釋字第 664 號解釋文中，認為當時的《少年事件處理法》對裁定逃學、逃家少年移送感化教育之部分條文違憲，應自解釋公布日起一個月內失去效力。上述情形可凸顯我國《憲法》的何種特性？  
(A) 最高性 (B) 固定性 (C) 原則性 (D) 正當性
- ( ) 10. 某政論家在媒體上發言：「以後我國勢必更難進行憲政工程，因為立法院提出修憲案後，還須全國具有投票權的公民過半數同意，才能修改《憲法》。」上述政論家的說法，凸顯我國《憲法》的何種特性？  
(A) 最高性 (B) 固定性 (C) 原則性 (D) 正當性
- ( ) 11. 現代民主國家採行權力分立的政治體制，但是古代國家的行政權與立法權最可能屬於下列何者？  
(A) 人民 (B) 君主 (C) 家庭 (D) 法官
- ( ) 12. 日本公布最新版高中教科書的審定結果，教科書內，日本把南韓稱為獨島的竹島，列為日本領土，南韓政府就此表示抗議，並要求日本更正。上述衝突主要涉及兩國之間的何種爭議？  
(A) 政權紛爭 (B) 種族歧視 (C) 領土主權 (D) 宗教自由
- ( ) 13. 大雄整理了一份報告如下：(甲)立法機關制定法律；(乙)行政機關依法行政；(丙)司法機關依法審判；(丁)政府和人民皆須遵守法律規定。大雄報告的主題應是指下列何者？  
(A) 法治 (B) 民主 (C) 自由 (D) 經濟

( )14. 右圖是一則國際詐騙案的報導。關於當中提到的國家要素，哪項敘述正確？

(A)甲指構成國家的成員 (B)乙指國家的統治機關  
(C)丙為國家的最高權力 (D)丁若對內具有最高性

( )15. 新加坡國父李光耀逝世，擔任總理的長子李顯龍如何處理國內外的挑戰，引發各國關注新加坡的未來走向。下列關於該國國家組成要素的配對敘述，何者正確？

(A)政府：人民行動黨打造廉潔有效率的執政團隊 (B)人民：新加坡僅是大小和臺北市相當的小島嶼 (C)主權：新加坡計四大種族和十個官方認可的宗教 (D)領土：新加坡於一九六五年正式成為獨立共和國

( )16. 在(甲)《勞動基準法》修正上路之後，勞動部正式公告(乙)《勞動基準法施行細則》修正，其中特休假方式大幅放寬。關於以上法律的敘述，何者正確？

(A)甲法為狹義的法律，由總統府制定與公布 (B)乙法補充甲法規定，說明甲法具有最高性 (C)甲法、乙法的法律效力相同，都高於命令 (D)乙法由行政機關制定，規範內容具體詳盡

( )17. 政府修訂《建築技術規則》部分條文，明定新建旅館客房數達16間以上100間以下，須設置無障礙客房。上述規則修訂是屬於下列哪個機關的職權？

(A)民意機關 (B)司法機關 (C)行政機關 (D)審計機關

( )18. 右圖為我國廣義的法律位階示意圖，圖中灰色區塊所代表的法律類型，具有下列何項特色？

(A)由行政機關訂定 (B)必須經總統公布施行 (C)容多為原則性的規範 (D)修改必須經公民投票複決

( )19. 2016年美國總統大選落幕後，即將卸任的歐巴馬，立刻在白宮會見新總統當選人川普，討論交接事宜。兩人就內政和外交等，各項政策議題進行討論，歐巴馬表示，順利轉移政權是目前最重要的事。以下對於美國與新政府關係的敘述，何者正確？

(A)總統由人民選舉產生說明民主國家政府必須得到人民的授權 (B)由川普領導的政府處理美國的內政和外交，這是制衡的概念 (C)美國總統可能因選舉而改變，國家存在的時間較政府短 (D)歐巴馬要轉移給川普的權力，依三權分立原則判斷為立法權

( )20. 民主理論重要的思想家孟德斯鳩認為「要防止濫用權力，就必須以權力約束權力。」所以，為了不讓掌權者濫權，孟德斯鳩主張的三權分立是將政府的權力劃分為哪些？

(A)行政、立法與監察 (B)行政、立法與外交 (C)行政、立法與司法 (D)行政、立法與考試  
( )21. 阿源上網搜尋「分權制衡」(Checks and balances)，網頁上寫著「在美國，分權是指將政府的權力劃分並由不同機構掌理，並且每個權力間要相互牽制，以避免任何一個權力過大。」以下哪一個選項的內容可能出現在該網頁上？

(A)立法權屬於總統，可以制定法律 (B)行政權屬於國會，可以執行政策 (C)司法院設各級法院，可獨立審判 (D)為了制衡，總統由國會選舉產生

( )22. 屏東籍漁船「東聖吉十六號」曾經在沖之鳥礁附近作業，結果被日本認定擅闖其專屬經濟海域，全船遭到日本的扣押，引發台日關係的緊張，我國政府於是展開護漁行動。以上造成台日關係緊張的原因是由於何項現代國家構成要素的爭議？

(A)人民及領土 (B)領土及主權 (C)主權及人民 (D)領土及政府

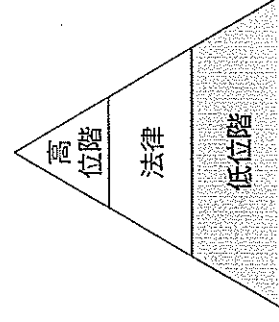
( )23. 新加坡由於國土大小與一個城市相似而被稱為「城市國家」，澳門則是中國的一個城市，若以國家組成要素比較兩者間的差異，以下敘述何者正確？

(A)新加坡的統治者為民選總統，是國家元首 (B)新加坡的主權在經過選舉後就會發生改變 (C)住在澳門的人民國籍屬於澳門特別行政區 (D)澳門的政府能維持其不受外力干涉之地位

( )24. 自2002年起，歐盟部分會員國先後同意放棄原有的貨幣，改採「歐元」作為共同的交易媒介，希望先透過經濟的合作，而後逐步達成政治上更緊密的整合。在上述歐盟經濟合作的過程中，首先受到影響的是下列何者？ (A)國家主權 (B)政黨制度 (C)領土範圍 (D)基本人權

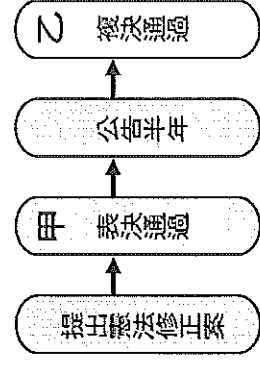
( )25. 政府的行政行為應該受到法律的約束，避免政府過度權力擴張，使得人民的權利受到侵害。這是行政法上的何種原則？ (A)比例原則 (B)保護原則 (C)公益原則 (D)依法行政原則

西班牙與中國聯手破獲詐騙案，西班牙內閣部長會議決定，將(乙)涉案的二百多位我國籍嫌犯引渡到中國。(丙)我方外交部希望西班牙能將涉案人遣返我國，但由於(丁)西班牙和中國簽有引渡及司法互助條約，故對我方未有正面回應。



( ) 26. 課本上的修憲流程如右圖，小憲上課作筆記時在甲、乙兩處加入標註，使資料更清楚。下列何者最可能是小憲所標註的內容？

- (A) 甲：立法院、乙：公民投票 (B) 甲：監察院、乙：司法院大法官  
 (C) 甲：行政機關、乙：立法院 (D) 甲：司法院大法官、乙：公民投票



( ) 27. 為了說明某項法律概念，子瑜在說明何項法律的概念？明，請根據內容判斷，子瑜在說明何項法律的概念？

法律條文	舉例
《國民教育法》第 2 條	6 歲至 15 歲國民之強迫入學，另以法律定之
《強迫入學條例》第 16 條	本條例施行細則由教育部定之
《強迫入學條例施行細則》第 1 條	本細則依強迫入學條例第 16 條規定訂定之

- (A) 法律功能的種類 (B) 法律的固定特性 (C) 法治觀念的養成 (D) 法律位階的高低
- ( ) 28. 晨翰與皓宇正在討論國家組成的要素及其存在的內涵，他們整理出下列四個情境的案例，其中哪項內容的推論可以符合國家組成要素的定義？
- (A) 近年來從國外移入並歸化的新住民尚不能算是該國的人民 (B) 位於我國 12 海裡內的一座長期無人居住的小島不算是領土 (C) 即使是以軍事變強行取得的政權仍然是屬於該國的政府 (D) 某地方首長與他國農業部長簽訂的投資協議為主權的展現
- ( ) 29. 現代民主國家強調政府的權力要彼此「分立」，也要相互「制衡」，才能保障人民權利和防止政府濫權。為了確保上述目標，民主國家可以採取下列哪種機制或作為？
- (A) 擴大編制並強化國家的警察制度 (B) 提高法官司法審判個人自主權限 (C) 給予人民對政策的公投複決權利 (D) 以《憲法》規範政府組織與權力
- ( ) 30. 《憲法》是用來規範政府職權與保障人權，生活中我們尚須面對法律與命令等規範。關於《憲法》與其他兩種法規的運作關係特性與制定程序，下列敘述何者正確？
- (A) 《憲法》是位階最高的法律，與之抵觸無效，此為「最高性」原則 (B) 法律的規定若有不清楚，則以《憲法》的「原則性」內涵作為補充 (C) 若有不合時宜的《憲法》內容存在，則由司法院大法官負責修憲 (D) 《憲法》的「固定性」是指為維持國家秩序穩定而不可修改的意思
- ( ) 31. 政府單位若接到民眾舉報違章建物並經查證屬實後欲進行拆除前，必須給予所有權人一定時間的陳述意見之機會，在確定無誤後才能執行公務。上述程序屬於法治社會下的哪項特徵？
- (A) 法律是人民同意且依程序制定，無法律規範不得限制人民權利 (B) 政府作為必須受到法律的約束，因此才不會擴權侵犯人民權利 (C) 法律規範人民應該與不應該做的行為，但政府不一定依行政 (D) 人民以多數決的方式制定法律，並可依此限定政府權力的運作
- ( ) 32. 部分民間團體主張，目前世界上多數國家公民的投票年齡皆為 18 歲，建議將我國公職人員選舉的投票資格門檻下修至 18 歲，讓年輕人能早點參與公共事務。若上述主張經修法通過，僅考量年齡的條件，下列關於「因修法而獲得投票資格者」的敘述，何者正確？
- (A) 具有合法童工資格 (B) 具備完全行為能力 (C) 具備完全刑事責任能力 (D) 具有公職人員選舉資格
- ( ) 33. 新加坡總理由國會最大黨的領袖出任，憲法規定至少每五年要改選一次，政府長期由人民行動黨執政。新加坡大選的投票是強制的，但人民是依自由意志投票。文中提及新加坡每五年舉行一次大選，其結果可能會使國家的領導人更換；因此，這樣的選舉模式對於國家組成要素的影響將會有下列哪一種結果？
- (A) 前政府與外國簽訂條約的主權行為將失效 (B) 政府執行國家權力的強弱會影響領海大小 (C) 即使政府領導團隊更替也不影響國家存在 (D) 人民為國家成員，其多寡與政府強弱有關

## 二、題組：

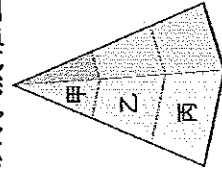
1. 有公職人員表示將提廢除監察院修憲案，將調查權歸立法院，審計權歸行政院，待修憲案提出後將隨即展開連署。不過考量提案門檻甚高，該公職人員主張先凍結監察院的預算，將監察院虛級化。請問：

( ) 34. 上述公職人員最可能任職下列哪一政府機關？ (A) 司法院 (B) 立法院 (C) 行政院 (D) 總統府

( ) 35. 該公職人員希望以提出修憲的方式廢除監察院，是基於《憲法》的何種特性？

(A) 是政府的組織法 (B) 是人民權利保障書 (C) 僅規範基本事項 (D) 是萬法之母、眾法之源

2. 政府提出《槍砲彈藥刀械管制條例》修正案，修改撤銷、廢止申請持有獵槍許可規定，除非犯下故意殺人、故意傷害、搶奪等重大犯罪，否則警政單位不得任意撤銷原住民獵槍持有資格，以維護原住民獵槍獵權益及文化傳承。附圖為法律位階示意圖，請問：



( ) 36. 關於上文提到的法規，下列敘述何者正確？ (A) 屬於甲位階，規範國家根本事項 (B) 屬於乙位階，落實憲法根本規範 (C) 屬於丙位階，法條內容詳盡清楚 (D) 屬於乙位階，修改程序困難繁瑣

( ) 37. 管制槍砲可保護人民生命安全，但為維護原住民的狩獵權益，保障其文化傳承，開放原住民合法擁有獵槍。以上三段畫底線處，依序說明哪些法律功能？①保障人民權利；②維持社會秩序；③促進社會進步 (A) ①②③ (B) ①③② (C) ②①③ (D) ③①②

( ) 38. 上述法規修正通過後，必須經由何者公布？ (A) 總統 (B) 立法院院長 (C) 大法官 (D) 司法院院長

3. 因為一宗香港人在臺灣殺害女友的案件，所以香港政府（下稱港府）提出修改《逃犯條例》此事，讓中國、澳門和臺灣也能使用引渡法律。港府聲稱此舉僅是為了修補法律漏洞，不希望香港成為「逃犯天堂」。香港大學針對反送中事件從6月至8月進行為期兩個月的民意調查，詢問示威民眾參與抗議活動的原因。香港（甲）民主派團體「民間人權陣線（簡稱民陣）」發起大規模遊行，但港府拒絕退讓，堅持草案恢復二讀，導致香港各界發起三罷（罷工、罷課、罷市），成千上萬名示威者包圍（乙）立法會，力阻法案通過。林鄭月娥則是強調不會「撤回」條例，只稱條例「壽終正寢」。抗議活動逐步升級，示威者們包圍警署和政府部門，影響其運作，訴求由反修例，延伸至警權及政治改革進程。請問：

( ) 39. 上述（甲）、（乙）分別代表下列哪項國家組成的要素？ (A) 人民、政府 (B) 領土、政府 (C) 政府、主權 (D) 人民、主權

( ) 40. 上述畫底線處的過程主要與下列哪些權力最為相關？ (A) 行政權、司法權 (B) 立法權、行政權 (C) 立法權、司法權 (D) 司法權、監察權

示威者參與抗議活動的原因  
認為關於訴求「非常重要」的百分比

