

基隆市立武崙國中 109 學年度第一學期 第一次段考 七年級社會科試卷——歷史科


電腦讀卡，請使用 2B 鉛筆，並依據題號在答案卡上作答，答案卡無法判斷身分者，扣總分 10 分

範圍：第一冊 L.1-L.2 本試卷共 45 題 共 4 面 班級：\_\_\_\_\_ 座號：\_\_\_\_\_ 姓名：\_\_\_\_\_

**\*單選題 (第 1~35 題，每題 2 分；第 36~45 題，每題 3 分)**

1. 歷史課堂上幾位同學在討論「什麼是歷史？」以下是同學們發表的論點，其中何者的說法是正確的呢？  
(A)歷史包含未來可能會發生的事 (B)可以透過遺物與遺址推測過去所發生的事 (C)神話與傳說對於了解歷史毫無幫助 (D)了解歷史，僅靠文字紀錄來窺探過去
2. 人類透過「紀年」的方式來記錄歷史、追溯歷史。關於「紀年」的敘述，何者有誤？  
(A)西方基督教國家，以耶穌出生該年為西元元年，一百年為一世紀 (B)君主制國家，例如今日的南韓，通常以皇帝年號作為紀年的方式 (C)中國與受其文化影響較深的國家，常用天干地支的紀年方式，一甲子為六十年 (D)中華民國以 1912 年建立政府當年，是為民國元年

3. 中國傳統曆法以十天干和十二地支的組合來紀年。西元 2020 年為庚子年，同學們踏進了武崙國中，到了西元 2023 年，同學們就要離開武崙國中，迎接新一階段的學校生活。請問，西元 2023 年，依據干支組合搭配，會是什麼者呢？ (A)辛丑年 (B)甲亥年 (C)癸卯年 (D)壬寅年
4. 處在國際競爭時期的台灣，如右圖所示，應為哪一階段呢？

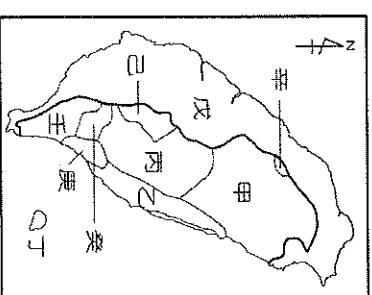


甲遺址—發現少量的碳化穀粒及鐵器做成的器具。  
乙遺址—發現木炭及石片打製成的石器。  
丙遺址—發現陶器製成的瓶、罐、盆等。

5. 右圖是安安老師整理的出土文物史料。請依時間先後排列出這三種遺址形成的順序？ (A)乙丙甲 (B)甲乙丙 (C)丙乙甲 (D)乙甲丙
6. 學者們發現東南亞史前遺址中經常可以看到臺灣玉器的出土。請問：這在考古歷史上有何意義？  
(A)代表臺灣與東南亞可能有貿易往來 (B)代表臺灣是南島語族的長期定居地點 (C)代表臺灣為東南亞移民的祖先 (D)代表東南亞也有臺灣玉石礦開採
7. 資料一：這群人甘冒政府海禁的風險出海做生意。資料二：這些人擁有武裝，會搶劫其他商人，甚至敢對抗政府。由資料一、二可判斷這是在談論以下哪種人？ (A)荷蘭人 (B)海南 (C)西班牙人 (D)漢人
8. 在《全臺詩》中收入了一首詩：「開闢荊榛逐荷夷，十年始克復先基。田橫尚有三千客，茹苦間關不忍離。」由內容推斷，寫下此首詩的歷史人物是何人？ (A)鄭芝龍 (B)鄭成功 (C)李旦 (D)顏思齊
9. 博宇：「荷人對漢人苛徵重稅，嚴禁漢人與原住民私相交易。」于靚：「是啊！這些異族人逼迫原住民女子為妻的漢人改變宗教信仰，限制漢人集會自由。」上述二人可能正在探討哪一社會動亂的背景因素？  
(A)林爽文事件 (B)朱一貴事件 (C)郭懷一事件 (D)戴潮春事件
10. 嘉祐在史前文化博物館中看到右列資料。請問：資料中的內容是哪一史前文化的特色？ (A)長濱文化 (B)圓山文化 (C)卑南文化 (D)十三行文化
- |                                |
|--------------------------------|
| (一) 生存時間：西元前 7000 年至西元前 2000 年 |
| (二) 發現位置：臺北盆地                  |
| (三) 生活方式：漁獵、農耕                 |
| (四) 文化特色：貝塚、墓葬群                |
11. 歷史老師準備要在元旦連假出的作業題目是「臺灣金屬器時代的生活樣貌」，請問，阿昌前往下列哪一座博物館，可以蒐集到最完整的資料？ (A)臺北故宮博物院 (B)新北市八里區十三行博物館 (C)臺中自然科學博物館 (D)高雄科學工藝博物館
12. 南億博物館正在展示史前時代的考古文化，並將展示區分類為舊石器文化、新石器文化與金屬器文化三個區域。這三個展示區的分類標準為何？ (A)使用器物的種類及技術 (B)遺址被挖掘的先後順序 (C)文字記載的地點與位置 (D)由發現者自己隨意決定
13. 原住民在清帝國時期被分成熟番、生番，主要是根據下列何種原因？ (A)文化的高低 (B)是否歸順統治者 (C)文字的有無 (D)族群的大小

背面尚有試題

共有四面，請耐心作答



14. **右圖**中，「熟番」主要位於圖中的何處？

(A)甲 (B)丙 (C)戊 (D)己

15. **右圖**中，分布在「乙」的原住民，是下列哪一個族群？ (A)達悟族 (B)阿美族 (C)卑南族 (D)泰雅族

16. **右圖**中，分布在「丁」的原住民，是下列哪一個族群？ (A)泰雅族 (B)布農族 (C)達悟族 (D)排灣族

17. 十七世紀初期隨著荷蘭聯合東印度公司來到東方進行商業活動的彼得，在他的行程中**不可能**遇到下列哪一件事？ (A)隨著聯合東印度公司的船員到巴達維亞建立殖民總部 (B)參與占領澎湖的計畫，但不幸被中國人所驅趕 (C)隨著船員由澎湖來到大員，以聖多明哥城為行政中心 (D)後來荷蘭人被鄭成功的軍隊打敗，隨著軍隊退出了臺灣

18. 彥廷是生活在中國某個朝代的將領，當時由於海盜不斷騷擾中國東南沿海，因此政府派遣他的部隊進駐澎湖。請問，彥廷有可能是生活在哪一個朝代？ (A)唐 (B)宋 (C)元 (D)明

19. 「他們曾經被荷蘭人招募來臺灣開墾，使得荒地都變成沃野良田，也使用了力氣大的黃牛方便耕作，但他們卻享受不到辛勤工作的果實，因為大部分的作物都被當作稅收了。」上文描述的他們是誰？

(A)中國人 (B)西班牙人 (C)原住民 (D)日本人

20. **右表**為「荷人在臺財務收支」。依據資料判斷，下列何者最有可能是當時外銷台灣本地商品獲利的主要產品？ (A)香料、瓷器 (B)鹿皮、絲綢 (C)鹿皮、蔗糖 (D)茶葉、樟腦

年代	獲利
1640	13,000
1641	6,000
1643	83,000
1649	467,000
1653	338,000

21. 下列哪一個地名，古今的名稱配搭是**錯誤**的？

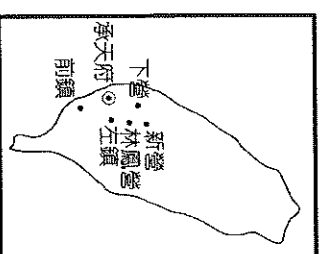
(A)熱蘭遮城—安平古堡 (B)普羅民遮城—赤崁樓 (C)蛤仔難—宜蘭 (D)大員—淡水

22. 昱閎想在疫情結束後來趟「尋訪南島語族」之旅，他希望從南島語族的分布區域中，選擇一地作為旅遊地點，下列何地最**有可能**列入昱閎的旅遊地點？ (A)美國 (B)澳洲 (C)韓國 (D)馬達加斯加

23. 近年來好萊塢興起一股拍攝海盜電影的熱潮，全球票房相當亮眼，也讓許多人重新對於海盜的歷史產生興趣。中國沿海的海盜曾經以何處為據點，進行活動，後遭政府驅逐才轉往臺灣？

(A)金門 (B)澎湖 (C)日本 (D)蘭嶼

24. **右圖**是 17 世紀中後期臺灣的建置圖，圖中顯示的地名，如新營、林鳳營、左鎮等，可反映出下列何事？ (A)海商的勢力分布 (B)鄭氏治台時期，分派部將駐紮屯墾之地 (C)荷蘭統治台灣時期的勢力範圍 (D)軍人擁兵自重，形成割據局面



25. 某傳記記載：「他是福建人，因犯案而逃至日本。西元 1624 年，他率眾至今日的雲林、嘉義一帶開墾，後人尊其為『開山之祖』，今日北港地區有一座開臺紀念碑，就是為了紀念他而設立的。」請問：傳記中所指的是何人？ (A)李旦 (B)顏思齊 (C)鄭成功 (D)鄭芝龍

26. 某傳記記載：「他是福建人，小名一官，相貌俊秀，聰明但不愛讀書，喜好刀槍拳棒。二十歲時，押運一批貨到日本，在當地結識翁氏（田川氏）。1628 年稱霸南海後，他接受明朝招撫，大本營移往福建，與荷蘭人訂定通商條約壟斷海上貿易，每艘商船每年都要向他繳納三千兩銀子的保護費，學者黃宗羲稱其『歲入千萬』。」上文中的主角應是何人？ (A)李旦 (B)顏思齊 (C)鄭成功 (D)鄭芝龍

27. 臺灣是十七世紀漢人、日本人、荷蘭人、西班牙人等在東亞地區進行貿易的重要據點，當時臺灣會扮演這種角色的原因，主要是具備了下列哪一項優越的地理條件？ (A)位置優越 (B)氣候宜人 (C)地形平坦 (D)人口稠密

28. 十七世紀歐洲展開了大航海時代，當時歐洲人來到東亞後，主要是要獲得哪些的商品？

(A)蔗糖、鹿皮 (B)絲綢、香料 (C)樟腦、稻米 (D)鹿皮、絲綢

29. 清初皇帝曾下令：「不准任何船隻下海，嚴禁任何糧食關關，凡是違反禁令者，一律連坐處死，務必使海上那批人，在糧盡援絕以後做鳥獸散。」其中，文中「海上那批人」指的是何者？ (A)日本人 (B)荷蘭人 (C)西班牙人 (D)臺灣鄭氏

30. 柏研暑假與父母進行臺灣環島之旅，途中參訪了一間史前文化博物館，爸爸說這座史前博物館所展示的部分物品，是臺灣現存最早的考古遺物。上述曉萱爸爸所說的考古遺物是在右圖中哪一個地方被發現的？(A)甲 (B)乙 (C)丙 (D)丁

31. 武崙國中師生到臺灣某地戶外教學。導覽老師說道：「此一文化存在的年代大約距今 5300 年至 2300 年間，其面積超過 30 萬平方公里，是目前臺灣發現最大的史前聚落，遺址裡出土許多石棺與精美的陪葬品，是太平洋與東南亞地區規模最大的石棺墓葬群遺址。」請問：他們戶外教的地點在右圖中的何處？(A)甲 (B)乙 (C)丙 (D)丁

32. 前田清康是生活在十六世紀中的日本人，某次他前往呂宋經商，船隻在一個叫做「高山國」的地方遭到暴風雨侵襲，所幸為當地的住民搭救，當時他也看到漢人、日本人在此活動。前田清康所到的「高山國」是現在的哪裡？

(A)臺灣 (B)中國 (C)澳門 (D)澎湖

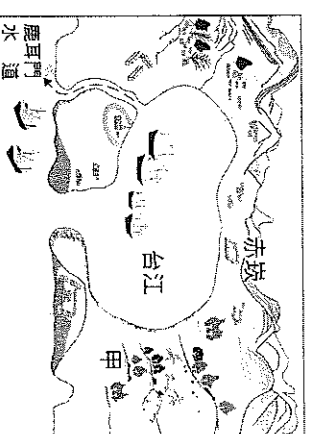
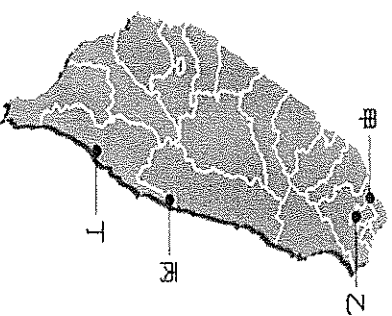
33. 從十三行文化遺址中出土的玻璃手環、瑪瑙珠及中國銅錢等，可以說明當時的哪一種情形？

(A)已有社會貧富分化的情況 (B)已經建立海外殖民地 (C)不懂得航海，只依靠外來者的供應 (D)已能與島內外居民進行貿易

34. 慧心在歷史課本上看到一張於西元 1626 年所繪製的古地圖如右圖所示。圖中「甲」畫的是下列哪一座城堡？(A)紅毛城 (B)普羅民遮城 (C)熱蘭遮城 (D)聖多明哥城

35. 承上題，此城在當時所發揮的作用是為下列何者？

(A)西班牙在台灣的中心 (B)西班牙在台灣商業市鎮 (C)荷蘭在台灣行政中心 (D)荷蘭在台灣商業市鎮



### 題組

#### (一)請閱讀以下文章，回答第 36~37 題

從前，這個大地上並沒有人類。有一天，賓塞布康山上的一塊大石忽然震動起來，然後分裂為兩半，沒多久後從岩石裡走出一個男人和一個女人，最後還有一個人走出來，但無法辨認是男是女。從岩石中最後一個走出的人對這對男女說：「為我洗一次澡吧，那麼大家都可以長生不老！」可是這對男女沒有答應，他們不知道人會老死，所以不相信有這種事情。最後走出的那人就說：「你們既然不肯為我洗澡，以後你們將會有疾病，並會逐漸衰老，最後死亡。」說完之後，裂成兩半的石頭又合起來，那人就在岩石內消失了。

從此之後，如他所說，泰雅族人的一生都要經過衰老、生病、死亡。

參考資料：《原住民神話故事全集》

36. 根據這則故事，是哪個類型的原住民傳說？(A)洪水漂流說 (B)射日傳說 (C)岩石始祖說 (D)陶壺傳說

37. 我們在學習一個族群的歷史時，會透過各種資料去說明與解釋。在理解原住民的歷史時，人們大多是使用傳說故事的方式，何者為解釋此現象較合理的原因？(A)原住民的傳說故事可信度最高 (B)原住民的文字不足以作為歷史考據 (C)原住民僅留下傳說故事供後人參考 (D)原住民沒有留下自身文字的相關史料

#### (二)請閱讀以下文章，回答第 38~40 題

2012 年 3 月，交通部公路總局在進行蘇花公路改善工程時，於宜蘭縣南澳鄉附近，一位考古隨行人員，忽然發現眼前的土層有陶器的殘件，似乎曾經有人類在此活動，緊急進行搶救挖掘後，就這樣在意外中迎來了臺灣近年來至為重大的考古發現。

根據目前的考古挖掘，漢本遺址發現的三個文化層可推估至距今 2,200 年左右，可解釋臺灣新石器時代晚期發展至金屬器時代的變遷。

### 背面尚有試題

漢本遺址除了出土一般常見之陶、石器外，更發現了豐富的玻璃、瑪瑙、金屬器等外來物品，加上遺址本身坐落在北海岸與花蓮海岸交通航線的中間，從出土的遺物及聚落相對位置，我們可以推測遺址先民應是以海域為重要交通動線，對外進行貿易交換，充分顯示南島語族海洋文化的特色。

2016年7月文化部遺址審議委員會通過漢本遺址為國定遺址，並於原名「漢本遺址」前加上泰雅語「Blihun」一詞，意思為「門戶」，象徵該遺址突顯南島語族文化的移動性與傳播性。對於今日強調海洋立國的臺灣而言，具特殊啟示意義。

現在的漢本遺址仍然在考古人員挖掘的過程中，不斷地帶給我們新的發現與驚喜。隨著文物持續出土，一步步推進史前人類活動的時間深度，也更完整臺灣史前文化脈絡，清晰了早期部族移動與文化擴散的圖象。

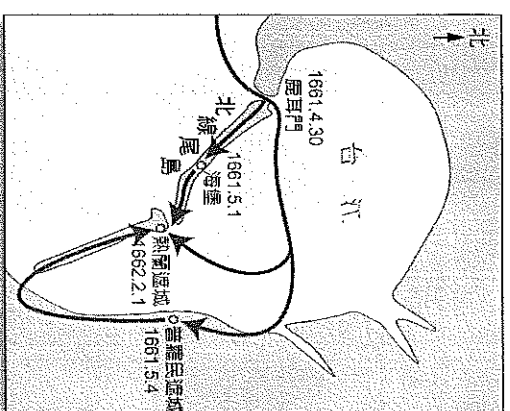
參考資料：陳啟怡，〈漢本遺址·關鍵少數的離散社群〉，《穿越時空的考古台灣—蒐尋、解謎與保存》，臺北，經典雜誌，2017。

38. 根據文章內容，漢本文化橫跨哪兩個文化層？ (A)舊石器早期、舊石器晚期 (B)舊石器晚期、新石器早期 (C)新石器早期、新石器晚期 (D)新石器晚期、金屬器時代
39. 從文中提供的時間判斷，漢本遺址最有可能與哪一個史前文化具有關連？ (A)長濱文化 (B)卑南文化 (C)大坌坑文化 (D)十三行文化
40. 從漢本遺址發現豐富之金屬器、玻璃、瑪瑙等外來物質，據此進行研究推論，下列哪項敘述較為合理？ (A)漢本遺址的貿易對象是中國、日本 (B)漢本先民是以農業活動為主的史前部族 (C)漢本遺址可能是南島語族貿易的重要據點 (D)漢本先民本身沒有生產技術需仰賴物資進口

### 〈三〉請閱讀以下文章，回答第 41~42 題

歷史課時，老師正在講述某場重要戰役的經過，並利用右圖說明進攻方軍隊的進軍路線。請問：

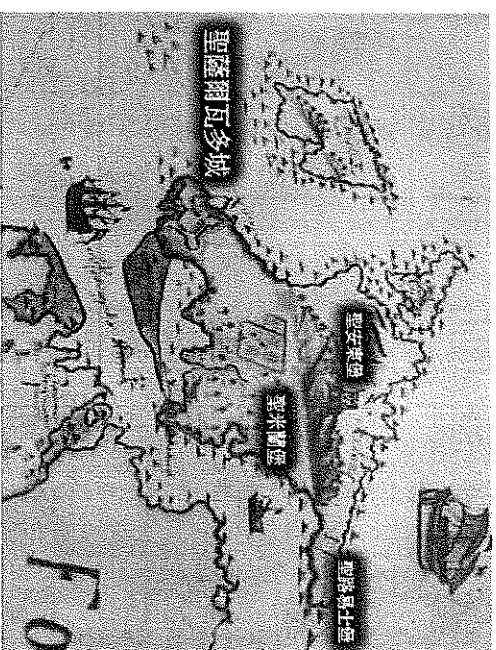
41. 這場戰爭主要發生在臺灣歷史上的哪個時期？ (A)荷蘭統治時期 (B)鄭氏治臺時期 (C)清帝國統治時期 (D)日治時期
42. 當時在這場戰役中，擔任防守臺灣工作的是下列何者？ (A)西班牙人 (B)日本人 (C)荷蘭人 (D)鄭克塽



### 〈四〉請閱讀以下文章，回答第 43~45 題

歷史課時，老師在黑板上展示一張古地圖。請問：

43. 此一古地圖所描繪的地區應位於今日何處？ (A)新北淡水區 (B)台南安平區 (C)台東長濱鄉 (D)基隆和平島
44. 當時建城並統治此一地區的應為下列哪一國人？ (A)日本人 (B)荷蘭人 (C)西班牙人 (D)葡萄牙人
45. 2016年，清華大學考古團隊在此地圖挖掘出教堂一角，2019年起，在考古團隊的挖掘之下，教堂全貌逐漸展開。請問，位於此處的教堂應與哪一宗教有關？ (A)天主教 (B)基督教 (C)伊斯蘭教 (D)道教



試題結束，請再三檢查