


每題兩分，共 100 分。電腦讀卡，請依題號畫卡作答

班級：_____ 座號：_____ 姓名：_____

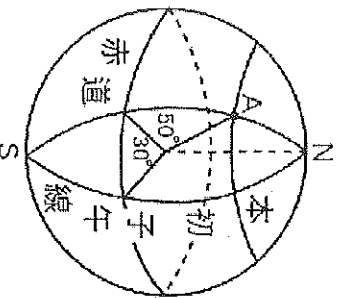
一、單選題：

1. () 附圖的八方位圖中，「甲」代表什麼方位？
 (A) 東北方 (B) 西北方
 (C) 西南方 (D) 東南方。

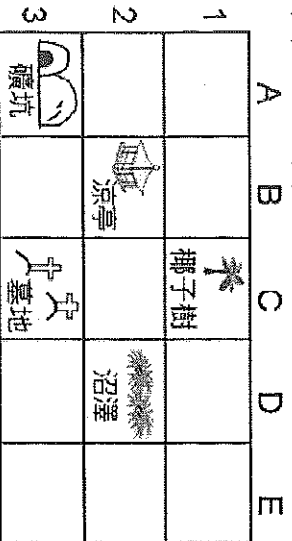


2. () 阿布達比時區位於 GMT+4，換句話說，若英國倫敦此時為上午 8:00，則阿布達比時間是幾時？ (A)1:00 (B)4:00 (C)5:00 (D)12:00。
3. () 連接地球南、北兩極的半圓弧線稱為經線，以下關於經線性質的敘述何者正確？ (A) 又稱為「子午線」 (B) 零度經線是最長的經線 (C) 所有的經線會互相平行 (D) 本初經線通過美國紐約格林威治天文臺。

4. () 附圖為一地球儀。根據經緯線所示，A 點的位置為何？
 (A) 東經 30 度，南緯 50 度
 (B) 東經 50 度，北緯 30 度
 (C) 西經 30 度，北緯 50 度
 (D) 東經 30 度，北緯 50 度。



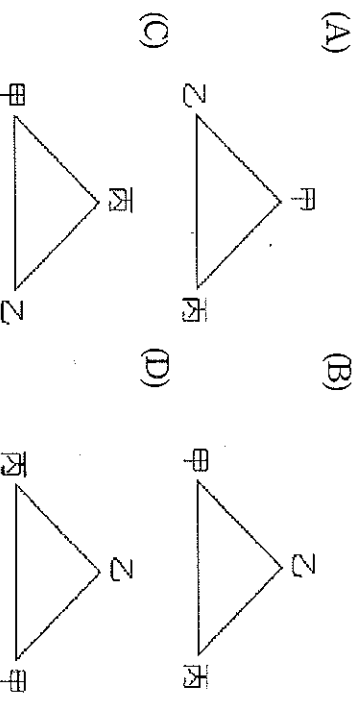
5. () 從鄰國去推斷臺灣的相對位置，是以另一種角度認識臺灣的方式。請從你對臺灣地理位置的了解，判斷下列哪一個敘述有誤？
 (A) 越南：臺灣在我們的東方
 (B) 南韓：臺灣在我們的西南方
 (C) 日本：臺灣在我們的西南方
 (D) 菲律賓：臺灣在我們的北方。
6. () 附圖是一網格，圖中有多種景觀。請問：(C、1) 所在的網格是下列哪種景觀？
 (A) 礦坑 (B) 墓地 (C) 沼澤 (D) 椰子樹。



7. () 用來劃分東、西半球以及南、北半球依序是哪兩條經緯線？
 (A) 本初經線、赤道 (B) 赤道、國際換日線
 (C) 本初經線、國際換日線 (D) 回歸線、極圈。

8. () 根據統計，黑面琵鷺全世界不超過一千隻，飛來七股過冬的黑面琵鷺居然超過七百隻。請問：黑面琵鷺以臺灣做為南北遷徙路線上的重要棲地，與臺灣的哪項自然環境特性有關？
 (A) 靠近亞洲大陸 (B) 處板塊接觸帶
 (C) 溫帶與熱帶交界 (D) 寒暖流的交會處。

9. () 在附圖中的各相對位置中，何者表示「甲在乙的西南方，乙在丙的西北方」？(註：圖上方是北方)



10. () 臺北約位於東經 120 度。請問：臺北與倫敦的時間相差幾個小時？ (A) 8 小時 (B) 12 小時
 (C) 16 小時 (D) 24 小時。

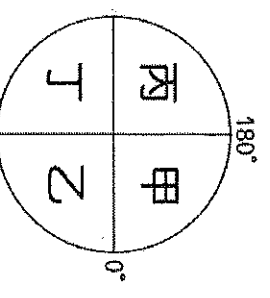
11. () 關於臺灣地理位置的經緯度表示法，下列哪個是正確的？
 (A) 22° ~ 25° S, 120° ~ 122° E
 (B) 22° ~ 25° N, 120° ~ 122° E
 (C) 22° ~ 25° S, 120° ~ 122° W
 (D) 120° ~ 122° S, 22° ~ 25° E。

12. () 芷瑄上午在操場參加集會時，生教組長正在整隊，芷瑄面向生教組長時背對太陽，聽從指令頭轉向左方向中央伍對齊，請問她的眼睛正看向哪方向？ (A)E (B)W (C)S (D)N。

13. () 連續假日時，四位同學在社群中分享各自出遊時的情況，請問何者的位置表達方式和其他三個不同？ (A) 冠竹：我現在人在鹿野高臺熱氣球正前方打卡 (B) 紫好：我離故宮南院還有 300 公尺，等會可以去拍照留念 (C) 佳得：我現在人在南投中興新村裡面參觀臺灣省政府 (D) 奕君：我人在華納威秀 4DX 影廳的 A5 座位上準備看電影。

14. () 關於『夏至』，從北半球來看，下列何者敘述正確？ (A) 晝短夜長 (B) 晝夜等長 (C) 太陽直射赤道 (D) 太陽直射北回歸線。

15. () 若以附圖的示意圖來表達地球的各半球，則臺灣的位置應位於哪個半球中？

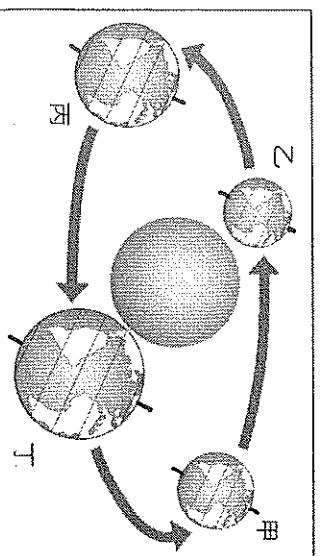


16. () 上地理課時，同學們正為了「地球」的海陸分布特徵爭論不休。請問：下列誰的說法是正確的？
 (A) 宜恩：「依據計算，全球陸地面積占地球的2/3以上。」 (B) 于皓：「陸地面積來說，北半球陸地所占的比例較大。」 (C) 廷諳：「南、北半球的海洋面積占全球總面積的比例不到50%。」 (D) 紫婷：「陸地面積占南半球總面積一半以上。」

17. () 臺灣兼具熱帶、溫帶和寒帶的物種，與臺灣何種環境特色最有關係？
 (A) 位於高緯度地區 (B) 位在太平洋西岸
 (C) 中央多高山分布 (D) 四周海域廣大。

18. () 近來亞洲航空市場蓬勃發展，臺灣因為地理位置好，距離亞太地區各個重要都市，平均約2.55小時就能飛到臺灣。此榮景與下列何者最有關係？
 (A) 臺灣位於東北亞與東南亞的航線樞紐 (B) 臺灣位於溫帶與熱帶交界 (C) 臺灣位於亞洲北方 (D) 臺灣位於太平洋。

19. () 附圖為地球公轉的示意圖。請問：當臺灣冬至吃湯圓的時候，地球的位置應位在何處？



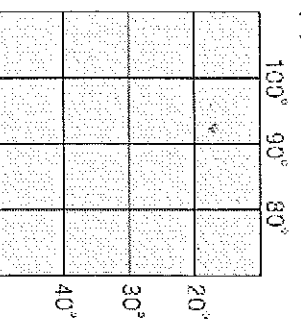
- (A) 甲 (B) 乙 (C) 丙 (D) 丁。

20. () 大西洋的墨西哥灣流從赤道低緯度出發經過北美洲東岸，再往北向歐洲40°N~60°N前進。請問：此洋流符合哪種性質？
 (A) 寒流 (B) 涼流 (C) 暖流 (D) 沿岸流。

21. () 晨宇在東半球的紐西蘭看完跨年煙火後，坐飛機往東，跨越國際換日線至夏威夷，則時間或日期會如何變動？ (A) 日期減一天 (B) 日期加一天 (C) 日期不變 (D) 時區不變。

22. () 日治時代，日本政府大量採伐檜木並銷往日本，因品質優良而大受歡迎，又被稱為臺灣之寶。請問：下列關於臺灣檜木生長環境的敘述，何者正確？ (A) 多生長於高山山頂上 (B) 生長於針、闊葉混合林區 (C) 多生長於海拔3,000公尺以上的地方 (D) 和樟樹生長於相同的氣候環境。

23. () 附圖為某地的經緯座標簡圖。請問：依提示判斷，此地應屬於什麼半球？



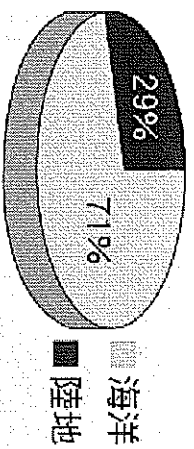
- (A) 東半球、北半球 (B) 東半球、南半球
 (C) 西半球、北半球 (D) 西半球、南半球。

24. () 新聞報導：「2020年中秋節這天，台灣黑熊編號711誤中非選擇性套索陷阱，18.5小時後獲救。」台灣黑熊為台灣陸域最大型食肉目動物，行蹤不定，神秘、獨特又稀少，流著屬於這塊土地獨一無二的血液，屬台灣特有種。請問以下動物那些也屬於臺灣特有的物種？

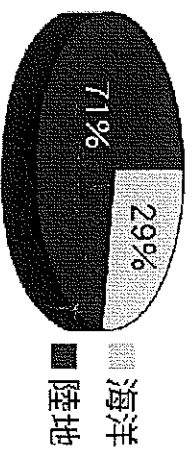
- (甲) 寬尾鳳蝶 (乙) 福壽螺 (丙) 臺灣獼猴
 (丁) 櫻花鉤吻蛙 (戊) 黑鮪魚 (己) 黑面琵鷺。
 (A) 甲乙戊 (B) 甲丙丁 (C) 乙丙己 (D) 乙戊己。

25. () 新竹縣新豐鄉紅樹林是珍貴的資產，占地約10公頃，放眼望去，蒼鬱翠綠，但水筆仔底部到處是垃圾，環保署和遊客都搖頭，這場「水筆仔之災」讓政府及環保人士激起復育水筆仔的工作。如果東東想參與紅樹林復育工作，應前往下列哪個地區？ (A) 峽谷 (B) 出海口 (C) 沖積扇 (D) 河川上游。

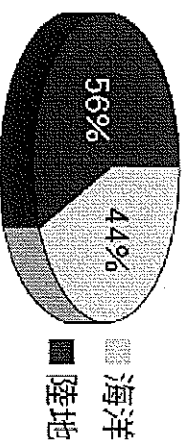
26. () 附圖為四張地球海陸分布的圓餅圖。請問：哪張圖的比例是正確的？



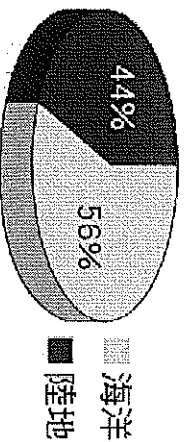
(B)



(C)



(D)



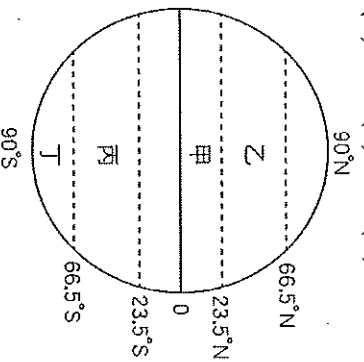
27. () 小比例尺地圖與大比例尺地圖相較，具有下列哪種特徵？ (A) 能清楚呈現地表景觀 (B) 能涵蓋較大範圍的區域 (C) 能呈現較完整的地理資訊 (D) 適合用來進行戶外實察。

28. () 憶嫻在地理課做了關於經線與緯線的筆記，結果老師批改時，發現有諸多錯誤。請問下列何者是正確的？ (A) 甲 (B) 乙 (C) 丙 (D) 丁。

	(甲)	(乙)	(丙)	(丁)
經線	長度	方向	度數	影響
	本初經線	東西向	東、西各180度	氣候
緯線	每一條都等長	南北向	南、北各90度	時間

29. () 中華民國外交部介紹臺灣時寫到：「全世界海洋生物物種約有 22~23 萬種，臺灣面積雖小，海洋生物的種類卻達 1 萬 2,000~1 萬 3,000 種之多。海洋資源如此豐富的原因，是因臺灣獨特的地理位置」。請問：這與下列哪個因素最相關？
 (A) 臺灣位於大陸邊緣 (B) 位於寒暖流交會的位置 (C) 是溫、熱帶的交界位置 (D) 位於板塊接觸位置。

30. () 附圖為地球的氣候帶和分界線圖，請問圖中哪個地區的平均氣溫最高？
 (A) 甲 (B) 乙 (C) 丙 (D) 丁

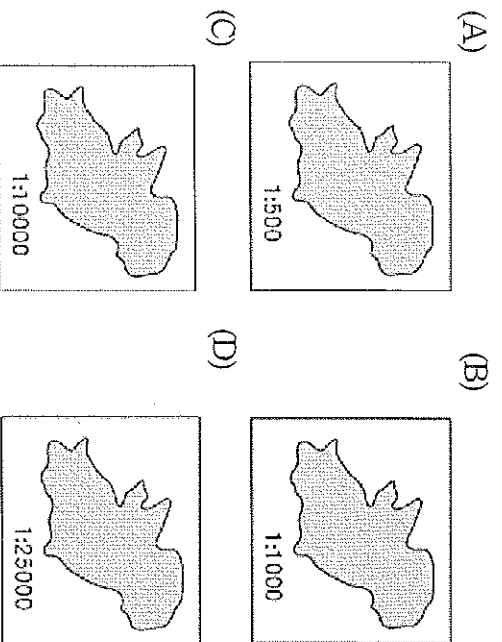


31. () 臺灣因為自身存在著某種關鍵因素，所以在十七世紀時被荷蘭人選為東亞貿易據點，進而躍上國際貿易舞臺。請問：關於這個因素的說明，下列何者正確？
 (A) 臺灣鄰近中國大陸 (B) 臺灣土地狹小，人口稀少 (C) 臺灣位於聯繫東南亞和東北亞海空航線的重要樞紐 (D) 臺灣位於颱風的路徑上，便於受暴風雨襲擊的船隻進行補給。

32. () 冰河時期，因海平面下降使臺灣與中國相連，許多生物遷徙到臺灣，且更進一步演化成臺灣的特有種。請問：上文所述是指下列哪個海域的平原下降成為生物遷徙臺灣的陸橋？
 (A) 東海 (B) 印度洋 (C) 太平洋 (D) 臺灣海峽。

33. () 飄飄前往馬祖旅遊，在旅客服務中心索取了一張馬祖觀光地圖，若她想要知道馬祖列嶼上各知名景點的所在地，應該參考哪項地圖要素？
 (A) 圖名 (B) 方向標 (C) 圖例 (D) 比例尺。

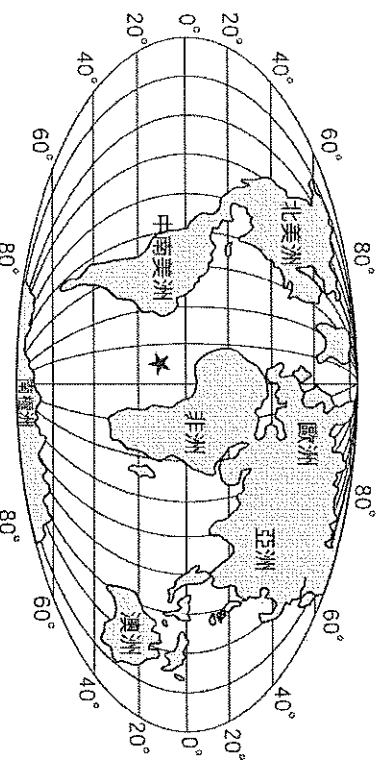
34. () 下列是四個不同比例尺的島嶼，哪個島嶼的海岸線最長？



35. () 由於地圖太小，閱讀不易，於是孟擘把地圖用影印機放大兩倍。請問地圖放大後，下列哪一種比例尺表示方法將不受影響？
 (A) 一萬分之一 (B) $0 \frac{100m}{10000}$ (C) 1:100 公尺 (D) $\frac{1}{10000}$ 。

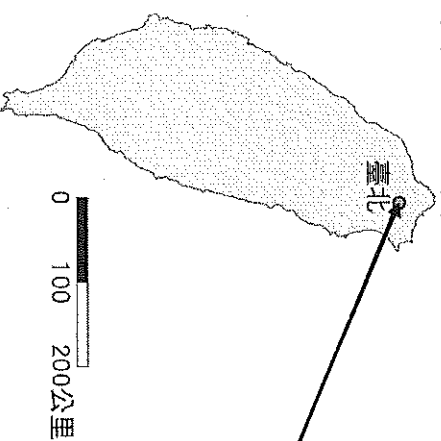
36. () 聖誕節時，芬蘭的居民穿著厚重大衣，與澳洲的居民穿著短袖裝扮大不相同，與下列何者最有關係？
 (A) 地形 (B) 地球由西向東轉 (C) 經度不同 (D) 地軸傾斜。

37. () 附圖為世界全圖。圖中打上「★」的海域名稱是什麼？
 (A) 太平洋 (B) 印度洋 (C) 大西洋 (D) 北極海。



38. () 臺灣山區天然植物景觀相當豐富。請問：下列四張由平地至山區的植物分布示意圖，何者正確？
 (A) (B) (C) (D)

39. () 若有某一颱風即將侵襲臺灣，如附圖所示。假設此颱風以時速 20 公里的速率向臺北前進，則大約幾小時後，暴風中心便能抵達臺北？
 (A) 5 小時 (B) 10 小時 (C) 15 小時 (D) 20 小時。

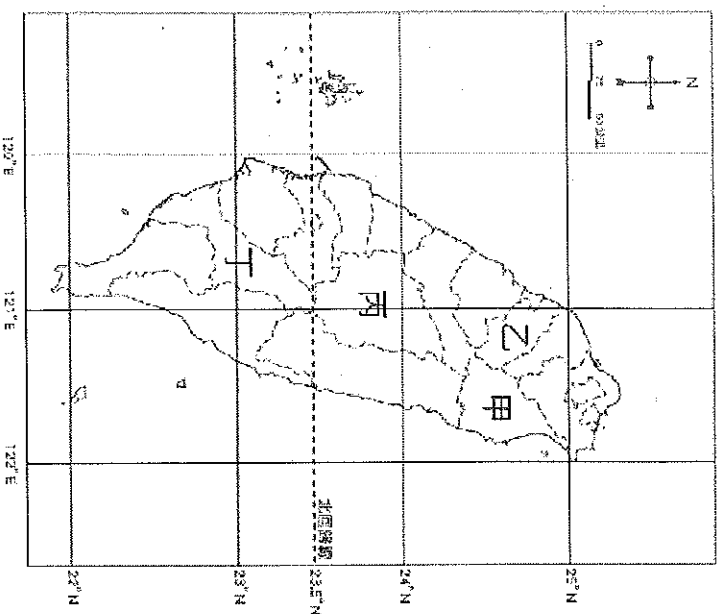


40. () 鹹蛋超人住在(60° W, 30° S)，他想要去找麵包超人聊天。於是他從家中鑽入地底，穿越地心，始終保持直線前進。請問：鹹蛋超人穿出的地表座標為何？
 (A) (120° E, 30° N) (B) (120° E, 60° N)
 (C) (60° E, 30° N) (D) (60° E, 60° N)。

背面尚有試題

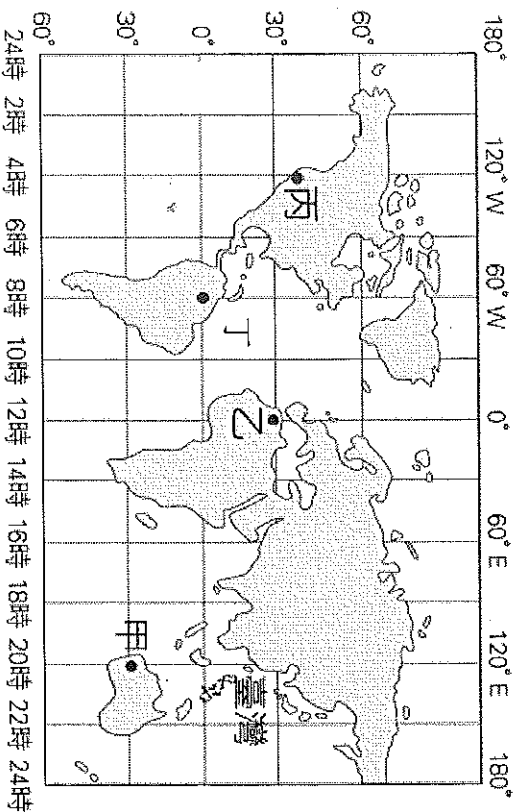
二、題組題：

(一)附圖為臺灣行政區分布圖。請問：



41. () 台灣地理中心碑在埔里，是位於圖中何處？
 (A) 甲 (B) 乙 (C) 丙 (D) 丁。
42. () 座標「東經 121 度、北緯 23 度」落於哪個行政區？ (A) 臺中市 (B) 臺南市 (C) 嘉義縣 (D) 臺東縣。
43. () 東經 121 度、北緯 22 度的位置發生船隻擱淺事件，那麼應該由哪個行政區直接派員前往處理較快速？ (A) 高雄市 (B) 花蓮縣 (C) 屏東縣 (D) 雲林縣。
44. () 國際童玩藝術節在宜蘭縣熱鬧展開，希望吸引暑假人潮前來宜蘭觀光。請問：宜蘭縣位於圖中何處？ (A) 甲 (B) 乙 (C) 丙 (D) 丁。
45. () 台灣共有六個直轄市，分別為臺北市、新北市、桃園市、臺中市、臺南市與高雄市，請問附圖中所標示的行政區何者為直轄市其中之一？
 (A) 甲 (B) 乙 (C) 丙 (D) 丁。
46. () 北緯 24 度通過台灣那些行政區？(甲) 新竹市 (乙) 彰化縣 (丙) 雲林縣 (丁) 南投縣 (戊) 花蓮縣
 (A) 甲乙丁 (B) 甲丙戊 (C) 乙丙丁 (D) 乙丁戊。

(三)附圖為世界地圖。請問：



47. () 圖中哪個地點與臺灣沒有時差的問題？
 (A) 甲 (B) 乙 (C) 丙 (D) 丁。
48. () 圖中臺灣和丙地兩地約相差多少個時區？
 (A) 2 個 (B) 6 個 (C) 12 個 (D) 16 個。
49. () 若從地圖上甲、乙、丙、丁四個地點同時出發，駕駛飛機用同樣的速度向東繞行地球一圈，若不考慮其他因素，請問何者所需的時間最短？
 (A) 甲 (B) 乙 (C) 丙 (D) 丁。
50. () 當臺灣時間為中午 10 月 15 日 10 時，丁地當地時間為何？
 (A) 10 月 14 日 早上 4 時
 (B) 10 月 14 日 晚上 10 時
 (C) 10 月 15 日 下午 4 時
 (D) 10 月 15 日 晚上 10 時。