

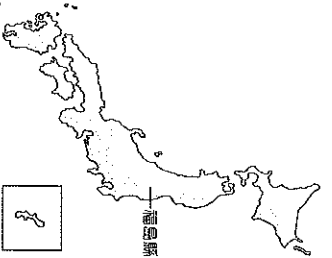
基隆市立武崙國民中學 108 學年度第二學期第三次段考八年級地理科試題卷

單一選擇題，共 50 題，每題 2 分，滿分 100 分

班級：_____ 姓名：_____ 座號：_____

96 日本四面環海，311 地震引發的核能危機也讓海洋面臨巨大威脅，相關單位發現福島核電廠附近的海水被輻射污染，嚴重傷害海洋生態。請問第 1~4 題：

1. () 福島核災的位置圖如附圖所示，請問位於哪個海域的漁場首當其衝面對輻射污染？



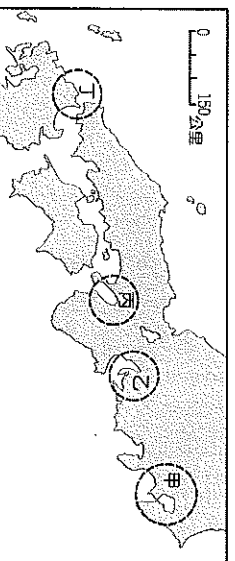
2. () 根據日本四周海域的洋流與流向，福島核災的污染物質將主要隨哪股洋流？往哪個方向擴散？

(A) 黑潮、南方 (B) 黑潮、北方
(C) 親潮、北方 (D) 中國沿岸流、南方

3. () 請問導致日本群島地震頻繁的主要原因為下列何者？(A) 位於板塊交接帶

(B) 地處大洋與大陸的交接處 (C) 群島地形崎嶇破碎 (D) 四面環海受洋流影響
4. () 因地震、海嘯災損及核電廠的事故，日本一度限制電力供應，許多工廠被迫停業生產量大減。以日本產業發展模式判斷，將影響哪一種商品在國際貿易市場上的供貨量？(A) 電子資訊 (B) 紡織布料 (C) 石化原料 (D) 鋼鐵礦石

98 附圖為日本主要工業區分布圖，請問第 5~6 題：



5. () 日本的工業區主要分布於太平洋岸港口地區，請問這和日本哪一項特色的關係最大？(A) 商品主要銷售美國 (B) 本土缺乏工礦原料 (C) 山多田少地震頻繁 (D) 氣候溫和濕潤多雨

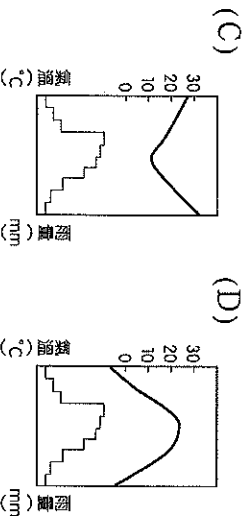
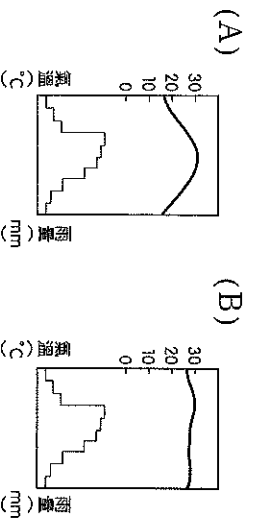
6. () 臺灣的鴻海集團於 2016 年正式入主日本企業夏普，若鴻海總裁要前往夏普的總部大阪視察，則應該到附圖中何處？
(A) 甲 (B) 乙 (C) 丙 (D) 丁

7. () 日本因土地資源缺乏而積極向海洋發展，請問下列何者與日本土地資源缺乏的關係『較小』？(A) 山地眾多 (B) 四周環海 (C) 可耕地少 (D) 人口密度高

8. () 下列為日本群島四個主要陸塊，請問其島嶼的分布順序由北向南依序為何？

(甲) 本州 (乙) 九州 (丙) 四國 (丁) 北海道
(A) 甲、丙、乙、丁 (B) 乙、丁、甲、丙
(C) 丁、甲、乙、丙 (D) 丁、甲、丙、乙

9. () 臺灣民眾熱愛前往日本旅遊，像是大阪、京都等關西地區，豐富的歷史文化和四季分明的氣候與自然景觀都深受喜愛。請問關西地區的氣候最接近下列何者？



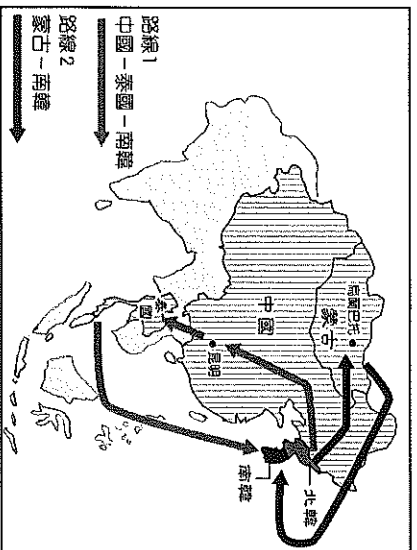
10. () 自 1708 年後就沒再大規模噴發過的富士山為日本的聖山，其為一座活火山，若發生噴發，下列哪一個都市受到的影響最大？(A) 東京 (B) 大阪 (C) 神戶 (D) 長崎



11. () 日本在產業升級後有許多工廠移至海外，但由於本土企業仍掌握下列哪項優勢，因此依舊保有國際競爭力？(A) 關稅保護主義 (B) 引進大量移工 (C) 重視技術研發 (D) 參與國際組織

12. () 每年 5 月 5 日是日本的男孩節，依傳統有男孩的家庭會在戶外懸掛鯉魚旗，祈求男孩健康成長，請問此時戶外的鯉魚旗會偏向哪個方向？(A) 東北方 (B) 東南方 (C) 西北方 (D) 西南方

86附圖為北韓難民主要脫逃路線圖，請問第13~15題：



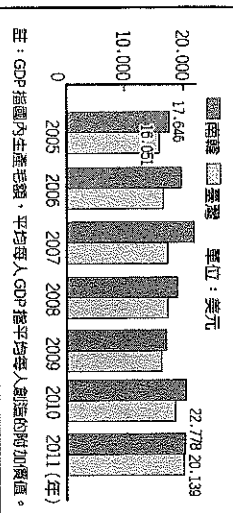
13. () 北韓的難民潮主要和國內生活困苦有關。請問導致北韓民生經濟積弱不振的主要原因為下列何者？
 (A) 共產極權統治 (B) 氣候連年乾旱
 (C) 戰禍終年不斷 (D) 中國強勢干預
14. () 脫北者若要逃進中國勢必穿越過下列哪一個天然國界？(A) 鴨綠江 (B) 黑龍江 (C) 漢江 (D) 大白山
15. () 由附圖的逃亡路線來看，北韓難民大多繞道他國前往同樣位於朝鮮半島上的南韓。請問南、北韓大致是以下列何者為界線，而形成兩個對立的政權？
 (A) 東經 120 度 (B) 漢江
 (C) 北緯 38 度 (D) 圖們江

16. () 南北韓至今仍有政治、軍事衝突，北韓的飛彈主要鎖定在南韓重要的政治經濟中心城市，請問附圖中哪一個南韓都市最需要加強空中防禦？
 (A) 甲 (B) 乙
 (C) 丙 (D) 丁



17. () 從附圖可以發現臺灣和南韓在經濟指標上的差距不大，南韓一直是臺灣產業發展的競爭對手，請問：目前兩國在某一項重點產業上競爭最為激烈？

臺灣、南韓平均每人GDP比較



- (A) 資訊科技 (B) 煉鋼造船
 (C) 金融財務 (D) 影視娛樂

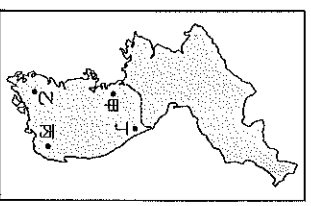
18. () 南韓在歷經亞洲金融風暴後，重整國內的產業經濟，將資源集中在下列哪一種類型的企業體而創造出現今亮眼的經濟成績？(A) 中小企業 (B) 國營企業
 (C) 海外投資 (D) 大型財團
19. () 請問南韓哪一個都市與日本隔海相望，目前為該國第二大都市、第一大港口，工商發達、海運蓬勃，觀光業也十分發達？(A) 平壤 (B) 首爾
 (C) 釜山 (D) 大邱

20. () 南、北韓的經濟發展方向截然不同。下列有關南北韓的比較，何者『錯誤』？

項目	南韓	北韓
(A) 地形	較為平坦	較為高聳
(B) 氣候	溫暖溼潤	寒冷少雨
(C) 礦產	資源豐富	稀少匱乏
(D) 產業	民生工業	軍事工業

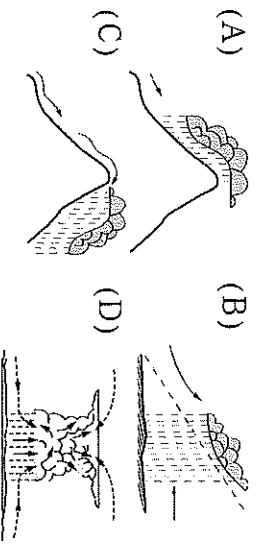
21. () 韓國泡菜在政府有計劃的安排下宣傳到世界各地，在臺灣也出現一群熱愛者。請問：南韓當地盛行食用該食物的主要原因為何？(A) 土壤貧瘠 (B) 夏季悶濕
 (C) 山多田少 (D) 氣候嚴寒

22. () 南韓近日連續降下大雪導致山區交通中斷，許多山區居民甚至面臨斷糧危機，請問若政府派員挺入災區救援，最可能前往附圖哪個地區？
 (A) 甲 (B) 乙
 (C) 丙 (D) 丁

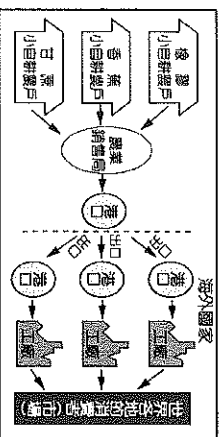


23. () 『韓流』在臺灣已經持續多年，南韓政府也積極向國際各國進行文化宣傳，請問下列何者『並非』南韓政府所努力推廣的知識經濟文化產業？
 (A) 電視電影 (B) 流行音樂
 (C) 新聞媒體 (D) 網路遊戲

24. () 東南亞有些國家擁有熱帶雨林氣候，終年濕熱多雨，請問該種氣候的主要降雨類型為下列何者？



25. () 熱帶栽培業為東南亞地區重要的經濟活動，請問附圖呈現出該產業的哪一項重要特色？




- (A) 商品出口外銷為主
 (B) 單一農場作物多元
 (C) 不需大量資金人力
 (D) 大規模機械化生產
26. () 東南亞大規模熱帶栽培業的經營，除了改變當地傳統的農家生活，在為經營帶來財富之虞，也為當地農業提升了風險，請問下列何者不是熱帶栽培業面臨的風險？(A)易受市場價格影響
 (B)作物種類過於單一 (C)破壞熱帶環境生態 (D)機械化導致大量失業
27. () 麻六甲海峽因為扼守哪個海域的重要溝通水道，因此擁有極高的航運價值？
 (甲) 太平洋 (乙) 大西洋
 (丙) 印度洋 (丁) 北極海
28. () 阿哲任職的旅行社主要經營東南亞旅遊，他發現公司的行程中都會帶遊客前往咖啡和巧克力工廠參觀，除了參觀也滿足遊客買伴手禮的慾望，請問東亞地區種植和發展相關此類作物的背景為何？
 (A) 為當地原生種作物
 (B) 西方殖民者所引入
 (C) 農民賺進巨大財富
 (D) 與當地生態系共榮
29. () 政府近年來推出『新南向政策』，許多臺商紛紛響應預計前往印尼、菲律賓投資，請問受到歷史背景的影響，這些到東南亞投資的臺商會發現當地經濟最繁榮都市主要位在下列何處？
 (A) 沿海低地 (B) 沖積平原
 (C) 鐵路樞紐 (D) 海運港口
30. () 承上題，許多臺商前往東南亞投資，除了受政府鼓勵外還與東南亞擁有哪些優勢密切相關？(甲)工資低廉 (乙)資源豐富 (丙)技術優越 (丁)氣候溫和
 (A) 甲乙 (B) 甲丙 (C) 乙丙 (D) 乙丁

- 88 附圖為東南亞國家分布圖，請回答第 31~37 題：

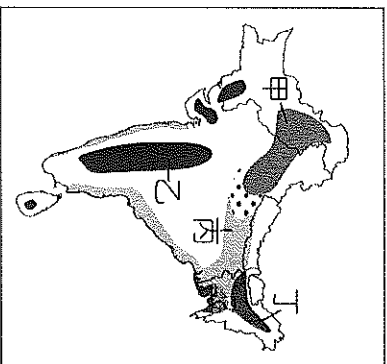


31. () 附圖中的哪三個國家最近年來石油和天然資源賺取大量外匯？
 (A) A、I、J (B) D、G、I
 (C) E、F、G (D) F、H、I
32. () 峇里島和普吉島為東南亞熱門的度假聖地，每年均吸引許多觀光客前往。請問這兩個島嶼分別屬於哪些國家？
 (A) F、D (B) H、D
 (C) E、F (D) H、J
33. () 前往峇里島度假，除了可以享受豪華 Villa、湛藍海水與雪白沙灘，還能參觀當地眾多神廟，體驗宗教文化與建築特色之美。請問：峇里島地區主要的宗教信仰為下列何者？(A)佛教 (B)天主教 (C)印度教 (D)伊斯蘭教
34. () 東南亞在歷史發展、宗教與文化上深受鄰近國家影響，請問附圖中哪一個國家的傳統文化與思想受中國文化影響最深？
 (A) A (B) B (C) E (D) J
35. () 請問哪個國家在東南亞的經濟居於領先位置，該國在梵文中含有『獅子城』之稱，而魚象徵此國與海密切相關，因此『魚尾獅』也是該國重要象徵？
 (A) F 汶萊 (B) G 新加坡
 (C) I 菲律賓 (D) J 馬來西亞
36. () 曼谷為東南亞最受歡迎的度假勝地之一，每年吸引許多遊客前往享受美食、消費購物與體驗熱情陽光。請問曼谷位於附圖中的哪個國家？(A) A (B) D (C) E (D) F
37. () 宗教對於一地無論在衣著、飲食、建築甚至思想、價值觀都有深遠的影響，附圖為某種宗教信仰的傳統服飾與建築，請問在附圖中的哪個國家最為常見？



88 附圖為南亞作物分布圖，請回答第 38~40 題：

38. () 印度的農業活動類型因氣候條件不同而有所差異，請問旱田耕作的小麥和水田耕作的稻米依序位在哪些地區？



- (A) 甲、乙 (B) 甲、丙
(C) 乙、丙 (D) 丙、丁

39. () 印度阿薩姆邦的自然條件十分有利於茶樹的種植與生長，這也使得中當地區最可能是印度半島著名的產茶區？

- (A) 甲 (B) 乙 (C) 丙 (D) 丁

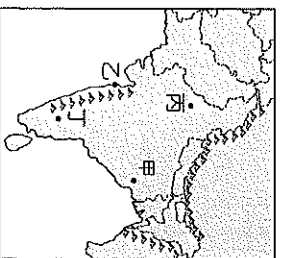
40. () 印度早期受到殖民母國的影響，大量種植棉花以供應殖民母國發展工業，而棉花也成為印度非常重要的經濟作物，請問附圖中何處是主要的棉花產區？

- (A) 甲 (B) 乙 (C) 丙 (D) 丁

88 近年來臺灣經濟部積極帶領國內汽車業者前往印度了解當地汽車產業投資環境，期待能開拓印度高科技產業重鎮，了解車內電子設備的整合狀況。請問第 41~43 題：

41. () 中國及印度的汽車消費市場潛力龐大，被稱為『中國龍、印度虎』，其主要因素為何？(A) 人口眾多 (B) 關稅保護 (C) 技術領先 (D) 油價低廉

42. () 車用導航、安全、駕駛、影音媒體等電子設備主要研發地點為印度的高科技重鎮，請問臺灣汽車業者最可能前往附圖哪個都市考察？



- (A) 甲 (B) 乙 (C) 丙 (D) 丁

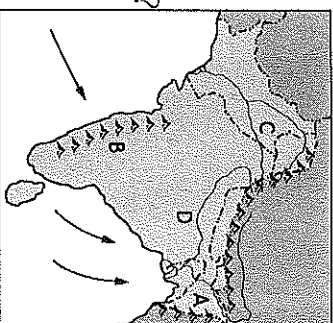
43. () 印度近年來的資訊軟體產業蓬勃發展，吸引許多歐美大廠前往投資，請問下列何者『並非』其吸引外資的優勢？

- (A) 重視工程教育 (B) 勞工多工資低
(C) 思想觀念西化 (D) 英語為官方語言

88 附圖為南亞地形與氣候圖，請回答第 44~45 題：

44. () 南亞全區大部分為何種氣候？

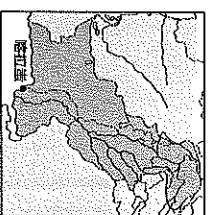
- (A) 高地氣候
(B) 熱帶雨林氣候
(C) 熱帶季風氣候 (D) 溫帶大陸氣候



45. () 附圖中 A 區的年雨量高居全球之冠，請問導致區多雨的主要原因為下列哪兩項？

- (A) 緯度、地形 (B) 季風、距海遠近
(C) 地形、季風 (D) 地形、副熱帶高壓

46. () 附圖中的喀拉蚩位於



某國主要河川的三角洲地區，是該國最大城市、港口和主要的工商業中心，請問此國和此河川分別為下列何者？(A) 孟加拉，印度河 (B) 孟加拉，恆河 (C) 巴基斯坦，印度河 (D) 巴基斯坦，恆河

47. () 以下為一則來自印度的報導：首都新德里連續一個月來氣溫高達 45°C，嚴重的熱浪也造成傷亡，有人甚至在搭火車時中暑身亡，幸好此高溫已經進入尾聲。這兩天的豪大雨已使當地的氣溫明顯降低，也讓乾旱的大地重獲生機。根據新聞報導，這時最可能為哪個月分？

(A) 3 月 (B) 6 月 (C) 10 月 (D) 12 月

48. () 印度的冬季不寒冷，是全年最舒適的季節，因此最多觀光客選擇在這個時間造訪當地，請問印度冬季不寒冷的主要原因為下列何者？(A) 北部高山阻擋東北季風 (B) 太陽直射終年高溫 (C) 植被稀少吸熱快速 (D) 三面環海水氣調節

49. () 印度半島的地形主要分為三區：(甲) 印度大平原 (乙) 德干高原 (丙) 喜馬拉雅山。若由南向北排列，其正確順序為何？

(A) 甲乙丙 (B) 乙甲丙
(C) 乙丙甲 (D) 丙乙甲

50. () 印度內部存在嚴重貧富差距的社會問題，導致經濟發展受到極大的阻力，請問導致此狀況的背景主要為下列何者？

- (A) 語言複雜 (B) 宗教多元
(C) 種姓制度 (D) 殖民文化