

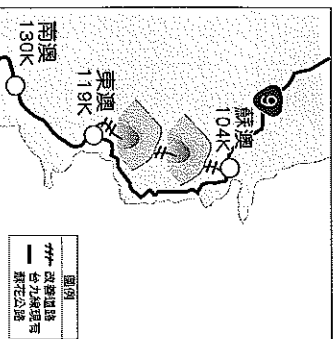
基隆市立武崙國民中學一〇八學年度第二學期第三次段考七年級地理科試題卷

注意事項：

1. 本份試卷為單選題，每題 2 分，共 50 題，總分 100 分。
2. 答案卡限用 2B 鉛筆畫記，若畫記錯誤，請擦拭乾淨。分數以電腦讀卡分數為準。
3. 答案卡上的資料欄請確實填寫，若資料欄畫記錯誤導致電腦無法正確判讀，扣總分 10 分。

班級：七年\_\_\_\_ 班座號：\_\_\_\_ 姓名：\_\_\_\_

- ( ) 1. 附圖為蘇澳至花蓮東澳的道路改善工程計畫，預計興建多個隧道貫通，隧道總長 23.4 公里，希望改善當地對外的交通。請問：上述隧道主要是穿越哪一座山脈？(A) 雪山山脈 (B) 中央山脈 (C) 海岸山脈 (D) 玉山山脈。

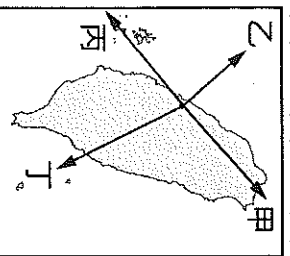


- ( ) 2. 承上題，蘇花公路改善計畫，有可能會影響到下列哪一座國家公園的生態環境？(A) 雪霸國家公園 (B) 太魯閣國家公園 (C) 墾丁國家公園 (D) 玉山國家公園。

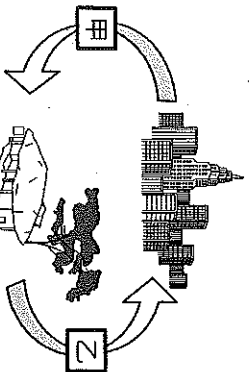
- ( ) 3. 附表為臺灣四大區域某年家庭年平均所得最高與最低的縣市資料，由此可知哪個區域內的差異最小？(A) 北部 (B) 中部 (C) 南部 (D) 東部。

	最高	最低
北部	臺北市 162 萬	宜蘭縣 93 萬
中部	臺中市 102 萬	雲林縣 77 萬
南部	高雄市 110 萬	嘉義縣 77 萬
東部	臺東縣 85 萬	花蓮縣 83 萬

- ( ) 4. 某空軍部隊的例行飛行計畫，預定從臺中清泉崗機場起飛，其目標為馬祖列嶼，此時戰鬥機最有可能朝右圖中哪一條航線飛行？(A) 甲 (B) 乙 (C) 丙 (D) 丁。



- ( ) 5. 附圖為都市與鄉村彼此之間相互依存關係示意圖。依城鄉供需關係判斷，圖中的「甲」最有可能是下列何者？(A) 農工原料 (B) 勞動力 (C) 就業機會 (D) 休閒遊憩。



- ( ) 6. 臺灣成立國家公園的目的，是為了永續保育國家特殊景觀、生態系統。「馬告」原為臺灣預定要成立的國家公園之一，內政部於民國 91 年公告劃設，劃設範圍大致以宜蘭縣、新北市、桃園市和新竹縣交界的雪山山脈棲蘭山區為主，但因其設置地點與下列哪個原住民的傳統領域範圍重疊，遭到反對，所以至今都未能正式成立？(A) 泰雅族 (B) 阿美族 (C) 布農族 (D) 排灣族。

- ( ) 7. 受到自然和人文因素的影響，臺灣各區域之間存在許多差異，下列哪個層面最不適合反映臺灣北、中、南、東四區的差異？(A) 土地面積 (B) 人口分布 (C) 經濟發展 (D) 教育程度

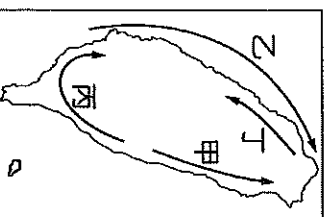
- ( ) 8. 在全國國土計畫中，依土地資源特性，劃分出(甲)城鄉發展地區(乙)農業發展地區(丙)國土保育地區(丁)海洋資源地區，若依保育保安、糧食安全、產業與居住發展順序，其排序應為下列何者？(A) 乙丁→甲→丙 (B) 乙丁→丙→甲 (C) 丙丁→乙→甲 (D) 丙丁→甲→乙。

- ( ) 9. 臺灣區域發展普遍存在區域發展不均的問題，下列哪項建設較不能達到均衡區域發展的目的？(A) 都市內興建捷運系統 (B) 改善離島與本島交通問題 (C) 興建高速鐵路 (D) 各縣市廣設大學。

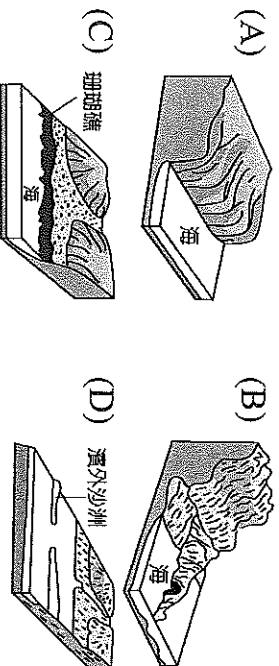
- ( ) 10. 附表為阿翰所整理的臺灣國家公園特色簡介，請問：甲、乙、丙、丁應填入下列何者較為恰當？(A) 甲：溼地生態、黑面琵鷺 (B) 乙：大屯火山群、臺灣水韭 (C) 丙：珊瑚礁、熱帶海岸林 (D) 丁：柱狀玄武岩、菜宅。

國家公園	主要特色
墾丁	甲
雪霸	乙
東沙環礁	丙
澎湖南方四島	丁

- ( ) 11. 政治經濟重心的轉移帶動區域發展的變遷，從清領時期至今，臺灣政經重心變遷的方向大致為附圖中的何者？(A) 甲 (B) 乙 (C) 丙 (D) 丁。



- ( ) 12. 臺灣南部的特色美食小吃吸引眾多遊客前往品嚐，其中養殖魚、蝦及鮮蚵，更是各地老饕的最愛。請問：南部區域的養殖漁業發達，主要是因為具有下列何種地形？



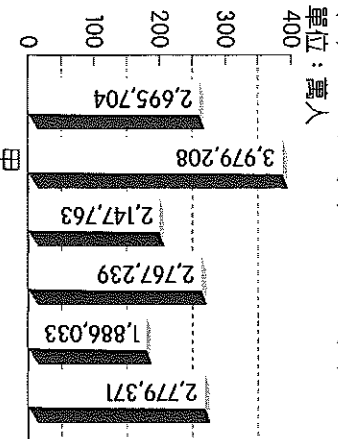
- ( ) 13. 2017年8月臺北舉辦世界大學運動會，世界各國的運動員來臺參與賽事，政府看準商機而大力推廣南部區域的觀光資源，希望能吸引來臺灣觀賞賽事的旅客到南部旅遊。請問：附表中哪些景點位於南部區域？(A)甲乙(B)丙丁(C)甲丙(D)乙丁。

甲	澎湖玄武岩
乙	綠島海底溫泉
丙	墾丁珊瑚礁
丁	溪頭竹林

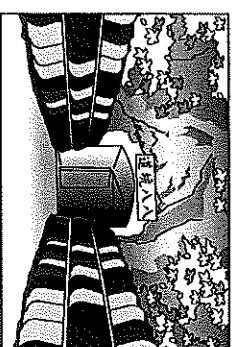
- ( ) 14. 鈺翔發現澎湖的住家及農田常見到用石頭砌成的矮牆，這是為了因應當地環境的何種特徵？(A)日照強烈(B)降水不足(C)風勢強勁(D)鹽分過高。

- ( ) 15. 強調「一青、二水、三飽水、價格又公道」的國內包裝米廠商在市場上的接受度相當高，也將傳統的碾米業現代化。該公司最早起源該水溪沿岸，而後才逐漸擴大。請問：若根據該條件判斷，此包裝米廠商的發源地最可能為下列哪一縣市？(A)雲林縣(B)臺中市(C)苗栗縣(D)嘉義縣。

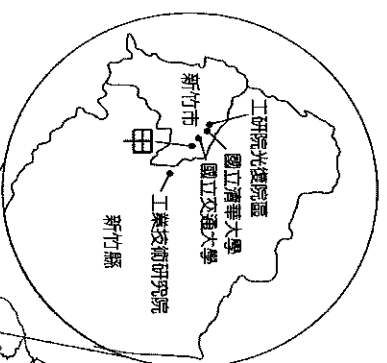
- ( ) 16. 附圖為民國105年臺灣各直轄市的人口數量分布表，依表中資訊判斷，甲市應該為下列何者？(A)臺北市(B)高雄市(C)新北市(D)臺中市。




- ( ) 18. 附圖為某地的酒窖，由早期戰坑道改建而成，由於深居山洞之涼，具有長年恆溫穩定的功用。最可能位於下列何處？(A)南投縣(D)花蓮。



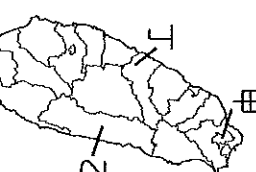
- ( ) 19. 工業發展會受到周圍區位條件影響，請問：依圖中資料判斷，「甲」工業活動應為下列何者？(A)汽車工業(C)紡織工業(D)鋼鐵工業。



- ( ) 20. 臺灣位於板塊接觸帶上，各地豐富，附圖為臺灣各縣市溫泉數量。請問：圖中溫泉數量最多的縣市區域？(A)北部區域(B)中部區域(D)東部區域。

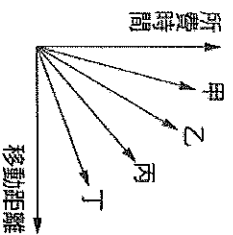


- ( ) 21. 隨著消費市場改變，健康取向市場新寵兒，其適合生長於土壤純淨的地區。請問：附圖哪一個區域最可能位於下列何處？(A)甲(B)乙(C)丙(D)丁。



- ( ) 17. 「這個港口是一狹長海灣，原為潟湖，總長度12公里，寬度約為1公里，入口寬度只有100

- ( ) 23. 玆甄將空運、水運、鐵路、公路等四種交通方式，依運輸距離與所需時間的關係畫成比較圖，如附圖所示，請問：空運應為圖中那一條線？(A)甲 (B)乙 (C)丙 (D)丁。



- ( ) 24. 交通建設的發達，使得貨物間的往來更加便捷與頻繁。請問：下列情況與運輸方式的配對，何者最合適？(A)印尼進口木材到臺灣；水運 (B)拉拉山的水蜜桃宅配到家；鐵路 (C)荷蘭生產的鬱金香運送到臺灣；公路 (D)新鮮漁獲由宜蘭南方澳漁港送至臺北的圓山大飯店；空運。
- ( ) 25. 中國和臺灣都已加入世界貿易組織(WTO)，且於西元2008年底開放兩岸三通，使得兩岸在貿易上的接觸更加頻繁。兩岸商品大多選擇海輪運輸，這是因為海運具有下列哪項優點？(A)適應地形能力強 (B)機動性高 (C)速度較快 (D)運費較低。

- ( ) 26. 交通是指兩地之間人口、貨物與資訊的往來流通，可分為通訊及運輸兩大類，請問：下列哪些屬於通訊？(甲)郵政(乙)管線(丙)通訊衛星(丁)網際網路 (A)甲 乙 丙 (B)甲 乙 丁 (C)甲 丙 丁 (D)乙 丙 丁。

- ( ) 27. 下表為臺灣某四個都市擁有的交通方式，請根據其相關特色判斷，何者最可能是高雄市？(A)甲 (B)乙 (C)丙 (D)丁。

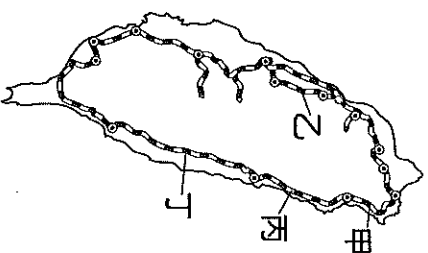
	空運	高鐵	捷運	公路	海運
甲	○	○	×	○	×
乙	○	○	○	○	○
丙	×	○	○	○	○
丁	○	×	×	○	○

※交通是經濟發展的原動力，由於地理環境的差異，各地的交通也會因而有所不同。請問：

- ( ) 28. 「臺灣的鐵路分布不如公路普及。」此現象與下列鐵路的哪一特性關係最密切？(A)適應地形能力較差 (B)運輸費用較昂貴 (C)行車花費時間較長 (D)客貨的載運量較小。

- ( ) 29. 臺灣有許多陸上交通路線，下列哪一項交通

※附圖為臺灣鐵路分布圖，請問：



- ( ) 31. 莫拉克颱風重創南臺灣，導致寸斷，交通完全中斷。這時哪兩物往來益加困難？(A)基隆市、高雄市 (C)臺北市、宜蘭縣東縣。

- ( ) 32. 十大建設完成的北迴鐵路，位於哪一段？(A)甲 (B)乙 (C)丙 (D)丁

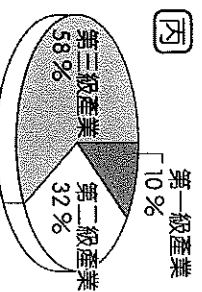
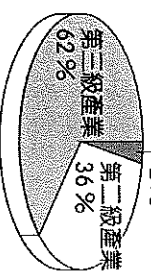
※附表為四個聚落的都市化程度和都市計畫表。請問：

	甲	乙	丙	丁
都市化程度	70%	75%	83%	92%
都市人口數量	700萬	600萬	300萬	500萬

- ( ) 33. 根據表中資料判斷，哪個聚落人口比例最高？(A)甲 (B)乙 (C)丙 (D)丁

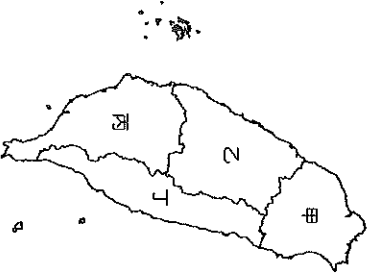
- ( ) 34. 根據表中資料計算，甲聚落的都市化程度為何？(A)800萬人 (B)1,000萬人 (C)2,000萬人 (D)2,000萬人

※附圖為某年臺灣本島各區域產業就業狀況表。請問：



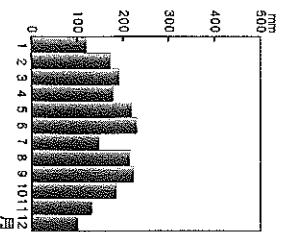
- ( ) 35. 臺灣四個區域的產業皆以哪一級產業為主要產業？(A)第一級 (B)第二級 (C)第三級 (D)第四級

※臺灣依各種條件的特性來區分不同區域。

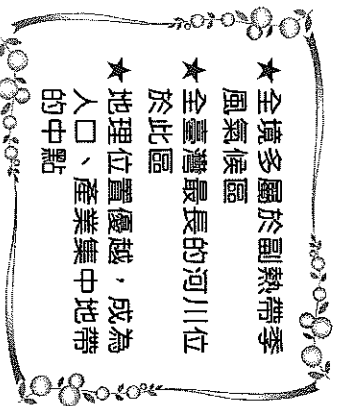


- ( ) 38. 臺灣四大區域各有特色，下列敘述何者正確？(A)甲區域是臺灣的穀倉 (B)乙區域原住民眾多，文化分歧 (C)丙區域都會區的地形以平原為主體 (D)丁區域有典型的鹽田、養殖漁業景觀。
- ( ) 39. 人口密度愈高的地區，平均每人分配到的資源愈少。依臺灣人口密度判斷，哪個區域的居民平均每人可利用的空間最小？(A)甲 (B)乙 (C)丙 (D)丁。

- ( ) 40. 下圖為臺灣某區域的氣溫及降水量圖。請根據氣候特徵判斷，此區域最可能位於附圖中何處？(A)甲 (B)乙 (C)丙 (D)丁。



- ( ) 41. 下圖所描述的條件，最有可能為附圖中哪一區域？(A)甲 (B)乙 (C)丙 (D)丁。



※西元 2014 年《遠見雜誌》對「縣市長施政滿意度調查」的結果出爐。在國內政治情勢一片紛擾之中，多數地方政府仍交出不錯的施政成績單。《遠見雜誌》並走訪各縣市首長，請他們暢談施政理念與耕耘成果。請問：

- ( ) 42. 縣市首長：「振興歷史街區、打響文化首都名號」。請問：是哪一個縣市？(A)新北市 (B)臺中市 (C)臺南市 (D)高雄市。
- ( ) 43. 縣市首長積極爭取縣市升格、整治河川水域、推動航空城及機場捷運等，人口也突破 200 萬，西元 2014 年年底升格為第六個直轄市。請問：是下列哪一個縣市？(A)桃園市 (B)新北市 (C)臺中市 (D)嘉義市。

- ( ) 44. 「正站在轉型的轉換點上，『後雪隧時代』的挑戰不容小覷！」縣市市長說，雪隧已通車多年，儘管是大臺北「90 分鐘等時圈」，但這樣的便利也帶來許多問題，像塞車、物價上漲及農田不斷「長」出農舍，都是急迫的課題。請問：是下列哪一個縣市？(A)新北市 (B)桃園市 (C)宜蘭縣 (D)花蓮縣。

- ( ) 45. 縣市首長推動新型態綠色能源，如養水種電，以解決養殖業造成地層下陷。養水種電鼓勵漁民放棄養殖，將空間用於建置太陽光電，收益分給地主，漁民並可優先受雇管理設施。一併解決地層下陷、發展綠能、增加就業三件事。請問：是下列哪一個縣市？(A)臺東縣 (B)苗栗縣 (C)屏東縣 (D)花蓮縣。

- ( ) 46. 縣市首長：「治水、綠化、新產業，奠定港都百年基礎」。請問：是下列哪一個縣市？(A)臺北市 (B)臺中市 (C)臺南市 (D)高雄市。

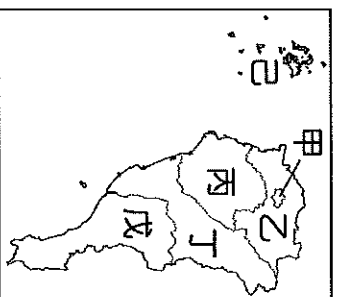
※附圖為臺灣中部區域的行政簡圖，請問：



- ( ) 47. 附圖中某縣市過去為傳統稻作農業的分布區域，近年由於田尾和水靖轉型種植花卉，成為全臺重要的花卉產地。請問：上述縣市位於附圖中何處？(A)甲 (B)乙 (C)丙 (D)戊。

- ( ) 48. 傳統農業活動的發展受到當地自然條件影響相當明顯。附圖中「甲」地在清領時期以生產下列哪些作物為主，成為當時主要的外銷產品？(A)茶葉、甘蔗 (B)茶葉、樟腦 (C)稻米、甘蔗 (D)稻米、樟腦。

※附圖為臺灣南部區域的行政簡圖，請問：



- ( ) 49. 目前南部區域哪一個縣市正積極發展觀光業，壯觀的柱狀玄武岩吸引許多遊客前來？(A)乙 (B)丁 (C)戊 (D)己。

- ( ) 50. 附圖中的哪一個縣市沿海珊瑚礁地形，為著名的浮潛聖地，全年遊客如織？(A)甲 (B)丙 (C)丁 (D)戊。