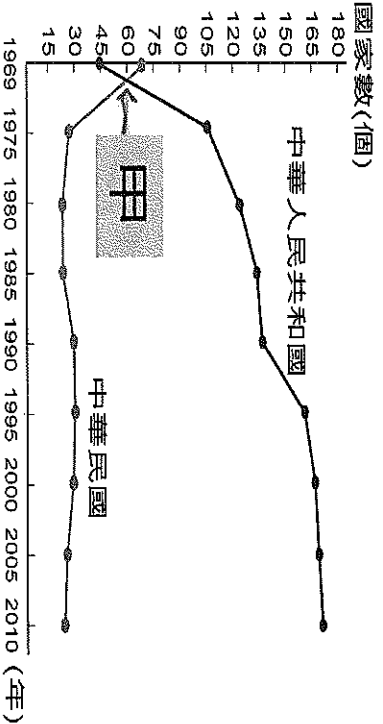
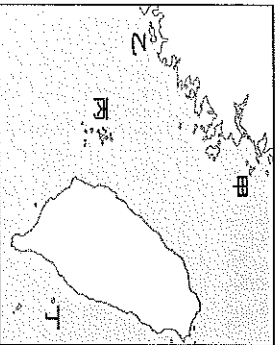


班級：\_\_\_\_\_ 座號：\_\_\_\_\_ 姓名：\_\_\_\_\_



- ( )附表是中華民國與中華人民共和國邦交國變化曲線表。表中兩條曲線相交的甲，發生了何事？
  - 臺灣與美國斷交
  - 韓戰爆發
  - 臺灣退出聯合國
  - 兩岸開始小三通
- ( )有關臺、美關係的說明，下列敘述何者正確？(A)韓戰爆發後，臺美關係降至冰點 (B)美國因擴張失利，積極拉攏臺灣以對抗中共 (C)臺美斷交後，雙方以《臺灣關係法》維繫關係 (D)在加入聯合國的議題，美國始終對臺灣表示支持。
  - 我國政府面對中共外交的打壓，採取哪種方式來突破中共的外交封鎖？
  - 積極拉攏、討好中共 (B)不思努力，任中共宰割 (C)以中國傳統文化為號召，吸引國際關注 (D)以經濟實力做後盾，積極加入各種國際組織
  - ( )中國與美國建交後，我國政府雖堅持中華民國是唯一能夠代表「中國」的合法政府，但仍須採取何種外交政策，開展與非邦交國的經濟、文化等實質往來？
    - 鞏固外交 (B)彈性外交 (C)務實外交 (D)漢賊不兩立的外交政策
  - ( )關於中共的「三通四流」，下列敘述何者錯誤？(A)三通是通商、通郵、通航(B)四流是農業、工業、國防、科技交流(C)是中共的和平統戰策略 (D)中華民國以「三不政策」做回應。
    - (甲)韓戰爆發 (乙)中美簽定《中美共同防禦條約》 (丙)八二三炮戰 (丁)臺灣退出聯合國；上列史事，依發生先後順序排列應為何？ (A)甲乙丙丁 (B)甲丙丁乙 (C)乙丙丁甲 (D)丙甲丁乙。
- ( )中共在民國 38 年、47 年曾兩度企圖以武力進犯臺灣，但最後都因國軍奮力抵抗而未能達到目的。這兩次的戰役都發生在同一地區，此地因而以戰役史蹟聞名。

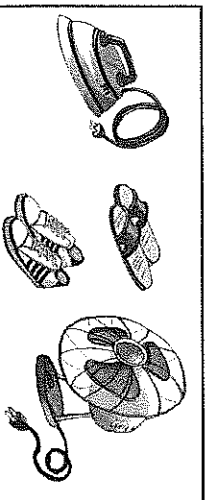


請問：這兩次戰役的地點位於附圖中的何處？

- 甲
- 乙
- 丙
- 丁

- ( )民國 60 年代，美國改變了對華策略，欲拉攏中華人民共和國，主要是為了對抗當時國際上的哪一個國家？
  - 俄羅斯 (B)烏克蘭 (C)英國 (D)蘇聯
- ( )民國 35 年，臺灣人口約 610 萬人，至民國 39 年，增為 750 萬人，造成臺灣在這一段時期人口驟增，最主要的原因為何？ (A)因慶祝臺灣光復，鼓勵生育 (B)中國大陸動亂，各省人士遷徙來臺 (C)韓戰結束後，中共軍隊不願返回大陸 (D)美國派軍人來臺加強臺灣國防。
- ( )下列敘述是臺灣產業每一時期興盛時的描述，請將順序按照年代排序迄今。(甲)花輪的爸爸在中國開辦多家工廠，經常來往於世界各地 (乙)小丸子的爸爸每天在石化工業區工作到很晚，回家時小丸子都睡了 (丙)小玉的老公在新竹科學園區工作，有時週末還要加班 (丁)美環是鳳梨罐頭工廠的女工，每天忙著洗鳳梨、切鳳梨、煮鳳梨、裝鳳梨。
  - 正確答案的順序是？(A)甲乙丙丁 (B)甲丙丁乙 (C)丁乙丙甲 (D)乙丁甲丙
- ( )兩岸在民間展開交流後，進一步成立民間對話專責機構。下列選項何者正確？
  - 台灣—陸委會、中共—海協會 (B)台灣—海基會、中共—國台辦
  - 台灣—海協會、中共—海基會 (D)台灣—海基會、中共—海協會
- ( )日治時期曾有「國語模範家庭」的設立，國民政府遷臺後大力推行說「國語運動」，請問：這兩個時期的「國語」指的各是哪一種語言？
  - 日語、閩南語 (B)日語、北京話 (C)日語、上海話 (D)美語、閩南語
- ( )九年國民義務教育的實施提高了台灣人民的教育水準，下列何人最有可能享受到九年義務教育？ (A)美國開始援助臺灣那年出生的橘子 (B)韓戰爆發那年出生的柚子 (C)實施耕者有其田那年出生的桃子 (D)八二三炮戰那年出生的櫻桃子

14. ( )侯大導演想要拍攝一齣描述民國五十年代的紀錄片，下列哪個場景比較適合在影片中處可見「反共復國、人人有責」的標語 (B)外籍勞工假日聚集在台北車站 (C)原住民掀走國民歌的流行
15. ( )鄧小平提出「一國兩制」，他所要表達的「一國兩制」的真意為何？ (A)在一個中國臺灣各為主權獨立之國家 (B)臺灣成為與中國不同制度的特別行政區 (C)海峽兩岸皆放主政治 (D)臺灣與中國都是分裂分治的政治實體。
16. ( )洪醒夫是臺灣民國六十年代的文學作家。他的小說以刻畫農村百姓的生活為主，流露同情。從上述判斷，洪醒夫應是哪種文學的代表作家？  
(A)反共文學 (B)鄉土文學 (C)現代文學 (D)懷鄉文學。
17. ( )「不再堅持中華民國是代表中國的唯一合法政府，強調兩岸是處於分裂分治的對等政理念是下列哪個階段的外交政策？ (A)鞏固外交 (B)務實外交 (C)金援外交 (D)彈性
18. ( )近年來臺灣的電視臺增添了不少族群特色，如：客家電視臺、原住民電視臺的創辦身語言為主。請問：這反映了何種現象？ (A)臺灣是個多元社會 (B)臺灣族群分裂嚴重分競爭 (D)官方語言增加。
19. ( )附圖是民國五十年代時，我國所外銷的家電和日常用品。這個時期的海外貿易之所以當時採取下列哪個經濟政策有關？ (A)進口替代 (B)出口導向 (C)發展重化工業 (D)



20. ( )《中美共同防禦條約》之簽訂與廢除，分別與哪兩次事件的發生有關？ (A)韓戰、美八二三炮戰、美國與中共建交 (C)越戰、退出聯合國 (D)韓戰、國共內戰。
21. ( )如右圖的書籍曾經被翻拍成電影，劇情感人熱淚，也見證臺灣社會發展過程中，市井小民的心酸。臺灣的知識分子曾經掀起一股回歸鄉土、關懷社會的熱潮，這是受當時何種事件的影響，而出現的反省與回應？ (A)蔣經國總統宣布解嚴 (B)中美斷交與退出聯合國 (C)政府鼓吹反共復國的愛國意識 (D)美麗島事件。
22. ( )民國六十年代後期，工資持續上漲，過去勞力密集的優勢已逐漸消失，臺灣產業面臨發展的瓶頸，在這時候，政府決定推動下列哪項政策？ (A)引進外勞 (B)建立出口導向產業 (C)在新竹建立高科技園區 (D)產業外移
23. ( )附表是關於臺灣自耕地與佃耕地的比例變化。導致此變化的主要原因為何？ (A)日本還人民 (B)「二二八事件」後的土地賠償 (C)中央政府遷臺後的土地改革 (D)經濟快速發展。

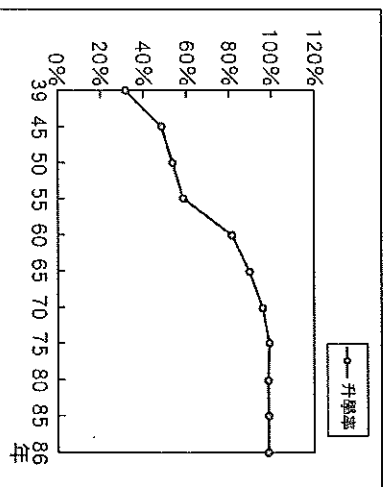
西元	1948年	1953年	1956年
自耕地	56%	83%	85%
佃耕地	44%	17%	15%

24. ( )民國六十年代末期，中共提出「三通四流」、「一國兩制」的口號，從此兩岸關係的走向軍事對立→政治對峙 (B)政治對峙→軍事對立 (C)政治對峙→兩岸交流 (D)兩岸交流→軍事對立
25. ( )以下那些國家，曾經和臺灣同時被譽為「亞洲四小龍之一」。  
(甲)南韓 (乙)日本 (丙)菲律賓 (丁)新加坡 (戊)香港？  
(A)甲乙丙 (B)乙丙丁 (C)甲丁戊 (D)丙丁戊
26. ( )兩岸關係在解嚴後解凍，民間往來日益密切；為了因應此種情勢，在行政院之下所設何？ (A)國家統一委員會 (B)大陸委員會 (C)兩岸交流基金會 (D)海峽交流促進會。
27. ( )民國八十年代，政府為了促進貿易的自由化與國際化，積極的參與國際組織。下列何種入的國際貿易組織？  
(A)東南亞國家協會 (B)聯合國 (C)世界衛生組織 (D)世界貿易組織
28. ( )大陸老兵能夠回故鄉探望親人，這是源自蔣經國總統實施的哪項政策？(A)小三通 ( )大陸人士來臺旅遊 (D)解除戒嚴

30. ( )某學者想要寫一本《臺灣經濟起飛史》，有如下章節：(甲)渡過世界經濟不景氣的法寶：十大建設 (乙)吸引外商投資的秘技：加工出口區 (丙)安定農民的貼心政策：耕者有其田 (丁)創造世界第一名：竹科的誕生。請問：按照這些政策實施的時間，應如何安排章節的先後？

(A)甲乙丙丁 (B)甲乙丁丙 (C)丙乙丁甲 (D)丙乙甲丁。

31. ( )附圖是臺灣國中學生升學率百分比圖。請問：自民國五十年代中期以後，國中生升學率大增的原因為何？(A)開始實施九年一貫 (B)開始推動多元入學 (C)開始實施九年國民義務教育 (D)開始實施十二年國教。



32. ( )回顧台灣 50 年來實施家庭計畫的口號：

50 年代—小家庭、幸福多 60 年代—一個不嫌少，兩個恰恰好 70 年代—適齡結婚，適量生產  
90 年代—兩個孩子很幸福，三個孩子更熱鬧 近年—孩子是我們的傳家寶

請問：近年喊出的口號，顯示台灣社會目前所面臨的問題為何？

(A)台灣總人口減少 (B)學子升學壓力過大 (C)台灣生育率降低 (D)教育政策混沌不明

33. ( )小桃子是生活在民國五十五年的少女，當時她的生活中會遭遇到下列哪項經歷？

(A)在三七五減租時，家裡的經濟獲得改善  
(B)到新竹科學園區上班  
(C)在高雄的加工出口區工作  
(D)從臺北開車上中山高速公路到彰化探親

34. ( )臺北市政府的公共電視有國語、臺語、客語及原住民語之播報服務，臺北捷運以及鐵路局也有這類語音廣播，有別於過去以國語為準的現象，這是哪種意識形態的表現？(A)深刻思考本土文化，體認鄉土文化的價值 (B)原住民的政治意識提高，無法忽略 (C)選舉因素考量，政治因素居多 (D)排斥外省籍人士，去除中國化。

35. ( )在兩岸事務的交流上，民國八十年代首先代表我國與大陸進行交流協商，促使長期對立的兩岸出現和平共處曙光者，是下列何人？

(A)李登輝 (B)馬英九 (C)汪道涵 (D)辜振甫

36. ( )第二次世界大戰後，美國面對共產勢力的積極擴張，採取圍堵政策，臺灣在哪一個條約簽訂後，正式成為美國在東亞反共防衛體系的一環？(A)戒嚴令 (B)中美共同防禦條約 (C)臺灣關係法 (D)動員戡亂時期臨時條款。

37. ( )右圖是小琪在外公家所看到的蒐藏品，一張特殊的新年賀卡。這張新年賀卡主張的大陸政策，大致上是在臺灣哪位總統的任期內？

(A)蔣中正 (B)李登輝  
(C)陳水扁 (D)馬英九



38. ( )戰後哪一位總統面對中華人民共和國對我國的外交封鎖，採取接受現狀的務實外交作法？

(A)蔣經國 (B)蔣介石 (C)李登輝 (D)陳水扁

39. ( )中華民國政府於民國 38 年發行新臺幣，主要是受到當時何者的影響，因而推行穩定金融秩序的政策？(A)國共內戰 (B)能源危機 (C)經濟大恐慌 (D)太平洋戰爭

40. ( )戰後臺灣與盟國的關係密切，盟國的流行文化，如麥當勞、肯德基、牛排西餐廳也開始在臺灣引領風潮。上文提到影響戰後臺灣社會文化的是哪一個國家？

(A)日本 (B)韓國 (C)法國 (D)美國

41. ( )臺灣的電視節目現在種類多元，頻道的數量也有上百個之多。這些頻道中哪一個是最早開播節目的？(A)台視 (B)中視 (C)華視 (D)民視

42. ( )民國 60 年代，中華小將到美國參加世界少棒錦標賽，掀起了當時的「棒球熱」，主要與哪一樣傳播媒體的放送有關？(A)手機 (B)電視 (C)部落格 (D)臉書

43. ( ) 「政府以大量米、糖及其他農產品或加工品出口，賺取外匯，再以外匯所得來進口工業原料，在國內生產並以內銷為主，以發展民生工業，同時採取關稅保護，限制外國商品進口。」請問：上文所描述的經濟政策是哪一項？ (A) 出口導向的政策 (B) 貿易國際化 (C) 高科技產業 (D) 進口替代的策略。

44. ( ) 「50年代臺灣社會慢慢由農業社會轉為工業社會，外資來臺投資發達，許多開在社區的小工廠，接下外國訂單，卻又人手不足，於是將一些加工性質的工作發包給家庭主婦，讓他們將工作帶回家中做。」請問：這種「客廳即工廠」的現象是臺灣經濟發展的哪一個時期？ (A) 進口替代政策時期 (B) 出口導向政策時期 (C) 十大建設時期 (D) 加入WTO之後。

45. ( ) 你聽過台灣唯一的英語廣播電台 ICRT 嗎？他原本是 AFNT(美軍廣播網台灣分台)，主要服務在台美軍官兵、雇員及眷屬；後來因為……，經國總統指示行政院新聞局提供協助更名為 ICRT 開播。請問 AFNT(美軍廣播網台灣分台) 的成立是受到哪一事件的影響？ (A) 國共內戰 (B) 韓戰 (C) 八二三炮戰 (D) 退出聯合國

46.

民國 60 年代，我國少棒代表隊在世界少棒大賽中連連奪冠，即使比賽時間在深夜時分，全台各地民眾也會聚集在電視機前面，熬夜為中華小將們熱情加油。在那個外交備受打壓的環境下，我國少棒代表隊揚名海外、強棒出擊，為台灣的國際能見度揮出一支支的安打。

( ) 請問：此時期觀看棒球的民眾，可能還會在電視上看到哪件相關新聞？

(A) 黨外報禁相繼解除 (B) 總統明令動員戡亂 (C) 前往大陸探親旅遊 (D) 黨外運動挑戰戒嚴。

47. ( ) 兩岸關係從軍事對抗、政治對峙進入現今的兩岸交流，以下對於雙方關係的演變，何者錯誤？(A) 政治對峙時期，中共提出「三通四流」，三通是指通商、通航、通郵 (B) 中共的「一國兩制」目前應用在香港、澳門的治理上 (C) 大三通是指開放金門、馬祖到對岸的交流 (D) 2015 年馬習會談，是兩岸分裂以來首次雙方領導人的會面。

48. ( ) 2019 年，我國外交部將以「台美恆久夥伴」為主軸，舉辦一系列紀念活動，凸顯該法案施行四十年來，台海未見重大衝突，台灣走向民主，各高度評價此法案的價值。請問，該法案制定的時空背景為何？(A) 美國將台灣納入西太平洋反共防禦體系 (B) 為因應韓戰所簽訂的中美共同防禦條約 (C) 是配合台灣務實外交政策的美國內法 (D) 處理美國與我國斷交後的實質交流機制

民國 60 年代，經濟蒸蒸日上，外交地位卻節節敗退。在一場大學演唱會上，李雙澤重從一片吉他、英文歌聲中，衝上台高喊：「我們為什麼不唱自己的歌呢？」一語驚醒了眾人。校園開始哼唱〈鄉間小路〉〈雨中即景〉這一首首樸素清新的「民歌」。

49. ( ) 請問「民歌」階段，當時台灣的內部狀況何者不正確？(A) 鄉土文學流行 (B) 黨外運動蓬勃發展 (C) 十大建設陸續開辦 (D) 解除戒嚴政黨輪替。

毛共的六百多門大砲，兩個多小時落下了五萬多發砲彈……延續了 44 天……後來毛共下令「單打雙不打」……再後來偶而零星數炮，直到□□□□□□後，金門的炮聲才完全歇止。

50. ( ) 請問：文中提到「直到□□□□□□後，金門的炮聲才完全歇止」，所謂□□□□□□是指下列何事？

(A) 中華人民共和國與美國建交 (B) 台灣開放民眾到大陸探親 (C) 金、馬小三通時代來臨 (D) 兩岸進入民間交流時期。

※ 作答完畢後，請再仔細的檢查一次，並要記得確認畫卡是否正確。

※ 班級姓名座號，請填寫完整正確。