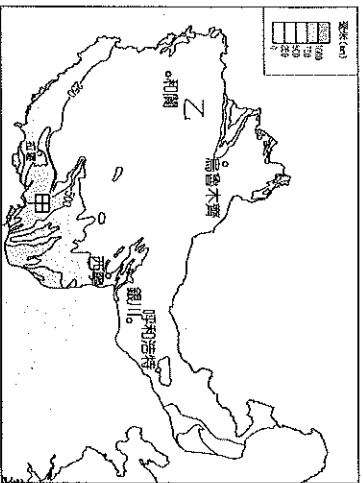


基隆市立武崙國民中學 108 學年度第二學期第二次段考八年級地理科試題卷

本試題分兩部分，第一部分：單一選擇題，共 45 題，每題 2 分，滿分 90 分

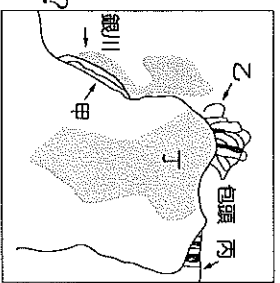
班級：_____ 姓名：_____ 座號：_____

86 附圖為中國西部地區的年雨量分布圖，請回答第 1~3 題：



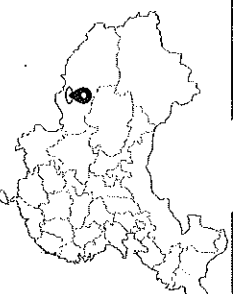
- () 附圖中甲地年雨量較多，請問當地最主要的水氣來源為哪一海域？(A)太平洋 (B)印度洋 (C)大西洋 (D)北極海
- () 附圖中乙所在的盆地年雨量稀少，請問導致的原因有下列哪些？(甲)地形封閉 (乙)距海遙遠 (丙)副熱帶高壓籠罩 (丁)西風背風側 (A)甲乙 (B)乙丙 (C)乙丁 (D)丙丁
- () 乙所在的盆地雨量稀少，當地的人為了生存所發展出來的傳統產業為何？(A)綠洲農業 (B)定居放牧 (C)採集狩獵 (D)水平遊牧

88『黃河百害，唯富一套』，附圖為黃河在河套地區的示意圖，請回答第 4~7 題：


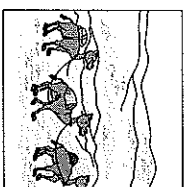
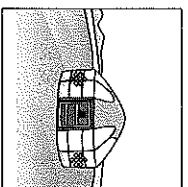


- () 河套地區農業發達，請問與當地哪項特色關係密切？(A)氣候溫暖濕潤 (B)鄰近主要市場 (C)土壤沃度較高 (D)渠道灌溉發達
- () 附圖中哪些地方屬於河套地區的主要農業區？(A)甲乙丙 (B)甲乙丁 (C)甲丙丁 (D)乙丙丁
- () 附圖中哪個地區既有大漠黃沙又有水鄉綠地且有『塞上江南』之稱？(A)甲 (B)乙 (C)丙 (D)丁
- () 若前往『塞上江南』旅遊，在當地最『不可能』看到的是下列哪一個場景？(A)翠綠的湖泊濕地 (B)莊嚴寧靜的清真寺 (C)遍地金黃的稻穗 (D)泥沙滾滾的黃河

88 附圖為世界海拔最高，既是宮殿又是寺院的布達拉宮所在地，請回答第 8~12 題：



- () 請問布達拉宮位在下列哪個地形區？(A)藏北高原 (B)藏南谷地 (C)柴達木盆地 (D)滇西縱谷
- () 臺灣人若想前往布達拉宮朝聖，最『不可能』面對什麼樣的環境挑戰？(A)炎熱乾燥導致中暑 (B)風大寒冷產生凍傷 (C)氣壓偏低引起高山症 (D)日夜溫差大導致感冒
- () 請問布達拉宮是屬於哪一種宗教建築？(A)道教 (B)藏傳佛教 (C)基督教 (D)伊斯蘭教
- () 請問下列哪一幅景象會出現在布達拉宮鄰近？



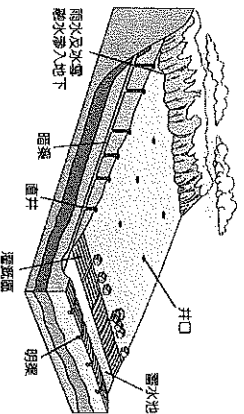
- () 前往此地旅遊在飲食方面除了吃肉、喝奶，還有哪一項農作物也是當地主要糧食？(A)小米 (B)大麥 (C)青稞 (D)樹薯

88 寬闊的內蒙古高原高原東西兩側景觀差異大，也孕育出不同的文化與生活方式，請回答第 13~15 題：

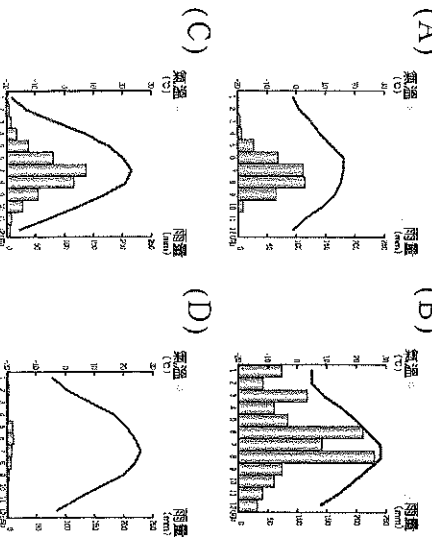
- () 若從東側一路驅車往西部旅遊，沿途景觀的變化最可能為下列何者？(A)沙漠→礫漠 (B)草原→礫漠 (C)森林→草原 (D)草原→苔原

14. () 承上題，請問會有這樣的景觀變化主要和下列何者關係最密切？
 (A) 氣溫高低 (B) 雨量多寡
 (C) 地勢起伏 (D) 表土性質
15. () 內蒙古高原由於地表景觀的顯著差異使得東、西兩地居民的傳統經濟生活也有很大的不同，請問高原的東側和西側其傳統經濟活動分別為下列何者？
 (A) 農業、定居放牧
 (B) 定居放牧、水平游牧
 (C) 水平游牧、山牧季移
 (D) 綠洲農業、逐水草而居

98 附圖為中國某地的水利灌溉設施，當地居民為順應自然，特別耗時、費力、花錢才能完成這項工程，請回答第 16~17 題：

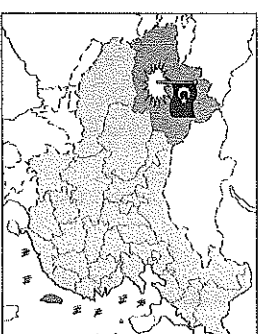


16. () 附圖的特別地表景觀現今也成為觀光賣點，請問參與下列哪一個旅遊行程能有機會前往一探究竟？
 (A) 挑戰吐魯番火焰山之旅
 (B) 尋訪絕美湖泊羌塘之旅
 (C) 遼闊草原體驗畜牧生活
 (D) 進聚寶盆尋訪萬丈鹽橋
17. () 請問當地居民是因為身處於哪一種氣候條件才特別興建如附圖所示的水利工程？
 (A) 乾旱
 (B) 多雨
 (C) 多雪
 (D) 多風

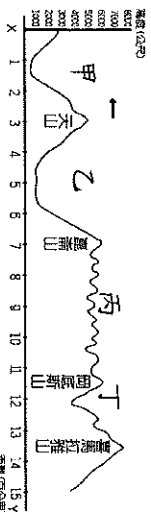


18. () 新疆喀什地處邊疆，在過去為中國的邊防要塞，如今因為一帶一路政策的實施，其更轉型為帶動了中國西部經濟發展的前哨，請問下列哪一項描述『並非』此都市的特色？

- (A) 商業熱絡邊境貿易發達
 (B) 中國唯一內陸經濟特區
 (C) 通往中亞重要交通節點
 (D) 國防重鎮戒備管制森嚴



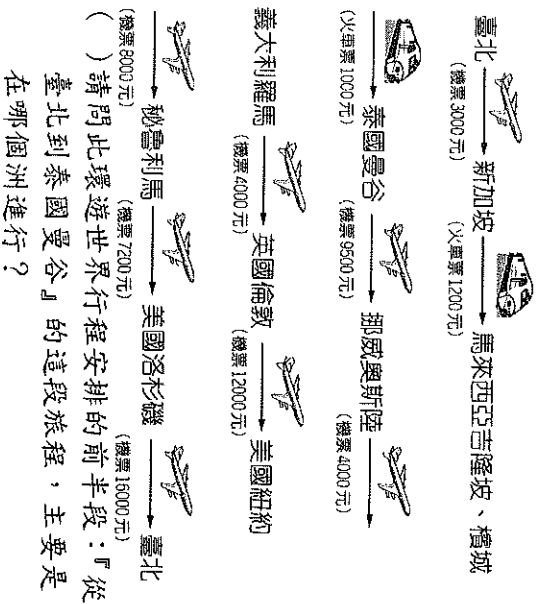
19. () 附圖有旗幟的地區屢次傳出獨立聲浪及中國政府強力鎮壓，該地區因為族群與宗教問題和中國政府存在許多矛盾，加上鄰近相同宗教的其他國家紛紛聲援，讓其中的問題更加複雜。請問該地區主要信仰的宗教為下列何者？(A) 天主教 (B) 神道教
 (C) 伊斯蘭教 (D) 藏傳佛教
20. () 喜馬拉雅山區的水河消融日益嚴重，山上的雪線也以每年 10~15 公尺的速度後退，此狀況短期會造成鄰近地區出現水患，長期下來更會導致連年乾旱，嚴重損害鄰近人民的生存，請問中國哪個地區的人民會最直接受到影響？
 (A) 河西走廊 (B) 藏南谷地
 (C) 橫斷山脈 (D) 藏北高原
21. () 請問甲乙丙丁分別為哪些地形區？



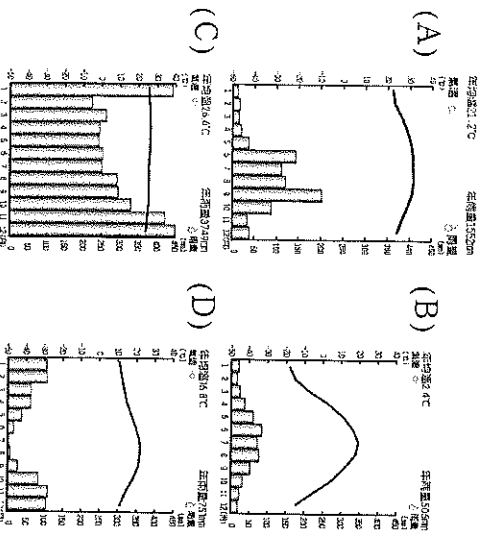
- (A) 塔里木盆地、柴達木盆地、藏北高原、藏南谷地 (B) 準噶爾盆地、塔里木盆地、藏北高原、藏南谷地 (C) 四川盆地、青海湖盆地、雲貴高原、橫斷山脈 (D) 哈密盆地、吐魯番窪地、黃土高原、橫斷山脈
22. () 中國西部地區能源礦產資源豐富，請問下列關於西部地區『可再生能源』的敘述何者錯誤？
 (A) 西藏羊八井蘊藏豐富的地熱資源
 (B) 新疆達坂城擁有大型風力發電站
 (C) 雅魯藏布江因地勢落差大富水力
 (D) 柴達木盆地蘊藏豐富煤礦及石油
23. () 中國新疆地區素有『瓜果之鄉』的美名，請問當地盛產的瓜、果糖分特別高的主要原因為下列何者？
 (A) 引雪水灌溉 (B) 日夜溫差大
 (C) 沙土沃度高 (D) 日照時間長

24. () 河西走廊氣候乾燥但卻擁有許多著名市鎮，像是敦煌、玉門、酒泉都是歷史古都至今依舊持續發展，請問這些聚落早期的主要用水來源為下列何者？
 (A) 雨水 (B) 地下水
 (C) 河水 (D) 高山融雪

88 附圖為專家建議「超值版環遊世界」路線與行程，請回答第 25~29 題：



25. () 請問此環遊世界行程安排的前半段：『從臺北到泰國曼谷』的這段旅程，主要是在哪個洲進行？
 (A) 非洲 (B) 亞洲 (C) 歐洲 (D) 美洲
26. () 在旅程的規劃中，了解旅行地的氣候是極為重要的環節，請問此行程第一站新加坡的氣候最可能為下列何者？

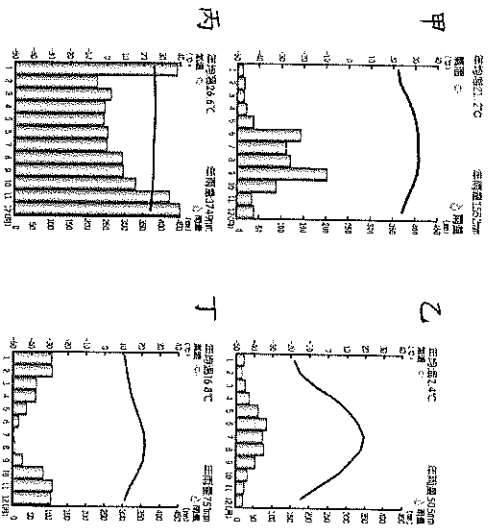


27. () 臺灣的降雨特色主要以夏季降雨為主，

- 然而有些氣候帶的雨季卻是出現在冬季，請問旅程中有哪些都市是屬於『夏乾冬雨』的氣候類型？(甲)曼谷 (乙)倫敦 (丙)羅馬 (丁)洛杉磯 (戊)紐約
 (A) 甲乙 (B) 乙丙 (C) 丙丁 (D) 丁戊
28. () 此行程中就屬秘魯的首都利馬氣候最為乾燥少雨，利馬濱臨太平洋為熱帶沙漠氣候，請問其氣候形成主要受下列哪些因素影響？(A) 地形、背西風 (B) 涼流、

- 背信風 (C) 暖流、赤道低壓 (D) 涼流、副熱帶高壓
29. () 環遊世界的路線中哪一個行程可以一睹世界最長山脈的壯闊？而此山脈的名稱為下列何者？(A) 美國洛杉磯、洛磯山脈 (B) 美國紐約、洛磯山脈 (C) 祕魯利馬、安第斯山脈 (D) 泰國曼谷、喜馬拉雅山

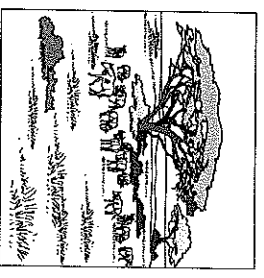
89 附圖為四種氣候類型的氣候圖，請回答第 30~32 題：



30. () 附圖中四個地區的氣候圖其氣溫的差異主要受到下列何者的影響而有不一樣的呈現？

- (A) 太陽照射角度 (B) 陸地面積大小
 (C) 距離海洋遠近 (D) 地勢高低差異
31. () 地表植被與物種深受氣候條件影響，請問下列哪種氣候類型的生物多樣性最高？
 (A) 甲 (B) 乙 (C) 丙 (D) 丁

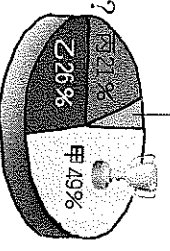
32. () 附圖描繪的疏林和草原為廣大野生動物生活的環境，這些動物每年隨著太陽進行遷移，年復一年充滿生命的動力與壯闊，請問此圖的氣候類型最可能為下列何者？
 (A) 甲 (B) 乙 (C) 丙 (D) 丁



33. () 附圖為世界各大洋面積比例圖，請問甲乙丙

分別代表的大洋為何？

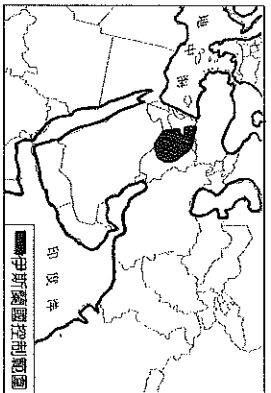
- (A) 太平洋、印度洋、南冰洋 (B) 太平洋、大西洋、印度洋
 (C) 大西洋、太平洋、印度洋 (D) 大西洋、太平洋、北冰洋



34. () 附圖為

2015 年伊
斯蘭國

(IS) 主
要控制的
範圍，此
地因位於



三大洲的交匯處，具有重要的交通意義
因此戰略位置重要。請問此三大洲分別
為何？(A)亞、非、美 (B)亞、歐、美

(C)歐、亞、非 (D)歐、亞、大洋

35. () 附表資訊能呈現出下列哪一項事實？

| | 陸地 | 海洋 |
|-----|-----|-----|
| 北半球 | 39% | 61% |
| 南半球 | 19% | 81% |
| 陸半球 | 45% | 55% |
| 水半球 | 11% | 89% |

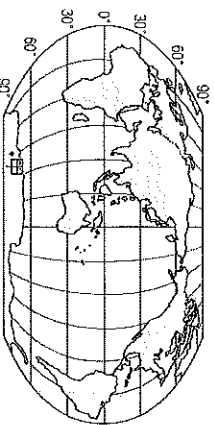
(A) 陸半球的海域面積比陸地小

(B) 北半球陸地面積比南半球小

(C) 南半球的範圍雨水半球一致

(D) 每個半球都是海洋面積較大

36. () 下列何者『並非』圖中甲地的環境特色？



(A) 每年七月出現永晝

(B) 風勢強大雨量稀少

(C) 終年低溫年溫差小

(D) 植被與生物量稀少

37. () 溫帶地中海型氣候不同季節的降雨特色
深受其被哪一種風帶籠罩所影響，請問
關於此氣候降水與影響的因素下列何者
正確？

(A) 夏雨：赤道低壓、冬乾：副熱帶高壓

(B) 夏雨：季風、冬乾：信風背風側

(C) 夏乾：副熱帶高壓、冬雨：西風

(D) 夏乾：西風背風側、冬雨：信風

38. () 世界的連結與互動愈來愈頻繁及緊密，
導致許多現象從單一國家很容易就擴散
到全世界，例如傳染病的擴散往往因者
更難以掌控。請問此種改變與下列何者
關係最為密切？(A)民主思潮 (B)交通
革新 (C)宗教改革 (D)綠色革命

39. () 為了過更好的生活，人們往往因地制宜

設計建造出適應不同自然環境的建築物，
請問北歐地區的斜頂建築主要是為了適
應哪一種環境特色？

(A) 缺乏日照 (B) 潮濕多雨

(C) 冬季積雪 (D) 風大沙多

40. () 世界上哪一種宗教信仰的人口數最多？

(A) 基督宗教 (B) 伊斯蘭教 (C) 佛教

(D) 印度教

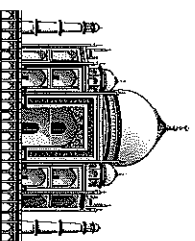
41. () 世界人口數最多、最密集的区域和下列

哪一種糧食作物的產區大致相重疊？

(A) 稻米 (B) 小麥

(C) 玉米 (D) 馬鈴薯

38右圖為一宗教建築，此宗教
近年來人口快速增加，也讓某
些歐洲國家為之忌憚。請問第
42~43題：



42. () 請問附圖為哪一宗教

的特色建築？(A) 印度教 (B) 摩尼教

(C) 猶太教 (D) 伊斯蘭教

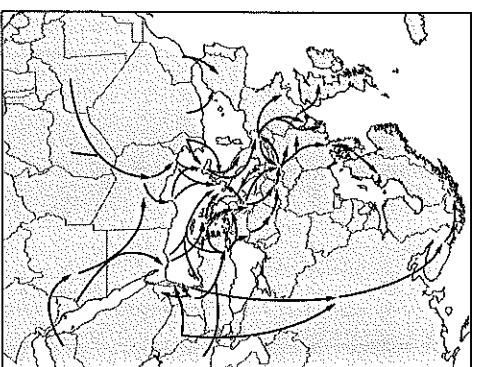
43. () 下列哪一項關於此宗教的描述是『錯誤』
的？(A) 嚴禁飲酒及吃豬肉 (B) 齋戒月
日落前不得飲食 (C) 信徒稱為穆斯林
(D) 每天需向聖地耶路撒冷朝拜五次

38附圖為近年來難
民主要移動路線，

由於戰爭、衝突和
迫害，2014 年全球
流離失所人數逼近
六千萬人。請問第
44~45題：

44. () 請問此種

大規模的
人口流動
最可能導
致哪兩種



宗教間的衝突？(A) 基督宗教內派系間

(B) 印度教、神道教 (C) 伊斯蘭教、佛

教 (D) 伊斯蘭教、基督宗教

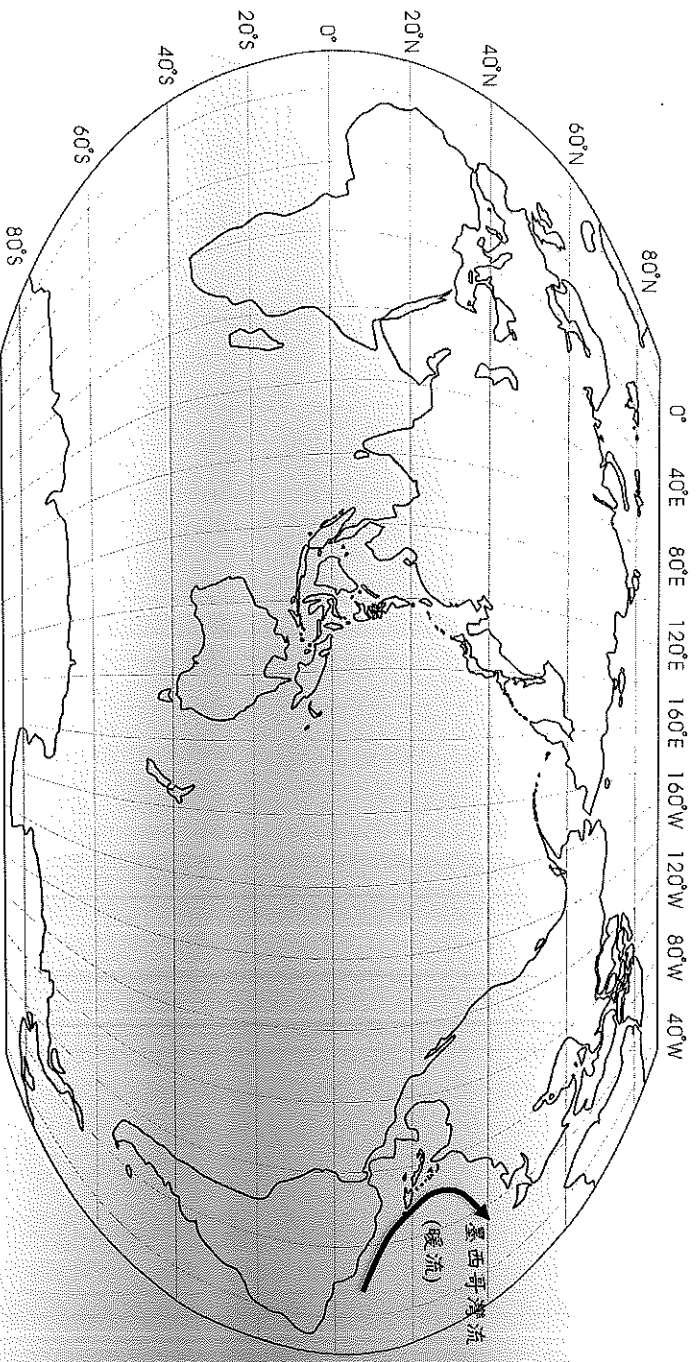
45. () 承上題，哪一個海域最可能出現難民乘
船欲偷渡上岸的問題？(A) 紅海 (B) 黑
海 (C) 地中海 (D) 波羅的海

【第 4 頁，選擇題結束，請繼續第 5 頁非選擇題】

基隆市立武崙國民中學 108 學年度第二學期第二次段考八年級地理科答案卷

第二部分：非選擇題，共 10 題，每題 1 分，滿分 10 分

- 1.請在地圖上正確的位置分別填寫出『印度洋』、『大西洋』（各 1 分，共 2 分）
- 2.請在地圖上正確的位置分別填寫出『南美洲』、『非洲』（各 1 分，共 2 分）
- 3.請在地圖上用虛線分別畫出『南、北回歸線』並寫上名稱（各 1 分，共 2 分）
- 4.請在地圖上畫出『加利福尼亞洋流』的流向並寫上洋流性質（如示例）（各 1 分，共 2 分）
- 5.請在地圖上畫出『本吉拉洋流』的流向並寫上洋流性質（如示例）（各 1 分，共 2 分）



【第 5 頁，試題結束】

| 班級 | 姓名 | 座號 | 選擇題得分 | 非選擇題得分 | 總得分 |
|----|----|----|-------|--------|-----|
| | | | | | |

基隆市立武崙國民中學

國文科寫作測驗

測驗時間：45 分鐘

注意事項：

- 1.請用直式書寫，由上而下，由右而左。
- 2.作答前請先抄題。
- 3.請使用本國文字書寫，不得使用簡體字。
- 4.作答必須分段(以四段為佳)，並加新式標點符號。
- 5.不得在文中暴露私人身分，且不得於答案紙上註記任何符號及圖形。
- 6.限用黑色鋼筆或原子筆書寫，不得使用藍色或其他顏色，亦不得使用鉛筆，違者不予計分。
- 7.如需擬草稿，請使用背面之空白頁。

段考別：108 學年度第二學期第二次段考

年級：八年級

題目：衝突過後

說明：

人一生中，因著與他人價值觀的歧異，必定經歷過或多或少的衝突，有人選擇直接面對，表達立場，讓對方明白自己的處境；也有人選擇忍氣吞聲，默默忍受。無論選擇何種方式面對，在衝突過後，如何收拾自己的情緒，並從中獲得體悟，相信會使人更加成長、成熟。

請就自己的經驗，寫出衝突事件過後，如何處理情緒、面對問題的方式，並且書寫自己從此事件所習得的收穫。

請以「衝突過後」為題，寫下你的經驗、感受及想法。