

基隆市立武崙國民中學一〇八學年度第二學期第二次段考七年級地理科答案卷

七年\_\_\_\_班座號：\_\_\_\_


姓名：\_\_\_\_\_

單選題得分	非選擇題得分	總分

◆第二大題：非選擇題，每格 1 分，共計 10 分。(請以黑色或藍色原子筆書寫，違者不予計分)

1. 為了降低生產成本、增加利潤，工廠會考慮不同的因素，而最適合設置工廠的地點，即為工業區位。下圖為工業區位因素示意圖，請將最合適的代號填入對應的表格中：

(A)原料 (B)動力 (C)市場 (D)勞工 (E)交通 (F)政策



2. 在選擇設廠位置時，企業會綜合考量各種要素，通常不會是「只因為某一項要素而選擇在此設廠」。以下所舉的案例乃是特重某一項工業區位要素的案例，請判斷其應為哪一項因素，並將最合適的代號填入對應的表格中：

(A)原料 (B)動力 (C)市場 (D)勞工 (E)交通 (F)政策

- (1) \_\_\_\_\_：位於花蓮縣秀林鄉的和平水泥工業園區，是因此地出產水泥的主要原料——石灰岩，因而就近設置水泥工廠，節省原料的運輸成本。
- (2) \_\_\_\_\_：煉鋁業需耗費大量的電力，因此常會設置在大型發電廠附近，鄰近發電廠較能取得電價優惠，例如冰島的煉鋁業興盛是因為地熱發電興盛。
- (3) \_\_\_\_\_：十大建設時，中鋼中船等大規模的重工業工廠設置在高雄港周邊，主要原因是因為高雄港的交通便利優勢。
- (4) \_\_\_\_\_：新北市泰山區曾經是全球最大的芭比娃娃製造中心，民國 56 年美國的 Mattel 公司在此設廠就是考慮到臺灣的工資低廉。

基隆市立武崙國民中學一〇八學年度第二學期第二次段考七年級地理科試題卷

注意事項：

1. 本份試卷共兩大題。第一大題為單選題，每題2分，共45題，合計90分；第二大題為非選擇題，合計10分。總分100分。
2. 答案卡限用2B鉛筆畫記，若畫記錯誤，請擦拭乾淨。分數以電腦讀卡分數為準。
3. 答案卡上的資料欄請確實填寫，若資料欄畫記錯誤導致電腦無法正確判讀，扣總分10分。

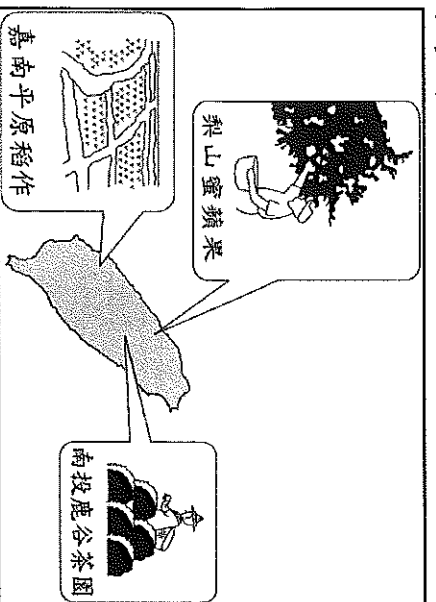
班級：七年\_\_\_\_\_ 班座號：\_\_\_\_\_ 姓名：\_\_\_\_\_

◆第一大題

- ( ) 1. 附表為可愛島當地居民主要產業結構，請依表中資料判斷，該島哪一級產業的比例最高？  
 (A)第一級 (B)第二級 (C)第三級 (D)無法判斷。

產業別	比例
觀光業	18%
漁業	22%
食品加工业	28%
農業	12%
運輸業	20%

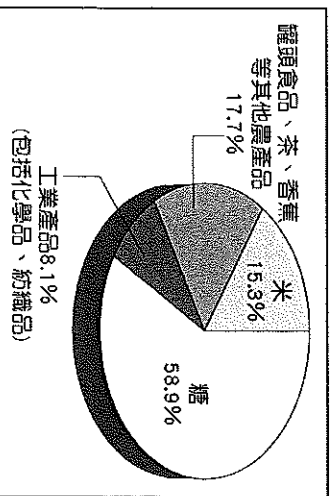
- ( ) 2. 附圖是臺灣著名的農產分布示意圖。這些作物的分布，與下列哪一項環境背景的關係最密切？  
 (A)地形差異(B)勞力供應 (C)資金供給 (D)降水量多寡。



- ( ) 3. 附表為某漁港的作業海域及漁產品產值比例。請問：若根據表中的資料判斷，則產值最高的類型為下列何者？(A)養殖漁業 (B)遠洋漁業 (C)近海漁業 (D)沿岸漁業。

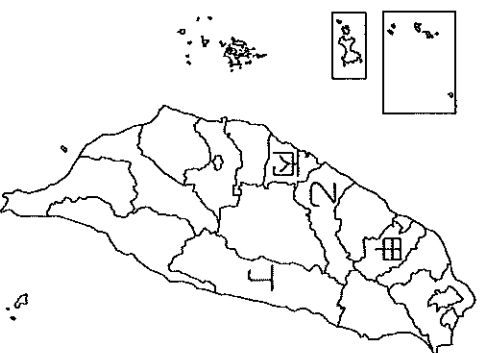
類型	範圍	產值比例
甲	12 哩內	4%
乙	12~200 哩	13%
丙	200 哩外	47%

- ( ) 4. 附圖是臺灣某一時期的各項出口產品所占的比例，這應該是哪個時期的比例圖？(A)產業升級 (B)出口導向 (C)十大建設 (D)進口替代。

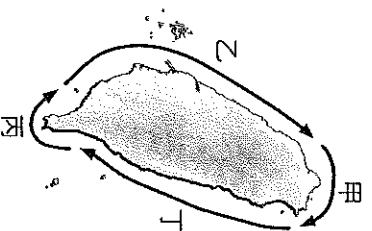


- ( ) 5. 「矽谷」是美國高科技產業最早興起的地方，下列哪個縣市最適合比喻為「臺灣矽谷」？  
 (A)臺北市 (B)新竹市 (C)臺中市 (D)高雄市。

- ( ) 6. 受到鄰近國家的非洲豬瘟蔓延影響，我國在檢疫方面做到滴水不漏，於港口及機場等地進行全面防堵，成功阻擋疫情入境。請問：相關衛生人員若要到臺灣主要的畜牧業分布區域進行檢查及宣導，附圖何處分布應較為密集？  
 (A)甲 (B)乙 (C)丙 (D)丁。



- ( ) 7. 養殖漁業是指從事水產生物繁殖、飼養，並且出售的行業。目前臺灣的養殖漁業主要分布在圖中何處海岸範圍內？(A)甲 (B)乙 (C)丙 (D)丁。



- ( ) 8. 政府為因應全球的能源危機，而推動十大建設，不僅進行基礎建設，也創造就業機會。請問：十大建設中所占項目最多的是下列何者？  
 (A)交通建設 (B)電子科技 (C)能源工業 (D)重工業。

- ( ) 9. 臺灣加入世界貿易組織(WTO)之後，為何許多農產品無法和外國競爭？(A)農地規模小，生產成本過高 (B)外交困境，受到各國打壓 (C)臺灣農產品質不佳 (D)工業化導致高度汙染。

- ( ) 10. 承上題，為因應此狀況，未來最適合的農業發展方向為何？(A)粗放經營以降低成本 (B)設法開闢山林，增加耕地面積 (C)建立品牌及行銷，提升農產品的價值 (D)推廣農業機械化，以增加農產。

- ( ) 11. 附表為臺灣第一級產業的產業類別比較表，請問表中何者內容有誤？(A)甲 (B)乙 (C)丙 (D)丁。

代號	甲	乙
產業類別	傳統農業	捕撈漁業
臺灣優勢	地形多樣、氣候溼潤	捕撈技術、漁船科技發達
發展困境或問題	耕地狹小、農村人力老化	附近少有魚群聚集
代號	丙	丁
產業類別	養殖漁業	畜牧業
臺灣優勢	養殖技術良好、研發能力強	導入專業化、科學化的方式
發展困境或問題	超抽地下水造成地層下陷	地狹人稠、牧場規模小

- ( ) 12. 近年來，臺灣各地方鄉鎮舉辦與當地特色及產業相結合的活動，如「高雄甲仙芋頭節」、「臺南白河蓮花季」、「雲林大埤酸菜節」等，從這些活動可以看出目前臺灣農業經營具有哪一項特徵？(A)休閒農業興起 (B)農業經營集約度高 (C)鄉村勞力老化 (D)農業技術先進。
- ( ) 13. 1960年代末至1990年代期間，西太平洋有四個發展迅速的經濟體被稱為「亞洲四小龍」，下列何者不在「亞洲四小龍」之列？(A)日本 (B)南韓 (C)新加坡 (D)香港。
- ( ) 14. 附表為2006年世界進口與出口貿易額排名前五名的國家，由表中數據推論，下列何者為貿易「入超」國？(A)德國 (B)中國 (C)日本 (D)英國。

單位：億美元

排名	出口額		進口額	
	國家	金額	國家	金額
1	德國	11,123	美國	19,196
2	美國	10,373	德國	9,102
3	中國	9,691	中國	7,916
4	日本	6,471	英國	6,008
5	法國	4,901	日本	5,775

- ( ) 15. 下列何者主要考量的工業區位與其他三者不同？(A)嘉南平原——糖廠 (B)宜蘭蘇澳——魚罐頭工廠 (C)花蓮和平——水泥廠 (D)高雄——石化工廠。

- ( ) 16. 「廊」是清代臺灣製糖活動的工場，當時有許多地方因設有這種工場而以「廊」為地名。附圖中哪個區域，出現「廊」的地名數量可能最多？(A)甲 (B)乙 (C)丙 (D)丁。

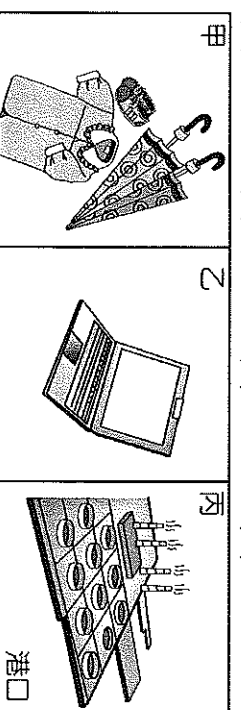


- ( ) 17. 經典民謠《農村曲》，其歌詞如下：「透早就出門，天色漸漸光，受苦沒人問……有時歸身汗，忍著寒甲熱，希望好年冬，稻仔快快大……。」請問：關於當時臺灣農業經營的特色，下列哪一項正確？(A)耕地面積廣大 (B)勞力密集度高 (C)機械化程度高 (D)單位面積產量低。

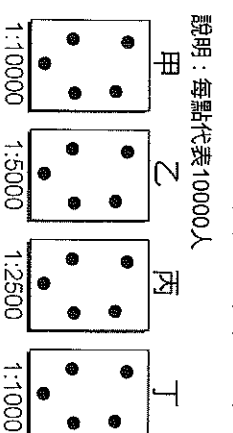
- ( ) 18. 下表為某家工廠的生產成本分析，根據表中資料判斷，此家工廠應該選擇何種工業區位最能降低生產成本，提高利潤？(A)原料 (B)動力 (C)勞工 (D)市場。

成本項目	勞工薪資	原料運費	產品運費	水電費	其他
占總成本比例	26%	28%	31%	10%	5%

- ( ) 19. 附圖為臺灣工業發展不同時期主要工業產品及建設，若依時間先後順序，應為下列何者？(A)甲乙丙 (B)甲丙乙 (C)乙甲丙 (D)丙甲乙。



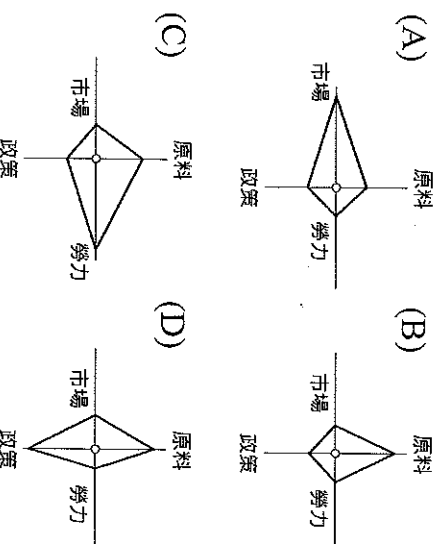
- ( ) 20. 就區位條件來判斷，麥當勞和肯德基這類速食店的設立地點，最適合選擇附圖中哪個地區？(A)甲 (B)乙 (C)丙 (D)丁。



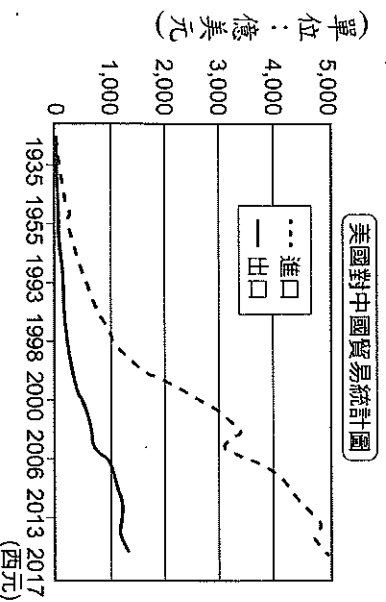
- ( ) 21. 翊帆想做一份報告，主題是「臺灣經濟起飛歷程」，他找到下面幾篇論文，請問：依照政策實施時間，其先後順序為何？(A)甲乙丙丁 (B)甲乙丁丙 (C)乙丙丁甲 (D)丙丁甲乙。

(甲)今天不做明天就會後悔：十大建設  
(乙)創造世界第一：科學工業園區誕生  
(丙)三七五新娘：佃農有能力娶媳婦了  
(丁)吸引外商投資的利器：加工出口區


- ( ) 22. 下列四個選項為工業區位選擇模式圖，其中線段長短表示影響大小，畫綫的父親在某知名鮮奶製造廠工作，考量鮮奶保存期限短，需把握時間賣出，其工業區位應最接近下列何者？



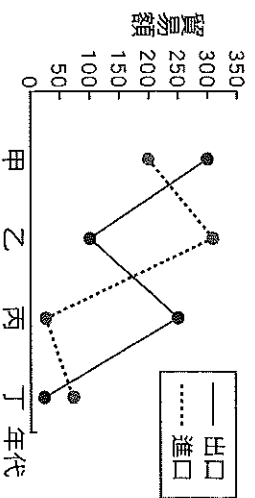
- ( ) 23. 2018 年美國和中國貿易大戰開打，是由美國總統川普引爆，其認為美中是不平衡的貿易。由附圖判斷，美國對中國在貿易上呈現何種現象？(A)貿易入超甚多 (B)大量進口工業原料 (C)出口工業產品種類繁多 (D)貿易出超高達 3,000 億。



- ( ) 24. 附圖為美滿國進口與出口貨品的比例圖，由圖判斷，下列敘述何者正確？(A)美滿國的主要資源非常豐富 (B)美滿國是農業加工品的主要出口國 (C)美滿國對外貿易的進口值大於出口值 (D)美滿國的出口商品主要為工業產品。

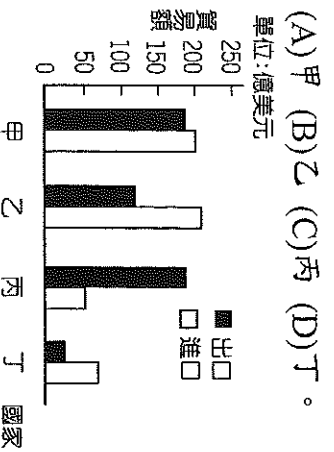


- ( ) 25. 附圖為幸福國四個時期的貿易總額統計圖。請問：下列哪一個時期，幸福國「入超」情形最嚴重？(A)甲 (B)乙 (C)丙 (D)丁。  
單位：億美元



- ( ) 26. 臺灣產品朝技術創新、特色產品開發及營運模式改善，協助傳統產業在質量全面升級，其具備的工業特徵包括下列哪些？(甲)高附加價值(乙)外銷潛力大(丙)技術密集度高(丁)工業污染程度高 (A)甲乙丙 (B)甲乙丁 (C)甲丙丁 (D)乙丙丁。

- ( ) 27. 附圖為某年甲、乙、丙、丁四個國家與臺灣的貿易額統計圖，已知臺灣對日本的入超額最大。請問：何者最可能為日本？



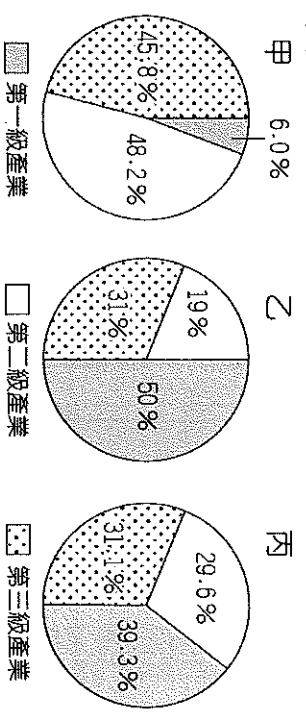
- ( ) 28. 臺灣國際貿易活動相當發達，請問：我國對於國際貿易依賴程度甚高，其原因與下列哪些因素有關？(甲)自然礦產資源缺乏(乙)疆域狹長面積太小(丙)地勢起伏山多田少(丁)國內消費市場有限 (A)甲乙 (B)丙丁 (C)甲丁 (D)乙丙。

- ( ) 29. 有關糧食作物與經濟作物的比較，下表哪一項敘述錯誤？

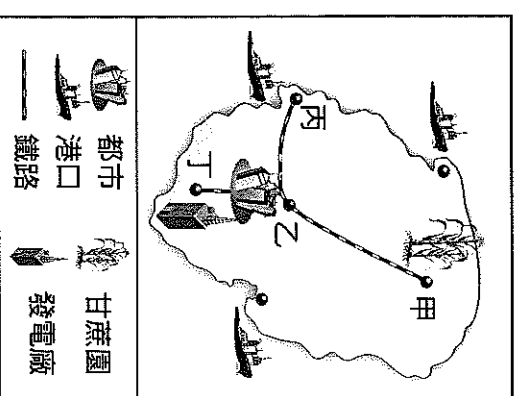
	定義	舉例
糧食作物	(A)提供人們裹腹的作物	(C)茶、甘蔗
經濟作物	(B)作為加工的原料或換取現金	(D)咖啡、可可、棉花

- ( ) 30. 隨著臺灣工資不斷上揚、環保意識高漲等趨勢，目前許多傳統產業紛紛轉移至下列哪些國家或地區？(甲)中國(乙)東南亞(丙)南非(丁)西亞 (A)甲乙 (B)甲丁 (C)乙丙 (D)丙丁。

- ( ) 31. 產業結構的變遷反映出一國的經濟發展，附圖為幸福國三個不同時期的產業結構圖，依其發展順序，應為下列何者？(A)甲乙丙 (B)乙甲丙 (C)乙丙甲 (D)甲丙乙。



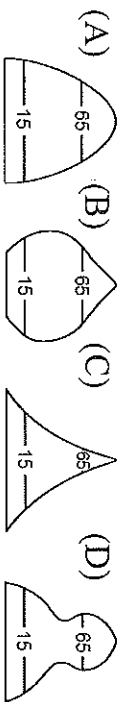
- ( ) 32. 附圖是美滿國的環境示意圖，該國欠缺礦產資源，但鋼鐵業及石化工業卻非常發達。以該國的情況來衡量，其鋼鐵及石化業最可能設置於何處？(A)甲 (B)乙 (C)丙 (D)丁。



- ( ) 33. 民國 60 年代，臺灣工業逐漸轉型，此時期政府採取附圖中的哪一項方案，為經濟發展成長最快的時期？(A)方案一 (B)方案二 (C)方案三 (D)方案四。

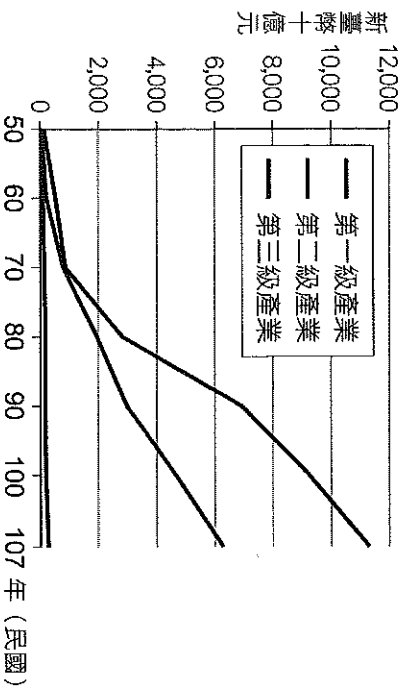
- 方案一：大量引進外籍勞工  
 方案二：實施環境保育政策  
 方案三：推動石化工業發展  
 方案四：設置科學工業園區

- ( ) 34. 下列哪個人口金字塔圖最能表現出臺灣農村人口的現況？



- ( ) 35. 臺灣的芭樂種類繁多，育種後各具特色，如：彩虹芭樂形似西瓜，口感甜具有特殊香氣，上述符合臺灣哪種農業經營的調適？(A)農村活化 (B)農地有效利用 (C)農業技術改良 (D)農產品把關。
- ( ) 36. 基於生態平衡及養分循環原理，不施用化學肥料及化學農藥，不使用基因改造生物及其產品，進行農作、森林、水產、畜牧等農產品生產，此種農業方式為何？(A)精緻農業 (B)有機農業 (C)休閒農業 (D)集約農業。
- ( ) 37. 臺灣稻米產量有供過於求的現象，主要原因為何？(甲)單位面積產量增加(乙)飲食習慣改變(丙)出生率降低(丁)稻田面積擴大  
(A)甲丙 (B)甲乙 (C)丙丁 (D)乙丁。
- ( ) 38. 政府公布，自 2020 年 1 月 1 日起，每月基本工資由 23,100 元調整至 23,800 元，調升 700 元；調幅 3.03%；每小時基本工資由 150 元調整為 158 元，調升 8 元，調幅 5.33%。若其他條件不變的話，這項規定將會對下列哪種產業的生產成本影響最大？(A)成衣廠 (B)水泥廠 (C)製糖廠 (D)煉鋁廠。

- ( ) 39. 附圖為臺灣三級產業產值。自民國 80 年代後，第二級產業就業人口比例下降，產值卻仍舊上升，其原因為何？(A)政府優惠政策補助 (B)產業升級，產品的價值提高 (C)國際貿易發達 (D)交通設施改善。

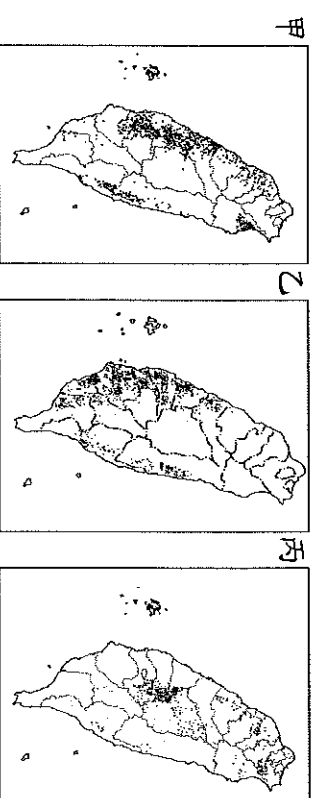


※臺灣在民國 50 年代有一首歌謠——孤女的願望：「請借問播田的田庄阿伯啊！人在講繁華都市臺北對叻去，阮就是無依偎可憐的女兒，自細漢(小時候)就來離開父母的身邊，雖然無人替阮安排將來代誌(事情)，阮想要來去都市做著女工度日子，也通來安慰自己心內的寂寞(寂寞)。」請問：

- ( ) 40. 以當時臺灣經濟發展歷程階段推測，這位孤女到都市之後，最有可能從事何種工作？  
(A)在家樂福量販店當收銀員 (B)在科學工業園區當清潔員 (C)在網路購物中心當推銷員 (D)在紡織廠當生產線作業員。

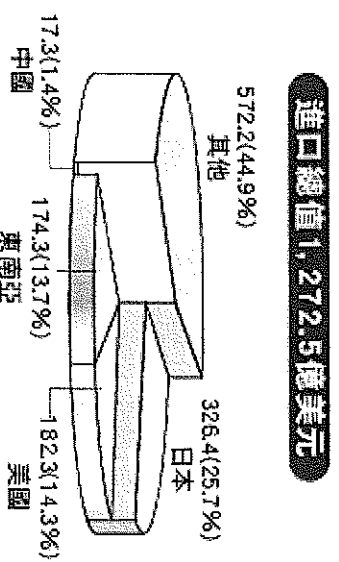
- ( ) 41. 這首歌傳唱的年代，臺灣的經濟背景為何？  
(A)由農業社會逐漸轉型為工業社會 (B)由工業社會逐漸轉型為商業社會 (C)由商業社會逐漸轉型為農業社會 (D)由工業社會逐漸轉型為農業社會。

※附圖為臺灣早期三種重要農作物的分布圖。請問：



- ( ) 42. 「喜歡生長在溫暖多雨的南部平原地帶」，符合上述生長條件的經濟作物為何？(A)水稻 (B)茶 (C)甘蔗 (D)檳榔。
- ( ) 43. 承上題，該種農作物的分布最有可能是附圖中哪一張圖？(A)甲 (B)乙 (C)丙。

※附圖是臺灣某一年進出口地區貿易產值比例圖，請由圖中數據判斷，並回答下列問題：



- ( ) 44. 臺灣的國際貿易在哪些地區呈現「入超」？  
(甲)日本(乙)中國(丙)美國(丁)東南亞 (A)甲乙 (B)甲丁 (C)乙丙 (D)丙丁。

- ( ) 45. 根據圖中數據判斷，請問：下列何者與臺灣貿易總額最高，與臺灣貿易關係最密切？  
(A)日本 (B)美國 (C)中國 (D)東南亞。

※還有非選擇題唷！請再仔細檢查有沒有遺漏之處，預祝每位同學都能得到理想成績！