

基隆市立武崙國中 108 學年度第二學期 第一次段考 九年級社會科試卷—歷史科


電腦讀卡，請使用 2B 鉛筆，並依據題號在答案卡上作答，答案卡無法判斷身分者，扣總分 10 分

範圍：第五冊 6-3~6-4 第六冊 CH1~CH2

班級：_____ 座號：_____ 姓名：_____



一、選擇題 (每題 2.5 分)

1. 雅涵在課本中看到一幅十九世紀的歐洲地圖，其中以法蘭西帝國領土最大，而華沙大公國、萊因邦聯、西班牙、義大利王國和那不勒斯王國則被塗上相同顏色，且標註為某人的附庸國。請問：此地圖的標題應為何者？ (A)宗教改革後歐洲的新舊教分布圖 (B)日耳曼民族的遷徙與建國圖 (C)拿破崙時代的歐洲形勢圖 (D)維也納會議後的歐洲形勢圖
2. 位於南美洲的巴西，曾長期受到殖民統治。這個曾經統治過該地區的國家，亦占領下列哪個亞洲地區，做為貿易據點？ (A)印度 (B)臺灣 (C)印尼 (D)澳門
3. 政局紛亂的巴爾幹半島，在歷史上曾先後被哪些政權所統治？ (A)亞歷山大、亞述、波斯、法蘭克 (B)亞歷山大、羅馬、拜占庭、鄂圖曼土耳其 (C)巴比倫、羅馬、阿拉伯、拜占庭 (D)亞歷山大、羅馬、阿拉伯、鄂圖曼土耳其
4. 下列有關義大利半島的歷史敘述，何者錯誤？ (A)上古時期曾為波斯的領土 (B)此地曾經受日耳曼民族的侵擾 (C)中古時期為文藝復興運動的發源地 (D)奧國是義大利半島尋求獨立的最大絆腳石
5. 「正露丸」是現今市面上常見的一種胃腸藥，據說是日本在二十世紀初與西方強國「露西亞」作戰時，為治療士兵腹瀉而開發的藥物，故原名征露丸。請問：所謂的「露西亞」指的應是哪個國家？ (A)法國 (B)俄國 (C)美國 (D)德國
6. 穎萱在大學選修「世界文化史」一門課，她以英國作家狄更斯做為這堂課期末報告的內容。下列有關狄更斯的敘述，何者正確？ (A)作品強調光影的變化 (B)屬於寫實主義的代表人物 (C)著名作品：《英雄交響曲》 (D)與作家歌德的寫作風格近似
7. 亞洲在十九世紀中期後，一直成為新帝國主義侵略國家的俎上肉，唯獨一個國家脫離被侵略的命運。甚至搖身一變成為侵略國家。這個國家是下列何者？ (A)中國 (B)菲律賓 (C)日本 (D)新加坡
8. 麥可爺爺拿出收藏的古董錶，述說著這支錶的故事：「這隻錶是一位軍官在二十世紀初期與奧國人併肩作戰所得到的獎勵，這隻錶陪著他征討俄國，最後俄國爆發革命，以和談結束了東邊的戰線。」這位軍官應該是哪個國家的人？ (A)義大利 (B)美國 (C)法國 (D)德國
9. 右圖是一幅世界現代史的政治漫畫，此幅漫畫應該與下列何事有關？ (A)國際聯盟的成立 (B)普法戰爭德國戰敗 (C)巴黎和會的決議 (D)維也納會議的召開
10. 《革命的年代》一書中指出，西元 1789 至 1848 年間，歐洲發生「雙元革命」：「從英國、法國這兩個學生的火山口向外噴發，中產階級取得最後的勝利。英國破壞了傳統經濟和社會結構；法國則引發每個新生國家的意識型態。兩種革命互為補充，而不是相互競爭。」請問：文中的「雙元革命」是指何者？ (A)社會主義、資本主義 (B)光榮革命、美國獨立戰爭 (C)英法百年戰爭、宗教戰爭 (D)工業革命、法國大革命



背面尚有題目

11. 共產主義重要思想家恩格斯，曾針對西元 1814~1815 年間召開的某次會議說過：「帝王們分配贓物和獎金，商量能將革命前的形勢恢復到何種程度，民族被買進和賣出、分割和合併，只為符合統治者的利益。」請問：關於此會議的敘述何者**錯誤**？ (A)由奧國首相梅特涅所主導 (B)召開會議的背景是拿破崙戰敗後的歐洲 (C)依循公平與民主原則來重新安排各國土地 (D)「革命前的形勢」是指法國大革命前歐洲各國皇室的統治
12. 對於拿破崙的歷史定位，那位同學**說對**了呢？ (A)立得：征服歐洲，包含了奧地利、俄羅斯與英國 (B)宇琪：透過軍事擴張，將自由、平等、博愛的精神向外傳播 (C)立堅：結束法國大革命，建立法蘭西共和國 (D)承哲：進行恐怖統治，大肆逮捕異議份子
13. 丞翊到某地遊玩時看到了一座人物雕像，導遊告訴他這位人物對於當地脫離西班牙統治有莫大的貢獻。依你的歷史知識判斷，這位人物所指的應是下列何人？ (A)俾斯麥 (B)玻利瓦 (C)加里波底 (D)威爾遜
14. 在評論十九世紀世界各地的獨立風潮時，歷史學家曾經說過：「拉丁美洲的獨立運動比起巴爾幹半島的獨立運動容易成功」這樣的結論。下列何者是造成此現象的原因？ (A)戰略位置重要 (B)宗教問題使之團結 (C)拿破崙戰爭使西屬殖民地脫離嚴密控制 (D)民族問題複雜，使列強利害衝突
15. 筱茹正在閱讀一本名為《白種人的負擔》的書籍，書中將歐美國家對其他國家的侵略行為都加以合理化。這本書所闡述的理念**不包括**下列何者？ (A)物競天擇 (B)適者生存、不適者淘汰 (C)白種人最優越 (D)其他種族遭到惡意壓迫
16. 19 世紀非洲某國家的人民說道：「當非洲各國受到歐洲列強不平等對待的同時，我們卻享有獨立自由的空氣。同胞們！我們更應該格外珍惜這得不易的果實。」以上的敘述最有可能出自於下列哪一國人民的口中？ (A)埃及 (B)肯亞 (C)賴比瑞亞 (D)摩洛哥
17. 育慈正在看《世界歷史集》，書中出現如**右圖**的漫畫。請問：根據畫中內容判斷，這應該是在描述哪個事件？ (A)一次大戰的背景 (B)五四運動的導火線 (C)無限制潛艇戰略的實施 (D)《凡爾賽條約》的簽訂。
18. 阿朱不小心跌倒後，到醫院照射了 X 光，讓醫生了解骨折狀況，才能正確治療。請問 X 光和下列何者的研究性質較接近？ (A)居禮夫婦 (B)佛洛伊德 (C)愛因斯坦 (D)牛頓
19. 新帝國主義國家的侵略與舊帝國主義國家的侵略，最大的不同在於舊帝國主義中，侵略國與被侵略國都是從事第一級產業的國家。而新帝國主義中的侵略國所具備的生產能力是遠遠優於被侵略國家的。造成這種差異最大的歷史原因為何？ (A)地理大發現的影響 (B)宗教改革的效應 (C)新作物的引進 (D)工業革命的推展
20. 浪漫主義學者研究地方風俗、蒐集古老的傳說與樂曲，此現象有助於哪一思想的發展？ (A)社會主義 (B)資本主義 (C)保守主義 (D)民族主義
21. **右圖**為諷刺歐洲列強介入巴爾幹半島，使得當地問題猶如沸騰的熱鍋，隨時會爆發開來。以下哪個列強應身處熱鍋上？ (A)美國 (B)日本 (C)俄國 (D)中國
22. 中、南美洲又稱為「拉丁美洲」的原因，與下列哪一段歷史有關？ (A)地理大發現 (B)工業革命 (C)美國獨立 (D)法國大革命



23. 下列事件皆與法國有關，請依照發生的時間先後排列：(甲)七月革命 (乙)攻陷巴士底監獄 (丙)恐怖統治 (丁)二月革命 (A)甲丁丙乙 (B)乙丙甲丁 (C)丙乙甲丁 (D)丙乙丁甲

24. 瑜詳與庭瑤這對新婚夫婦，展開了為期一個月的歐美甜蜜之旅。兩人在觀賞沿途風景的同時，不免想到了當地的過去歷史。請問，以下對各地的介紹何者完全正確？

(A)法國的滑鐵盧→拿破崙曾在此東山再起，使反法聯軍完全退出法國

(B)法國的凡爾賽宮→普魯士國王威廉一世曾在此登基，成為德意志帝國皇帝

(C)義大利的羅馬→19世紀，義大利王國趁普奧戰爭之際，收回羅馬，完成統一大業

(D)南美的玻利維亞共和國→以玻利瓦命名，19世紀在玻利瓦的領導下，拉丁美洲為脫離英國展開獨立運動

25. 西元 1789 年 7 月 14 日，起事的民眾攻入巴士底監獄所在的堡壘，獄中升起了紅白藍三色旗，廢墟裡豎立一塊木牌，上面寫著：「這裡埋葬了巴士底監獄，象徵著『封建罪惡』的巴士底監獄從此在地球上永遠消失了。」下列何者是民眾所指的「封建罪惡」中的一種？ (A)教士、貴族、平民三階級須負擔一樣的稅收 (B)法王路易十四好大喜功，導致國家財庫空虛 (C)第三階級人數較多，但投票時僅有一票 (D)法王路易十六專制自為，召開國民會議欲徵稅

26. 在這個土地面積比法國略小的地方，幾百年來居然住了土耳其人、塞爾維亞人、羅馬尼亞人、波士尼亞人、保加利亞人等不同族裔……。請問：此地最可能指的是下列何處？ (A)伊比利半島 (B)義大利半島 (C)巴爾幹半島 (D)阿拉伯半島

27. 在歷史上，不同時期各有其代表的社會思潮。若將中國的「自強運動」與日本的「明治維新」做比較，這兩場改革都與下列哪一思潮有關？ (A)社會主義 (B)共產主義 (C)民族主義 (D)帝國主義

28. 關於德意志的統一經過，下列敘述何者有誤？ (A)受到拿破崙占領的刺激，因而激起民族意識，進行統一

(B)維也納會議使日耳曼地區分裂為多個小邦，統一遙遙無期 (C)奧國領導多個德意志小邦，成立關稅同盟，奠定經濟統一的基礎 (D)德意志的統一，是在普法戰爭後完成

29. 右表是歷史老師講解某一主題時整理出的相關資料。同學可從老師的講解，了解什麼主題？

(A)工業革命的發生 (B)基督教的式微 (C)民族主義的沒落 (D)帝國主義的擴張

30. 雷馬克的著名作品——《西線無戰事》一書，是在描述德國在西線戰事中的戰敗事蹟。

在納粹興起之後，這本書因為描寫德國不光榮的過去，使得此書被焚毀，且雷馬克亦成為通緝犯。請問：雷馬克的這

本書應該是以哪一場戰爭為背景？ (A)拿破崙戰爭 (B)普法戰爭 (C)第一次世

界大戰 (D)第二次世界大戰

31. 右圖文字摘自於雨果作品《九三年》，是法國大文豪雨果，以西元 1793 年來作

為小說的背景。請問：根據文字敘述，應該可以判斷西元 1793 年，法國大革命進入

了哪一階段？ (A)三級會議時期 (B)恐怖統治時期 (C)拿破崙稱帝時期

(D)二月革命時期

32. 承上題，雨果的作品較偏向於以下哪個派別呢？ (A)浪漫主義 (B)印象派

(C)寫實主義 (D)立體派

主題：？	
美國	菲律賓
英國	印度、緬甸
法國	越南

十八世紀最末幾年是特殊的年代。斷頭臺像香水一樣遍布整個法國，斷頭臺像愛情一樣成為人們生活的重要成分。你眼看著青光一閃，斷頭臺鋒銳的刀刃彷彿餐刀切進牛油一樣輕鬆地切斷脖頸，凍了白天或激昂或矜持地讚頌幾句共和國的平等，晚上只能埋在枕頭裡祈禱下一塊牛油不要分給自己。

背面尚有題目

二、題組 (每題 2.5 分)

(一)十九世紀，中國與日本的歷史發展有許多相似之處，兩國都曾因為西方勢力的入侵，紛紛進行改革，然而兩國後來的歷史命運卻大不相同。請問：

33. 中國與日本分別遭受到何國的威脅，自此逐步展開西化運動？

- (A)俄國、英國 (B)英國、法國 (C)美國、荷蘭 (D)英國、美國

34. 中國與日本分別展開「自強運動」與「明治維新」的西化運動。關於這兩項運動的比較，下列敘述，何者有誤？

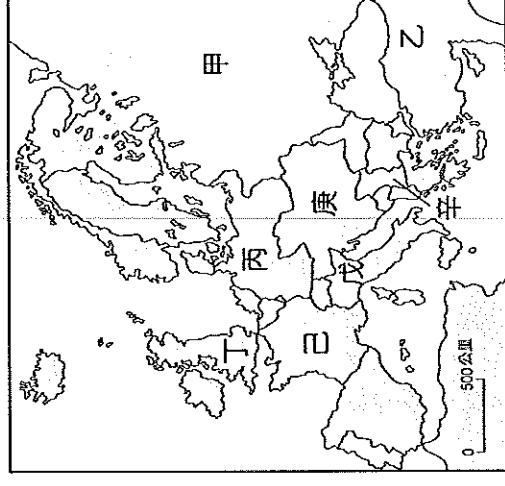
- (A)改革前，兩國皆遭受不平等條約的束縛 (B)兩者推行的時間接近 (C)兩者皆著重在器物層面的改革 (D)兩者皆以富國強兵為目標

(二)右圖是第一次世界大戰爆發前的歐洲形勢。請回答下列問題：

35. 一戰結束後，有四個大帝國瓦解了，這是指圖中的哪四個帝國？

- (A)甲乙丙丁 (B)甲乙丙庚 (C)丙己庚戊 (D)甲丙庚戊

36. 一戰之後所舉辦的巴黎和會有所謂的三巨頭。除了美國是其一之外，其餘兩大巨頭代表哪兩個國家？ (A)丙、丁 (B)丁、己 (C)甲、乙 (D)丙、己



(三)某次國際會議上，戰勝國以克里蒙梭與勞合喬治為首，要求德國承擔發動戰爭的全部責任，並賠償各國損失。德國外交代表聲言，他們不想逃避應負的戰爭責任，但反對由德國負起全責，因為他們認為自己是在打一場防衛戰。

37. 這場會議是在右圖中的哪個地點舉辦的呢？

- (A)甲 (B)乙 (C)丙 (D)丁

38. 文中提到的戰爭應該是下列哪場戰爭？

- (A)拿破崙戰爭 (B)德法戰爭 (C)第一次世界大戰 (D)第二次世界大戰

39. 承上題，這場戰爭的爆發原因為何？

- (A)徵稅問題 (B)奧塞之爭 (C)德侵波蘭 (D)珍珠港事變

40. 這場戰爭的影響為何？

- (A)英國成為日不落帝國 (B)冷戰局面的形成 (C)婦女地位的提升 (D)中國主權的提升

