

基隆市立武崙國中 108 學年度第二學期 第一次段考 九年級社會領域地理科試卷

電腦讀卡，請使用 2B 鉛筆，並依據題號在答案卡上作答，答案卡無法判斷身分者，按規定將扣總分 10 分

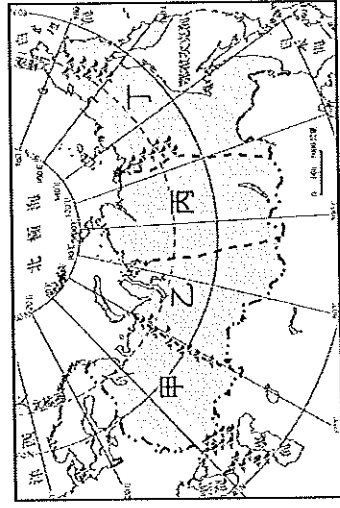
範圍：俄羅斯、非洲、大洋洲與兩極地區

班級：___ 座號：___ 姓名：___

一、單選題 (每格兩分)

() 1. BBC 新聞快報：「俄羅斯境內出現規模達 6.8 的淺層地震，劇烈的搖晃造成當地居民恐慌，所幸至今未傳出嚴重的傷亡事件。」請問：上述新聞最可能的發生地點為下圖中何處？

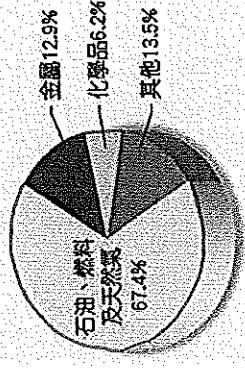
(A) 甲 (B) 乙 (C) 丙 (D) 丁。



() 2. 承上題，俄羅斯是世界上面積最大的國家，然而人口分布卻非常不平均。附圖中哪個區域是俄羅斯人口密度最高的區域？

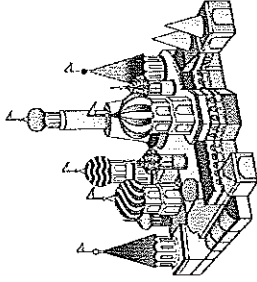
(A) 甲 (B) 乙 (C) 丙 (D) 丁

() 3. 下圖是某年俄羅斯出口比例圖，由圖推判：俄羅斯的經濟可能會產生何項問題？ (A) 引發西亞各國的競爭 (B) 多角化經營致生產成本高 (C) 缺乏發展重工業的原料 (D) 易受國際油價波動影響。



() 4. 飄去歐洲旅遊，參觀當地最具代表性的宗教之建築-洋葱式的教堂，如附圖，體會了當地特殊的文化特色。這裡最有可能是哪一個城市？

(A) 倫敦 (B) 莫斯科 (C) 羅馬 (D) 維也納。



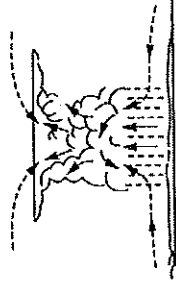
() 5. 「這個國家曾實施『種族隔離政策』，限制黑人的居住與活動範圍，經過黑人的抗爭與國際的制裁，終於在一九九〇年代廢除此一不合理的政策，而後更有黑人首次當選該國總統。」上述的國家為何？ (A) 奈及利亞 (B) 肯亞 (C) 埃及 (D) 南非共和國。

() 6. 非洲地區因殖民和氣候條件影響，多半以出口熱帶栽培業為主要經濟來源，但也因此產生經濟發展的問題 (甲) 大量栽種單一作物，可避免受國際價格波動影響 (乙) 大部分國家都以第二級產業為主 (丙) 熱帶栽培業需要投入大量資金 (丁) 出口經濟作物，進口高單價工業產品。上述正確的為？ (A) 甲乙 (B) 甲丙 (C) 乙丁 (D) 丙丁。

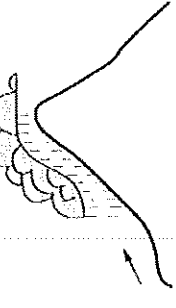
() 7. 紐西蘭全黑隊 (All Blacks) 是橄欖球國際賽的常勝軍，除了其剽悍的球風外，開賽前該隊會來一段原住民戰舞提升士氣，成為全黑隊的特色。請問：全黑隊為下列哪一民族？ (A) 毛利人 (B) 吉普賽人 (C) 印第安人 (D) 因紐特人。

() 8. 紐西蘭的降雨以西側雨量較多，這種降雨分布型態最接近下列哪一張圖？

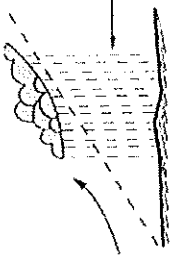
(A)



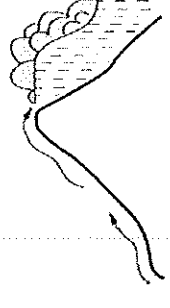
(B)



(C)



(D)



() 9. 位於西伯利亞地區的河川，冬季多結冰，不利於水運。請問：在夏季融雪時，這些河川多流入哪一個海域？ (A) 太平洋 (B) 大西洋 (C) 北極海 (D) 印度洋。


() 10. 南極與北極皆處於極圈內，但南極的氣溫卻比北極低，造成此現象的主要原因為何？ (A) 南極為一完整大陸且地勢較高 (B) 南極的人口較稀少 (C) 南極較不受地球暖化的影響 (D) 南極的降水較多。

() 11. 俄羅斯是全世界面積最大的國家，領土橫跨歐、亞兩洲，正當首都莫斯科的中學生早晨正準備上學時，在太平洋沿岸城市一海參崴的學生可能已經經是下午要放學了。請問：這種現象和俄羅斯的哪項地理特色關係最大？ (A) 國土東西寬廣 (B) 地勢東高西低 (C) 族群多元複雜 (D) 大多位居高緯區。

() 12. 俄羅斯緯度較高，有全球分布最廣的林區，但因交通不便而多保留原始狀態，稱為「泰卡」。這裡的林區主要是指哪種森林？

(A) 雨林 (B) 針葉林 (C) 灌木林 (D) 闊葉林。

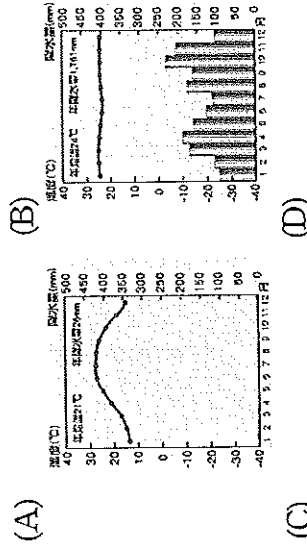
() 13. 下圖為大洋洲三大島群示意圖。請問：圖中三大島群的分界線為下列何者？ (A) 赤道、北回歸線 (B) 北回歸線、南回歸線 (C) 赤道、本初子午線 (D) 赤道、國際換日線。



() 14. 澳洲生態自成一區，擁有特殊的動植物，如袋鼠、無尾熊、鴨嘴獸等，可說是一個活化石博物館。造成此現象與下列何者關係最密切？(A)地質古老，政府立法保育 (B)中、西部沙漠廣大，阻隔物種接觸 (C)地廣人稀，人類對自然界的干擾較少 (D)長期遠離其他陸塊，物種獨立演化。

() 15. 大洋洲的島嶼面積通常不大，這些島嶼的主要經濟活動為下列何者？(A)農業和礦產開採 (B)礦業和森林採集 (C)牧業和海水養殖 (D)漁業和觀光資源。

() 16. 在非洲有一種傳統農業，是農民先焚燒森林以取得土地，利用焚燒後的灰燼作為農地的天然肥料，種植作物收成、土壤的地力消失之後，就會遷移到其他地方再次進行同樣的步驟來耕作。請問：下列哪一種植被最適合實施這種耕作方式？



() 17. 影響非洲氣候呈「南北對稱」分布主要因素是什麼？(A)板塊張裂運動強烈 (B)位於大西洋與印度洋交界處 (C)赤道貫穿大陸中部 (D)有「黑暗大陸」的稱號。

() 18. 非洲面積廣大，是世界第二大洲。請問：下列何者為非洲的區域特色？(A)地質古老，缺乏自然資源 (B)形勢完整，海岸線彎曲多良港 (C)地形平坦且單調，以高原為主體 (D)多為熱帶氣候，所以不可能見到雪。

() 19. 紐西蘭農業發達，以奶油、奶粉等品質優良乳製品行銷至世界各地。紐西蘭不以鮮乳作為主要外銷產品，主要與其哪項地理特徵有關？(A)位居太平洋火環帶，地形較崎嶇 (B)位於水半球中心，與各大洲距離遙遠 (C)工業發展歷史悠久，加工技術佳 (D)全年有雨氣候溼熱、鮮乳易腐壞。

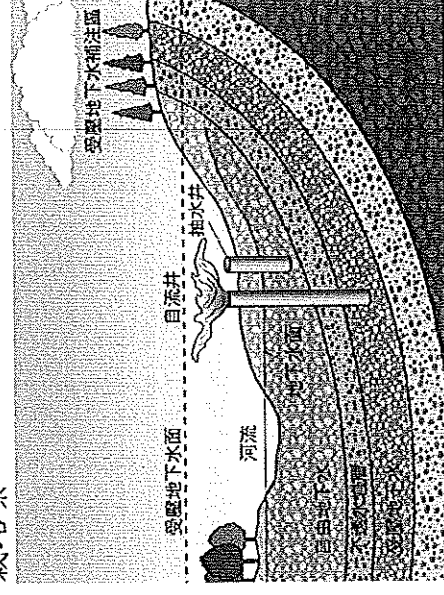
() 20. 沙漠環境惡劣，降水量極少，日溫差極大，多數生物難以生存。請問：下列四個沙漠的成因，何者與其他三者『不同』？(A)撒哈拉沙漠 (B)墨西哥沙漠 (C)澳洲西部沙漠 (D)塔克拉玛干沙漠。

() 21. 東非高原是世界最長的裂谷帶，是因斷層陷落形成地塹，請問中國哪一個地形也為地塹？(A)青藏高原 (B)長江三峽 (C)河西走廊 (D)橫斷山脈。

() 22. 由於自然環境阻隔造成非洲族群相當複雜，對於非洲族群分布的敘述，何者正確？(A)人種分布以赤道為界 (B)南非多阿拉伯人分布 (C)赤道附近以黑色人種為主 (D)黑人主要分布於撒哈拉沙漠以北。

() 23. 下圖為澳洲某種水資源開發方式示意圖。此種水利設施與該地的何種產業有密切關係？

(A)牧羊業 (B)地中海型農業 (C)酪農業 (D)熱帶栽培業。

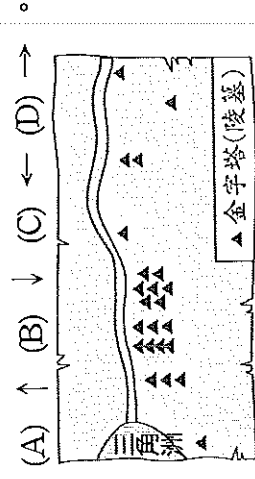


() 24. 南非共和國的開普敦為地中海型氣候，氣候溫和適合觀光。若要前往當地旅遊時，希望不要遇到下雨天，要避免在下列哪一個時段前往當地？

(A) 1月 (B) 4月 (C) 7月 (D) 10月。

() 25. 在國際政治上，常用北極熊來代表俄羅斯，這和當地冰天雪地的氣候有很大的關係。請問：俄羅斯的氣候特色可由通過該國的哪一條經緯線加以判斷？(A)南回歸線 (B)本初子午線 (C)66.5°N (D)0°緯線。

() 26. 「這裡有歷史悠久的古文明，有上蒼恩賜的河川，有法老王的陵墓及許多古蹟……」請問：下圖中這條河川的流向為何？



() 27. 承上題，這個歷史相當悠久的國家，有特殊的自然與人文環境，讓此國至目前為止仍為非洲相當重要的國家。請問：下列關於此國的敘述，何者正確？(A)全年有雨，河川流量穩定 (B)主要信奉伊斯蘭教 (C)是非洲重要的野生動物棲息地 (D)河川中游的水利建設，促進三角洲面積擴張。

() 28. 非洲面積雖大，但缺乏像歐洲、北美洲內大範圍的海洋性、大陸性氣候，主要原因為何？(A)大部分面積位在南、北緯三十度以內 (B)寒暖流流經沿海地區 (C)副熱帶高壓籠罩 (D)西風受山地阻擋。

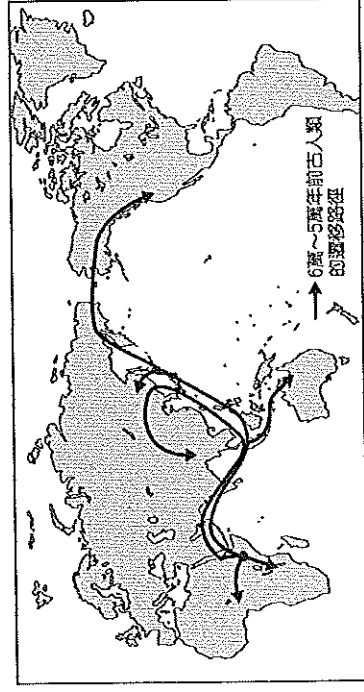
() 29. 非洲是全球人口成長最快速的地區之一，請問下列關於非洲人口現況的敘述，何者正確？

(A)人口數居各洲之冠 (B)人口密度居各洲之冠 (C)自然增加率居各洲之冠 (D)高齡化程度居各洲之冠。

() 30. 皮克斯動畫電影「海底總動員」，描述生活在大堡礁的小丑魚尼莫不慎被潛水人士捕捉，魚爸爸為救兒子，順著一股洋流來到雪梨外海，父子倆歷經波折終於重逢。劇情中魚爸爸最可能是利用下列哪一洋流，從大堡礁來到雪梨外海？(A)黑潮 (B)墨西哥灣流 (C)東澳暖流 (D)北大西洋暖流。

() 31. 考古學家在非洲進行探索時，在當地發現 350 萬年前的人類遺骨，可說是目前發現最早的文明發源地。科學家更透過男性遺傳基因因追尋古人類的遷移路徑，如附圖顯示即為 6 萬至 5 萬年前古人的遷移路徑。請問：由附圖中資料判斷，最早的古人類發源地位於非洲哪一個地形區？

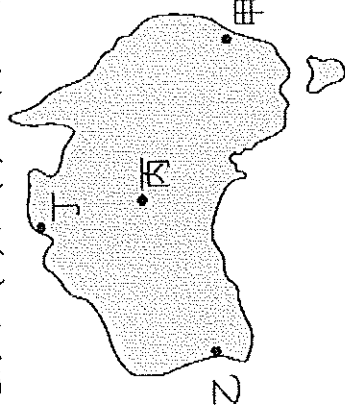
(A)撒哈拉盆地 (B)剛果盆地 (C)東非高原 (D)喀拉拉盆地。



() 32. 近來部分企業計畫將事業版圖擴張到非洲，在考量原料的供應下，下列哪種產業較『不適合』？


- (A)真愛一生鑽石加工→南非共和國
(B)永豐紙廠→埃及
(C)咖啡烘焙廠→衣索比亞
(D)M&M 巧克力→象牙海岸。

() 33. 澳洲地廣人稀，面積為世界第六大，人口卻僅與臺灣差不多，但因各地自然環境的差異，人口分布不均。請問：下圖中何處為澳洲人口最密集的地方？(A)甲 (B)乙 (C)丙 (D)丁。



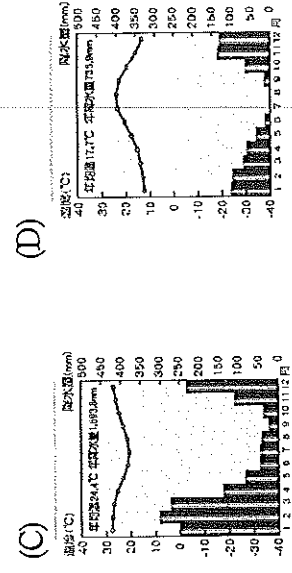
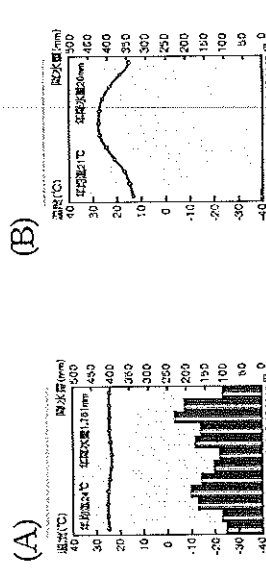
() 34. 紐西蘭的南島冰河地形發達，景色相當秀麗，因此有多部電影來此取景拍攝。造成南島冰河地形分布的主要原因為何？(A)緯度較高 (B)板塊擠壓 (C)寒流經過 (D)西風吹拂

() 35. 巴斯卡一月在某地旅遊時，連續拍下太陽位置的變化情形如右圖。請問：巴斯卡應該是在何處觀察到此現象？(A)格陵蘭 (B)南極洲 (C)阿拉斯加 (D)夏威夷。



() 36. 第二次世界大戰後期，美軍為加速進逼日本本土，並減少盟軍損失，執行了「跳島」戰術，選擇奪取日軍在大洋洲島群中的重要島嶼，且發生許多有名的戰役。請問：依上文，顯示大洋洲中的島嶼具有下列何種價值？(A)經濟海域的擴張 (B)交通、戰略地位重要 (C)帶動觀光業 (D)可移動國內過多之人口。

() 37. 非洲南部的辛巴威萬蓋國家公園，野生動物保育頗有成效，可藉以發展生態旅遊，10 月以後的雨季使得草原上一片欣欣向榮，依此推判下列何圖應可代表當地的氣候？



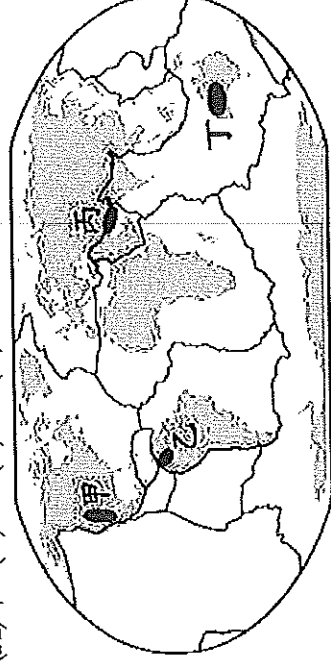
() 38. 俄羅斯在規畫 2018 年世足賽的過程中，主辦單位決定將賽場分布於各個都市，其中西伯利亞地區的賽場都市主要位於鐵路沿線。請問：影響西伯利亞都市分布的自然因素為下列何者？

(A)地形 (B)氣候 (C)地震 (D)河川。

() 39. 位於大洋洲的吐瓦魯為第一個地球環境難民國，現已經將居民陸續遷移到紐澳等國。請問：該國是受到何種自然威脅而被迫遷移？(A)降水量稀少 (B)地震頻繁引發海嘯 (C)火山噴發 (D)海水上升淹沒陸地。

() 40. 「世界各地的高原地形，因陸塊形成時間久遠，地形相對平坦，且擁有豐富的金屬礦資源。」為支持以上論點，應以下圖中的何地來說明？

(A)甲 (B)乙 (C)丙 (D)丁。




() 41. 伊波拉病毒因其高致死率令人聞之色變，第一次爆發流行是西元 1976 年時發生在非洲剛果，造成 281 起死亡。與 1976 年的疫情相較，2014 年爆發的伊波拉疫情傳播速度更快、範圍更廣。請問：該現象與下列哪項原因最相關？

(A)部落社會拒絕西方醫療 (B)種族隔離政策延緩就醫 (C)非洲醫療資源較從前落後 (D)交通運輸進步，國際交流頻繁。

() 42. 澳洲受殖民背景影響，過去的貿易以銷往殖民母國為主，但近代的貿易重心轉為距離較近的區域。請問：鄰近澳洲的國家通常為哪一個區域性組織的成員國？


(A)




(B)



(C)

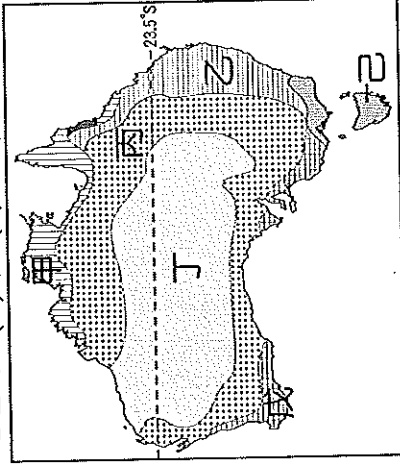


(D)



() 43. 非洲國家在二次世界大戰後紛紛獨立，但獨立後卻因境內族群複雜經常發生內戰，導致政局不安。請問造成此現象的主因為何？(A)地形崎嶇阻隔，導致族群交流不易 (B)過去歐洲列強以經緯度劃分殖民勢力 (C)宗教信仰複雜多元，教義不同引發衝突 (D)氣候乾燥缺乏水資源，因搶水引發衝突。

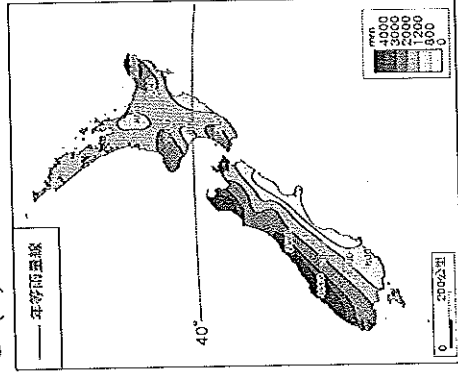
() 44. 下圖為澳洲氣候分區示意圖。請問：臺灣的進口紅酒除了來自歐洲與美國外，澳洲亦是主要來源地之一。澳洲釀製紅酒的葡萄最可能種植於下列哪一地區？(A)甲 (B)乙 (C)戊 (D)己。



() 45. 非洲因過度開墾，導致撒哈拉沙漠南部的查德湖面積大量縮減，未來有乾涸的可能，下列那個地區也面臨相同的問題？(A)中亞的鹹海 (B)北美的五大湖 (C)東非的坦干伊克湖 (D)西藏的納木錯。

() 46. 下圖是紐西蘭的年降水量分布圖。請問：圖中降水量的分布主要受哪兩項因素影響？

(A)緯度、洋流 (B)地形、風向 (C)緯度、距海遠近 (D)地形、距海遠近。



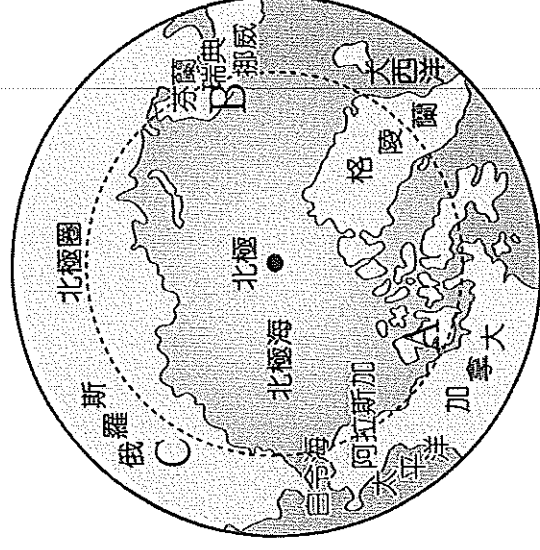
() 47. 西北航道是指從大西洋經北極海，進入太平洋的航道，目前航運已有改善。近來西北航道的暢通與下列哪個現象密切相關？(A)海洋汙染使海冰融解 (B)暖流改變浮冰的位置 (C)全球暖化使氣溫改變 (D)船隻破冰設備的改進。

() 48. 下列對非洲殖民地式經濟的敘述，何者有『誤』？

(A)南非共和國盛產鑽石和黃金等貴重金屬礦產
(B)安哥拉、奈及利亞、阿爾及利亞、利比亞均是非洲主要的產油國家 (C)目前非洲熱帶栽培業產量大，其中更以甘蔗、稻米等經濟作物最為重要
(D)殖民地式的經濟無法帶動其國家人民的生活水準，僅能靠廉價勞力換取微薄的收入。

() 49. 附圖為北極地區的區域分布圖，北極海為三大洲所圍繞形成的海域，請依序回答 A、B、C 所指各為何地？

(A)北美洲、歐洲、亞洲 (B)亞洲、歐洲、北美洲
(C)南美洲、歐洲、亞洲 (D)歐洲、亞洲、北美洲。



() 50. 承上題，請由圖中位置加以判斷，丹麥的格陵蘭位於北極點的哪一個方位？(A)東南方 (B)西北方 (C)正南方 (D)正北方。