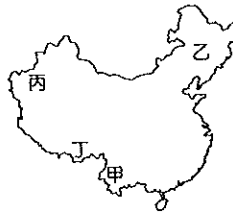


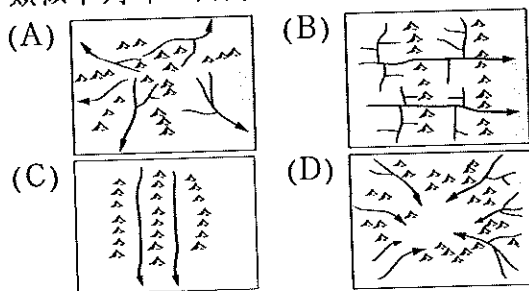
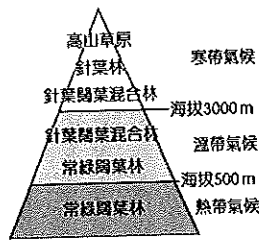
基隆市立武崙國民中學 108 學年度第二學期第一次段考八年級地理科試題卷

單一選擇題，共 50 題，每題 2 分，滿分 100 分 班級：\_\_\_\_\_ 姓名：\_\_\_\_\_ 座號：\_\_\_\_\_

☞ 雨晴在利用寒假跟家人到中國旅行，他們在某個山區看到如右圖的景觀，在驚訝之餘也佩服當地居民的因地制宜。請回答第 1~4 題：



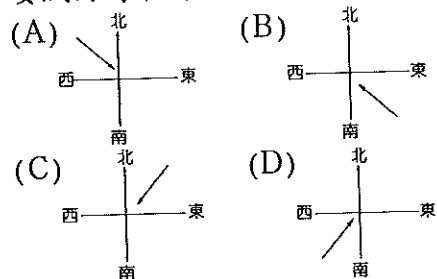
- ( ) 根據上文的敘述加以判斷，請問雨晴最可能在附圖中的哪個地區旅遊？  
(A) 甲 (B) 乙 (C) 丙 (D) 丁
- ( ) 請問下面哪一句諺語是用來形容雨晴目前旅遊的區域環境？  
(A) 蜀道難，難於上青天  
(B) 江作青羅帶，山如碧玉簪  
(C) 一山有四季，十里不同天  
(D) 一年無四季，一日見四季
- ( ) 雨晴在當地的導覽看板上看到如附圖所示的說明，請問此區植被會呈現如此變化的主要原因為下列何者？  
(A) 居民依照政策植木造林  
(B) 土壤性質隨緯度而改變  
(C) 氣候隨高度呈垂直變化  
(D) 不同木材經濟價值有異
- ( ) 若將此區的水系型態會製成圖，最可能類似下列哪一幅圖？







☞ 東南亞為華人移民最早、比例相對高的地區，目前在東南亞街道上依舊可見中文呈現的商店招牌及中國式廟宇，顯示了當地與中國密不可分的關係。請回答第 5~10 題：

- ( ) 請問東南亞的華人多由何處移出，因此在當地有「僑鄉」的稱號？  
(A) 黃土高原 (B) 四川盆地  
(C) 華北平原 (D) 東南丘陵

- ( ) 中國人『安土重遷』等重視土地情感的思想根深蒂固，請問是受到下列何項因素的影響，才迫使『僑鄉』的許多人移民海外？  
(A) 山多田少，可耕地不足  
(B) 天候異常，水旱災頻仍  
(C) 衛生不佳，傳染病肆虐  
(D) 政府政策，鼓勵海外移民
- ( ) 在帆船時代，住在中國『僑鄉』的居民若想順風揚帆移民到東南亞，主要會利用哪個季節啟程？  
(A) 春 (B) 夏 (C) 秋 (D) 冬
- ( ) 承上題，請問在『僑鄉』這個季節的主要風向為下列何者？



- ( ) 請問『僑鄉』的海岸類型為下列何者才有利於居民從事海上活動？  
(A)  (B)   
(C)  (D) 
- ( ) 中國在 1980 年代開啟了改革開放之路，請問中國政府在『僑鄉』設立了哪種工業區以吸引大量華僑投入資金和帶入技術？  
(A) 科學園區 (B) 經貿特區  
(C) 經濟特區 (D) 轉口貿易區

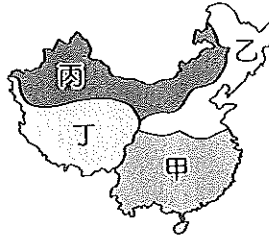
☞ 關於雲貴高原的自然環境和人文特色，請回答第 11~12 題：

- ( ) 『壩子』為雲貴高原上人口集中的精華區，由於該地的地質條件多為較貧瘠的 □□ 岩，因此居民會選擇在高原上有河流經過且具有肥沃沖積土所在的 ○○ 地形生活。請問上文的 □□ 和 ○○ 最有可能分別為下列何者？  
(A) 花崗、丘陵 (B) 玄武、平原  
(C) 石灰、盆地 (D) 片麻、高原

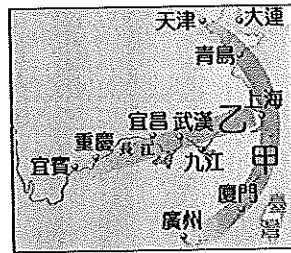
12. ( ) 雲南省的省會昆明有『春城』之稱，乃因其氣候冬暖夏涼、溫和舒適。請問此地擁有如此氣候條件是下列哪些因素形成的？(甲)河湖眾多 (乙)地勢較高 (丙)緯度較低 (丁)山脈屏障 (戊)西風吹拂 (A)甲丁 (B)乙丙 (C)乙丁 (D)丙戊

☞長江經濟帶是中國繼東部沿海經濟帶之外的第二條支撐帶，正在成為中國區域經濟發展的新戰略中心。請回答第 13~19 題：

13. ( ) 請問長江經濟帶主要位於右圖的哪一個地區？  
(A)甲 (B)乙  
(C)丙 (D)丁



14. ( ) 上海作為中國最大的都市也是長江經濟帶的火車頭，請問上海港的發展面臨最大的問題為下列何者？(A)冬季結冰 (B)泥沙淤積 (C)土壤液化 (D)腹地狹小



15. ( ) 上海因其地理位置優越而經濟快速發展，請問附圖中的甲和乙分別為代表的交通方式為何？  
(A)海運、鐵路 (B)海運、河運  
(C)公路、航空 (D)航空、河運
16. ( ) 長江因其河運交通發達而有黃金水道之稱，請問下列哪一項工程建設使得長江水位上升大型貨輪得以駛入重慶？  
(A)截彎取直 (B)南水北調  
(C)三峽大壩 (D)退田還湖

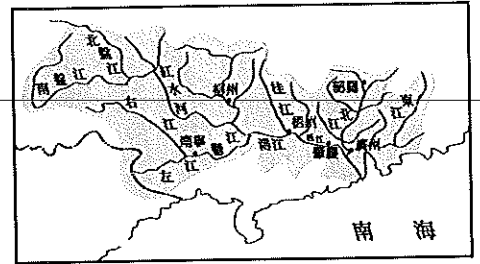
17. ( ) 同位於長江流域的重慶和上海，兩者緯度位置相近，但重慶冬天的平均氣溫卻較上海溫暖，請問最主要的原因為下列何者？(A)距海遠近 (B)都市規模 (C)雨量多寡 (D)地形阻擋

18. ( ) 『為了提升上海港的航運功能，讓國際大型貨輪能夠停泊，帶動上海成為區域貨運中心，中國政府在 2002 年開始興建上海外港及跨海大橋，此計畫的完成連帶影響了東亞的許多國際港口』，請問上海外港的名稱為下列何者？(A)洋山港 (B)吳淞港 (C)浦東港 (D)崑崙港

19. ( ) 承上題，依據地理位置判斷，連結上海內陸和外港的跨海大橋其名稱最可能為

- 下列何者？(A)黃海大橋 (B)東海大橋  
(C)南海大橋 (D)渤海大橋

20. ( ) 附圖為中國某一流域的示意圖，



請問此流域為下列何者？

- (A)珠江 (B)長江 (C)黃河 (D)海河
21. ( ) 附表為中國四個工業集中地帶在工業活動和條件的比較表，請問珠三角、長三角、京津唐、遼中南依序分別為何？

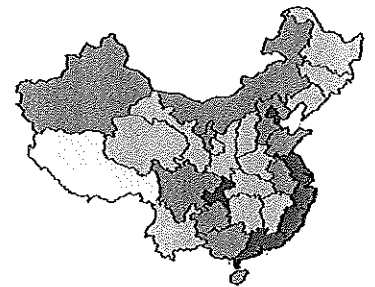
	工業活動	工業條件
甲	資訊產業發達地區、商業重鎮	交通位置優越、內外水運中心
乙	加工出口業為主	僑資豐富、最早開放改革
丙	重工業為主、近年面臨轉型	礦產豐富、鐵路便利
丁	綜合型工業區、科技研發中心	政治中心、研究機構多

- (A)甲、乙、丙、丁  
(B)甲、丙、丁、乙  
(C)乙、甲、丁、丙  
(D)丙、乙、甲、丁

22. ( ) 中國的改革開放以南部地區為起點，而長江三角洲的經濟發展在近年來更顯卓越，請問：長江三角洲較珠江三角洲的優越條件為何？

- (A)工資低廉 (B)率先開放  
(C)腹地廣大 (D)僑資較多

23. ( ) 附圖為中國各行政區某項指標的統計數據圖，顏色愈深代表該數據愈大，

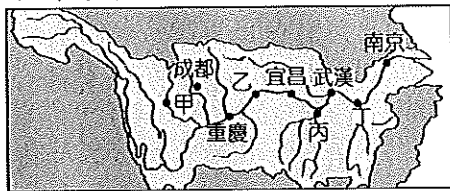


- 請問此項指標最可能為下列何者？  
(A)年雨量 (B)年收入  
(C)教育水準 (D)人口密度

24. ( ) 長江流域富庶繁榮，沿岸都市及人口眾多且工商業發達，然而近年來卻因為水患頻傳使得都市發展面臨嚴重的環境隱憂，請問導致水患頻傳的原因最可能為下列何者？(A)都市集水功能不佳  
(B)流域土地過度開發  
(C)三峽大壩錯誤施工  
(D)氣候異常颱風增多

25. ( ) 下列何者『並非』住在三峽大壩沿岸地區的民眾在大壩完工後最可能面臨的問題？(A)低地遷村 (B)古蹟淹沒  
(C)水位提升 (D)地層下陷

26. ( ) 針對長江的整治在甲～丁各個地區有不同的策略，請問關於治理措施的配對，下列何者正確？



- (A)甲～截彎取直 (B)乙～修築堤防  
(C)丙～退田還湖 (D)丁～興建水壩

☞黃河流域曾孕育中國古老文明、滋養無數人群，然而這條泱泱大河卻也為周遭的中國人帶來許多環境問題。請回答第 27~31 題：

27. ( ) 附圖為黃河某河段的河道剖面圖，請問此河段最可能為在哪一個地形區？



- (A)山東丘陵 (B)華北平原  
(C)黃土高原 (D)河西走廊

28. ( ) 承上題，請問導致河床不斷增高而形成『懸河』景觀的主要因素為下列何者？(A)河川含沙量高 (B)年雨量變率大  
(C)降雨強度較大 (D)河道坡度陡斜

29. ( ) 黃河流域容易出現水患、乾旱的主要原因為下列哪些？(甲)降雨季節分布不均 (乙)河水泥沙含量高 (丙)地形平坦泥沙淤積 (丁)年雨量變率大 (A)甲、乙  
(B)甲、丁 (C)乙、丙 (D)乙、丁

30. ( ) 黃河流域近年來用水量大增，導致黃河多次斷流，形成嚴重生態環境問題，請問導致此現象的主要原因下列何者為『非』？(A)人口增加 (B)工商需求  
(C)農業發展 (D)牧業發達

31. ( ) 目前中國政府在黃河中上游地區推行一系列環境生態保護措施，請問下列哪一項措施對於減緩水土流失的成效最大？(A)種植植被防風固沙  
(B)興建邊坡防護工程  
(C)沿河道修築擋土牆  
(D)水庫進行清淤工程

☞天河旅行社主要承攬業務的範圍為中國歷史古都深度旅遊，近年來旅行社推出的行程為下列：

- I～登長城賞滂沱氣勢山海關  
II～明清皇城歷史文物建築行  
III～世界遺產秦兵馬俑深度遊  
IV～六朝古都遊金陵歷史文物

請回答第 32~36 題：

32. ( ) 請問天河旅行社推出的行程中有哪一個『不是』位在中國的北部地區？(A) I (B) II (C) III (D) IV

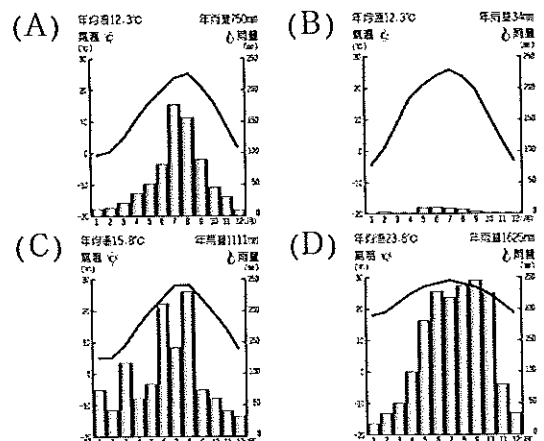
33. ( ) 張先生參加的是旅行社推出的『I』行程，他最可能搭乘飛機到附圖中的哪個都市？



- (A)甲 (B)乙  
(C)丙 (D)丁

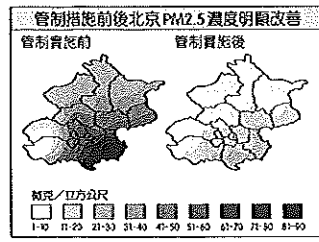
34. ( ) 張先生在參訪天下第一關～山海關時發現此關是因地居哪座山、哪片海之間而得名？(A)太行山、黃海 (B)泰山、黃海  
(C)長白山、渤海 (D)燕山、渤海

35. ( ) 李先生考慮參加旅行社推出的『II』行程，請問下面哪一張圖是有關當地的氣候資訊？



36. ( ) 若想參加旅行社推出的『III』行程，則最可能落腳在中國的哪個都市進行深度旅遊？(A)北京 (B)南京 (C)西安  
(D)瀋陽

36. 中國北京空氣汙染問題嚴重，在2014年11月舉辦亞太經濟合作會議(APEC會議)時，透過管制鄰近地區汙染排放嚴重的產業，才

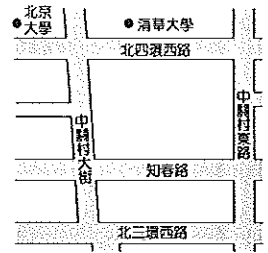


使PM2.5濃度降低七成，明顯改善空氣汙染狀況，當時難得一見的藍天被媒體稱之為「APEC藍」。請回答第37~38題：

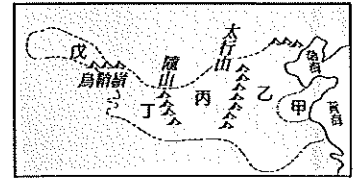
37. ( ) 為改善空氣品質，上述受到中國政府管制汙染排放嚴重的產業別最可能為下列何者？(A)食品業 (B)資訊業 (C)鋼鐵業 (D)成衣業
38. ( ) 北京市的空汙微粒近兩成來自其他省分。因此中國當局除了管制北京鄰近地區的高汙染產業外，還需加強管控北京市哪個方向的產業才能讓會議時的空氣品質更加提升？(A)東北方 (B)西北方 (C)東南方 (D)西南方

39. ( ) 我們可以從一個都市裡人口的產業結構來推估該都市的都市機能。由此來推論，請問中國東北的大型都市其機能多以下列何者為主？(甲)水運 (乙)陸運 (丙)工礦 (丁)政治 (A)甲、乙 (B)乙、丙 (C)丙、丁 (D)乙、丁
40. ( ) 天津為中國北部重要的港口都市，受限於當地的條件而使得航運價值深受影響，需要興建新港以克服原有的侷限，請問下列哪些為原本天津港所存在的『不利發展』因素？(甲)冬季結冰 (乙)腹地狹小 (丙)泥沙淤積 (丁)軍用管制 (A)甲、乙 (B)甲、丙 (C)乙、丙 (D)乙、丁
41. ( ) 『北、上、廣、深』為中國一線大都市，人口集中、經濟高度發展，請問這些都市的共通特色為下列何者？(A)為沿海港口都市，交通便捷暢達 (B)位於東部經濟帶，商業貿易興盛 (C)氣候溫和濕潤，冬季均不會下雪 (D)設立有經濟特區，工業高度發展
42. ( ) 中國南水北調工程的實施主要是為了解決下列哪項環境問題？(A)黃河下游斷流 (B)沙塵暴空氣汙染 (C)黃河季節性氾濫 (D)黃土高原水土流失
43. ( ) 東北平原近年來成為「中國糧倉」，下列何者『並非』其適合農作物生產的有利條件？(A)生長季長 (B)地形平坦 (C)黑土肥沃 (D)水源豐沛


44. ( ) 北京的中關村因聚集大量科技產業而有中國矽谷之稱，附圖為中關村的地理位置示意圖，若只參考附圖提供的線索，



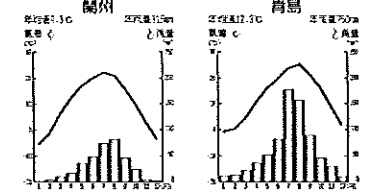
- 請問中關村的區位特色為下列何者？(A)資金 (B)原料 (C)市場 (D)技術
45. ( ) 請問乙、丙兩地地形形成的作用力分別為下列何者？(A)河川堆積、風力堆積 (B)河川堆積、風力侵蝕 (C)河川侵蝕、風力堆積 (D)河川侵蝕、風力侵蝕
46. ( ) 黃河沿岸蘊藏豐富動力資源，有利於現代工業活動的發展，吸引許多企業設廠投資，而黃河也因此被成為『能源流域』，請問黃河由上游到下游，依序擁有哪些動力資源？(A)水力、煤礦、石油 (B)地熱、石油、煤礦 (C)天然氣、石油、水力 (D)煤礦、地熱、石油



47. ( ) 請問前往中國哪個地區旅遊最有可能實際住宿在當地如附圖所示的特色建築？(A)東北平原 (B)內蒙古高原 (C)雲貴高原 (D)黃土高原



48. ( ) 附圖為蘭州和青島的氣候圖。請問導致兩地氣候差異的主要原因為下列何者？(A)距海遠近 (B)緯度高低 (C)地勢高低 (D)季風風向



49. ( ) 在中國華北傳統民居中常見到如附圖的設備，請問其出現與下列何者關係最密切？(A)增加空間 (B)夏季祛濕 (C)傳統信仰 (D)冬季寒冷



50. ( ) 附圖為黃土高原的形成示意圖，請問甲處應該為哪一個地形區？(A)青藏高原 (B)雲貴高原 (C)塔里木盆地 (D)內蒙古高原



【試卷結束】