

基隆市立武崙國民中學一〇八學年度第二學期第一次段考七年級地理科試題卷

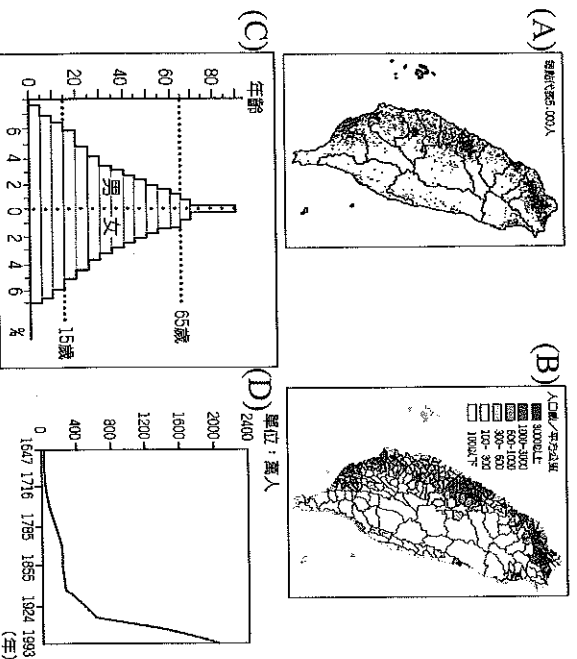
注意事項：

1. 本份試卷為單選題，每題 2 分，共 50 題，總分 100 分。
2. 答案卡限用 2B 鉛筆畫記，若畫記錯誤，請擦拭乾淨。分數以電腦讀卡分數為準。
3. 答案卡上的資料欄請確實填寫，若資料欄畫記錯誤導致電腦無法正確判讀，扣總分 10 分。

班級：七年_____ 班座號：_____ 姓名：_____

- () 1. 民國 55 年底的臺灣人口數約 1,300 萬人，至民國 106 年底已達 2,357 萬人。這種某地區在不同時間內人口數量的變動現象，統稱為下列何者？(A)人口分布 (B)人口遷移 (C)人口密度 (D)人口成長。

- () 2. 臺灣歷年來的人口成長變化狀況，最適合用下列哪一個圖形來說明？

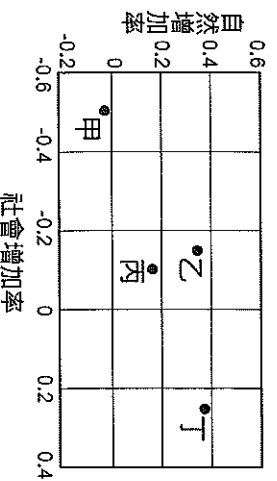


- () 3. 某地某年的人口統計資料，顯示其出生率為 13.6%，死亡率為 5.2%，社會增加率為 -9.7%，則該年該地的人口總數變化為何？(A)增加 (B)減少 (C)不變 (D)無法判斷。

- () 4. 附表為民國 40 年以來，每十年臺灣的出生率和死亡率變化表。依此變化趨勢推論，在此期間，臺灣的自然增加率變化情形為何？(A)逐年增加 (B)逐年降低 (C)先增後減 (D)先減後增。

項目	出生率(‰)	死亡率(‰)
民國 40 年	50.0	11.6
民國 50 年	38.3	6.7
民國 60 年	25.7	4.7
民國 70 年	23.0	4.8
民國 80 年	15.7	5.2
民國 90 年	11.6	5.7
民國 100 年	8.5	6.6

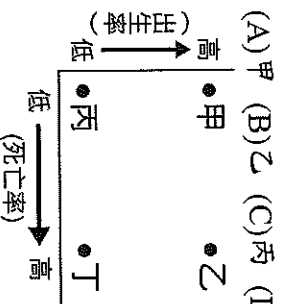
- () 5. 附圖中甲、乙、丙、丁為某年臺灣四地的人口自然增加率與社會增加率。請問：何者最有可能為「都市」？(A)甲 (B)乙 (C)丙 (D)丁。



- () 6. 附圖所列算式為何種人口數值的計算過程？(A)社會增加率 (B)自然增加率 (C)人口成長率 (D)移出率。

$$\frac{\text{某年移入人數} - \text{某年移出人數}}{\text{該年人口總數}} \times 10000\%$$

- () 7. 目前臺灣的人口成長應屬附圖中哪個階段？



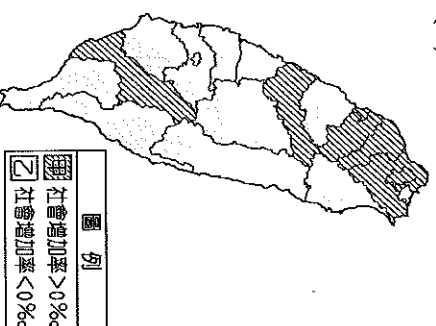
- () 8. 若一地的人口增減只受到自然增加的影響，則稱該地為「封閉系統」。附表為某時期四個地區的人口資料，請問：哪個地區的人口成長，具有封閉系統的特色？(A)甲地 (B)乙地 (C)丙地 (D)丁地。

地區	出生率(‰)	死亡率(‰)	人口增加率(‰)
甲地	20	6	5
乙地	21	4	25
丙地	22	5	10
丁地	20	6	14

- () 9. 附表為某四個國家的人口組成。由表中的年齡結構判斷，哪一個國家的「扶養比」最高？

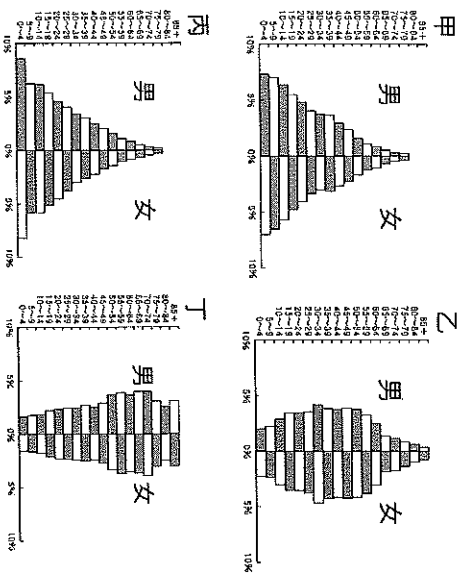
國別	年齡結構		
	14 歲以下	15~64 歲	65 歲以上
(A)甲	40%	55%	5%
(B)乙	24%	66%	10%
(C)丙	35%	59%	6%
(D)丁	49%	47%	4%

- () 10. 附圖為 2010 年臺灣本島各縣市社會增加率類型的分布圖，下列用來說明圖中分布狀況的原因何者正確？(A)甲類型的推力大於拉力，因物價水準較高 (B)甲類型的拉力大於推力，因就業機會較多 (C)乙類型的推力大於拉力，因工業污染嚴重 (D)乙類型的拉力大於推力，因社會福利完善。




- () 11. 臺灣的政府設置了原住民歷史正義與轉型正義委員會，目前經常被拿出來討論的議題就是原住民保留地之認定與使用權利。請問，依照目前臺灣原住民的分布，下列何處最可能發生原住民保留地爭議？
 (A) 彰化縣 (B) 苗栗縣 (C) 花蓮縣 (D) 嘉義縣。

- () 12. 甲圖～丁圖分別為臺灣西元 1920、1951、2012 年，以及預測 2050 年的人口金字塔圖，按照時間先後排序，何者正確？
 (A) 甲乙丙丁 (B) 丙甲乙丁 (C) 丙甲丁乙 (D) 丁乙甲丙。

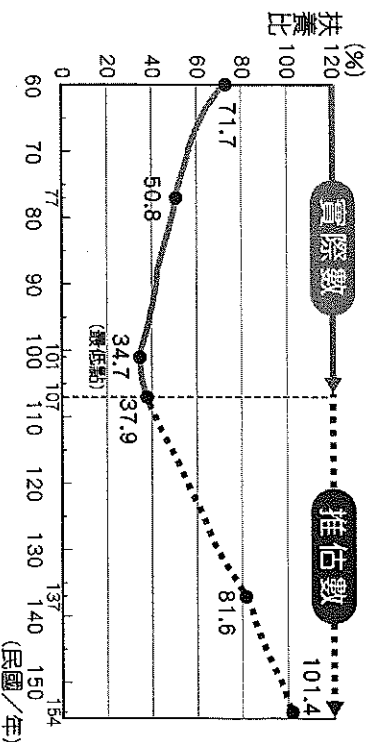


- () 13. 承上題，在「甲」人口金字塔中，臺灣人口最有可能面臨何種問題？
 (A) 扶養比高，青壯年人口負擔大
 (B) 老人安養問題嚴重，看護不足
 (C) 壯年人口過剩，勞力大量外移
 (D) 少子化嚴重，人口恐呈負成長。

- () 14. 附圖為國外某漫畫家針對社會現象所繪製的政治漫畫，請問漫畫中所呈現的現象，與什麼議題有關？
 (A) 高房價時代都市生活壓力大
 (B) 扶養比上升負擔將加重
 (C) 人口快速擴張生活空間狹小
 (D) 失業率提高工作難找。

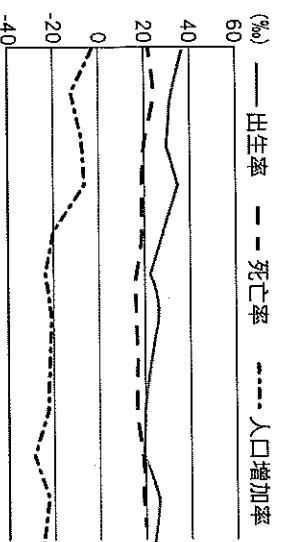


- () 15. 「人口紅利是指由於國家的勞動人口占全國人口的比例上升，伴隨著經濟成長的效應。」由以上敘述及附圖內容判斷，下列哪個年代中的人口紅利較其他三個選項為高？
 (A) 民國 60 年 (B) 民國 100 年
 (C) 民國 110 年 (D) 民國 150 年。

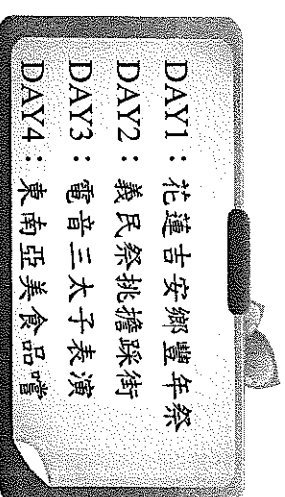


- () 16. 臺灣族群相當多元，在這塊土地上各群族各有特色，並彼此相互尊重。有關臺灣的多元族群的敘述，何者正確？
 (A) 新住民是指未取的我國國籍，來臺從事勞務工作之人民
 (B) 國際移工是指透過工作、通婚或依親取得我國國籍之人民
 (C) 國際移工的人口，以泰國、日本的人數比例較高
 (D) 在新住民中，以中國、越南及印尼的人數比例較高。

- () 17. 附圖是某個小鎮的人口成長變化圖，圖中顯示該小鎮的出生率、死亡率以及人口增加率。請問：影響該小鎮人口增加率為負值的主要原因是什麼？
 (A) 出生率的降低
 (B) 死亡率的提高
 (C) 人口移出太多
 (D) 人口總數減少。



- () 18. 翹帆在暑假時參加多個「文化體驗營」，附圖是他所做的活動紀錄。請問：他依序參加臺灣哪一個族群的文化活動？
 (A) 漢人、原住民、新住民、漢人
 (B) 原住民、漢人、漢人、新住民
 (C) 漢人、原住民、漢人、新住民
 (D) 原住民、新住民、漢人、漢人。



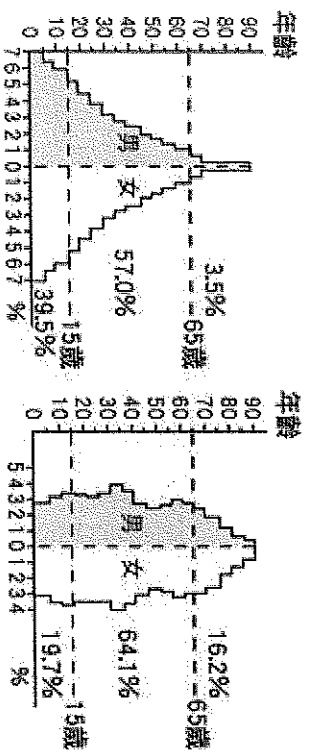
- () 19. 附圖為臺北車站設置的穆斯林祈禱室，這些相關設施的數量逐漸在增加。臺灣的穆斯林，大多來自下列哪個國家？
 (A) 越南 (B) 日本 (C) 印尼 (D) 泰國。



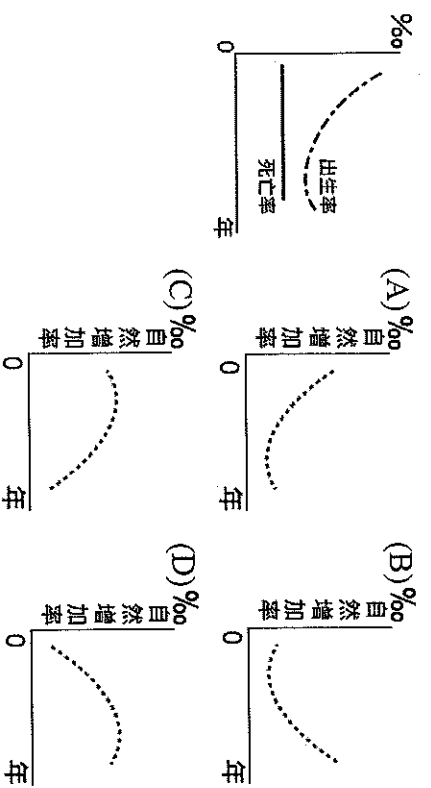
- () 20. 附表為臺灣不同族群的特色及分布地區表，請問何者的敘述完全正確？
 (A) 甲 (B) 乙 (C) 丙 (D) 丁。

族群	特色	分布
甲	漢人 早期由中國移民至臺灣	主要居住在鄉村地區
乙	原住民族 現經行政院核定者共 16 族	居住在花東兩縣人口最多
丙	新住民 多來自中國及東南亞地區	多居住在高山地區
丁	國際移工 大多來自南亞及東北亞地區	分布於勞動力缺乏之地區

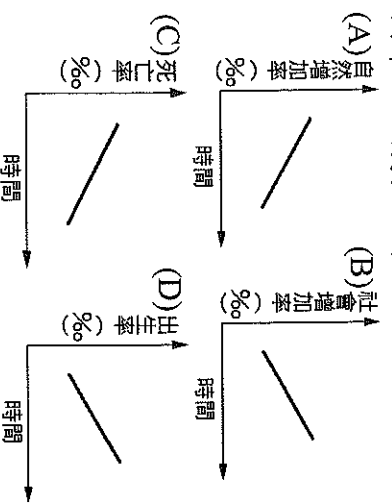
- () 21. 人口金字塔圖無法推測下列何項人口特色？(A)人口總數 (B) 扶養比 (C) 性別比 (D) 經濟發展程度。
- () 22. 附圖為臺灣在民國 36 年和 107 年的人口金字塔圖。由此圖中所得到的訊息，下列何者錯誤？(A) 民國 107 年的出生率比較低 (B) 民國 107 年的平均壽命比較高 (C) 民國 107 年的老年人口比例比較高 (D) 民國 107 年的扶養比比較高。



- () 23. 附圖是南一國的出生率與死亡率曲線變化圖。由圖推判，該國的自然增加率曲線最接近下列哪張圖？

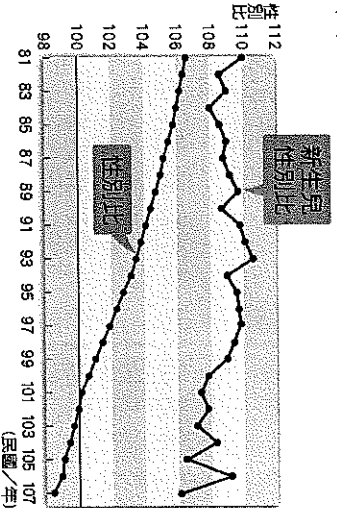


- () 24. 桃園市具有空運優勢，吸引許多公司在此設廠，工作機會多，吸引大量人口移入，目前是臺灣人口成長率最高的地區。下列哪一個圖形最能用來說明桃園市人口成長的原因？

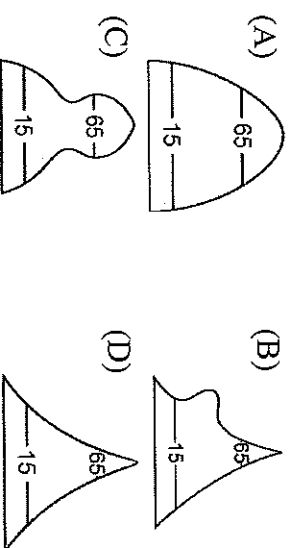


- () 25. 下列哪些現象與臺灣成為「高齡化社會」有關？(甲) 死亡率下降 (乙) 出生率下降 (丙) 平均壽命提高 (丁) 性別比上升 (A) 甲乙丙 (B) 甲乙丁 (C) 甲丙丁 (D) 乙丙丁。
- () 26. 欲判斷一地人口素質的高低，應參考下列哪一項數據？(A) 教育程度 (B) 人口數量 (C) 扶養比 (D) 性別比。
- () 27. 臺灣有句俗諺：「一個某(妻)，恰贏三個天公祖。」是指娶到一個老婆勝過供奉三尊神明。這句諺語反映出當時社會出現許多「羅漢腳」，形成此種現象的主要原因為何？(A) 高齡化社會 (B) 少子化現象 (C) 性別比例失衡 (D) 文化衝突。

- () 28. 附圖是臺灣的性別比變化圖，請問：下列哪些推論最為合理？(甲) 男嬰的死亡率較女嬰高 (乙) 重男輕女的觀念仍存在 (丙) 自 81 年至 107 年，男性人口總數持續減少 (丁) 女性的平均壽命比男性長 (A) 甲丙 (B) 甲丁 (C) 乙丙 (D) 乙丁。



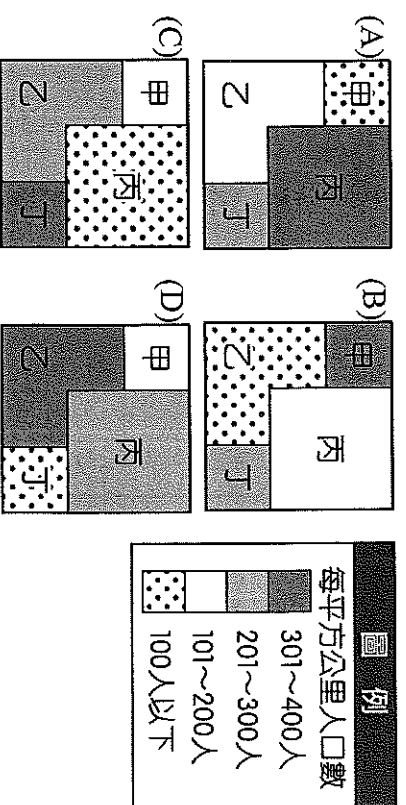
- () 29. 出生在王田村的嘉明，是個國中一年級的學生，因王田村的就業機會少，父母在 6 年前就到外地找工作，所以現在家中只有爺爺、奶奶和嘉明。請問：王田村的人口結構最可能是圖中何者？



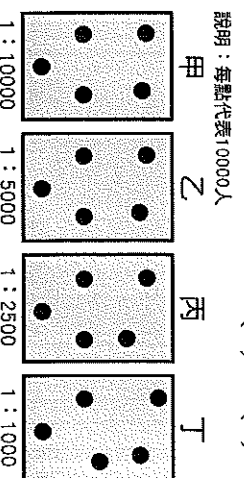
- () 30. 臺灣人口遷移的路徑，大致為由中國移往臺灣、臺灣南部移往臺灣北部、臺灣西部移往東部。請問：上述臺灣人口移動最有可能受到何種因素的影響？(甲) 地理位置 (乙) 地形 (丙) 氣候 (丁) 開發時間 (A) 甲乙丙 (B) 甲乙丁 (C) 甲丙丁 (D) 乙丙丁。

- () 31. 附表為四個地區的人口與面積資料，若根據附圖中的規則繪製人口密度圖，則下列何者最可能為繪製結果？

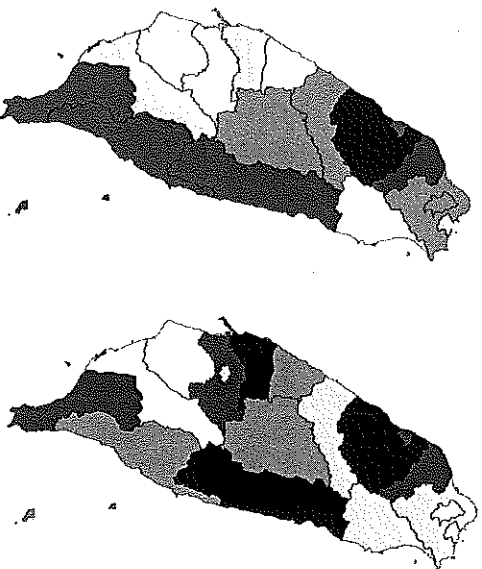
地區	人口 (萬人)	面積 (平方公里)
甲	1.8	100
乙	7.5	300
丙	2.0	400
丁	3.5	100



- () 32. 附圖為四個地區的人口分布圖。哪個地區最可能出現住屋不足的問題？(A) 甲 (B) 乙 (C) 丙 (D) 丁。



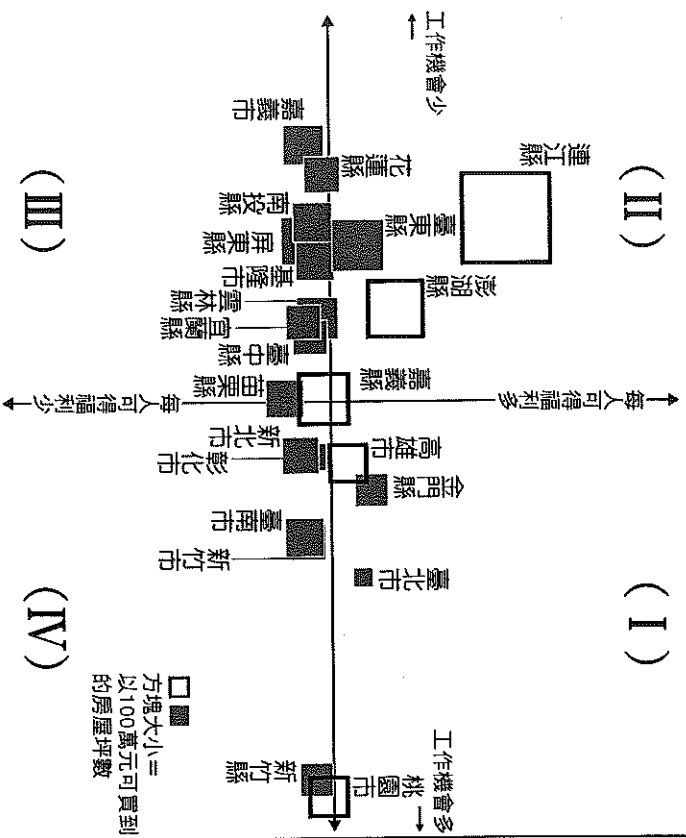
- () 33. 附圖代表臺灣兩個族群的人口分布，顏色愈深代表所占比例愈高。請問：由兩圖可得知下列哪一種人口現象？(A)客家人多集中在臺中、彰化一帶 (B)印尼新住民多分布於新北市找尋工作機會 (C)新竹縣的印尼新住民及客家人比例皆高 (D)花蓮的客家人及印尼新住民比例最低。



▲客家人口比重圖

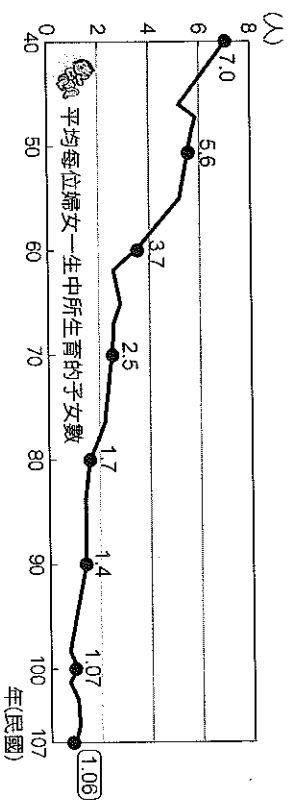
▲印尼新住民比重圖

- () 34. 附圖是根據某年資料，所繪製的臺灣各縣市可長久居住的高CP值比較象限圖。圖中橫軸兩端分別代表工作機會多寡，縱軸代表每人可得到的社會福利多寡，而方格大小則代表100萬元可買到的房屋坪數大小。請問：根據圖中資訊判斷，下列敘述何者正確？(A)位於第一象限的城市為人口移入區 (B)位於第三象限代表該地區的福利及工作機會較少 (B)位於第四象限代表該地區的人口外流現象最嚴重 (C)花東地區的房價較離島地區便宜。



- () 35. 在臺灣參加中文識字班的外籍配偶們，在課堂中分享各自的傳統家鄉菜。請問：這些嫁來臺灣的外籍配偶，屬於何種人口遷移現象？(A)暫時、國際遷移 (B)暫時、國內遷移 (C)永久、國際遷移 (D)永久、國內遷移。
- () 36. 高雄舊稱「打狗 (Takao)」，原本可能是哪個語言中竹林之意，漢人取相似音稱為「打狗」，後來日本人將發音轉為日文漢字「高雄」？(A)閩南語 (B)客家語 (C)平埔族語 (D)西班牙語。

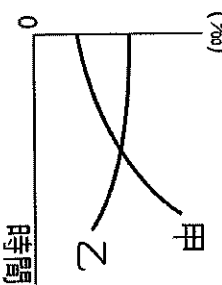
- () 37. 「世界各地早期的華人移民以閩南人居多，北宋時期，中國華南地區已被描述成『水無涓滴不為用，山到崔嵬猶力耕』，形容因人多、田地少，土地被利用到極致的狀態。後因航運技術發達，當地人口遂散布到各地，以致今日有『僑鄉』之稱。」根據上述資料判斷，下列何者敘述正確？(A)閩南地區土地少、推力強 (B)閩南地區土地少、拉力強 (C)閩南地區人口多、推力弱 (D)閩南地區人口多、拉力弱。
- () 38. 附圖為「臺灣民國40年以來婦女生育數變化圖」。由圖中資料內容顯示，臺灣未來將面臨的人口問題，政府為改善此人口問題，應該提出下列何項對策較合適？(A)增加育嬰假 (B)減少移出率 (C)興建安養中心 (D)發放國民年金。



- () 39. 附表是某國未來老年人口比例的推估數據，若老師要同學提出減緩此趨勢的因應對策，下列何項政策最適合？(A)提高生育補助 (B)廣發敬老津貼 (C)增設安養中心 (D)鼓勵終身學習。

年 (西元)	老年人口比例 (%)
2014	10
2020	14
2026	20

- () 40. 附圖為幸福國的人口成長動態圖，圖中的甲線為自然增加率，乙線為人口增加率。下列哪項推論最正確？(A)人口外移現象嚴重 (B)該國教育水準很高 (C)社會增加率為正值 (D)出生率大幅的下降。



- () 41. 阿楚國的人口密度為300人/平方公里，阿漢國的人口密度為200人/平方公里，則對兩國的比較，下列敘述何者正確？(A)阿楚國人口較稠密 (B)阿漢國總人口較少 (C)阿楚國面積較廣大 (D)阿漢國經濟較落後。


- () 42. 依照臺灣的歷史發展脈絡，下列族群大批來臺的時間先後排序，何者正確？(甲)日本人(乙)原住民(丙)荷蘭人(丁)閩南人及客家人 (A)甲乙丙丁 (B)乙丙丁甲 (C)乙丁甲丙 (D)乙甲丙丁。

【試題尚未結束，請換頁繼續作答！】

※日治時期，臺灣開始建置戶籍制度，分為本籍人口及寄留人口，設有戶口調查簿，由警察辦理戶口調查，戶口登記由鄉、鎮保甲事務所書記辦理。民國 81 年起將戶政業務交由民政單位管理。時至今日，內政部戶政司與時俱進，將所有人口統計資料公告上網，使各單位也能依據資料分析現今臺灣人口概況，並提出建言。附圖是臺灣四個城市自民國 100~107 年的人口統計圖表，請根據附圖回答下列問題。

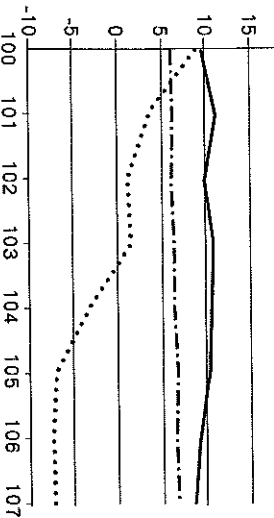
新北市

(%) — 出生率 — 死亡率 社會增加率



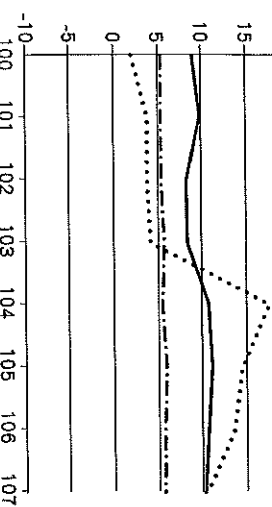
臺北市

(%) — 出生率 — 死亡率 社會增加率



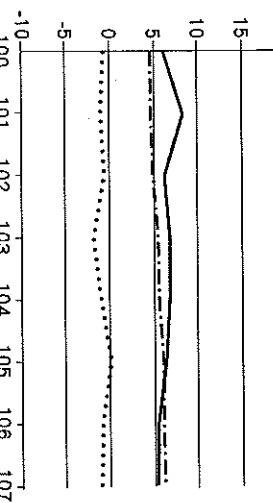
桃園市

(%) — 出生率 — 死亡率 社會增加率



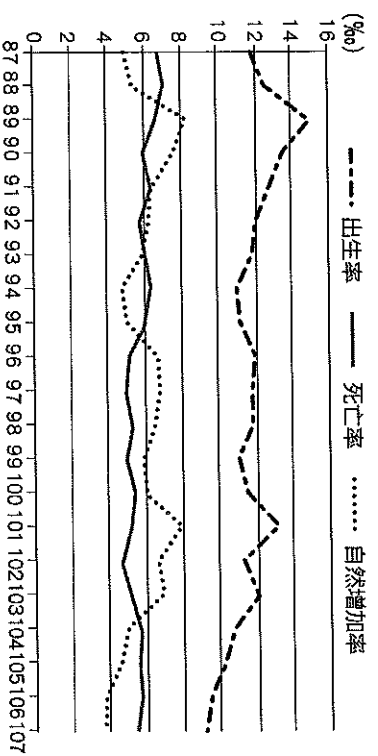
高雄市

(%) — 出生率 — 死亡率 社會增加率

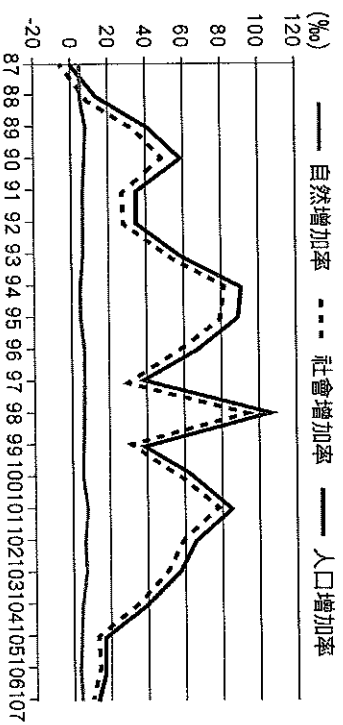


- () 43. 請問民國 107 年哪一個城市的自然增加率最低？
 (A) 新北市 (B) 臺北市 (C) 桃園市 (D) 高雄市。
- () 44. 請問民國 107 年哪一個城市的人口成長率最高？
 (A) 新北市 (B) 臺北市 (C) 桃園市 (D) 高雄市。
- () 45. 請問民國 107 年有幾個城市呈現人口負成長的現象？ (A)0 (B)1 (C)2 (D)3。

※圖一是金門縣出生率、死亡率、自然增加率變化圖，圖二是金門縣自然增加率、社會增加率、人口增加率變化圖。請回答下列問題：



▲圖一



▲圖二

- () 46. 金門縣人口的自然增加率應受下列何者影響較大？
 (A) 出生率 (B) 死亡率 (C) 移出率 (D) 移入率。
- () 47. 關於金門縣人口成長率的敘述，下列何者正確？
 (A) 人口增加率主要受自然增加率波動而有變化
 (B) 自民國 101 年後金門縣人口數一直減少 (C) 自民國 88 年後，金門縣社會增加率一直為正值 (D) 金門縣近年來死亡率下降，人口數量上升。
- ※一地的人口總數並非固定不變，人口成長為動態性的人口特徵，一個國家或地區的人口成長會受到出生與死亡、移入與移出的影響。附表為某國某一年人口變化的情況，請根據表中資料回答下列問題：
- () 48. 該國該年人口的「出生率」為多少？
 (A) 5% (B) 8% (C) 10% (D) 20%。
- () 49. 該國該年人口的「自然增加率」為多少？
 (A) 6% (B) 10% (C) 15% (D) 20%。
- () 50. 該國該年的人「人口成長率」為多少？
 (A) 6.4% (B) 7.5% (C) 8% (D) 12%。

人口總數	出生人數	死亡人數	移入人數	移出人數
2,500 萬人	20 萬人	5 萬人	2 萬人	1 萬人

【試題到此結束，請再檢查一次！】