

基隆市立武崙國中 108 學年度第一學期 第二次段考 九年級社會領域地理科試卷

電腦讀卡，請使用 2B 鉛筆，並依據題號在答案卡上作答，答案卡無法判斷身分者，按規定將扣總分 10 分

範圍：南歐、西歐、北歐、東歐

班級：___ 座號：___ 姓名：___

一、單選題 (1 到 20 題，每題 1 分，21 到 45 題，每題 2 分)

- () 1. 南歐主要由三大半島組成，其中距離亞洲最近的是哪一個半島？(A)伊比利半島 (B)義大利半島 (C)巴爾幹半島 (D)斯堪地那維亞半島。
- () 2. 曾經占領臺灣北部的西班牙，位於歐洲那一個半島？(A)伊比利半島 (B)義大利半島 (C)巴爾幹半島 (D)斯堪地那維亞半島。
- () 3. 義大利是世界八大工業國之一，其精華區主要集中於何處？(A)北部—阿爾卑斯山 (B)北部—波河平原 (C)南部—亞平寧山 (D)西南—西西里島。
- () 4. 西班牙位於南歐，因此緯度較歐洲其他地區為低，為當地帶來下列何種影響？(A)降水量較多 (B)雨季較長 (C)時區較早 (D)生長季較長。
- () 5. 「古羅馬帝國時代，貴族和平民的娛樂之一就是競技場欣賞勇士們競技。」羅馬競技場位於哪一半島？(A)巴爾幹半島 (B)義大利半島 (C)伊比利半島 (D)斯堪地那維亞半島。
- () 6. 歐洲哪一個國家除航太、汽車、通訊等高科技產業發達外，其葡萄酒、化妝品、時裝等時尚產業也獨步全球？(A)瑞士 (B)英國 (C)法國 (D)德國。
- () 7. 西歐的自然環境優越，氣候溫和。請問：下列有關西歐的氣候介紹，何者正確？(A)氣候類型：中緯度大陸西岸地區，以地中海型氣候為主 (B)氣候特色：因暖流經過，沿海地區冬季較溫暖 (C)降水特色：西風吹拂，氣候乾燥 (D)氣候影響：沿海港口冬不結冰，利於太平洋航運發展。
- () 8. 西歐哪一個國家在 17 世紀時，曾統治臺灣達 38 年之久？(A)英國 (B)荷蘭 (C)法國 (D)西班牙。
- () 9. 許多歐洲企業在盧森堡設立總部，盧森堡因此吸引了世界各國資金，帶動金融業發達。請問：該國發展金融業的有利因素為何？(A)歐洲聯盟總部所在 (B)採取低稅率政策 (C)轉口貿易發達 (D)世界三大金融中心之一。
- () 10. 「音樂之都」維也納，位於歐洲哪一國境內？(A)英國 (B)法國 (C)瑞士 (D)奧地利。
- () 11. 北歐城市：北角位於 (北緯 71° 10' 21")，是北歐最北點，也是世界著名欣賞「午夜太陽」奇景的最佳地點。若飄飄規畫親身前往北角體驗難得的經驗。下列哪個國家與月分的組合，才能達成願望？(A)挪威：7 月 (B)冰島：7 月 (C)瑞典：1 月 (D)丹麥：1 月。

() 12. 北歐哪一個國家昔日以其豐富的森林、水利資源發展木材、紙漿、紙張等工業，今則以電子和通訊業以及手機遊戲聞名？(A)芬蘭 (B)瑞典 (C)冰島 (D)挪威。

() 13. 哥本哈根控制北海、波羅的海船隻的進出，位置重要，請問：哥本哈根是哪一國的首都？(A)瑞典 (B)芬蘭 (C)挪威 (D)丹麥。

() 14. 北歐地區地處高緯、氣溫偏低，但國民所得高，常被評為適合居住的地區之一。對於該區自然環境的敘述，何者正確？(A)火山地形發達 (B)全球小麥盛產區 (C)地形崎嶇，土壤貧瘠 (D)台灣發達，海運興盛。

() 15. 北歐各國極為重視社會福利，號稱「從搖籃到墳墓」全程照顧。這些社會福利政策須配合下列哪一項措施，才可以有效達成？(A)提高進口貨物的關稅 (B)向人民課徵高額稅金 (C)政府出錢補貼低收入戶 (D)禁止外來移民進入北歐。

() 16. 以同緯度的東歐與西歐地區比較，東歐哪項氣候資料的數據較小？(A)夏雨比重 (B)年溫差 (C)年降水量 (D)夏季最高溫。

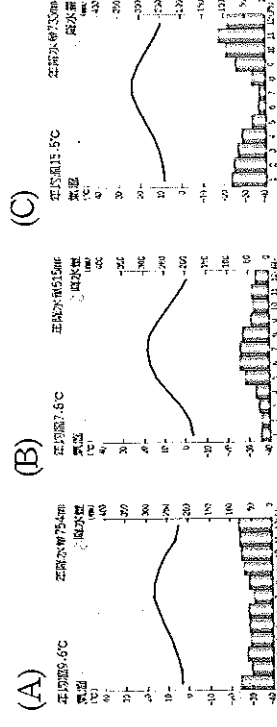
() 17. 東歐地區民族紛雜，對其政治安定影響頗大，有歐洲火藥庫之稱。請問造成其民族紛雜的主要原因為何？(A)位置、地形 (B)地形、氣候 (C)土壤、河川 (D)河川、位置。

() 18. 烏克蘭平原廣大，水電、礦產充足，農工業發達，其中哪一個都市是農產集散中心及重要的工業都市？(A)華沙 (B)基輔 (C)布拉格 (D)布達佩斯。

() 19. 共產時代以製造軍火工業聞名而有「蘇聯兵工廠」之稱，今有多國跨國企業投資，觀光業也蓬勃發展的東歐國家為何？(A)芬蘭 (B)捷克 (C)匈牙利 (D)烏克蘭。

() 20. 東歐北起波羅的海，南到黑海，地形以何處為界，北為平原，南多山地、丘陵？(A)多瑙河 (B)烏拉山 (C)阿爾卑斯山 (D)喀爾巴阡山。

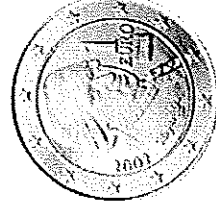
() 21. 下列哪個氣候圖，比較接近東歐的氣候？



- () 22. 波蘭為東歐重要的工業國家，其中格但斯克港為重要的造船中心。請問：該港口濱臨哪一個海洋？(A)北海 (B)黑海 (C)地中海 (D)波羅的海。
- () 23. 歐洲債務的危機自從引爆之後就成為全球關注的焦點，媒體更是創出「歐豬五國」(PIIGS)一詞，來貶稱包括葡萄牙 (Portugal)、義大利 (Italy)、愛爾蘭 (Ireland)、希臘 (Greece)、西班牙 (Spain) 等五個經濟較弱的歐洲國家，其中大部分國家位於歐洲的哪一分區？

(A)東歐 (B)西歐 (C)北歐 (D)南歐。

- () 24. 附圖是某個歐元區國家發行的歐元硬幣，硬幣正面圖案上是著名音樂家阿馬迪厄斯·莫札特，象徵該國是一塊音樂的土地，音樂藝術氣息濃厚。試問此歐元發行的國家為下列何者？



(A)奧地利 (B)盧森堡 (C)比利時 (D)義大利。

- () 25. 位在義大利半島南部的西西里島，泉水自海岸邊的礁石湧出，形成位於海裡的露天溫泉浴場。請問：海底溫泉的成因最可能是下列何者？

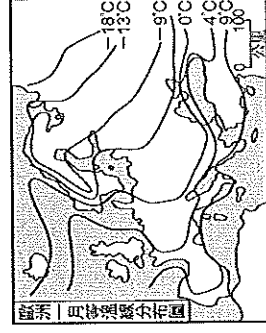
(A)珊瑚礁廣布 (B)大陸棚廣大 (C)北大西洋暖流流經 (D)位於板塊接觸帶上。

- () 26. 東歐地區的波蘭及烏克蘭都是農業與工業發展均發達的國家，其農業發達的共同原因是皆屬平原地形，而工業發達的共同原因則是都盛產何項天然資源？(甲)煤礦 (乙)鐵礦 (丙)石油 (丁)天然氣
- (A)甲、乙 (B)乙、丙 (C)丙、丁 (D)甲、丁。

- () 27. 德國地勢南高低，河川多為南北流向，若要興建運河聯絡各大河川，運河應以哪種方向興建？
- (A)南—北方向 (B)東北—西南方向 (C)東—西方向 (D)西北—東南方向。

- () 28. 中國廣西、貴州一帶氣候溼熱，溶蝕作用盛行，形成獨特的石灰岩地形景觀。地理學者最早針對此種地形進行系統研究的地區在哪裡？
- (A)伊比利半島 (B)義大利半島 (C)巴爾幹半島 (D)斯堪地那維亞半島。

- () 29. 附圖是歐洲一月等溫線圖。圖中的等溫線在北歐沿海呈南北分布，大致與海岸線平行。造成該地等溫線呈此分布型態的最關鍵因素為何？



(A)緯度高低 (B)地勢起伏 (C)暖流流經 (D)植被疏密。

- () 30. 教廷位於某個城市的市區內，是世界上面積最小、人口最少的國家，此城市為何？
- (A)雅典 (B)布魯塞爾 (C)羅馬 (D)巴塞隆納。

- () 31. 萊茵河流貫歐洲中樞地區，為歐洲航運最盛的河川，這條河川出海的海域為下列何者？
- (A)波羅的海 (B)北海 (C)地中海 (D)黑海。

- () 32. 昂昂準備前往北歐旅遊，他發現五國中有四個國家都使用自己的貨幣，只有這個鄰近俄羅斯的國家使用歐元，故遍遊五國要準備五種貨幣，相當麻煩。請問：上文中使用歐元的是哪一國家？
- (A)瑞典 (B)丹麥 (C)挪威 (D)芬蘭。

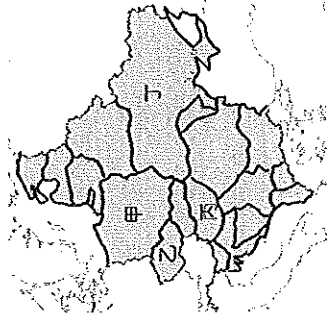
- () 33. 冰島之所以能發展溫室農業以及高耗電的煉鋁工業，主要是因為具有哪一條件，成為其優勢？
- (A)位居高緯度地區 (B)位居板塊接觸帶 (C)北大西洋暖流經過 (D)終年有西風吹拂。

- () 34. 西歐的低地國為增加生活空間，昔日居民建堤防，利用風車抽水以填海造陸，這些風車雖然造型互異，但多朝向哪個方向？
- (A)東方 (B)西方 (C)南方 (D)北方。

- () 35. 下列哪個城市位在義大利半島的北方，居民以小船為交通工具，而有「水上之都」之稱？(A)米蘭 (B)雅典 (C)羅馬 (D)威尼斯。

- () 36. 德國的工業主要集中在魯爾、薩爾和薩克森三大工業區。這三個工業區都擁有下列哪種天然資源而崛起？(A)煤礦 (B)鐵礦 (C)石油 (D)風力。

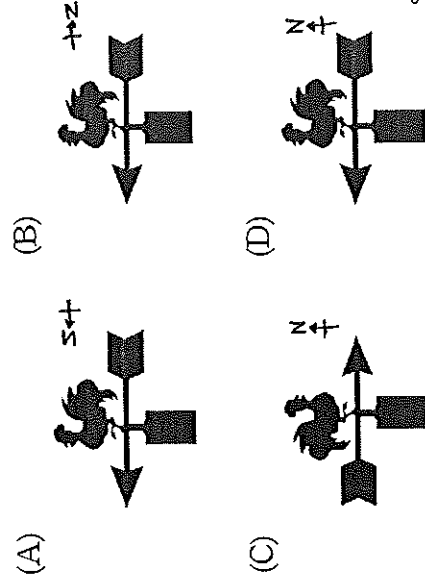
- () 37. 黑土帶是世界上重要的糧食生產帶，其主要的分布地區除了北美、南美、中國東北方外，歐洲也有廣大的黑土，下列哪個國家的農業發展除了依靠聶伯河的河水灌溉外還與黑土肥沃有關？
- (A)甲 (B)乙 (C)丙 (D)丁。



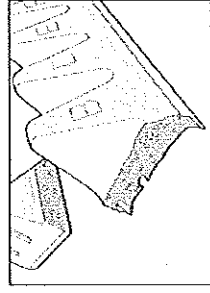
- () 38. 法國的「無煙囪」產業帶來了數百億歐元的收入，成為該國重要的經濟活動。請問：「無煙囪」產業指的是下列何種產業活動？(A)高科技工業 (B)精緻農業 (C)商業 (D)觀光旅遊業。

- () 39. 英國早期利用為工業革命的發源地，國勢強盛，殖民地遍布全球，當傳統工業發展逐漸沒落時，又在北海發現了，對其經濟發展極為有利。這兩項資源依序應為何？(A)煤礦、鐵礦 (B)鐵礦、石油 (C)煤礦、石油 (D)石油、煤礦。

- () 40. 毛毛和欣欣到風景如畫的比利時旅行，古靈精怪的她對風景沒興趣，反而覺得屋頂上的公雞造型特殊的風向標十分可愛。由上述推測，毛毛當時看見的公雞，比較可能是下列哪個圖示？

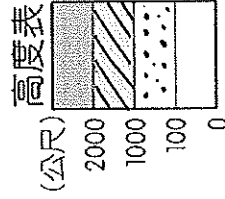


- () 41. 附圖是西歐某國家的巧克力品牌，巧克力外型是以當地阿爾卑斯山為靈感設計而成，該國且以冰河、湖泊、森林等美景聞名，而有「世界公園」之稱。請問：此巧克力品牌可能來自哪個歐國家？



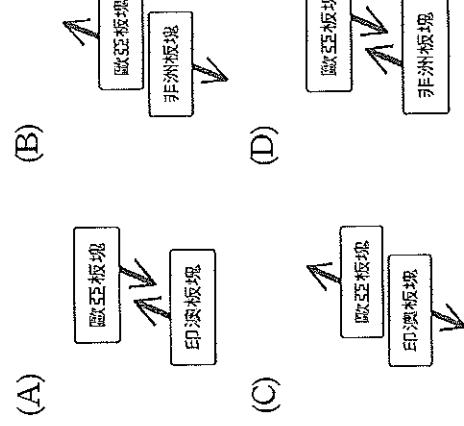
- (A) 挪威 (B) 希臘 (C) 英國 (D) 瑞士。

- () 42. 波蘭位於德國與俄羅斯之間，因為地形的關係，在近代歷史上常受戰火波及。若以右圖中的高度表來判斷，波蘭境內主要的地形為何？



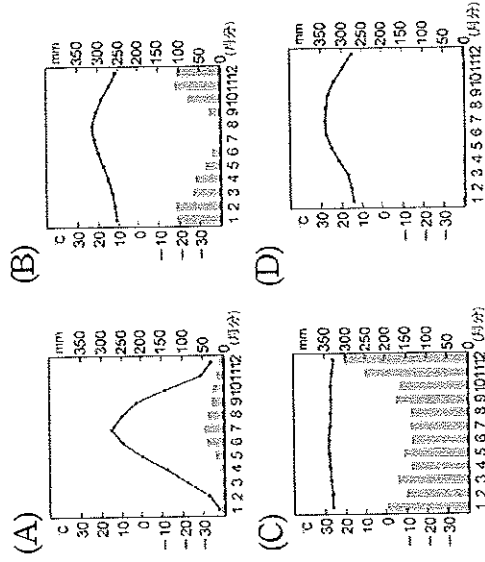
- (A) (B) (C) (D)

- () 43. 南歐地區的地形受到板塊擠壓影響呈現崎嶇多山的特色，若將此區的板塊名稱及活動方向畫成示意圖，應最接近下列哪張？



- (C) (D)

- () 44. 芬蘭境內有個位於北極圈附近的「聖誕老人村」，最接近下列何種氣候類型？



- () 45. 2019年4月16日，巴黎聖母院發生大火，柯南觀看相關新聞時，聰明的他發現新聞上出現了一個非常明顯的錯誤，請問新聞畫面中的『萊因河』應該修改為何？(A)多瑙河 (B)泰晤士河 (C)塞納河 (D)奧得河。

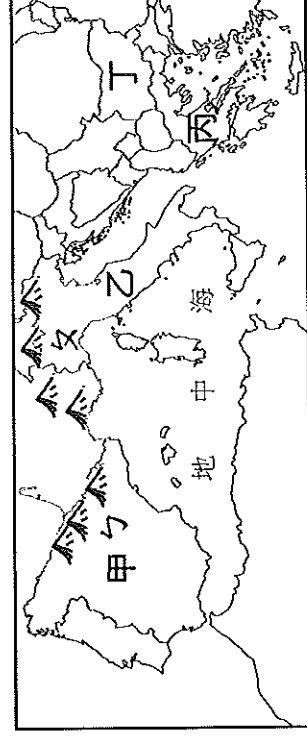


二、題組題 (45 到 60 題，每題 2 分)

- (一) 身為歐洲重要河道之一的多瑙河，發源於德國黑森林地區，流經奧地利、斯洛伐克、匈牙利、羅馬尼亞、保加利亞、摩爾多瓦和烏克蘭等十個國家，是全世界流經國家數最多的河流。請問：

- () 46. 多瑙河的下游注入下列哪個海域？
(A) 北海 (B) 黑海 (C) 紅海 (D) 波羅的海。
- () 47. 多瑙河與萊茵河是歐洲最重要的兩條河流，然而多瑙河雖然河流的長度較長，航運價值卻不如萊茵河來得高，這應該是多瑙河哪項缺點所導致的結果？(A) 冬季易結冰 (B) 水量變化大 (C) 出口方向不佳 (D) 洪患發生頻繁。

- (二) 下圖為南歐示意圖，請根據此圖回答下列問題：

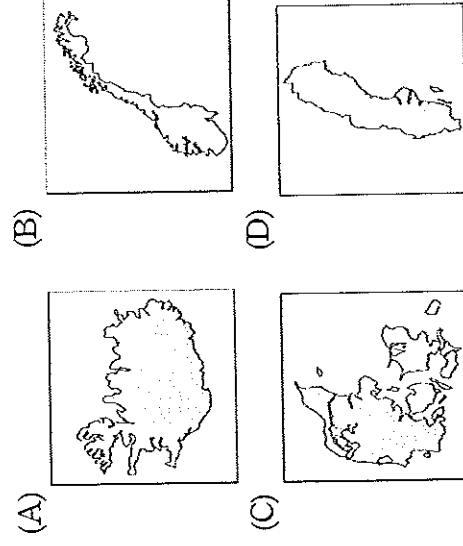


- () 48. 甲與乙分別為南歐與其他歐洲的界山，其中『乙』的名稱為何？
(A) 阿爾卑斯山 (B) 喀爾巴阡山 (C) 庇里牛斯山 (D) 高加索山。
- () 49. 四年一次的奧林匹克運動會起源於西元前 776 年的希臘，因為賽會在奧林匹亞山上舉行，因此得名。奧運的發源地位於圖中哪一區？
(A) 甲 (B) 乙 (C) 丙 (D) 丁。

- () 50. 若去希臘聖托里尼島旅遊，會發現當地的建築物外觀多為白色，這是什麼原因？
(A) 以反射強烈日照 (B) 當地特有習俗 (C) 當地容易下雨 (D) 為希臘時期的遺跡。

- (三) 歡迎參加武備國中第一屆北歐社會知識大競賽，以下為競賽的題目，快回答下列問題以爭取勝利吧。請問：

- () 51. 【時事題】大西洋中間橫互著一條中洋脊，○○即是中洋脊冒出岩漿堆積而成的火山島，地熱資源得天獨厚，而○○人也對開發地熱相當大膽積極，2016年8月起開掘○○深掘計畫(DDDP)直達岩漿層，如今已經挖掘5公里深。請問：○○指的是北歐哪一個國家？



()52. 【人文題】北歐國家被譽為「福利國家」，號稱「從搖籃到墳墓」全程照顧，但這些高福利國家未來發展上仍面臨許多問題，請問：下列何者不是北歐國家所面臨的問題？(A)醫療品質低落，死亡率比高 (B)高稅收，企業出走 (C)少子化，未來撫養比上升 (D)人口組成高齡化。

()53. 【影視題】下列的歌詞均以國家城市為背景，請問：何者描述的是西班牙的首都？

(A)「倫敦的愛情」—我呼吸倫敦的空氣，也聽見Sting 唱歌的CD (B)「哥本哈根的童話」—鴿子和平的釋懷，陪伴的那人魚的愛，離開哥本哈根，妳帶走的愛 (C)「布拉格廣場」—我就站在布拉格黃昏的廣場，在許願池投下了希望 (D)「馬德里不思議」—馬德里不思議，突然的想念你，彩繪玻璃前的身影，只有孤單變濃郁。

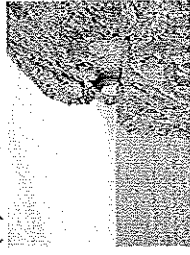
()54. 【自然題】右圖中的丙國利用

峽灣地形所形成的天然良港，及港口冬不結凍的優勢，發展漁業、航運業。請問：圖中的丙國是北歐哪一國家？以及哪一張是峽灣地形的照片？


(A)挪威；



(C)芬蘭；



(B)挪威；



(D)丹麥；



()55. 【經濟題】在臺灣能看到許多北歐品牌，但你知道這些品牌是來自哪一個國家嗎？請參考第54題所附的北歐地圖，根據下表選出正確的選項：

選項	(A)	(B)	(C)	(D)
原名	LEGO	IKEA	ROLEX	PHILIPS
譯名	樂高	宜家家居	勞力士	飛利浦
產品	積木	家具	鐘錶	家電
國家	甲	乙	丙	丁

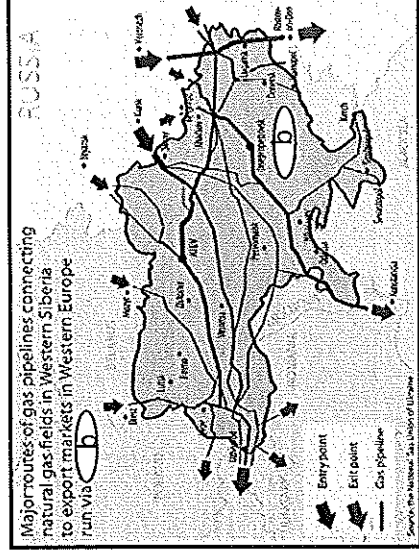
(四)東歐經濟發展主要分成兩大階段：計畫經濟時期與自由經濟時期，這兩階段伴隨政治與國際局勢發展，呈現截然不同的面貌。請問：

()56. 東歐在計畫經濟下因以蘇聯利益為優先實施「專業分工」，各國經濟發展受到限制。請問：東歐在『計畫經濟』時期時，各國經濟發展特色與事實相符的是？(A)捷克長年發展軍火工業 (B)匈牙利以高科技工業為主 (C)波蘭發展環保產業 (D)烏克蘭時尚產業引領世界。

()57. 近年來東歐各國是歐洲經濟成長較快的地區，請問：其原因不包括？(A)東歐國家加入歐盟後，在經濟上得到援助 (B)利用較西歐低廉的工資，吸引各國企業到此設廠 (C)經濟自由化能刺激生產意願 (D)高死亡率，使壯年負擔較小。

()58. 由下圖可知 b 國為俄羅斯天然氣管線通往西歐的重要通道。近年，b 國在政治與經濟上與歐盟互動也越來越密切，故與俄羅斯的關係日益緊張。請問：圖中的 b 國指的是東歐哪一個國家？

(A)烏克蘭 (B)捷克 (C)波蘭 (D)匈牙利。



(五)目前，世界工業大國幾乎都是汽車工業發達的國家。下列世界重要汽車廠牌皆為各大工業國家的代表性企業。請依據代號回答問題：

(A)	TOYOTA	(B)	
(C)		(D)	

()59. 盛產鐵礦，屬北歐工業最發達國家，其所生產的汽車以安全著稱。

()60. 與賓士同屬一個歐洲國家的廠牌，其汽車在世界皆享有盛譽。