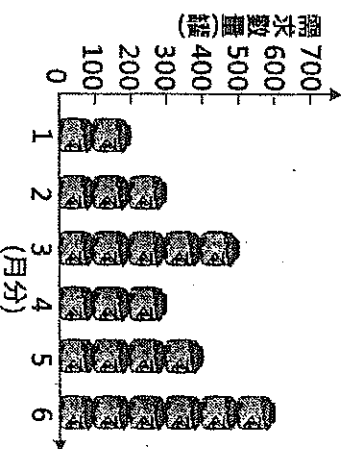


基隆市立武崙國民中學108學年度第一學期九年級公民科第二次段考試題

座號：\_\_\_\_\_ 姓名：\_\_\_\_\_

一、選擇題（每題3分，共30題，90分）另有非選擇題10分。共四頁

( ) 1.小邁家每個月第一天自製400罐醬菜販售，且為保持產品品質，當月沒賣完的產品就會銷毀，絕不在下個月販售。右圖為上半年消費者對小邁家自製醬菜的需求數量圖。根據圖中資料判斷，小邁家的醬菜上半年銷售總量為多少罐？(A) 2, 000 (B) 2, 100 (C) 2, 300 (D) 2, 400



( ) 2.近年來，高雄市岡山區公所時常將當地羊肉料理特產與傳統民間信仰活動結合，希望藉此吸引更多的遊客，活絡地方經濟。但部分住戶反應，舉辦相關活動所吸引而來的遊客車潮，經常導致鄰近地區大塞車，因此希望相關單位規畫解決之道，不要讓問題一再重演。請問下列何項作法最有助於解決此活動所產生的問題，且不影響區公所舉辦此活動的目的？(A)調高到訪遊客的入場停車費用 (B)調降販售者的攤位承租費用 (C)提供免費公車以減少車輛進出 (D)提供觀光資訊以及商品優惠券

( ) 3.好喫茶飲所屬的臺北店及高雄店，依據市場供需狀況而調整店內珍珠奶茶的價格，其中臺北店調漲，而高雄店調降。若以「○」代表500杯商品數量，則這兩家店於價格調整前的珍珠奶茶供需情況，最可能為右列何者？

(A)

	需求	供給
臺北店	○	○○
高雄店	○	○○

(B)

	需求	供給
臺北店	○○	○○
高雄店	○○○	○○

(C)

	需求	供給
臺北店	○	○○
高雄店	○○○	○○

(D)

	需求	供給
臺北店	○○○	○○
高雄店	○	○○

( ) 4.交通部觀光局邀請日本知名藝人為臺灣拍攝觀光宣傳影片，以吸引日本人來臺旅遊，但在宣傳活動的某段期間，因匯率劇烈波動，反而導致當時日本人來臺旅遊人次呈現負成長。上述觀光局作法所希望影響的消費行為因素，與該段期間匯率變化的情況，最可能為下列何項組合？

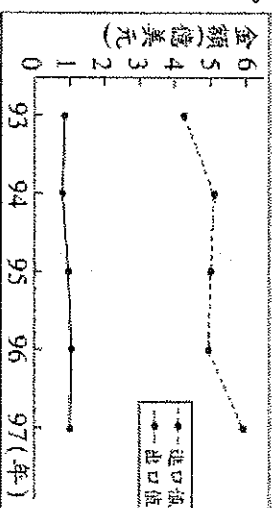
(A)預期心理、新臺幣相對日幣升值 (B)預期心理、新臺幣相對日幣貶值  
(C)個人偏好、新臺幣相對日幣升值 (D)個人偏好、新臺幣相對日幣貶值。

( ) 5.小文想在甲、乙、丙三景點中選擇一處販售冷飲，他的評估結果如右表所示。若小文僅考量總利潤，根據右表內容判斷，他選擇這三處景點的機會成本，其排序應為下列何者？(A)丙>甲>乙  
(B)乙>甲>丙 (C)甲=乙>丙 (D)丙>甲=乙

景點	一日販售數量(杯)	每杯售價(元)	營業日數(天)	一日營業成本(元)
甲	110	50	2	1000
乙	90	30	4	600
丙	100	40	3	800

( ) 6.右圖為民國93年至97年，我國水果類農產品的國際貿易概況。根據圖中內容，可觀察出下列何種現象？

(A)我國生產水果具絕對利益 (B)我國生產水果具比較利益  
(C)水果類貿易呈現入超狀態 (D)水果類貿易呈現出超狀態



( ) 7.為因應經濟不景氣，幸福國政府大量印製貨幣，造成該國貨幣數量增多，但商品數量沒有增加。請問：幸福國未來可能面對何種壓力？

(A)物價下跌，通貨膨脹 (B)物價上漲，通貨膨脹  
(C)物價下跌，通貨緊縮 (D)物價上漲，通貨緊縮

( ) 8.在美國選舉期間，川普提出幾項重大的經濟政策主張，被稱為「川普經濟學」。他曾想藉由減稅的方式促使更多的錢流入市場刺激經濟，並且透過提高關稅來減少進口商品保護國內產業。請問：以上的方式可推論出，目前美國偏向以哪種經濟模式為主，而政府的介入又稱為什麼？  
(A)統制經濟；無形之手 (B)市場經濟；看得見的手 (C)自由經濟；看不見的手 (D)計畫經濟；有形的手。

( ) 9.近日百貨公司週年慶，兩婕跟著媽媽一起去購物，原價 3800 元的裙子打折後竟然只要 800 元，因此超出預期的刷卡買了許多商品，總共花了兩萬元。請問：下列敘述何者正確？  
 (A)原價較高的商品，因為供不應求所以降價 (B)使用信用卡消費和使用鈔票一樣，都是貨幣  
 (C)基於供給法則，價錢下降讓兩婕增加購買數量 (D)若是價錢低於均衡價格，則搶購的人潮會更多。

( ) 10.甜點店有阿春和阿基師兩位甜點師傅，下表為阿春和阿基師工作一小時的甜點產量，下列敘述何者正確？

	泡芙	巧克力塔
阿春	24個	6個
阿基師	20個	4個

(A)阿春在製作泡芙和巧克力塔上，具有比較利益  
 (B)阿基師在製作泡芙和巧克力塔上，具有絕對利益  
 (C)阿春製作泡芙 (D)阿基師製作泡芙。

( ) 11.民眾可以透過貸款方式購買房屋，再分期按本金利息攤還。請問：「分期攤還」是指貨幣具有何種功能？(A)交易媒介 (B)價值衡量 (C)價值儲存 (D)債務清償。

( ) 12.園遊會時，銓銓與君君合作生產香腸與雞塊，每人同時只能製作一種商品，若依據比較利益法則進行分工，銓銓應負責生產雞塊；君君負責香腸。則表中的甲最可能為何者？

	銓銓	君君
香腸	40個	30個
雞塊	50個	甲

(A)60個 (B)50個 (C)40個 (D)30個。

( ) 13.我國貨幣由單一政府機關負責發行，以維持物價的穩定。請問此機關除了發行貨幣外，還有哪些職權？(甲)保管黃金、管理外匯 (乙)發行信用卡 (丙)穩定國內金融體系 (丁)提供民眾存款業務  
 (A)甲丙 (B)乙丙 (C)甲丁 (D)乙丁。

( ) 14.計畫經濟體制下，經濟活動的進行大多由政府所管控，下列何種情形不會發生在計畫經濟體制下？  
 (A)生產行為由政府主導 (B)市場上商品的价格和數量由政府決定 (C)由一隻「看不见的手」分配所有資源 (D)又稱統制經濟，通常施行於獨裁國家。

( ) 15.某家位於台中的麵包店只販售吐司，廚師堅持用天然在地食材，加入老麵、低溫長時間發酵，費工費時全程親自手做。其中招牌紅寶石吐司每條300元，每天限量30條，多層次的好味道吸引民眾排隊搶購。關於廚師和購買民眾在經濟活動中所扮演的角色，何者正確？

(A)這家台中的麵包店屬於生產要素市場 (B)麵包店廚師是生產要素市場中的供給者  
 (C)民眾9000元的消費支出是廚師的薪資 (D)市場上紅寶石吐司的需求量等於供給量。

( ) 16.由於有民眾在士林夜市使用新台幣200元付款，卻被店家拒絕。政府單位日前派員向店家加強說明200、2000元鈔券的使用，希望提高新臺幣鈔券之使用效能。關於我國新臺幣的說明下列何者正確？  
 (A)貨幣本身具有價值，普遍被人們接受 (B)由台灣銀行負責發行，包括紙鈔與硬幣 (C)屬於新興的電子貨幣，透過電子化方式進行交易 (D)政府以法令強制規定其作為共同接受的交易媒介。

( ) 18.在自由競爭的市場中，若有必要之際政府會適度介入市場以保障經濟弱勢者權益，例如我國為保障勞工工作權益，去年勞動部經行政院核定於2018年元旦起，勞工每月基本工資調整為2萬2000元，每小時基本工資調整為140元。請問：上述政府的經濟作為與下列何者相同？  
 (A)國際原油價格 (B)六福村樂園票價 (C)夏季電費費率調高 (D)台積電公司為員工加薪。

( ) 19.大華跟媽媽到銀行打算把出國旅遊時所兌換的日幣換回新台幣才知道：「銀行的廣告匯率在同一天當中，隨時都會變動」。關於上述的匯率變動，下列何者正確？(A)匯率由「看不见的手」所操控 (B)匯率由各國政府經立法程序制定 (C)媽媽感嘆之前買的日幣換回新台幣都賠本是因為新台幣貶值了 (D)當日幣兌換新台幣從1：0.25變動為1：0.26，表示新台幣升值。

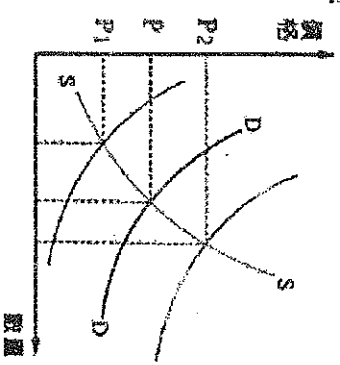
( ) 20.在我國則是由下列哪一機構負責謹慎地控制貨幣數量，以維持物價的穩定？  
 (A)中央銀行 (B)中華郵政 (C)臺灣銀行 (D)行政院經濟部。

- ( ) 21. 如果市場上的「大蒜」價格飆漲，依供法則判斷，有可能是下列哪些原因？(甲)政府放寬大蒜進口的數量(乙)民眾對大蒜的需求大增(丙)風調雨順，大蒜豐收(丁)大蒜種植採收成本增加。  
 (A) 甲丙 (B) 乙丁 (C) 甲丁 (D) 乙丙。

- ( ) 22. 某位導演曾說，一齣好的戲，導演、編劇、燈光師、演員等，缺一不可，每個人都要發揮自己專業能力，一起團隊合作，才能讓觀眾看到精彩的演出。請問這位導演的想法符合下列何種經濟學理論？(A)供給法則 (B)比較利益 (C)外部效益 (D)負擔能力原則。

- ( ) 23. 阿姨為了慶祝結婚二十周年，先到(甲)鄧師傅腳底按摩養生館享受腳底按摩，隔天又將持有的(乙)鴻海股票賣掉，再到(丙)桃園台茂的蘋果門市買入最新型手機，最後來到(丁)漢來海港餐廳吃大餐慶祝。請問：依交易場所區分，上述哪一行為所在的市場性質與其他三者不同？  
 (A) 甲 (B) 乙 (C) 丙 (D) 丁。

- ( ) 24. 根據統計，2015年加拿大人的大麻消費總額共計約新台幣1360.4億元。  
 加拿大政府推行大麻合法化希望讓規模龐大的黑市大麻交易回到合法市場，  
 便於政府的規管和控制在。請判斷，當大麻合法化後，右圖大麻黑市的價格 P  
 最可能發生何種變化？(A)移至 P1 (B)移至 P2 (C)維持 P 點 (D)移至原點

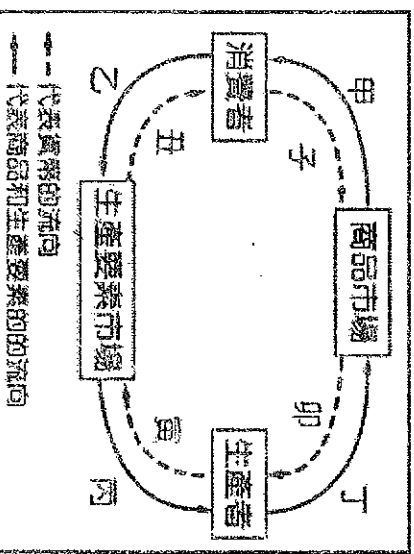


**題組一**

知名美式賣場與台灣國內老字號食品業者合作，販售厚奶茶飲品，標榜鮮奶含量高達50%，甜而不膩的口感深受許多民眾喜愛，掀起一陣搶購潮。因厚奶茶只有美式賣場獨家販售，且因考慮鮮奶存放時間，每日製作與進貨數量有限，民眾想買還不一定買得到，往往造成排隊搶購潮，甚至「賣場營業開門不到半小時就已搶購一空；網友將民眾瘋狂搶購價格融入殭屍恐怖電影情節，笑稱如同「喪屍潮」。

- ( ) 25. 根據上述文章內容，就供需原則及市場價格機能的結果，以及其他條件不變的情況下，判斷下列敘述何者正確？(A)知名美式賣場屬於生產要素市場 (B)市場上厚奶茶供給量小於需求量  
 (C)民眾排隊搶購厚奶茶之舉，符合計劃經濟現象 (D)賣場與業者合作經營屬於一種社會責任的展現。

- ( ) 26. 有鑑於厚奶茶旋風，隔壁鄰居老王打算躍躍欲試，計劃改行開店賣飲料大賺一筆奶茶財；但因人手不足，欲增聘門市人員協助販售。就經濟學角度來看，增聘行為屬於右圖經濟活動循環簡圖中的哪一環？(A)甲 (B)乙 (C)丙 (D)丁。



- ( ) 27. 承上題，老王增聘門市人員後而必須支付的是右圖中哪一個代號部分？  
 (A) 子 (B) 丑 (C) 寅 (D) 卯。

**題組二**

日本11月進入賞楓季，喜歡去日本旅遊的民眾喜迎「台幣強、日幣弱」的走勢，以這波日圓現金匯價來看，最高出現在10月13日，當時日圓現金匯價達0.2831元，今日10月21日下午收盤時走低至0.2713元，創近8個月新低。

- ( ) 28. 由上述新聞可以判斷？(A)日幣貶值，台幣升值 (B)日幣升值，台幣貶值 (C)無法判斷 (D)毫不相關  
 ( ) 29. 承上題，若以相同數量的新台幣兌換日幣，10月21日相較於10月13日所換到的日幣數量如何改變？(A)不變 (B)減少 (C)增加 (D)無關

- ( ) 30. 關於這一波「台幣強、日幣弱」的走勢，下列敘述何者正確？(A)日本人到台灣旅遊的意願會增加 (B)台灣人赴日旅遊須用更多的台幣購買日製品 (C)有利於臺灣企業出口商品到日本 (D)日本進口商品對台灣人而言相對變便宜

108 學年度基隆市立武崙國民中學第一學期九年級第二次段考非選擇題試卷

班級：

座號：

姓名：

得分

二、非選擇題 10 分 (請監考老師收回第四頁)

題文

連日大雨風災菜價上漲，高麗菜一顆飄破百元，為了避免搶種造成「菜賤傷農」，農糧署 8 月起推出高麗菜種植登記，首度採用超種示警燈號，警戒值是 540 萬株紅色燈號，600 萬株以上就是紫色燈號，目前登記種植數量已經到了百多萬株，發出超種紫色登號。

結果才短短 1 個月高麗菜已經亮出「超種」的紫色警示燈號！其中雲林縣就登記栽種佔了 7 成，已經發出超種警示。

題目 1

請問「菜賤傷農」是什麼意思？其中供需的狀況為何？(4 分)

題目 2

如果你是雲林縣的農民，當其他人在搶種高麗菜時，你可以做出什麼選擇，讓自己的損失變小？並請解釋你會選擇該項做法的原因。(4 分)

題目 3

如果你是農糧署，可以為農民再做些什麼？讓農民損失減少。(2 分)