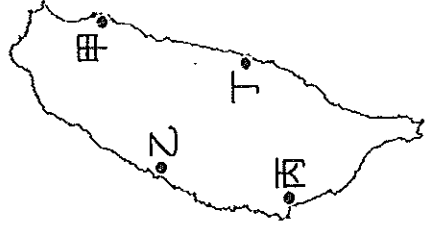


基隆市立武崙國民中學 108 學年度第一學期七年級第二次段考歷史科題目卷

___ 年 ___ 班 座號：___ 姓名：___

一、選擇題，每題 2 分(共 90 分)

1. () 鄭氏治臺時期，英國與鄭氏政權簽訂通商條約，關於其背景敘述，下列何者正確？(A)鄭氏為突破清廷經濟封鎖，開闢海外市場 (B)臺灣與英國聯盟，意圖壟斷南洋貿易市場 (C)英國挾船堅炮利之勢，脅迫臺灣開港通商 (D)西方傳教士為傳播基督教信仰，積極促成
2. () 臺灣由於地狹且天然資源少，一直都以發展對外貿易做為主要的經濟支柱。臺灣以對外貿易為導向的海洋文明是從何時開始的？(A)荷蘭時期 (B)鄭氏時期 (C)清領時期 (D)日治時期
3. () 鄭氏治臺時期對外貿易興盛，然而為了因應當時所面臨的情勢，政府以下列哪種物品為進口大宗？(A)茶葉 (B)蔗糖 (C)軍火 (D)稻米
4. () 臺灣是個曾經受多個政權統治的地區，每個政權亦有其特色。在鄭氏政權治臺時，所施行的「軍屯」制度，其主要目的為下列何者？
(A)增加政府收入 (B)提供軍民休憩 (C)增加官兵糧食 (D)興建居住房舍
5. () 清朝統治台灣前期，兩岸航運也曾經由特定港口直接往來。下列相關配對，哪組的內容正確？
(A)八里坌——五虎門 (B)八里坌——廈門 (C)鹿港——廈門 (D)鹿耳門——蚶江
6. () 清廷在臺灣行政區的建立上，是依南往北，西而東的方向設縣。根據這個發展的次序，下列哪個行政區是最晚設立的？
(A)淡水廳 (B)彰化縣 (C)諸羅縣 (D)噶瑪蘭廳
7. () 康熙時期，清朝將臺灣納入版圖，但卻在經歷了兩百年之後才開始積極治理臺灣。清廷政策的轉變與下列哪個原因有最直接的關係？
(A)臺灣貿易量突然增加 (B)瘟疫傳播無法控制 (C)外來勢力不斷侵略 (D)臺灣叛亂越演越烈
8. () 李阿勇員外是雍正年間重要的商人，他在當時臺灣最繁榮的府城經商致富。
如果我們要探尋他的經商地，應至右圖中何處？
(A)甲 (B)乙 (C)丙 (D)丁



9. () 下列有關荷蘭人在臺灣發展農業的敘述，何者錯誤？
(A)引進番茄釋迦新作物 (B)鼓勵漢人來台開墾 (C)施行軍屯與民墾 (D)引進大批黃牛。
10. () 爺爺帶小孫子參觀高雄市立歷史博物館「打狗史略展」，並說明高雄的史事，小孫子聽得津津有味。爺爺指著館內一張左營地區泛黃的照片說，這裡曾是明鄭軍屯所在地。小孫子很興奮地說：「我們住的地方也是耶！」爺爺倆人，應該家住高雄何處？
(A)鹽埕 (B)鼓山 (C)旗山 (D)前鎮
11. () 資料一：「朝廷宣布海禁政策，禁止人民出海，又強迫中國沿海居民遷徙內地，嚴禁將貨品輸往臺灣」資料二：「為了對抗海禁政策，臺灣方面與中國大陸進行走私貿易，並且積極的發展與日本、東南亞等地的貿易，以對抗海禁政策。」上述資料描述的是臺灣歷史上的哪個時期？
(A)荷蘭統治時期 (B)鄭氏統治時期 (C)清帝國統治時期 (D)日本統治時期
12. () 荷蘭人以臺灣為轉運站，與中國、日本、東南亞等地發展貿易，將臺灣的特產大量出口。上述主要的出口品為下列何者？
(A)鹿皮、蔗糖 (B)絲綢、瓷器 (C)藥品、香料 (D)茶葉、樟腦。

13. () 荷蘭人入侵臺灣後的措施和鄭成功治臺政策的措施，最相似的地方為何？(A)都發生漢人暴動的事件 (B)都完全控制臺灣海峽，壟斷海上貿易 (C)都注重發展國際貿易 (D)都以宗教教化原住民部落

14. () 清朝統治臺灣初期，對於人民渡海來臺曾頒布相關禁令：禁止無照渡臺，且有照者亦不得攜帶家眷。在來臺者多為男性的情況下，使得臺灣社會漢人男女人口比例嚴重失衡。當時清廷頒行前述禁令最主要的原因為何？

(A) 限制移民開墾，防止漢人叛亂 (B) 臺灣地理條件差，不適宜居住 (C) 倡導族群融合，鼓勵漢人與原住民通婚 (D) 重男輕女觀念盛行，不許婦女參與墾殖。
15. () 以下古今地名的配對，何者「錯誤」？(A) 艋舺—萬華 (B) 安平—台南 (C) 諸羅—彰化 (D) 打狗—高雄。

16. () 附表為 17 世紀東亞地區貿易往來的情形，其中何者正確？

輸出國家	商品	輸入國家
甲	鹿皮、蔗糖	乙
乙	軍用物資	甲
丙	走私物資	甲
甲	鹿皮、蔗糖	丁

(A) 甲應該是臺灣 (B) 乙應該是中國 (C) 丙應該是南洋 (D) 丁應該是荷蘭。

17. () 清朝統治前期，嘉慶年間，清廷設立噶瑪蘭廳加以治理台灣東北地區。對此行政區的設置和影響，那些敘述是錯誤？

(A) 因漢人開墾人數增加有關 (B) 為了防治海盜騷擾而增設 (C) 顯示行政區的設置是由南往北，由西向東 (D) 和鴨母王朱一貴叛亂有關。

18. () 清朝統治初期，臺灣納入中國版圖後，最初的行政建置隸屬於下列何者？

(A) 浙江省 (B) 台灣省 (C) 廣東省 (D) 福建省。

19. () 鄭氏時期在臺實行軍屯制度。請問：此種制度的基本精神是下列何者？

(A) 寓民於兵 (B) 兵農分籍 (C) 兵民合一 (D) 寓兵於農。

20. () 在歷史上中國的統治政權(王朝)曾多次實行「海禁政策」。請問：明朝及清初實行海禁政策主要是為了防範哪些對象？

(A) 荷蘭、日本 (B) 倭寇、鄭氏 (C) 荷蘭、鄭氏 (D) 西班牙、日本。

21. () 若要安排至臺南市作古蹟考察，行程中應該不會安排到下列哪一座古蹟？

(A) 全臺首學孔廟 (B) 紅毛城 (C) 赤崁樓 (D) 安平古堡。

22. () 「一府二鹿三艋舺」的繁榮景況是如何發展出來的？

(A) 與中國大陸貿易的結果 (B) 開港通商，發展國際貿易 (C) 茶葉、樟腦的大量出口

(D) 位居太平洋的重要航線上。

23. () 下列清代臺灣水圳分布的配對何者正確？

(A) 八堡圳—彰化 (B) 曹公圳—台中 (C) 瑤公圳—高雄 (D) 貓霧凍圳—臺北

24. () 如果李君是前往「泉州」販賣「蔗糖」的臺南商人，那麼他可能會加入下列哪些「郊」的組織？(甲)北郊(乙)南郊(丙)米郊(丁)糖郊

(A) 甲丙 (B) 乙丁 (C) 甲丁 (D) 乙丙

25. () 歷史老師在說明清代臺灣的對外貿易時表示：「英國貿易商對臺灣的茶葉、蔗糖有很大的興趣，他們先透過郊商購買，後來開始在臺灣設立代表，進行直接貿易。」請問：這種轉變與哪一史實有關？(A) 鄭成功驅逐荷蘭人 (B) 康熙將臺灣收為版圖 (C) 英法聯軍後，清廷開放臺灣通商 (D) 甲午戰敗，割讓臺灣

26. () 漢人小玉於同治年間移民來臺，因為開港通商的關係，他在住所附近經常見到高鼻深目的西方人士。請問：小玉最有可能住在下列何地？
 (A)淡水 (B)鹿港 (C)花蓮 (D)噶瑪蘭。
27. () 清法戰爭期間，哪位朝廷官員派至臺灣，進行臺灣的防務工作督導，以防臺灣為法軍所侵占？
 (A)陳永華 (B)沈葆楨 (C)鄭成功 (D)劉銘傳。
28. () 位於臺北、基隆之間的「獅球嶺隧道」是臺灣最早的鐵路隧道，隧道口有當時主持鐵路興建的官員所題之「曠宇天開」四字。請問：題字者應是何人？
 (A)施琅 (B)沈葆楨 (C)丁日昌 (D)劉銘傳。
29. () 清廷在牡丹社事件的交涉條約中，承認日本出兵是「保民義舉」，日本藉此積極展開對哪個地方的掌控？
 (A)臺灣 (B)越南 (C)琉球 (D)朝鮮。
30. () 追溯歷史發展，臺灣史上的首任官派巡撫為何人？ (A)沈葆楨 (B)劉銘傳 (C)施琅 (D)劉永福。
31. () 接續上題，臺灣設行省，和哪一事件有關？
 (A)英法聯軍 (B)清法戰爭 (C)甲午戰爭 (D)牡丹社事件。
32. () 有關臺灣開港通商後所出現的景象，下列何者錯誤？
 (A)外商紛紛在臺灣設立洋行，大量進口鴉片 (B)西洋傳教士到臺灣傳教，設教堂、立學校 (C)和中國大陸貿易繁盛，出現「一府二鹿三艋舺」的諺語 (D)臺灣對外貿易呈現出超。
33. () 「大稻埕」在清朝統治前期原來只是不起眼的港口，但到了後期卻成為重要的商業區，這是因為哪一貨品的貿易帶動下的結果？
 (A)茶葉 (B)蔗糖 (C)樟腦 (D)鴉片。
34. () 歷史課時，學生們討論臺灣西元 1880 年時的對外發展概況，哪一位的說法是正確的？
 (A)宇睿：「此時為清朝治台前期，臺灣對外貿易為入超。」
 (B)詠安：「臺灣開放淡水、鹿港、安平、打狗四個港口。」
 (C)祐承：「洋行貿易出口大量取代郊商。」
 (D)永成：「臺灣的進口商品以軍用品為最大宗。」
35. () 小丸子將清領後期臺灣重要經濟作物的出口整理成附表，表格中的哪個項目是錯誤而須修改的部分？ (A)甲乙 (B)甲丙 (C)乙丙 (D)乙丁。

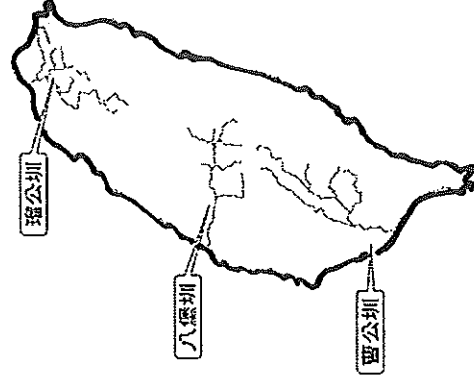
商品	產地	出口港	外銷地
茶葉	北部 丘陵	(乙) 艋舺	(丁) 歐、美
蔗糖	(甲) 南部	安平、 打狗	中、日 、澳
樟腦	中北部	(丙) 打狗	歐、日 、美

36. () 臺灣從荷西時期、鄭氏時期到清朝統治期間的進出口貿易，每個階段都有不同的變化。但是哪一項商品都是這幾個階段重要的輸出品？
 (A)蔗糖 (B)鹿皮 (C)稻米 (D)茶葉。
37. () 安安傳播公司正在企畫製作一系列「臺灣古蹟巡禮」專題報導，藉以回顧臺灣的開發歷程。請問：在「臺灣古蹟巡禮——劉銘傳篇」此一專題中，最適宜製作下列哪一個古蹟的報導？
 (A)二沙灣炮臺 (B)安平古堡城牆 (C)億載金城炮臺 (D)紅毛城建築。
38. () 如果要製作「臺南古蹟巡禮」，下列古蹟的介紹，應如何依時間排列才符合史實的演變？
 (甲)臺南孔廟 (乙)英商德記洋行 (丙)熱蘭遮城
 (A)甲乙丙 (B)乙丙甲 (C)丙甲乙 (D)丙乙甲。

39. () 原住民在漢人來到臺灣之前，一直沒有發展出一套國家組織，也沒有文字的出現，下列有關原住民文字的敘述，何者正確？
 (A) 荷蘭人教導凱達格蘭族以羅馬字母拼寫自己的語言 (B) 新港文書是研究原住民的重要史料 (C) 新港文至今仍有原住民在使用 (D) 新港文盛行於新北市。

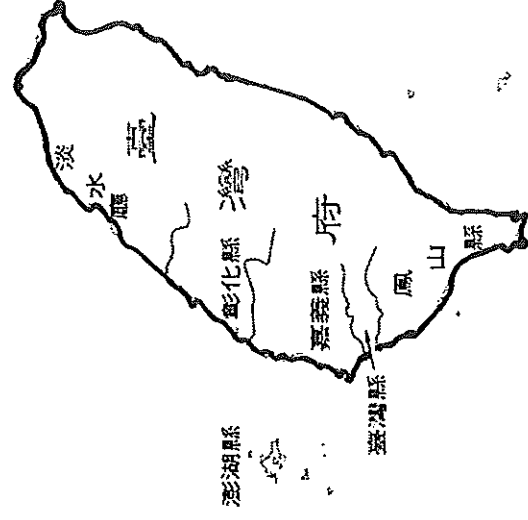
40. () 右圖為臺灣在某一個時期的水利建設。依據分布情形判斷，這些水利設施的興築與以下哪個因素關連最深？

- (A) 原住民農耕技術精良
 (B) 臺灣的土地開發迅速
 (C) 蔗糖為臺灣經濟命脈
 (D) 荷蘭需要臺灣的糧食

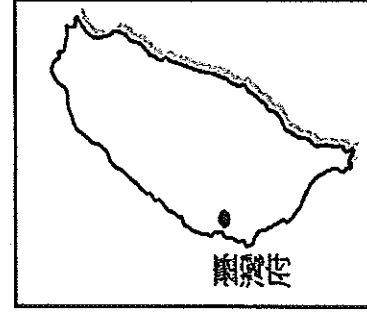


41. () 花花在閱讀某一歷史圖冊時發現一張臺灣地圖，如右圖所示。根據圖中資訊判斷，這是和下列哪一事件有關？

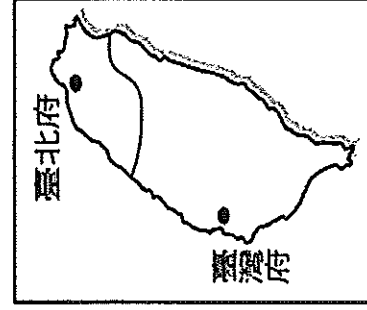
- (A) 康熙年間台灣納入版圖
 (B) 發生朱一貴叛亂事件
 (C) 發生林爽文叛亂事件
 (D) 吳沙率漢人開拓墾地



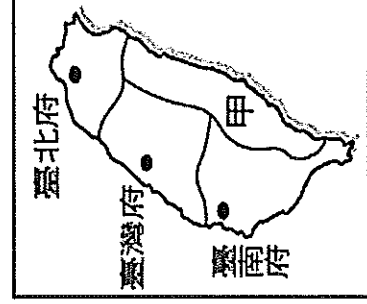
※下面附圖是十七至十九世紀的臺灣行政區演變圖。請問：



圖(一)



圖(二)



圖(三)

42. () 由圖(一)演變成圖(二)，是在經歷了哪個國家的入侵之後？ (A) 英國 (B) 日本 (C) 法國 (D) 荷蘭
43. () 圖(二)行政區的增設與何人有關？ (A) 曹謹 (B) 鄭成功 (C) 沈葆楨 (D) 劉銘傳
44. () 由圖(二)演變為圖(三)，又與下列何人有關？ (A) 張達京 (B) 施世榜 (C) 沈葆楨 (D) 劉銘傳
45. () 圖(三)當中「甲」行政區的名稱為何？ (A) 臺東直隸州 (B) 噶瑪蘭廳 (C) 花蓮縣 (D) 卑南廳

題目尚未結束，請繼續完成第二大題非選擇題。

年 班 座號： 姓名：

一、二大題、讀卡分數90%	三、簡答題分數10%	合計

三、簡答題 (10%)

清廷在澎湖一戰擊敗鄭氏，占有臺灣後，皇帝曾說「臺灣僅彈丸之地，得之無所加，不得無所損」。閱讀下面四段關於「臺灣棄留論」的文章：

資料(甲)：「(臺灣)孤懸海外，易藪賊。欲棄之，專守澎湖。」

資料(乙)：「臺灣，……乃江浙閩粵四省之佐護。臺灣一地雖屬外島，實關四省之要害。……臣思棄之必釀成大禍，留之誠永固邊圉。」

資料(丙)：「海外(指臺灣)泥丸，不足為中國加廣。裸體文身之蕃，不足與共守。日費天府金錢於無益，不若徙其人而空其地。」

資料(丁)：「中國東南形勢在海而不在陸。台灣雖一島，實腹地數省之遮罩。棄之則不歸番，不歸賊，而必歸荷蘭。」

◎請依照上述資料，回答下列題目，並請填寫正確答案於下方表格：

- 資料(甲)、(乙)、(丙)、(丁)四段「臺灣棄留論」的爭議中，主張要留下台灣的資料有哪些？(2分) (全對才給分)
- 資料中主張「保留」臺灣的資料中，主要考量為何？(2分)
(A)臺灣資源豐富 (B)臺灣戰略地位重要(C)臺灣人口眾多(D)臺灣族群和諧。
- 資料中主張「放棄」臺灣的原因，下列哪一項是「錯誤」？(2分)
(A)面積狹小 (B)文化野蠻 (C)可耕地少 (D)耗損金錢。
- 最後清朝決定留下台灣納入版圖，卻因種種歷史因素，採取防台而治台的政策。請同學舉出2項，清朝統治初期對台灣實施的防台政策，因而影響台灣政治社會的發展？(4分)

1	2	3	4
			(1)
			(2)

◎答案請用原字筆書寫