

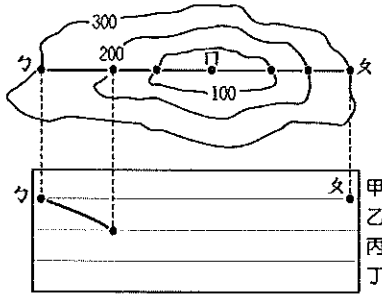
基隆市立武崙國民中學一〇八學年度第一學期第二次段考七年級地理科試題卷

注意事項：

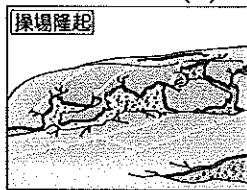
1. 本份試卷為單選題，每題 2 分，共 50 題，總分 100 分。
2. 答案卡限用 2B 鉛筆畫記，若畫記錯誤，請擦拭乾淨。分數以電腦讀卡分數為準。
3. 答案卡上的資料欄請確實填寫，若資料欄畫記錯誤導致電腦無法正確判讀，扣總分 10 分。

班級：七年 班座號： 姓名：

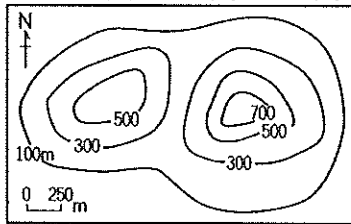
- ( ) 1. 附圖為武崙國中的地理科作業，將地形等高線圖轉換成剖面圖。請問：在剖面圖中，「丁點」應會落在哪一個高度？  
(A)甲 (B)乙 (C)丙 (D)丁。



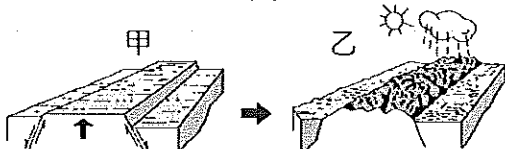
- ( ) 2. 武崙國中校外教學來到某教育園區參觀，見到令人為之震驚的景觀，如附圖所示。請問：園區導覽員會如何解說此景觀的作用力？(A)內營力、火山作用 (B)外營力、河川作用 (C)內營力、板塊運動 (D)外營力、板塊運動。



- ( ) 3. 附圖為某地區的等高線圖，該地應該屬於何種地形？(A)山地 (B)台地 (C)盆地 (D)丘陵。

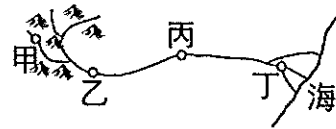


- ( ) 4. 附圖中，甲地形形成後，經由風和水媒介，逐漸演變為乙地形。請問：影響甲、乙地形面貌的主要營力分別為何？  
(A)內營力、外營力 (B)外營力、內營力  
(C)內營力、內營力 (D)外營力、外營力。

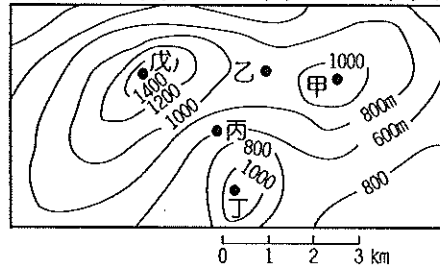


- ( ) 5. 在等高線地形圖上，等高線水平間隔愈密集，表示該坡面具有下列哪種特色？(A)坡面愈平緩 (B)坡面愈陡峭 (C)坡面起伏不定 (D)地勢傾斜緩慢。

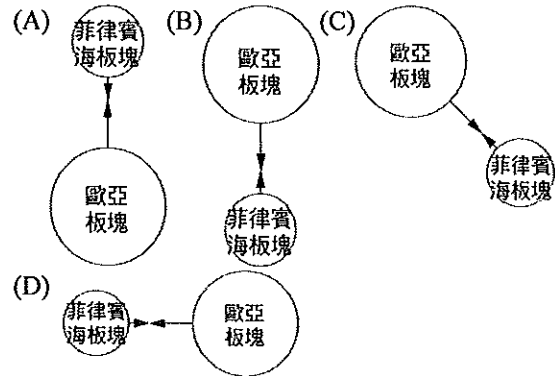
- ( ) 6. 附圖為河流上中下游示意圖，請問沖積扇地形最可能出現於圖中何處？(A)甲 (B)乙 (C)丙 (D)丁



- ( ) 7. 附圖為某一等高線地形圖，依據圖上資料所示，圖中最高點高度可能為下列何者？  
(A)1,300m (B)1,400m (C)1,550m (D)1,650m。

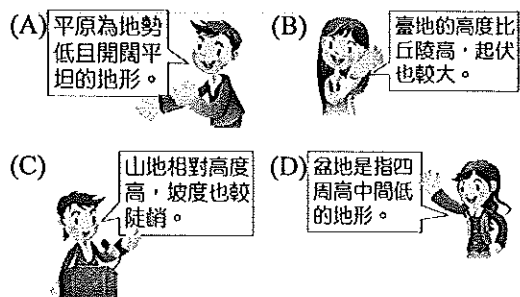


- ( ) 8. 下列是關於臺灣島的形成與板塊擠壓作用力的方向圖示，何者為正確的示意圖？



- ( ) 9. 承上題，請問：其交界帶位於下列哪一個地形區中？(A)屏東平原 (B)花東縱谷平原 (C)埔里盆地 (D)宜蘭平原。

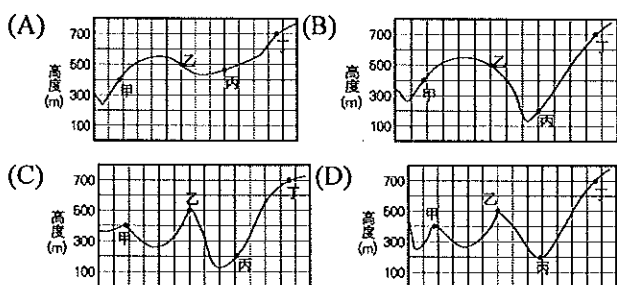
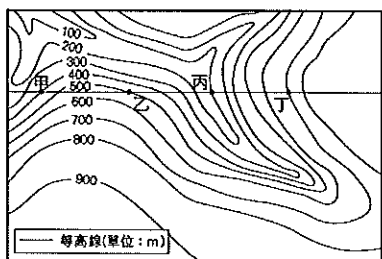
- ( ) 10. 考試將近，同學們熱烈討論有關地形的上課重點。請問：誰的發言不正確，可能須要再調整觀念？



- ( ) 11. 附表為臺灣北部及東部海岸的比較表，依據所學判斷，表中哪項資料正確？  
(A)甲 (B)乙 (C)丙 (D)丁。

海岸分類	(甲)海岸性質	(乙)海岸坡度	(丙)海岸線	(丁)產業活動
北部海岸	沙質海岸	平緩	曲折	航運
東部海岸	斷層海岸	陡峭	陡直	晒鹽

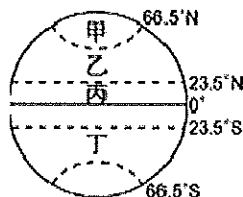
- ( ) 12. 蚵殼島位於大鵬灣國家風景區，全島面積大約 7,000 平方公尺。由於大鵬灣以前有 82% 的面積都在進行蚵棚架養殖，蚵農將要丟棄的蚵殼統一放置，經過數年的堆置，竟然形成一座由蚵殼堆砌形成的島。請問：蚵殼島附近最容易看見下列何種地形？(A)灣澳 (B)潟湖 (C)斷層 (D)火山島。
- ( ) 13. 附圖為某地區的等高線地形圖。請問：經過甲、乙、丙、丁四地所繪製成的地形圖，最可能是下列哪幅？



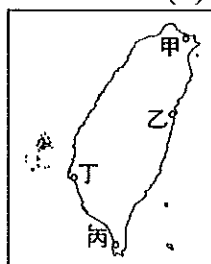
- ( ) 14. 臺灣因為各地區的自然環境條件不同，區域發展程度也各不相同。請問：目前臺灣人口多聚集於下列何種地形區中？(A)平原、盆地 (B)平原、山地 (C)平原、台地 (D)平原、丘陵。
- ( ) 15. 海岸常見的景觀特色有下列幾項，其中哪幾項為沙岸的海岸特色？(甲)海岸線單調平直 (乙)海水較深 (丙)海岸平原寬廣 (丁)海岸地形崎嶇 (A)甲乙 (B)甲丙 (C)乙丙 (D)乙丁。
- ( ) 16. 寒假即將來臨，秉哲打算以野柳地質公園為出發點，順時針前進，完成環臺濱海旅行。依據秉哲規劃的路線判斷，他依序會經過附表哪些海岸？  
(A)甲→乙→丙→丁 (B)甲→丁→丙→乙  
(C)丁→甲→乙→丙 (D)乙→丙→丁→甲

甲	海岸灣澳與岬角相間
乙	有鹽山、養殖漁業
丙	珊瑚礁海岸
丁	沿岸有高聳峭壁，海岸陡直

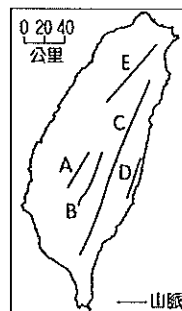
- ( ) 17. 「適合珊瑚繁殖的環境，需海水溫暖、鹽度適中、無河川注入的潔淨淺海。」根據上文判斷，珊瑚礁島大多分布在附圖中哪個區域？  
(A)甲 (B)乙 (C)丙 (D)丁。



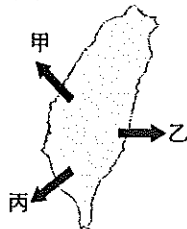
- ( ) 18. 來自西伯利亞的黑面琵鷺會於冬季時來到臺南七股度冬，為了保護此處沙洲、潟湖、溼地等豐富的生態及人文資源，政府於 98 年 12 月成立台江國家公園。請問：台江國家公園位於附圖中何處？(A)甲 (B)乙 (C)丙 (D)丁。



- ( ) 19. 附圖為臺灣的五大山脈簡圖：(甲)中央山脈(乙)海岸山脈(丙)阿里山山脈(丁)雪山山脈(戊)玉山山脈，若依照圖中 A、B、C、D、E 的順序排列，以下何者正確？  
(A)甲乙丙丁戊 (B)乙丙戊甲丁  
(C)丙戊甲乙丁 (D)乙丁戊甲丙



- ( ) 20. 地理現象的分布往往具有一定的趨勢或邏輯可循，請問臺灣的離島在甲乙丙三個方位的分布中，分別依序主要以哪種島嶼為主？  
(A)火山島、大陸島、珊瑚礁島  
(B)火山島、珊瑚礁島、大陸島  
(C)大陸島、火山島、珊瑚礁島  
(D)大陸島、珊瑚礁島、火山島



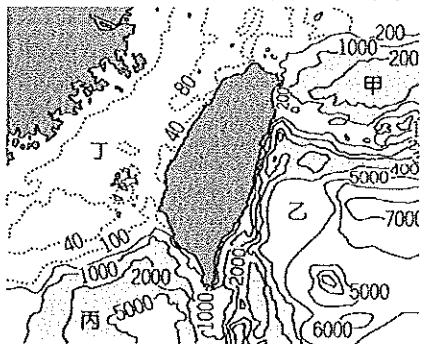
- ( ) 21. 附表是瑞揚分析臺灣某港口的自然條件，依表中內容判斷，最可能是指下列哪一個港口？  
(A)高雄港 (B)基隆港 (C)臺中港 (D)花蓮港。

自然條件	
優點	1. 形勢良好的灣澳。 2. 少淤積的曲折岩岸。
缺點	1. 丘陵環抱、平地狹小。 2. 雨日較多，影響貨物裝卸。

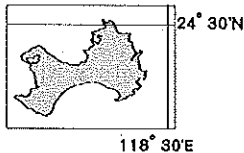
- ( )22. 下表為某地的簡介，依內容判斷，其應為臺灣哪一個離島？(A)金門 (B)琉球嶼 (C)澎湖 (D)釣魚臺列嶼。

歷史概況	元代時設官治理，納入版圖。
景觀特色	1.自然：火山噴發所形成的柱狀玄武岩 2.人文：臺灣最古老的天后宮（媽祖廟）

- ( )23. 土石流是臺灣近年來重大的自然災害問題之一，請問：土石流發生的原因很多，下列因素中何者與土石流問題關係最小？(A)山區大量開闢道路 (B)山區抽取地下水 (C)颱風地震頻繁 (D)坡度大岩層脆弱。
- ( )24. 附圖為臺灣周圍海域等深線圖(單位：公尺)。由圖中可以發現，臺灣哪一側的海水深度相對較淺？(A)東側 (B)西側 (C)南側 (D)北側。



- ( )25. 承上題，中油公司為了尋找石油與天然氣資源，決定在臺灣四周的大陸棚進行探勘。請問：根據附圖，若不考慮其他因素，何處會是中油公司最先考量的地點？(A)甲 (B)乙 (C)丙 (D)丁。
- ( )26. 關於我國在「合法捕魚範圍內」捕魚，卻遭到鄰近國家不友善對待的案例，顯示我國在漁業發展上面臨哪項困境？(A)領海主權屢遭侵犯 (B)漁業捕撈技術不佳 (C)海岸平直，不利航運 (D)經濟海域與他國高度重疊。
- ( )27. 翟山坑道為一 A 字型戰備水道，總長約 357 公尺，民國 52 年為因應戰爭所需而開挖，戰時供運補小艇補給使用，現在已成為該地的觀光景點。附圖為「翟山坑道」所在離島位置，請問：依據圖中資料判斷，翟山坑道應位於哪個島嶼？(A)澎湖 (B)馬祖 (C)金門 (D)太平島。



- ( )28. 附圖是「注意斷崖」的警告標誌，依據臺灣海岸線的分布特性，請問：在下列哪段海岸的公路駕駛時，最容易看到附圖標誌？
- ▲ 左側斷崖
- (A)西部海岸，北上方向 (B)西部海岸，南下方向  
(C)東部海岸，北上方向 (D)東部海岸，南下方向



※請根據下列三則新聞，回答問題：

新聞一：阿里山櫻花季十五日登場

春天是個鳥語花香的季節，也是進入阿里山賞花的好時節，隨著海拔 2,200 公尺的變幻天氣，1~2 月阿里山公路沿線山櫻、李花、桃花正艷。

新聞二：客家桐花祭即將熱鬧展開

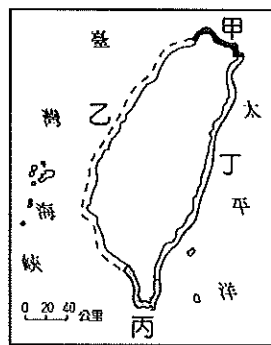
油桐花主要生長於中低海拔山區，日據時期引進臺灣廣泛栽植，在新竹、苗栗以北客家庄尤其茂盛，其滿山遍地盛開景象，有「五月雪」之稱。

新聞三：花東縱谷油菜花季


春節時分，由花蓮縣壽豐鄉起，到臺東縣知本等田野農地，在稻米採收後農民栽培了約 5,000 公頃油菜花田，在那黃花間還有蜜蜂群聚採集花蜜的田野景象，成為吸引遊客的最佳地點。

- ( )29. 下列哪個地形區較難看見油桐花盛開的景象？(A)嘉南平原 (B)新竹丘陵 (C)苗栗丘陵 (D)桃園台地。
- ( )30. 如要將新聞中的三種植物根據分布的地形區作配對，請問櫻花、油桐花、油菜花的分布地形依序為何？  
(A)山地、丘陵、平原 (B)山地、山地、盆地  
(C)丘陵、丘陵、盆地 (D)皆分布在山地。

※圖(一)為臺灣海岸地形的分布圖，請參考下列兩張附圖，回答 30~32 題：



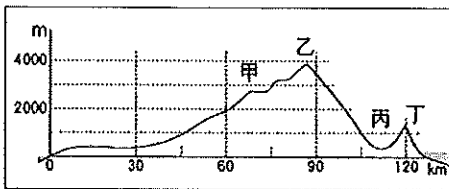
▲圖(一)



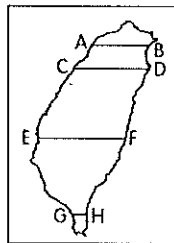
▲圖(二)

- ( )31. 圖(二)為臺灣某處海岸示意圖，附圖中高山深海相鄰，形成陡峭的斷層海岸。請問：此處海岸應位於圖(一)中何處？(A)甲岸 (B)乙岸 (C)丙岸 (D)丁岸。
- ( )32. 僥暄為研究臺灣海岸的特徵，特別實地走訪調查。請問：僥暄在「甲」海岸最不可能看到下列哪個景觀？(A)外傘頂洲 (B)富貴角燈塔 (C)基隆港貨櫃起降 (D)野柳女王頭。
- ( )33. 某艘馬來西亞籍貨船於巴士海峽遇到颱風來襲，準備緊急向臺灣恆春半島航行避難。請問：當船員靠近「丙」海岸時，必須特別注意下列何種意外的發生？(A)岬角阻擋 (B)船隻擱淺 (C)落石擊中 (D)撞上礁石。

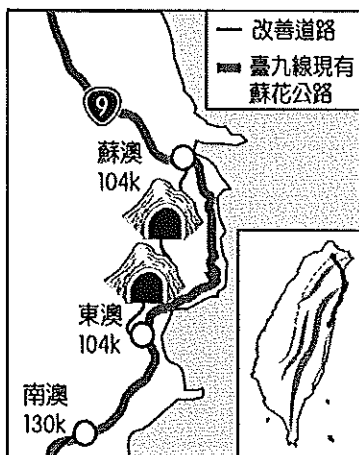
※附圖為臺灣某兩地間的地形起伏示意圖。請問：



- ( ) 34. 附圖這種可以表現地形起伏的地圖，稱之為何？(A)等高線地形圖 (B)地形剖面圖 (C)分層設色圖 (D)航空照片。
- ( ) 35. 圖中乙地的海拔高度最接近多少公尺？(A)1,000 (B)2,000 (C)3,000 (D)4,000。
- ( ) 36. 此圖應是參考附圖中的哪一條線繪製而成？(A)AB (B)CD (C)EF (D)GH。



※臺灣東部地區因為交通不便，每逢連假時，居民返鄉變成了最遠的一段旅程。因此交通部在經過長期的規畫後，終於推動蘇花公路改善工程計畫，路線如附圖所示，希望在完工後，能為東部交通帶來助益。請問：

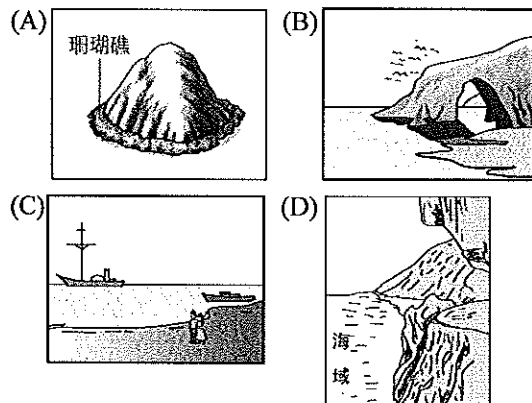


- ( ) 37. 由附圖中可見到，蘇花公路改善工程計畫路線緊鄰哪一海域？(A)臺灣海峽 (B)巴士海峽 (C)太平洋 (D)東海。
- ( ) 38. 蘇花公路改善工程由於施工的難度相當高，因此採用隧道穿過山脈，分段改善山區蜿蜒的道路。請問：附圖中的隧道主要穿越的山脈為何？(A)海岸山脈 (B)中央山脈 (C)阿里山山脈 (D)玉天山脈。

※根據文獻資料顯示：「荷蘭人建造熱蘭遮城（今安平古堡）時，海浪就打在在城堡邊；三百多年後的今日，安平古堡已距離海岸線有 2 公里遠」。請依據短文回答下列問題：



- ( ) 39. 觀察地圖，判斷地圖的上方大致是哪一個方位？(A)東方 (B)西方 (C)南方 (D)北方。
- ( ) 40. 荷蘭人首次登陸時，他們看到的海岸景觀，與下列何者最為相似？



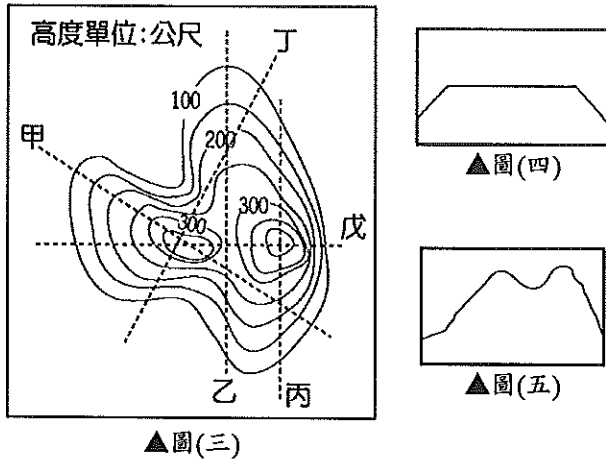
- ( ) 41. 根據文中所述，現今安平古堡已距離海岸線有 2 公里遠，請問：這應是下個哪個原因所造成？(A)河川沖積 (B)地層下陷 (C)波浪侵蝕 (D)海平面上升。
- ( ) 42. 下列何人利用潟湖的潮汐，登陸鹿耳門，進而包圍熱蘭遮城，最終迫使荷蘭人退出臺灣？(A)鄭成功 (B)鄭經 (C)施琅 (D)沈有容。

※附圖為某處海岸的示意圖，請問：



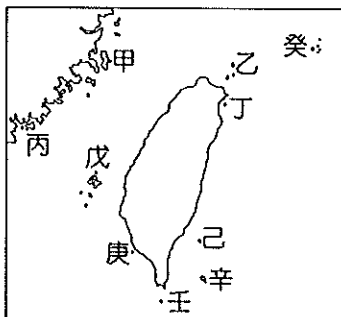
- ( ) 43. 周圍露出海面的小島嶼，在島嶼分類上應屬於哪種類型？(A)大陸島 (B)沙洲島 (C)火山島 (D)珊瑚礁島
- ( ) 44. 此種島嶼形成的主要原因為何？(A)海平面上升 (B)海底火山噴發 (C)珊瑚礁浮出海面 (D)河川帶來的沖積物堆積。
- ( ) 45. 下列哪個島嶼是屬於這種類型？(A)蘭嶼 (B)澎湖群島 (C)金門列嶼 (D)琉球嶼。

※圖(三)為某地區的等高線地形圖，甲、乙、丙、丁、戊分別為五條剖面線。請附圖，回答49~50題：



- ( ) 46. 圖(四)的剖面圖，應該是根據圖(三)哪一條剖面線所繪製而成？(A)乙 (B)丙 (C)丁 (D)戊。
- ( ) 47. 圖(五)的剖面圖，應該是根據圖(三)哪一條剖面線所繪製而成？(A)乙 (B)丙 (C)丁 (D)戊。

※臺灣四面環海，周邊離島眾多，涵蓋各種不同類型的島嶼，因此觀光資源相當豐富。附圖為臺灣周邊主要島嶼分布狀況，請問：



- ( ) 48. 觀光局在設計廣受歡迎的「跳島行程」時，希望規畫出一條包含不同成因類型島嶼的路線。請問：下列何者最為適合？(A)甲丙戊 (B)丙戊庚 (C)己辛癸 (D)甲戊辛。
- ( ) 49. 「釣魚臺列嶼的主權歸屬問題，多年來爭議不斷，請問：釣魚臺列嶼位於附圖何處？(A)甲 (B)乙 (C)丁 (D)癸。
- ( ) 50. 某島嶼位於恆春東方海域，島上住有達悟族，俗稱『飛魚的故鄉』。請問：上述內容是指附圖哪座島嶼？(A)甲 (B)丙 (C)己 (D)辛。

【試題到此結束，請再檢查一次！】