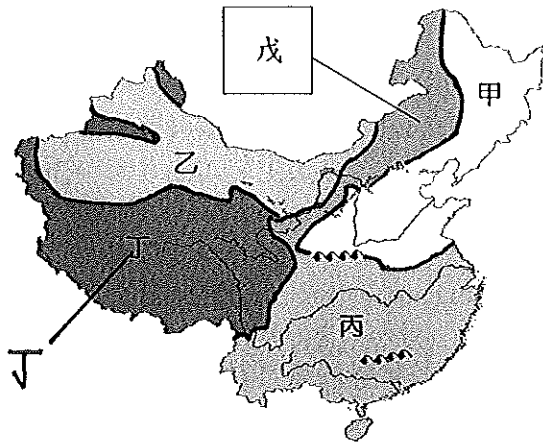


基隆市立武崙國民中學 108 學年度第一學期第三次段考八年級地理科試題卷

單一選擇題，共 50 題，每題 2 分，滿分 100 分 班級：_____ 姓名：_____ 座號：_____

中國幅員廣大，各地自然條件不盡相同，也影響了各地的傳統維生方式，請依照附圖回答第 1~

10 題：



- 請問下列哪些區域的主要傳統維生方式以畜牧業為主？
(A) 甲、乙、丙 (B) 乙、丙、丁
(C) 甲、乙、戊 (D) 乙、丁、戊
- 請問甲區和丙區的劃分界線與下列何者關係密切？
(甲) 最冷月均溫 0°C 等溫線
(乙) 最冷月均溫 18°C 等溫線
(丙) 年降水量 500mm 等雨量線
(丁) 年降水量 750mm 等雨量線
(戊) 3000m 等高線
(己) 水田和旱田景觀分界
(庚) 春麥和冬麥景觀分界
(A) 甲、丙、庚 (B) 甲、丁、己
(C) 乙、丙、己 (D) 乙、丁、戊
- 下列關於乙區和戊區自然環境及傳統維生方式的差異何者為『非』？
(A) 戊區兼營農業和畜牧業
(B) 年雨量 250mm 為其分界線
(C) 戊區的傳統產業為山牧季移
(D) 乙區的傳統產業為逐水草而居
- 請問關於甲區和丙區的主要農作物下列何者『錯誤』？

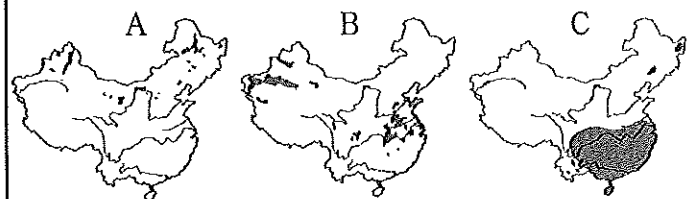
分區與類型	甲區	丙區
(A) 糧食作物	小麥	稻米
(B) 農田景觀	旱田	水田
(C) 紡織材料	棉花	蠶絲
(D) 製糖作物	甘蔗	甜菜

- 農作物生長忌霜凍，因此習慣上以『無霜期』來界定生長季，請問關於中國無霜期的敘述下列何者正確？

- 無霜期由甲區向丙區遞增
- 無霜期由甲區向丙區遞減
- 無霜期由丙區向丁區遞增
- 無霜期由乙區向甲區遞減

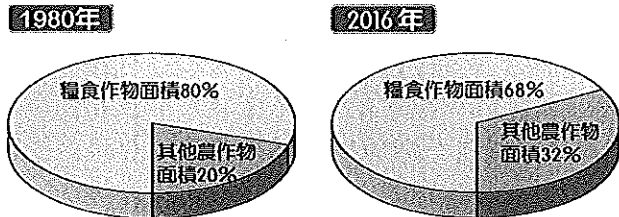
- 請問前往哪一區可以看到當地的牧民為了適應生活環境帶著牲畜垂直四季移動，在合適的季節上山、下山？
(A) 甲 (B) 乙 (C) 丁 (D) 戊
- 承上題，請問當地牧民通常在什麼季節會帶領著自己的牲畜開始移居山上牧場？
(A) 春 (B) 夏 (C) 秋 (D) 冬
- 承上題，請問此種地區的這種畜牧方式最可能養的牲畜回下列哪一種？
(A) 犛牛 (B) 駱駝 (C) 雞鴨 (D) 豬隻
- 若想看到一望無際的棉花田並體驗許多國內移工趕忙到此協助採收棉花的盛況，請問需要前往附圖中哪一個區域？
(A) 乙 (B) 丙 (C) 丁 (D) 戊
- 庫爾班是乙區的農民，他使用高山融化雪水灌溉來種植瓜果及其他作物，他對於土地的利用十分精細、集約，請問他的農業類型是屬於下列哪一種？
(A) 河谷農業 (B) 綠洲農業
(C) 游耕農業 (D) 地中海型農業

- 請問關於 A、B、C 三張中國農作物分布圖的敘述下列何者『錯誤』？



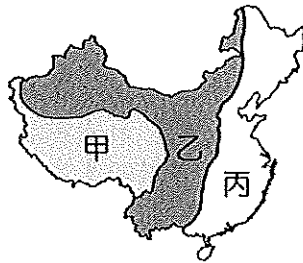
- A 圖為耐旱、耐鹽鹼的甜菜
 - B 圖為收成季忌降雨的棉花
 - C 圖為性喜溫暖潮濕的水稻
 - 均呈現中國經濟作物的分布
- 中國改革開放後，農牧業均面臨轉型，請問受到全球化浪潮影響下的中國傳統農牧業產生的改變下列何者為『非』？
(A) 高價值作物種植面積增加
(B) 大規模企業化經營並外銷
(C) 商業性轉型為自給性農業
(D) 作物分布因科技出現變化

13. () 觀察下列兩張圓餅圖可以發現隨著時間的推進，糧食作物面積比例逐漸下滑，請問造成此變化的主要原因為下列何者？

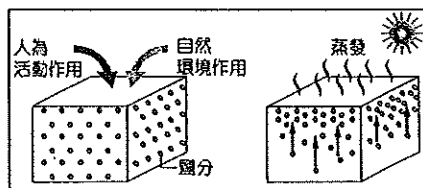


- (A) 作物種類隨著市場需求而改變
 (B) 商業化畜牧業興起排擠農用地
 (C) 一胎化政策導致人口數量減少
 (D) 暖化及污染嚴重干擾農業生產

38 中國各地形區因自然條件差異，產生不同的土地利用方式，也衍生了不同的環境問題，請依附圖回答第 14~24 題：



14. () 中國土地退化問題愈漸嚴重已影響到民生經濟，主要導因於土地沙漠化、土壤鹽鹼化、水土嚴重流失等問題，請問這些問題主要發生在附圖的哪一級階梯？
 (A) 甲 (B) 乙 (C) 丙 (D) 全區均有
15. () 承上題，請問此區會出現土地退化問題除了人類干擾外，主要是因為其自然條件具有哪項特色？
 (A) 凍土遍布 (B) 乾燥少雨
 (C) 土壤貧瘠 (D) 洪水肆虐
16. () 此區放眼望去千溝萬壑，地面被切割得支離破碎，為中國水土流失最嚴重的地形區，請問為下列何者？
 (A) 甲區的青藏高原
 (B) 乙區的黃土高原
 (C) 乙區的雲貴高原
 (D) 丙區的東南丘陵
17. () 請問附圖所示的環境問題主要是因為人類哪項活動所導致？
 (A) 過度放牧 (B) 過度灌溉
 (C) 施肥過量 (D) 超抽地下水

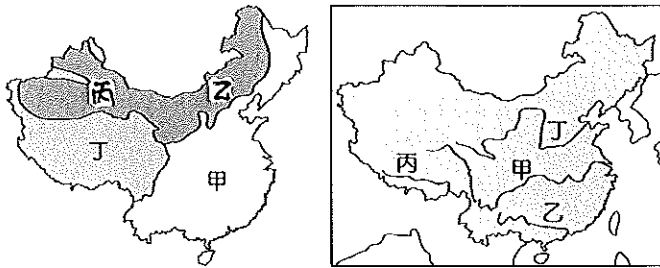


18. () 大範圍的『凍土』分布使得此區環境脆弱，交通及經濟建設均因此面臨重重困難，請問此環境問題主要位於附圖哪一區？(A) 甲 (B) 乙 (C) 丙 (D) 全區均有
19. () 中國空氣污染問題嚴重，其中『沙塵暴』為一種季節性反覆出現的嚴重空氣污染，且近年來有更加嚴重的趨勢，請問此『污染源』主要從附圖中的哪一個區域擴散出去？
 (A) 甲 (B) 乙 (C) 丙 (D) 全區均有
20. () 承上題，請問此種季節性反覆出現的污染除了和地表狀態最相關外，還與下列哪一種氣候條件關係最密切？
 (A) 冬季西北季風 (B) 夏季東南季風
 (C) 春季滯留鋒面 (D) 熱帶性低氣壓
21. () 中國政府為了解決嚴重沙塵暴帶來的環境污染問題，執行了許多因應政策，請問下列哪一項措施並非針對此問題？
 (A) 退耕還牧 (B) 設置防護林
 (C) 南水北調 (D) 強化水土保持
22. () 請問中國政府為解決附圖中丙區嚴重的土地資源問題，採取下列哪些策略？
 (A) 退耕還牧 (B) 圍湖造田
 (C) 種防風林 (D) 退田還湖
23. () 附表為世界主要國家可耕地面積以及人均可耕地面積相關數據資料比較表，請問中國主要的可耕地分布在附圖中的哪一區？

國家	可耕地面積 (萬公頃)	人均可耕地面積 (公頃/人)
世界	142,592	0.19
印度	15,646	0.12
美國	15,226	0.47
中國	11,900	0.09
澳洲	4,612	1.93
法國	1,848	0.28

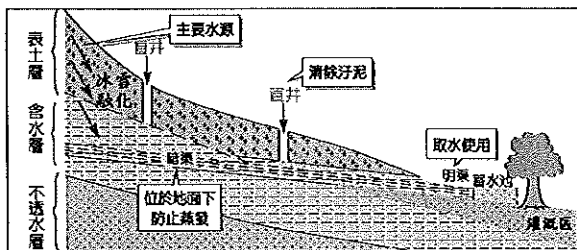
- (A) 甲 (B) 乙 (C) 丙
24. () 承上題，請問哪一個國家的環境負載壓力最高，其生態環境因此面臨重大危機？
 (A) 印度 (B) 美國 (C) 中國 (D) 澳洲

38 中國幅員遼闊，各地氣候條件差異極大，因此孕育出不同的地表景觀與產業特色，請針對以下附圖回答第 25~33 題：



圖一 中國氣候區圖 圖二 中國主要河川分布圖

25. () 中國每人平均可使用的水資源只有世界平均值的 1/3，為世界上嚴重缺水的國家之一，請問導致此情況的主要原因為下列何者為『非』？(A)水資源總量缺乏 (B)人口數量龐大 (C)水資源污染嚴重 (D)降雨時空分布不均
26. () 請問圖一中哪一區雖然水資源有限，但卻身為中國許多大河的發源地，水文特性受近年來不斷加劇的全球暖化效應影響最明顯？(A)甲 (B)乙 (C)丙 (D)丁
27. () 承上題，請問圖二中的哪一條河川受全球暖化效應的影響最小？(A)甲 (B)乙 (C)丙 (D)丁
28. () 請問圖二中哪一條河川由於流域內人口眾多、工礦商業發達，使得水資源嚴重匱乏，甚至曾出現斷流問題？(A)甲 (B)乙 (C)丙 (D)丁
29. () 承上題，中國政府為了改善此流域因缺水所導致的嚴重環境問題，使用人為的力量將河川的水資源進行調動，請問圖二中水資源調動的方向為下列何者？(A)甲→乙 (B)丁→甲 (C)甲→丁 (D)乙→甲
30. () 請問下圖的這種水利工程主要出現在圖一的哪一個地區？



(A)甲 (B)乙 (C)丙 (D)丁

31. () 附圖二甲河川的居民為了增加可耕地，不惜與湖泊爭地、圍湖造田，請問這個湖泊最可能是下列何者？(A)青海湖 (B)納木錯 (C)羅布泊 (D)洞庭湖

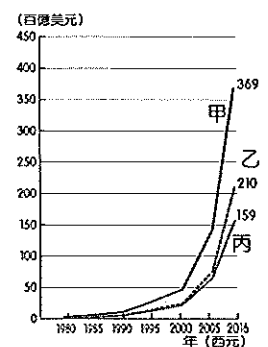
32. () 承上題，此湖畔居民圍湖造田的方法雖然獲得了額外的肥沃耕地，但卻造成下列哪一種嚴重的環境問題？(A)水質污染 (B)地層下陷 (C)水患加劇 (D)霾害嚴重
33. () 中國政府在水資源問題的解決上不遺餘力，請問圖一中哪個區域對於污水下水道及廢水處理廠興建的需求最為迫切？(A)甲 (B)乙 (C)丙 (D)丁

38 附圖為臺商對中國投資金額統計圖，請回答第 34~35 題：



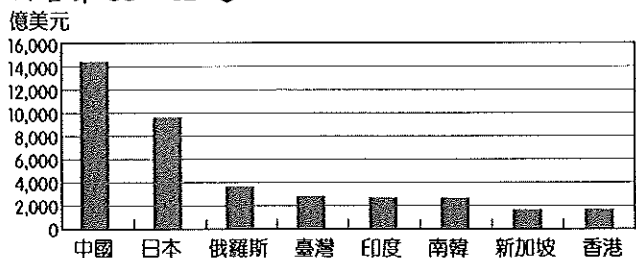
34. () 從投資金額的增減起伏可以發現自 1996~2010 年這段時間金額不斷提升，請問此階段臺商投資產業的轉變主要為下列何者？(A)資本密集→技術密集 (B)勞力密集→服務密集 (C)技術密集→資金密集 (D)勞力密集→技術密集
35. () 臺商投資中國的金額在 2010 年開始向下漸少，請問這時在大陸的臺商面對哪一種挑戰？(A)中國基本工資上漲 (B)兩岸政治局勢緊張 (C)中國排外情緒高漲 (D)臺商響應南進政策

36. () 附圖為中國國際貿易額變化圖，從圖中可以發現自 1980 年以來各項數據不斷向上提升，請問甲、乙、丙分別代表的數據為下列何者？(A)貿易總額、出口總額、進口總額 (B)貿易總額、進口總額、出口總額 (C)出口總額、貿易總額、進口總額 (D)進口總額、出口總額、貿易總額



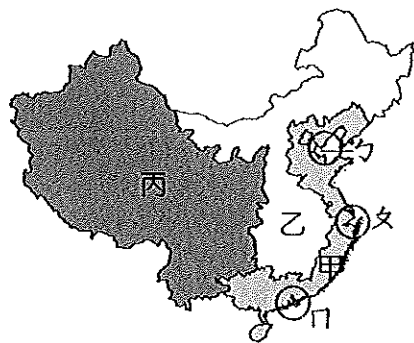
37. () 中國的哪一項優勢促使其擁有『世界工廠』及『世界市場』的稱號？(A)礦產資源豐富 (B)國土廣大遼闊 (C)人口數量眾多 (D)技術層次卓越

附圖為某年全球前八大外匯存底國家的資料，從圖中可以發現中國遠勝其他國家坐擁第一。請回答第 38~41 題：



38. () 請問中國能有今日的經濟成就主要是因為 1980 年代的哪一項經濟改革開放政策？
 (A)一帶一路 (B)振興東北老工業基地
 (C)西部大開發 (D)設立經濟特區
39. () 承上題，此一政策的推動主要是以建立哪一種類型的工業為主體？
 (A)技術密集的高科技工業
 (B)資金密集的國防軍工業
 (C)資本密集的煉鋼重工業
 (D)勞力密集的加工出口業
40. () 承上題，請問此最先實施此一政策的都市主要位在中國的哪個位置？
 (A)東北地區 (B)東南沿海
 (C)首都四周 (D)西部內陸
41. () 中國的改革開放刺激了經濟的成長，2016 年其國內生產毛額(GDP)高居世界第 2 名，但每人平均 GDP 卻僅排名世界第 74 名，請問導致此原因的主要因素為下列何者？
 (A)區域差異明顯 (B)財經政策管制
 (C)人口總數龐大 (D)產業多為外資


附圖為中國三大經濟帶及工業集中地帶(經濟圈)分布圖，請回答第 42~44 題：



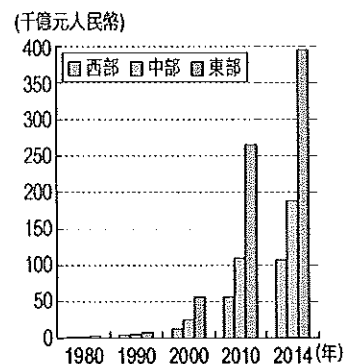
42. () 文、甲、乙三個經濟圈為帶動中國經濟發展的火車頭，請問他們依序的名稱為下列何者？
 (A)環渤海、京津唐、珠三角
 (B)環渤海、長三角、珠三角
 (C)長三角、遼中南、珠三角
 (D)京津唐、珠三角、長三角

43. () 中國三大經濟帶各自擁有發展的優勢與劣勢，請問甲區經濟能高度發展的優勢在於下列何者？(A)人口密集、交通方便 (B)礦產豐富、鄰國眾多 (C)工資低廉、人口密集 (D)位置適中、交通便利
44. () 重慶、上海及武漢分別為長江流域上重要的工商業及經貿大城，請問他們出現在附圖中的順序依序為下列何者？
 (A)甲→乙→丙 (B)乙→甲→乙
 (C)乙→甲→丙 (D)丙→甲→乙

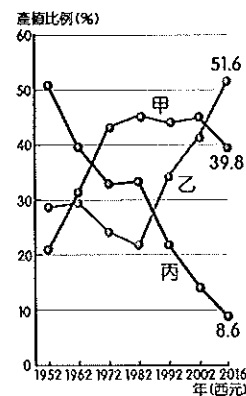
45. () 右圖中的都市位於大河出海口，位置適中、交通便利，工商業及國際貿易發達，為中國最大的都市，請問其位於附圖中的哪個位置、都市名稱為何？
 (A)文，北京 (B)文，上海
 (C)甲，廣州 (D)甲，香港



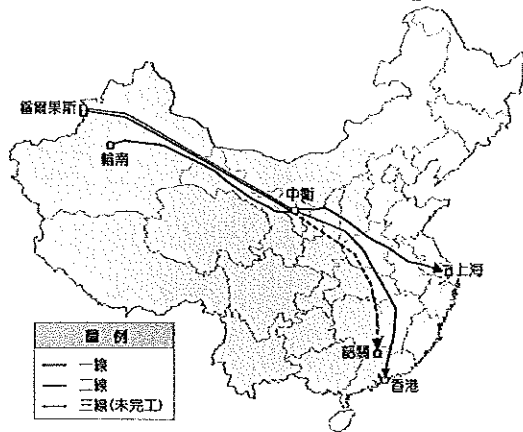
46. () 附圖為中國三大經濟帶歷年國內生產毛額比較圖，請問圖中呈現中國經濟發展的哪項特色？
 (A)區域發展不均衡
 (B)國外投資為經濟發展動力
 (C)中國為世界第一貿易大國
 (D)對外貿易以工業品輸出為主



47. () 中國經濟快速發展，成為國際上不容忽視的新興勢力，附圖為中國三級產業產值變化圖，請問甲、乙、丙依序代表哪一級產業活動？
 (A)一、二、三
 (B)二、一、三
 (C)二、三、一
 (D)三、二、一

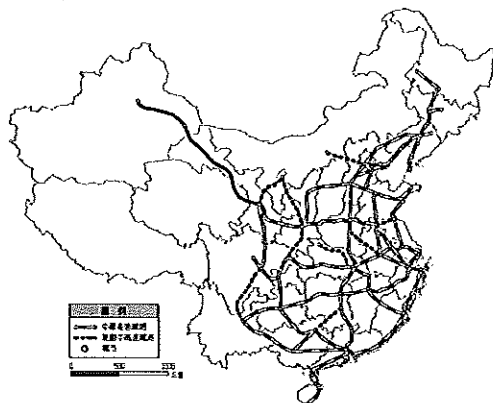


48. () 附圖為中國西氣東輸的管線圖分布圖，請問此政策的規劃與中國三大經濟帶的優劣勢分析何者的關係『最低』？



- (A) 西部豐富的能源有利於開發
 (B) 東部礦物及能源資源較缺乏
 (C) 中部資源及交通均最為落後
 (D) 資源的調配有於區域均衡

49. () 中國近年來積極發展交通運輸產業，不只在國內各地興建高速鐵路，更將事業版圖拓展到鄰近國家。附圖為中國高速鐵路分布圖，請問圖中唯一沒有高鐵分布的行政區主要是受限於哪個因素而無法鋪設？



- (A) 藏民獨立抗爭運動不斷
 (B) 海拔高多凍土興建困難
 (C) 與鄰國印度有國界爭議
 (D) 利潤太低欠缺投資誘因

50. () 中國自改革開放後，工業發展起飛快速，產值不斷攀升，為中國累積許多資本。附圖為中國東半部工業發展類型分布圖，請問導致中國工業類型如此分布的重要因素為下列何者？



- (A) 勞力資源多寡 (B) 交通方便與否
 (C) 政府政策規劃 (D) 礦產資源分布

【第 5 頁，共 5 頁，試卷結束】