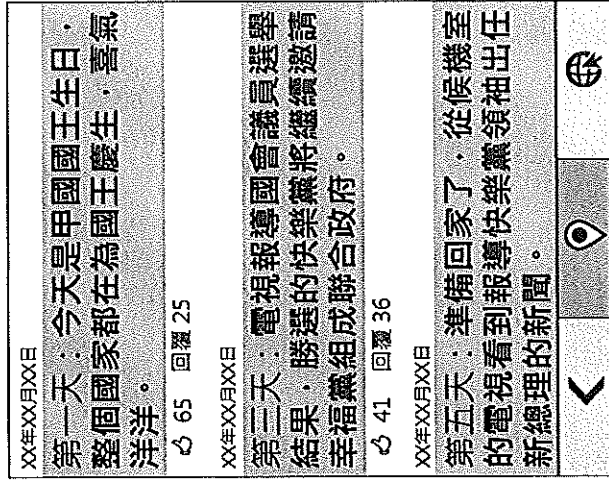


基隆市立武崙國民中學一〇八學年度第一學期第三次段考公民科試題

班級：八年 班座號： 姓名：

一、選擇題：(每題二分)

- () 1. 利益團體為了關心與自身相關的議題，通常會透過某些方式做適當的表達。下列何種方式並不適合？
(A)示威遊行 (B)賄賂關說 (C)宣傳溝通 (D)陳情遊說。
- () 2. 在我國，人民透過選舉的方式，來決定國家執政者，這顯現出民主政治的哪一項特色？ (A)政黨政治 (B)法治政治 (C)責任政治 (D)民意政治。
- () 3. 某政黨為了贏得選舉，在選舉期間買票賄選。請問：此行為違反了哪一項政黨政治的運作原則？
(A)尊重寬容，理性協商 (B)合法組黨，公平競爭 (C)服從多數，尊重少數 (D)以國家人民的利益優先。
- () 4. 在選舉過程中，如果有候選人贈送價值昂貴的禮物或是以走路費為名義，直接給選民金錢，對這樣的行為，下列敘述何者正確？ (A)可以看出一個候選人的財力與誠意 (B)選民可以收取，只要不投票給他就不算違法 (C)這是賄選的行為，且已違法 (D)這是合情合法的交際行為。
- () 5. 下列那一種選舉原則最能彰顯主權在民的精神？ (A)無記名原則 (B)普通原則 (C)直接原則 (D)平等原則。
- () 6. 相較於政黨，利益團體所表達的意見是為了保障或增進特定群體的利益。請問：下列哪一項主張最有可能是利益團體所提出的訴求？ (A)加強邦交國家的維繫 (B)刪減政府的人事經費 (C)提高工資與降低工時 (D)提升國民年平均所得。
- () 7. 西元 2018 年舉行地方公職人員選舉，下列有關此項選舉的敘述，何者正確？ (A)直轄市議員的任期一屆 4 年，連選得連任 (B)縣市長的任期一屆 5 年 (C)直轄市議員的候選人依法要年滿 30 歲 (D)鄉鎮市長的任期一屆 4 年，連選得連任。
- () 8. 在某國際會議上，甲國代表談到自己國家的政治發展情況：「我國的民意反映相當多元，有不同的小黨林立，充分反映出各階層的聲音。但唯一的缺點是總理常常換人，政策經常不連續。」根據上述內容判斷，甲國可能為何種政黨體制？ (A)一黨獨大 (B)一黨專政 (C)兩黨制 (D)多黨制。
- () 9. 立法委員的組成有許多種類，其中採政黨得票比例選出的立委為下列哪一種？ (A)區域立委 (B)原住立委 (C)不分區立委 (D)以上皆是。
- () 10. 李大銘是 3 號候選人的支持者，投票時因一時疏忽在選票上圈選了「2 號」。請問：他應如何處置才不會讓對手得票，又不會違反選舉的規定？ (甲)將圈錯的選票交給選務人員收存，不投入票匭 (乙)圈錯的選票不要投入票匭直接帶回家 (丙)將圈錯的選票交給選務人員，換取一張新的選票，重新圈選 (丁)當場將蓋錯的選票撕毀，不要投入票匭 (A)甲乙 (B)乙丙 (C)甲戊 (D)乙戊。
- () 11. 選民到指定的投票所參加投票時，漏帶了下列哪項物品是無法參與投票？
(A)印章 (B)選舉公報 (C)投票通知 (D)身分證。
- () 12. 阿德去甲國旅遊，在個人社群網站的記錄概要如右圖，根據右圖中內容判斷，下列何者最可能符合甲國的情況？ (A)實施內閣制度 (B)屬於民主共和國 (C)政黨制度為兩黨制 (D)國會最大黨為幸福黨。
- () 13. 施小姐想參加基隆市長的選舉，她必須具備下列哪一項條件才有資格參選？
(A)受過監護宣告 (B)具有雙重國籍 (C)至少年滿 30 歲 (D)通過國家公務人員資格考試。
- () 14. 由於在監督政府上扮演著重要的角色，因此被稱為行政、立法、司法三權之外的第四權。請問：第四權是指下列何者？ (A)媒體 (B)人民 (C)監察院 (D)政黨。
- () 15. 2016 年 10 月 15 日澎湖縣舉行第二次博弈公投，投票決定「您是否同意澎湖設置國際觀光度假區附設觀光賭場？」，開票結果，同意票 6210 票，不同意票 26598 票，否決了賭場的興建。請問：澎湖此次投票的性質為何？ (A)公民投票 (B)縣長選舉 (C)縣議員選舉 (D)公職人員選舉。
- () 16. 政黨輪替有助於民主的深化與鞏固，也是檢視一個國家是否民主化的標準之一。下列哪一種情況可以稱為「政黨輪替」？ (A)正義黨是該國唯一的政黨 (B)民眾黨連續兩次都在國會大選中落敗 (C)真光黨從在野黨變成執政黨 (D)全民黨已經連續三次贏得總統大選。
- () 17. 下列是有關政治參與的敘述，何者有誤？ (A)參加貢寮音樂祭 (B)參加興建「國光石化園區」公聽會 (C)走上街頭為「蘇花高速公路」請願 (D)出席候選人的造勢晚會。
- () 18. 某國的甲黨積極推動「檢討健康保險制度」的議題，針對現行制度存在的問題、理想的運作模式和可能的調整方向提出諸多討論。上述內容最能說明政黨的何項功能？ (A)主導組織政府 (B)提升民主素養 (C)推薦候選人 (D)擬定公共政策。



基隆市立武崙國民中學一〇八學年度第一學期第三次段考公民科試題

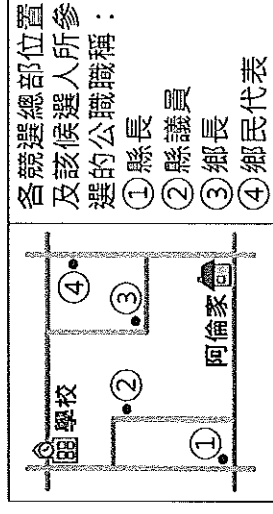
班級：八年 班座號： 姓名：

- () 19. 在我國，政黨在下列哪種選舉中贏得較多選票而獲勝後，即成為執政黨？(A)總統大選 (B)立委選舉 (C)縣市長選舉 (D)縣市議員選舉。
- () 20. 在過去的社會，只有男性才能擁有選舉權利，女性則完全沒有參與政治的權利。直到十九世紀末期，紐西蘭成為世界上第一個全面性賦予女性投票權的國家，其他國家才陸續以法律規定性別平等的政治權利。請問：國家基於性別限制人民的選舉權利，違反下列哪一項選舉原則？(A)普通 (B)平等 (C)直接 (D)無記名。
- () 21. 依據我國法律規定，選舉權的行使必須依照一定的原則進行。下列哪一項敘述符合我國法律的規定？(A)因心神喪失受監護宣告者，可由家人代為行使投票權 (B)選民投票時，祕密圈定候選人，不須書寫姓名 (C)居住在我國境內的外國籍人士，可以擁有投票權 (D)凡是達到法定年齡的我國國民，一定都具有選舉權。
- () 22. 每逢選舉之前，許多政黨常常會進行民意調查，藉此了解選民對有意參選者的支持度，並匯集意見作為辦理初選或輔選的參考。請問：政黨上述做法的直接目的為何？(A)組織政府 (B)監督政府 (C)招募新黨員 (D)提名候選人。
- () 23. 我國公職人員選舉罷免法，對於各類公職的被選舉人年齡設有規定，在不考慮其他條件的情況之下，下列關於參選各種公職人員之敘述何者正確？(A)小明年滿 28 歲，參選基隆市市長 (B)小華年滿 20 歲，參選區域立委 (C)小瑛年滿 30 歲，參選總統副總統 (D)小花年滿 26 歲，參選武崙里里長。
- () 24. 下列哪一人選的產生方式，並非採取選民「直接投票」原則？(A)總統 (B)桃園縣長 (C)立法院院長 (D)淡水鎮鎮民代表。
- () 25. 民國 85 年以前我國總統的選舉方式，是先由人民投票選出國民大會代表，組成國民大會，再由國大代表替人民投票選出總統。請問：我國以往選舉總統的方式不符合下列何種選舉原則的精神？(A)普通 (B)直接 (C)平等 (D)無記名。
- () 26. 某知名藝人返臺積極參與總統大選活動。除對外表態支持對象，並向影迷訴求共同支持該候選人，選舉當天更以私章蓋在選票上。依上所述，下列何者正確？(A)違反「普通原則」，因藝人身分與一般人有別 (B)違反「平等原則」，因身為公眾人物具影響力 (C)違反「直接原則」，因直接對民眾表達其支持者 (D)違反「無記名原則」，因選票上明顯有具名之況。
- () 27. 選舉時應該排除人情和族群因素的影響，才能理性判斷候選人的好壞。下列何人的做法符合理性判斷的精神？(A)不論是哪一黨籍，只要具備服務熱忱和良好政見的候選人，江先生就會投票支持 (B)基於省籍平衡的原則，本省籍的賴先生絕不支持外省籍的候選人 (C)身為民主黨的終身黨員，康先生向來不論候選人好壞，絕對只支持民主黨的候選人 (D)大學同學參選立法委員，彭先生不問政見內容，直接決定要投票支持。
- () 28. 嚴鵬飛老師設籍基隆市，在台中市教書，107 年地方公職人員選舉他卻無法行使投票權，其可能的原因為何？(A)教育人員不可參與政治 (B)選舉前沒有將戶籍遷至台中，因此沒有投票權 (C)選舉前忘記向戶政事務所申請在工作地投票 (D)對台中市的立委候選人都不滿意，故選擇不行使投票權。
- () 29. 政黨政治是民主國家的重要特徵。下列有關政黨與國家關係的敘述，何者錯誤？(A)一黨專政與一黨獨大制，權力集中便於統治 (B)英國和美國都是典型的實施兩黨制的國家 (C)實施一黨制的國家必然是獨裁專制國家 (D)在實施兩黨制的國家中，會出現兩個主要政黨輪流執政的情形。
- () 30. 我國對於各項公職人員或民意代表候選人的年齡有所限制，若按照各候選人的年齡由高到低排列，下列何者正確？(A)立法委員-直轄市長-鄉(鎮、市)長 (B)縣(市)長 (C)鄉(鎮、市)長-立法委員-鄉(鎮、市)長-原住民區民代表 (C)直轄市長-鄉(鎮、市)長-村(里)長-立法委員 (D)直轄市長-鄉(鎮、市)長-立法委員-原住民區民代表。
- () 31. 阿宗在班上人緣極佳，因家裡從事餐飲業，故他極力爭取擔任謝師宴主辦人。但班上多數人對於謝師宴的地點與方式與阿宗不同，且有多人欲爭取主辦。班上在投票選出謝師宴主辦人時，採取下列何項原則既可避免尷尬，且較能選出真正合適的主辦人？(A)普通 (B)平等 (C)直接 (D)無記名。
- () 32. 下列關於「一黨制」政黨體制的敘述，那一項是正確的？(A)古巴、北韓、德國就是「一黨專政制」的典型國家 (B)「一黨專政制」的政黨體制通常不會出現在實行民主政治的國家 (C)一個國家如果只准許一個政黨合法的存在，稱為「一黨獨大制」(D)由一個主要的政黨長期執政，其他小黨合法存在，卻無法與之抗衡，稱為「一黨專政制」。
- () 33. 在外地工作的新華參加國中的同學會，會中有四位同學分別談到自己最近參加的活動。請問：哪一位參加的活動是屬於「利益團體」所舉辦的？(A)甲：未婚男女聯誼會 (B)乙：無殼蝸牛露宿東區 (C)丙：縣議員選舉 (D)丁：公職人員選舉。
- () 34. 2010/11/27 直轄市市長暨市議員選舉，企業家郭台銘投的那一票的效力與徐老師投下的一票相同，請問：這符合下列哪一項原則？(A)無記名原則 (B)普通原則 (C)直接原則 (D)平等原則。
- () 35. 快樂國的國會選舉結果，沒有任何一個政黨能得到過半數的席次，在這種情況下應採用下列哪一種方式組織政府，才能維持國家及政黨間的安定與和諧？(A)採兩黨制 (B)採一黨專政制 (C)採一黨獨大制 (D)聯合其他政黨，組織聯合政府。

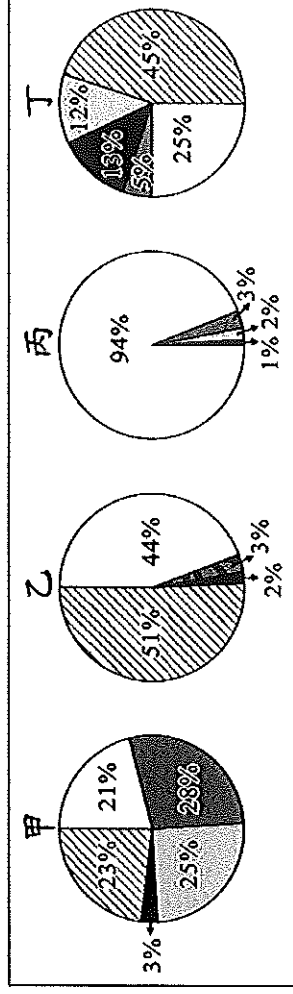
基隆市立武崙國民中學一〇八學年度第一學期第三次段考公民科試題

班級：八年 班座號： 姓名：

- () 36. 依我國法律規定，下列有關政黨成立與解散的敘述，何者正確？ (甲) 成立政黨的法源依據是人民團體法 (乙) 政黨成立須向法務部申請備案設立 (丙) 若政黨久沒運作，政府可依法廢止其備案 (丁) 政黨違憲解散事項由司法院負責審理。 (A) 甲丙 (B) 甲乙 (C) 丙丁 (D) 乙丁。
- () 37. 依據我國憲法和增修條文規定，人民享有罷免權，下列何者可由人民依法罷免之？ (A) 總統 (B) 行政院院長 (C) 立法院院長 (D) 監察院。
- () 38. 下列哪一項行政首長的「連選得連任」的次數與其他三者不同？ (A) 總統、副總統 (B) 縣(市)長 (C) 鄉(鎮、市)長 (D) 村(里)長。
- () 39. 網路部落客在社群媒體上發表他的創作繪圖，媒體未經同意轉載於電視節目中，雖然節目播映時有打出「翻攝自網路」的字樣，但網路部落客仍憤而對該媒體提告。依相關法令來看，網路部落客應是認為該媒體之作法侵害其何項權利？ (A) 著作權 (B) 商標權 (C) 專利權 (D) 隱私權。
- () 40. 某政黨在該國即將舉辦的首次公民投票前，大量發送文宣，並透過媒體說明該次公民投票的程序與意義。該政黨此種作法主要在發揮下列何項政黨的功能？ (A) 匯集民意形成政策 (B) 培養訓練政治人才 (C) 教導民眾政治知識 (D) 透過選舉組成政府。
- () 41. 孫禮仁是本屆的新科立法委員，發表聲明：「未來將結合本黨的市議員，成立聯合服務處，並設立民眾申訴專線」，請問：孫禮仁的聲明，主要是在發揮政黨的哪項功能？ (A) 服務選民匯集民意 (B) 提名候選人參與選舉 (C) 教育民眾增進民主知能 (D) 組織政府或監督政府。
- () 42. 我國透過選舉制度選出各項公職人員為民服務，請問：下列哪一項選舉活動是採取「單一選區兩票制」？ (A) 總統、副總統 (B) 立法委員 (C) 直轄市議員 (D) 縣(市)長。
- () 43. 阿倫上學途中，路過某候選人的競選總部，看到了「28歲新人，開創地方行政新氣象」的標語；放學回家，又經過另一位候選人的競選總部，懸掛著「評鑑第一名的民意代表，懇請支持連任」的布條。右圖是阿倫家周邊環境示意圖，根據圖中內容判斷，下列何者最可能是阿倫上學、放學的路線？ (A) (B) (C) (D)



- () 44. 我國於民國92年公布施行《公民投票法》，賦予人民參與公共事務的決定，這項立法的精神是在落實下列何種權力？ (甲) 選舉權 (乙) 罷免權 (丙) 創制權 (丁) 複決權 (A) 甲乙 (B) 丙丁 (C) 乙丙 (D) 甲丁。
- () 45. 109年1月11日我國將舉行第15任總統副總統選舉及第10屆立法委員選舉，請問：負責此次正副總統和立委選舉的中央主管機關為下列何者？ (A) 考試院 (B) 立法院 (C) 監察院 (D) 中央選舉委員會。
- () 46. 附圖為甲、乙、丙、丁四個國家的國會組成比例圖，顯示國會中各政黨席次的分布情況。根據圖中內容判斷，何者最可能屬於「兩黨制」？ (A) 甲 (B) 乙 (C) 丙 (D) 丁。



二、組合題：(每題二分)

1. 薛家共有5人，薛爸45歲因案褫奪公權尚未撤銷、薛媽48歲，中風昏迷受監護宣告的薛爺爺75歲，薛大權22歲大學四年級，薛明芳18歲高中三年級。請問：
() 47. 薛家共有幾個人具有選舉權？ (A) 二人 (B) 三人 (C) 四人 (D) 五人。
() 48. 薛家共有幾個人具有被選舉權？ (A) 一人 (B) 二人 (C) 三人 (D) 四人。
2. 喜樂國舉行總統大選，國內各政黨都全力以赴，爭取執政機會。選舉結果揭曉，原先在野的花豹黨獲得勝選，而執政的黑熊黨則失去政權。黑熊黨候選人坦然接受敗選結果，並向勝選者表達祝賀。
() 49. 上述選舉結果可說明下列何種理念？ (A) 政黨和解 (B) 政黨協商 (C) 政黨輪替 (D) 政黨惡鬥。
() 50. 當黑熊黨因敗選而失去政權後，接下來將負起何種職責？ (A) 編列政府預算 (B) 監督政府施政 (C) 修訂中央法規 (D) 組成執政團隊。