

基隆市立武崙國中 108 學年度第一學期 第三次段考 九年級社會領域地理科試卷

電腦讀卡，請使用 2B 鉛筆，並依據題號在答案卡上作答，答案卡無法判斷身分者，按規定將扣總分 10 分

範圍：北美洲與中南美洲

班級：_____ 座號：_____ 姓名：_____

一、單選題 (每格兩分)

- () 1. 下列文化中，何者「不」是中南美洲的古代文明？
 (A) 印加文明 (B) 馬雅文明 (C) 阿茲提克文明 (D) 巨石文明。
- () 2. 世界唯一的聯洋運河——巴拿馬運河於 1914 年開通後，北美洲東、西兩岸航運不必再繞行南美洲南端的麥哲倫海峽，節省大量時間和金錢。請問巴拿馬運河連絡哪兩個水域的交通？
 (A) 太平洋、印度洋 (B) 太平洋、大西洋 (C) 大西洋、印度洋 (D) 大西洋、加勒比海。
- () 3. 中南美洲又稱「拉丁美洲」，與該地曾受哪兩國長期殖民統治有關？(A) 英國、法國 (B) 法國、德國 (C) 荷蘭、比利時 (D) 西班牙、葡萄牙。
- () 4. 北美大平原主要是由河川沖積形成的平原區，南側有北美洲最大的三角洲。請問：此三角洲是哪條河川沖積而成？(A) 育空河 (B) 聖羅倫斯河 (C) 密西西比河 (D) 科羅拉多河。
- () 5. 某山脈是陸地上最長的山脈，也是中南美洲的地形脊梁，請問：是下列哪一座山脈？
 (A) 喜馬拉雅山 (B) 安地斯山脈 (C) 落磯山脈 (D) 阿爾卑斯山脈。
- () 6. 龍捲風是美國中南部平原地區常見的天氣災害，主要發生於哪一季節？(A) 秋末冬初 (B) 冬末春初 (C) 春、夏之交 (D) 夏、秋兩季。
- () 7. 2008 年金融風暴從美國房貸市場波及到金融市場，導致哪一個都市內的華爾街股市失業人口眾多？(A) 紐約 (B) 華盛頓 (C) 芝加哥 (D) 洛杉磯。
- () 8. 美國工業分布具有高度區域專業化現象，其中新奧爾良至休士頓一帶為煉油及石化工業的高度發展區，試判斷該區工業發展的主要區位條件為何？(A) 原料 (B) 市場 (C) 交通 (D) 勞工
- () 9. 《可可夜總會》Coco 電影的概念源於亡靈節，而亡靈節源自於中南美的阿茲提克以及當地的民族文化，與基督教儀式融合成，亡靈節在每年的 11 月 1 日 2 日兩天舉行，如果想親自看到亡靈節的慶祝習俗活動，要到下列哪一個國家？
 (A) 美國 (B) 巴西 (C) 墨西哥 (D) 委內瑞拉
- () 10. 請問：下列哪一段文字敘述，最能夠說明下表？
 (A) 都市位於山區可避洪患 (B) 都市位於山區可從事熱帶栽培 (C) 山區資源豐富，故都市建於高地 (D) 氣候較涼爽，故都市建於高地。

國家	委內瑞拉	玻利維亞	厄瓜多	哥倫比亞
首都	卡拉卡斯	拉巴斯	基多	波哥大
高度	1,030m	3,577m	2,850m	2,644m

- () 11. 據報載：「1990 年代以來，墨西哥北部邊境工業區吸引了數千家外商投資，創造了近百萬個工作機會。墨國對外商提供基礎設施及稅務等優惠，並允許免稅出口。」請問：上文敘述中墨西哥邊境工業區的發展，與該國加入下列哪一區域性經濟組織有密切相關？

(A)



(B)



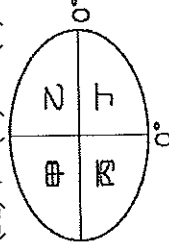
(C)



(D)



- () 12. 北美洲的颶風，主要發生於夏、秋兩季，依西太平洋颶風侵襲路徑而言，美國哪一地區最需要做好防颶風的準備？(A) 五大湖區 (B) 西北太平洋沿岸 (C) 西南太平洋沿岸 (D) 墨西哥灣及東南沿海。
- () 13. 聖保羅、布宜諾斯艾利斯可見擁擠的人潮及貧民區，和世界其他大都市欣欣向榮的景象不同。造成此景象差異的原因為何？(A) 政府都市計畫不夠周全 (B) 都市內湧入大批北美洲移民 (C) 鄉村經濟蕭條，推力太強所致 (D) 都市工商業發展所造成的拉力。
- () 14. 北美洲的三大地形主體，由東向西依序所指為何？
 (A) 安地斯山脈、北美大平原、阿帕拉契山脈
 (B) 安地斯山脈、北美大平原、落磯山脈
 (C) 阿帕拉契山脈、北美大平原、落磯山脈
 (D) 落磯山脈、北美大平原、阿帕拉契山脈。
- () 15. 美洲大陸跨越南、北半球，若與北美洲氣候類型比較，中南美洲『沒有』下列哪一種氣候類型的分布？(A) 溫帶草原氣候 (B) 夏雨型暖溫帶氣候 (C) 溫帶大陸性氣候 (D) 溫帶沙漠氣候。
- () 16. 阿姆斯壯登陸月球時，從太空鳥瞰地球，若以相關經緯線加以判斷，南美洲的地理位置主要位於下列圖中的哪一個區塊？
 (A) 甲 (B) 乙 (C) 丙 (D) 丁。



- () 17. 下列有關美洲的敘述，何者『正確』？

(A) 北美洲包括美國、加拿大與墨西哥 (B) 南美洲全境位於南半球 (C) 中南美洲目前以英語為主要語言 (D) 北美洲又被稱為盎格魯薩克遜美洲。

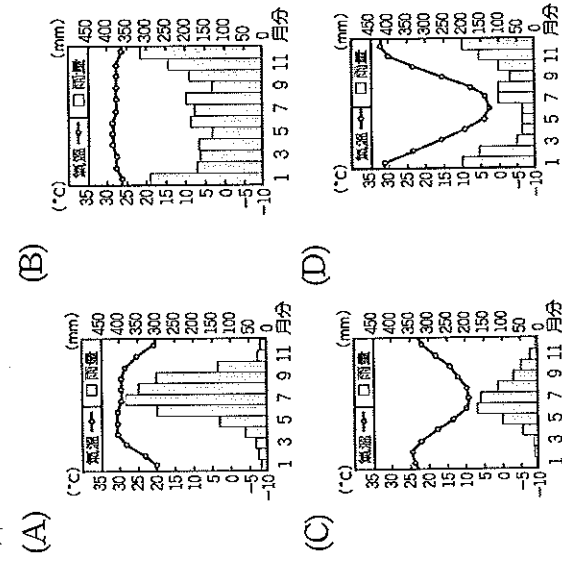
() 18. 關於加拿大的敘述，下列何者錯誤？

- (A) 首都溫哥華，亦是華人主要的分布區之一
- (B) 早期英、法移民，造成現今為雙語系國家
- (C) 聖羅倫斯河谷地為重要的工業帶
- (D) 法裔為主的魁北克省，曾多次以公民投票表決爭取獨立。

() 19. 「飛地」是國家擁有一塊與本國分離開來的領土，該領土被其他國家包圍，北美洲西北側的阿拉斯加是世界最大的飛地，請問阿拉斯加隸屬於哪一個國家？

- (A) 美國 (B) 加拿大 (C) 巴西 (D) 丹麥。

() 20. 飄飄的家鄉位於南半球，而且當地冬季降雨比夏季多。下列哪一張圖最可能是飄飄家鄉的氣候資料？



() 21. 美國與加拿大邊界的五大湖，是全球面積最大的淡水湖群，有「北美洲地中海」之稱。請問：五大湖形成的原因與下列哪一種海岸地形形成原因「相同」？(A) 台灣的岬灣海岸 (B) 挪威的峽灣海岸 (C) 希臘的谷灣式海岸 (D) 琉球嶼的珊瑚礁海岸。

() 22. 中美洲的地形從北到南為墨西哥高原、中美地狹、西印度群島，大致呈現『由完整到破碎』的地形景觀，與亞洲某地區相仿。請問該地區應該為何？(A) 西亞 (B) 南亞 (C) 東南亞 (D) 東北亞。


() 23. 1912年4月15日鐵達尼號因撞到冰山，在加拿大紐芬蘭外海640公里處沉船。據科學家研究，當年這些冰山主要來自格陵蘭，並順著哪一道洋流南下所致？(A) 墨西哥灣流 (B) 拉布拉多寒流 (C) 阿拉斯加洋流 (D) 加利福尼亞涼流。

() 24. 北美洲農業一向有『商業化農業』之稱，與季風亞洲『傳統稻作農業』顯然不同。研究生昂昂針對兩大農業型態做一整理表格，請幫他檢核正確的有哪幾項？(A) 甲乙丙丁 (B) 甲丙丁戊 (C) 甲丁戊己 (D) 丙丁戊己。

地區	北美洲	季風亞洲
(甲) 農場規模	大	小
(乙) 總產量	小	大
(丙) 單位面積產量	大	小
(丁) 耕作方式	耕作機械化	勞力密集化
(戊) 生產趨勢	市場導向	自給自足
(己) 風險	生產過剩	供不應求

() 25. 『狹長國』智利國土跨越多種氣候，形成不同的地理景觀。下列該國各項重要景觀，由南而北出現的正確順序為何？(甲) 終年盛行的西風 (乙) 遍野的葡萄、橄欖樹叢 (丙) 荒涼單調的沙漠 (A) 甲乙丙 (B) 乙甲丙 (C) 丙乙甲 (D) 丙甲乙。

() 26. 阿根廷境內自然景觀非常多樣化，有肥沃廣大的草原，也有高聳的山脈，因此境內的農牧業活動十分興盛。附圖為阿根廷境內的地形簡圖，請由圖中的位置加以判斷，其山脈和鄰海分別為何？(A) 安地斯山、大西洋 (B) 阿帕拉契山、大西洋 (C) 安地斯山、太平洋 (D) 落磯山脈、太平洋



() 27. 下表有關美國境內溫帶海洋性氣候、溫帶大陸性氣候及夏雨型溫暖氣候的比較，何者「正確」？

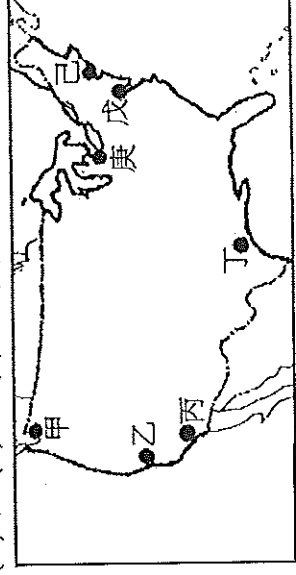
類型	(A) 分布	(B) 成因	(C) 特色	(D) 城市
溫帶海洋性	大陸西岸	西風、阿拉斯加暖流	夏雨冬乾	加拿大溫哥華
溫帶大陸性	美國東南部沿海	緯度低、墨西哥灣暖流	全年有雨	美國底特律
夏雨型溫暖	落磯山脈以東	地處內陸、背季風	溫暖濕潤	美國邁阿密

() 28. 2016年里約熱內盧成為南美洲第一個主辦奧運的城市，「為了確保旅客安全及維護形象」，巴西政府首要處理的社會問題最可能是下列何者？

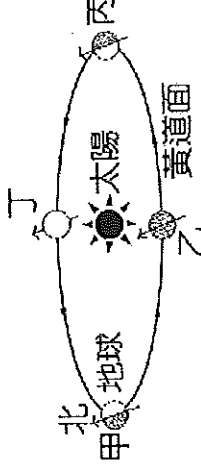
- (A) 出生率下降 (B) 貧民窟聚集 (C) 雨林過度開發 (D) 國民識字率低

() 29. 下圖中哪個城市航太與資訊業興盛，製造飛機的波音公司與軟體大廠微軟企業總部皆設於此？

- (A) 甲 (B) 丙 (C) 丁 (D) 己。

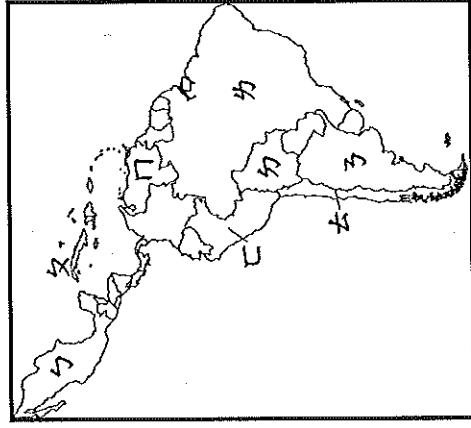


() 30. 巴拉圭為台灣在南美洲唯一的邦交國，也是台灣的對蹠點，剛好與台灣位於地球的兩端。下圖為地球公轉示意圖。在甲的位置時，北極圈內是永晝；在丙的位置時，北極圈內是永晝。請問：當地球在「乙」的位置時，「巴拉圭」的季節為何？(A) 春 (B) 夏 (C) 秋 (D) 冬。







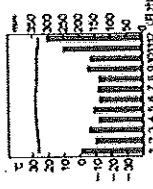
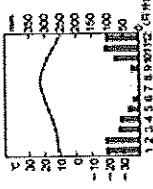
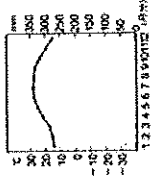
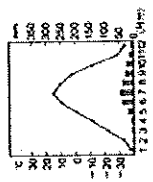
() 31. 附圖為中南美洲的行政區圖。中南美洲面積廣大，礦產資源豐富，請依據下圖選出下列國家與其著名的礦產資源配對正確者：

(甲) 鈾—錫 (乙) 鈾—石油 (丙) 圭—銅 (丁) 力—鐵礦
(A) 甲乙丙 (B) 甲丙丁 (C) 甲乙丁 (D) 乙丙丁。



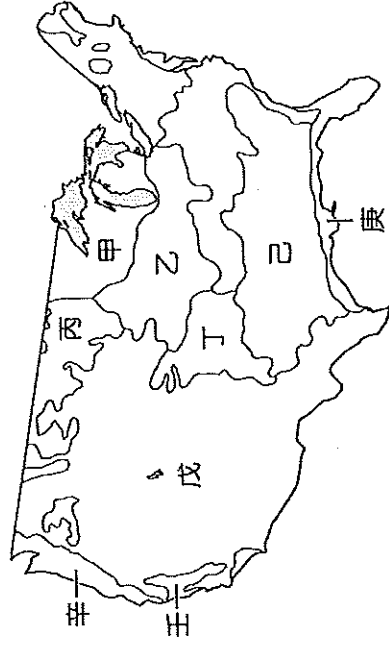
() 32. 美國加州的氣候為地中海型氣候，當地陽光充足，使得加州成為美國最大的○○農產品產區，種類繁多，幾乎南歐的主要品種，此地均有種植。請問：下列○○農產品的生產與該地氣候條件配對何者正確？

(A) 甲、卯 (B) 乙、子 (C) 丙、丑 (D) 丁、寅


(甲) 	(乙) 	(丙) 	(丁) 
(子) 	(丑) 	(寅) 	(卯) 

二、題組題 (每格兩分)

(一) 下圖為美國農業簡圖，請依據圖中資料回答下列問題：



() 33. 飄飄習慣穿著美國棉製成的衣服，買衣服時都會認明右圖的美國棉商標，其棉花的主要產地位於圖中何處？(A) 甲 (B) 乙 (C) 丁 (D) 己。



() 34. 美國境內的農業活動外銷相當興盛，為世界上重要的農業國家。請問：圖中的哪一個區域溼度大，利於牧草生長，再加上鄰近大都市，是酪農帶分布最適合的地區？(A) 甲 (B) 乙 (C) 丙 (D) 壬。

() 35. 丙、丁兩區皆種植同一種作物，但「丙區」位居大平原偏北部，依氣候條件來看，當地應是以種植何種作物為主？

(A) 冬麥 (B) 春麥 (C) 玉米 (D) 棉花。

() 36. 李安導演的電影斷背山在美國奧斯卡金像獎中勇奪最佳導演等大獎，國人皆感到榮耀。該片主要敘述在美國傳統「放牧區」中的兩個牛仔，一段禁忌的戀情。請問：該片的背景最可能位於的哪一個地區？(A) 乙 (B) 丙 (C) 丁 (D) 戊。

(二) 對台灣而言，中南美洲是我國邦交國最多的區域，如：貝里斯、巴拉圭、瓜地馬拉、聖克羅斯多福...等，經常在國際組織為台灣發聲。

() 37. 台灣和中美洲在自然環境上，有許多的相似之處。請問：下列哪一項自然特徵並『非』兩者相似的地方？

(A) 地處板塊擠壓帶 (B) 深受季風影響 (C) 平原佔比不高 (D) 氣候溫暖濕潤。

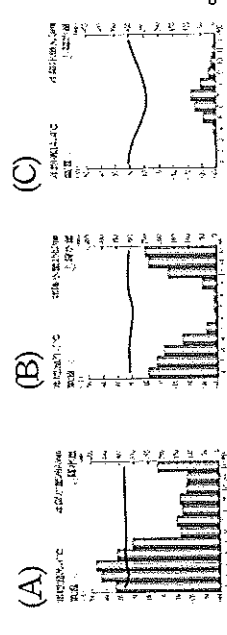
() 38. 2009年第五屆美洲國家高峰會上，委內瑞拉總統贈與美國歐巴馬總統一本書《拉丁美洲：被切開的血管》，希望他能看看拉丁美洲的真實歷史。此書揭開拉丁美洲長達500年的殖民血淚史，書中提到下列事件：(甲)來此開採黃金白銀的西班牙人，帶來了傳染病，使得當地印第安人人口銳減，(乙)故從非洲引進大量勞工以彌補不足的勞動力，(丙)並開墾土地，發展熱帶栽培業、開發礦產，(丁)幸而今日各國均已脫離殖民統治，皆擺脫歐美國家對於政治、經濟的掌控。上述事件何者有『誤』？(A) 甲 (B) 乙 (C) 丙 (D) 丁。

(三) 金磚國家，原指金磚四國 (英語：BRIC)，現指金磚五國 (英語：BRICS)，是指五個主要的新興市場國家，分別為巴西、俄羅斯、印度、中國、南非。其中巴西是拉丁美洲最大的國家，人口2.15億多，居世界第五，並擁有全世界最大的熱帶雨林。

() 39. 請問下列對於巴西的敘述，何者『錯誤』？

(A) 首都里約熱內盧是交通便利的港埠型都市
(B) 曾被葡萄牙人殖民 (C) 亞馬孫河為世界流域面積最大的河川 (D) 咖啡產量居世界首位。

() 40. 巴西的亞馬孫雨林為世界最大的雨林，下列哪個氣候圖，比較接近熱帶雨林的氣候？



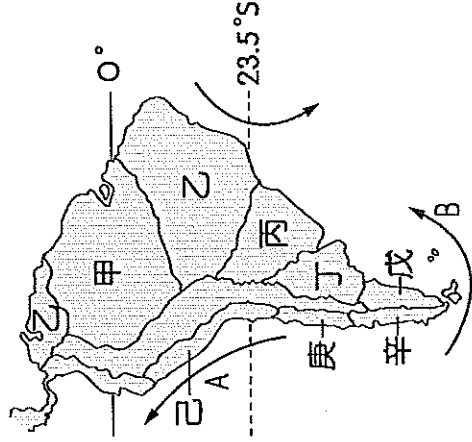
() 41. 近數十年來，巴西積極開發境內的亞馬孫河流域，卻屢遭各國批評。下列何者最可能是各國反對亞馬孫河流域過度開發的主要原因之一？

(A) 擁有廣大的針葉林，是全球木材資源的主要供應地 (B) 森林內蘊藏物種繁多，牽繫著地球的生物態平衡 (C) 下游地區有馬雅文明的遺址，是人類學研究的重要題材 (D) 流域面積廣大，支流眾多，是南美國際貿易重要的航運路線。

() 42. 環保專家已經對世界上的每個人發出警告，因為人類對熱帶雨林的破壞，加速全球暖化的速度，我們賴以維生的氧氣已經減少 1/3！請問：若這些廣大的熱帶雨林消失，日後產生的環境影響『不包括』下列何者？

- (A) 破壞動植物棲息地 (B) 造成水土流失
(C) 氣候調節功能受影響 (D) 導致土壤鹽鹼化。

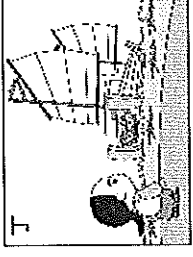
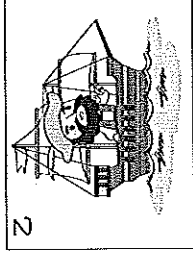
(四) 下圖為中南美洲氣候分布圖，請依圖上代號回答下列問題：



() 43. 何區受到秘魯涼流及高壓帶影響，形成乾燥的熱帶沙漠氣候？ (A) 甲 (B) 乙 (C) 庚 (D) 壬。

() 44. 圖中甲地到乙地，自然景觀可能出現哪種變化？
(A) 雨量愈來愈少 (B) 地勢愈來愈低 (C) 氣溫愈來愈高 (D) 植被愈來愈密。

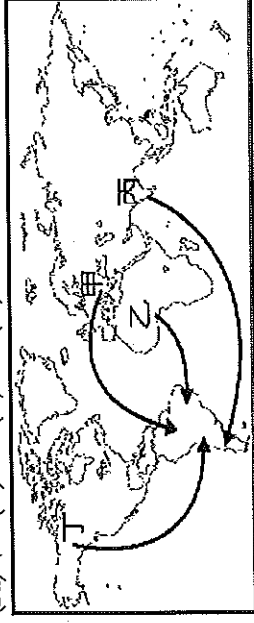
(五) 美國被稱為民族拼盤，世界各地不同民族來到這片新大陸，開創屬於自己的天地，下圖為《美國族群研究》一書所提及的主要族群。請問：



() 45. 美國境內族群多元，上圖中甲圖的美國原住民為何？ (A) 印地安人 (B) 拉丁人 (C) 盎格魯撒克遜人 (D) 麥士蒂索人。

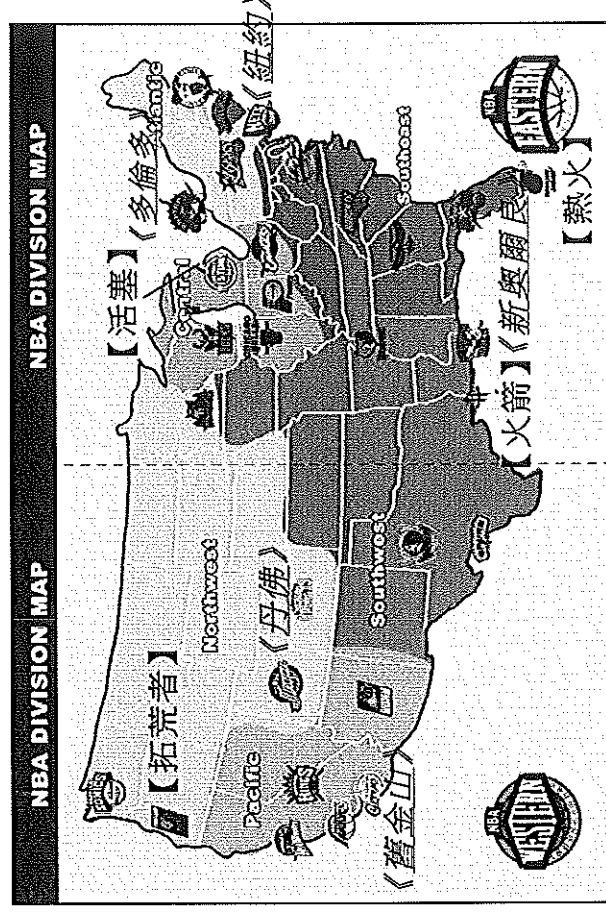
() 46. 歐洲殖民統治都為了彌補勞力的短缺，曾引進許多身體強健的勞工，因此在文化上呈現極為多元的特質。如中南美洲與美國南方都曾利用丙圖中的黑奴生產大量農產品出口歐洲。下圖中的哪一條路線是當時歐洲人引進勞工的主要路線？

- (A) 甲 (B) 乙 (C) 丙 (D) 丁



() 47. 今日美國具備多元族群的文化特色，藉由其強大的經濟實力，將美式文化的生活方式推廣至世界各地。請問：常見的美式文化中『不包括』下列何者？ (A) 星巴克咖啡 (B) 大聯盟職棒 (C) 麥當勞速食餐廳 (D) 寶來瑪電影。

(六) 下圖為美國籃球協會(NBA)各球隊所在地的分布圖。每支球隊的特色及風格也反映出所在城市的不同意義。請依下圖回答下列問題：



() 48. 火山活動雖帶來恐懼，但它所生成的產物「金礦」，卻讓人為之瘋狂！十九世紀美國的淘金熱吸引大量人口到現在的黃石國家公園附近淘金。請問：圖一中哪個都市最可能有金礦？
(A) 新奧爾良 (B) 多倫多 (C) 丹佛 (D) 紐約。

() 49. 「休士頓，我們有麻煩了。」(Houston, we have a problem.) 是 1970 年美國太空人執行阿波羅 13 登月任務時，因飛行器故障所留下的經典名言。當時太空人緊急呼叫的地方，就位於休士頓的太空總署 NASA。請問：哪支球隊代表這座城市？
(A) 活塞 (B) 火箭 (C) 熱火 (D) 拓荒者。

() 50. 青青到舊金山 (120°W) 自助旅行，雖然她沒有機會到紐約 (75°W) 麥迪遜廣場花園球場觀看 1 月 2 日晚七點半『紐約尼克隊和拓荒者隊』的比賽，但在舊金山的運動餐廳觀看球賽的現場直播也是另一享受。請問：準時開打的球賽，青青在舊金山要幾點開始鎖定呢？ (A) 下午四點半 (B) 晚上五點半 (C) 晚上七點半 (D) 晚上八點半。