
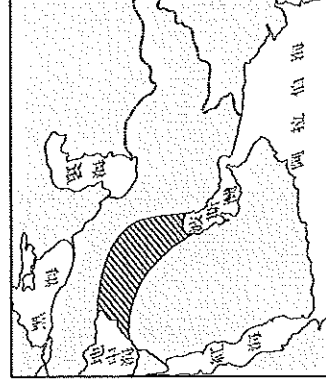




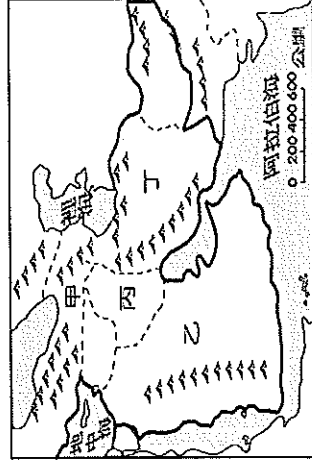
- ( ) 14. 歐洲是世界人口分布最平均的一洲，這種現象與下列哪項因素關係最密切？  
 (A)地形和氣候 (B)位置和資源  
 (C)氣候和經濟發展 (D)地形和農業發展。



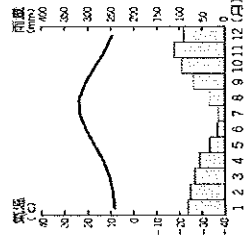
- ( ) 15. 中亞的哈薩克國旗如右圖所示，右圖中的太陽及翱翔的老鷹展翅，反映出當地的自然環境。請問：哈薩克陽光普照，少有陰雨的主要原因為何？ (A)位居內陸 (B)位背風坡 (C)地勢高聳 (D)高壓籠罩。
- ( ) 16. 在沙烏地阿拉伯境內居住著約100萬名貝都因人，在西元7世紀以前是阿拉伯半島最大的族群。至今貝都因人仍居住在帳篷內，生活高度依賴駱駝，飲用駱乳解渴，駝肉可以充飢，駝皮可以做衣服，駝毛可以做帳篷，駝糞可以做燃料，營養、運輸、貿易無一不依靠駱駝，因此貝都因人又自稱駱民。經由敘述，請問：貝都因人以哪一種生活方式為主？ (A)灌溉農業 (B)跨國貿易 (C)工業 (D)畜牧。
- ( ) 17. 歐盟的成立，對於歐洲各國經濟幫助頗大，會員國間的合作不包括下列哪一內容？ (A)工業產品規格統一 (B)勞工可自由流通 (C)使用共同貨幣 (D)軍事聯盟。



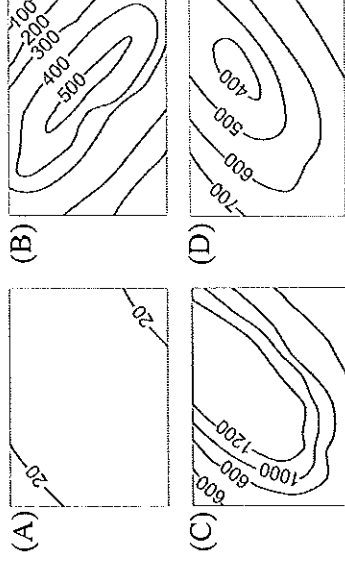
- ( ) 18. 西亞人口集中的精華區分布如右圖斜線部分，此區也曾出現過輝煌文明。請問：這和該地區位在下列哪一個地形區關係最大？  
 (A)阿拉伯高原 (B)美索不達米亞平原  
 (C)伊朗高原 (D)安那托利亞高原。
- ( ) 19. 承上題，該地形區土壤肥沃、水源充足，為古老的巴比倫文明孕育之地，素有肥沃月灣的稱呼，該平原主要分布於現在哪一國的疆域內？  
 (A)阿富汗 (B)伊朗 (C)伊拉克 (D)土耳其。
- ( ) 20. 阿爾卑斯山脈是歐洲最高的山脈，山間有許多谷地，為南北間的天然孔道。請問：這些「天然孔道」主要是指什麼？  
 (A)河蝕作用的V型谷 (B)斷層作用的裂谷  
 (C)溶蝕作用的岩溝 (D)冰蝕作用的U型谷。
- ( ) 21. 下圖是西亞各區的簡圖，各區自然環境不同，因此形成不同的農業活動類型。有關西亞各區農業灌溉方式的敘述，何者最為正確？  
 (A)甲—海水灌溉 (B)乙—河水灌溉  
 (C)丙—地下水井灌溉 (D)丁—坎井灌溉。



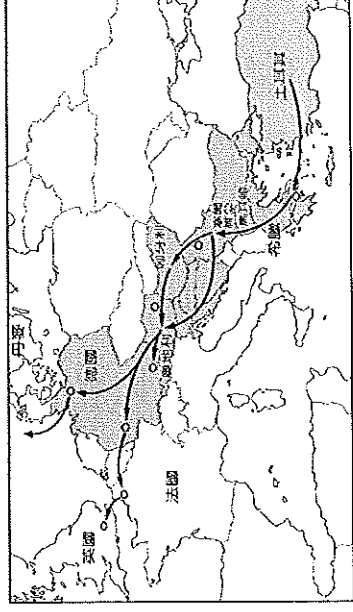
- ( ) 22. 中亞因過度發展農牧業，大量引水灌溉，造成下列何種環境問題日益嚴重？ (A)土石流 (B)水患嚴重 (C)地層下陷 (D)土壤鹽鹼化。
- ( ) 23. 飄飄暑假到土耳其旅行，因此蒐集了土耳其氣候的資料，以準備所需要攜帶的衣物行李。發現土耳其沿海旅遊地的氣候資料如附圖所示。請問：該氣候圖最可能是哪一種氣候？  
 (A)溫帶沙漠氣候 (B)熱帶沙漠氣候  
 (C)溫帶地中海型氣候 (D)溫帶海洋性氣候。



- ( ) 24. 據新聞報導：「以色列對加薩走廊進行了五波空襲，主因是巴勒斯坦人對以色列南部發射數十枚火箭炮和迫擊砲，因此以色列展開這項空襲行動。」以色列和巴勒斯坦的衝突不斷，主要與下列何者無關？ (A)宗教信仰 (B)民族糾紛 (C)爭奪石油 (D)領土糾紛。
- ( ) 25. 下列哪個等高線地形圖，最接近西亞的主體地形？



- ( ) 26. 中東及非洲的難民為逃避國內戰亂與饑餓，紛紛跨海到歐洲尋求庇護，引發 21 世紀的難民潮。下圖為當地難民主要移動的路線，當中所經過的地形區中不包括下列何者？  
 (A)歐洲大平原 (B)安納托利亞高原  
 (C)斯堪地那維亞半島 (D)巴爾幹半島。

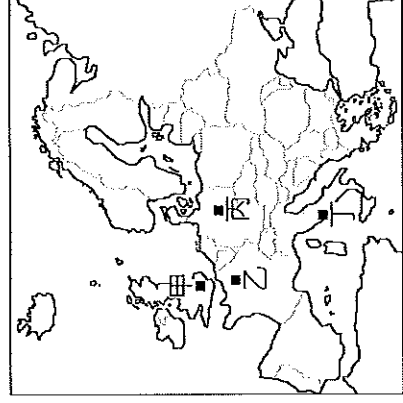


- ( ) 27. 下列哪一項不是歐洲國家目前主要面臨的人口問題？ (A)扶養比提高 (B)少子化現象 (C)高齡化現象 (D)人口分布非常不均。
- ( ) 28. 昂昂在歐洲的免稅商店買一個背包送給女友，要價 100 歐元，依右圖中的匯率來看，這個背包換算臺幣是多少錢？  
 外幣 臺幣  
 1 \$(USD) = 33.69  
 1 €(EUR) = 36.95  
 1 £(GBP) = 48.63  
 1 ¥(CNY) = 5.09
- (A) 3695 元 (B) 3369 元 (C) 509 元 (D) 4863 元。

- ( ) 29. 下表是 2003 年世界國民平均所得前 10 名的國家，請由表中資料研判，國民平均所得較多的國家，除美國、日本外大多集中在歐洲的哪兩大地區？(A)北歐、南歐 (B)西歐、北歐 (C)北歐、東歐 (D)東歐、西歐。

名次	國家	名次	國家
1	盧森堡	6	丹麥
2	挪威	7	冰島
3	瑞士	8	瑞典
4	美國	9	英國
5	日本	10	芬蘭

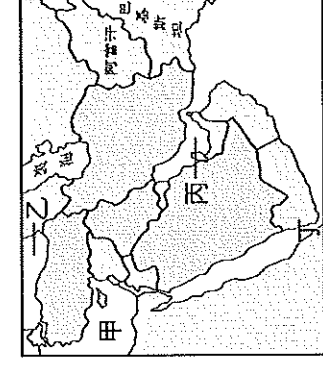
- ( ) 30. 2016 年發生了震撼全球經濟的大事—「某國」於公民投票後，決定脫離歐盟。「某國」脫離歐盟的主要理由如下。請問：「某國」位於右圖中何處？(A)甲 (B)乙 (C)丙 (D)丁。



1. 可自由與他國簽署貿易協定，不受整體歐盟規範。
2. 避免來自東部遠方的難民跨海進入。
3. 停止繳納歐盟會費，經費自行運用。
4. 恢復大航海時代的貿易榮景，避免歐陸的經濟衰退。

## 二、題組題 (每題 2 分，共 40 分)

- (一) 壯壯受邀前往阿拉伯聯合大公國擔任觀光大使，並安排在當地的杜拜帆船飯店度假。請問：




- ( ) 31. 號稱全世界最豪華的七星級飯店，位在波斯灣的人工島嶼上，不論安全、設施、景觀、裝潢，甚至服務均讓人嘆為觀止。請問：此飯店應「接近」於附圖中的何處？

(A)甲 (B)乙 (C)丙 (D)丁。

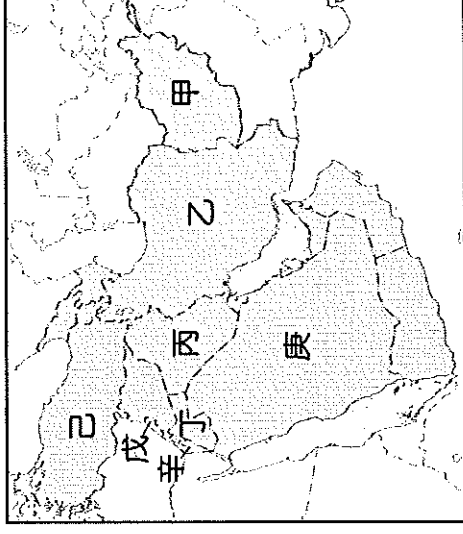
- ( ) 32. 若要到杜拜探訪當地風俗民情，壯壯衣著上最好參考下列哪一張圖，好適應當地的天候型態，也較能入境隨俗？

(A) (B) (C) (D)



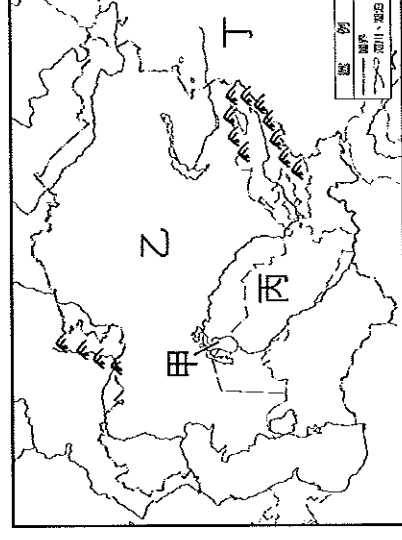
- ( ) 33. 杜拜從一個小漁村躍升為國際知名的度假勝地，每年吸引超過五百萬人次以上的遊客。請問：杜拜的經濟其經濟結構轉變的主因為何？(A)石油的開發 (B)煤礦的開採 (C)國土的西移 (D)運河的興建。

(二) 附圖是西亞國家分布圖。請問：



- ( ) 34. 飄飄暑假到土耳其旅遊，圖中哪個國家地跨歐、亞，交通位置重要，有「歐亞陸橋」之稱？(A)甲 (B)乙 (C)丙 (D)己。
- ( ) 35. 伊斯蘭教徒每日需面向聖地麥加朝拜五次。請問：聖地「麥加」位於附圖哪個國家內？(A)乙 (B)丙 (C)庚 (D)辛。
- ( ) 36. 圖中哪個國家是古波斯帝國所在地，瀕波斯灣，石油蘊藏豐富？(A)乙 (B)丙 (C)戊 (D)庚。
- ( ) 37. 附圖中，哪兩個國家因爭奪約旦河的水資源主權，自西元 1976 年以來爆發多次衝突？(A)甲、乙 (B)乙、丙 (C)丙、戊 (D)丁、辛。

(三) 下圖為中亞地區簡圖。請問：



- ( ) 38. 乙國礦產豐富，是本區工礦業最發達的國家，其名稱是下列何者？(A)土庫曼 (B)塔吉克 (C)哈薩克 (D)烏茲別克。
- ( ) 39. 中亞位居內陸，豐富的油氣資源部分以輸油管賣給相鄰的丁國，以位置來看丁國應是下列哪個國家？(A)日本 (B)中國 (C)印度 (D)俄羅斯。
- ( ) 40. 中亞的河流大多源自高山融化的雪水，屬於內流河。中國哪條河流與中亞河流性質最相似？(A)塔里木河 (B)雅魯藏布江 (C)長江 (D)黃河。
- ( ) 41. 中亞地區過度引河水灌溉，造成注入圖中「甲」湖泊的水量減少，使得湖泊面積日益縮小。請問：「甲」指的是哪個湖泊？(A)鹹海 (B)裏海 (C)黑海 (D)紅海。

( ) 42. 附圖為 BBC 新聞報導，報導中烏茲別克違法利用童工採收的經濟作物為何？

(A) 椰棗 (B) 葡萄 (C) 棉花 (D) 橄欖。

#### BBC 新聞報導

#### 違法利用童工採收作物!!!

烏茲別克每天大約有 150 萬到 200 萬兒童被迫中斷學業，而到田裡採收作物，這項經濟作物是烏茲別克的主要出口品，消息一傳出，引發國際各大品牌的抵制使用。

(四) 關於下面這則新聞報導與地圖，請問：

#### 美軍幫庫德族軍隊 奪回摩蘇爾水壩

伊拉克北部「庫德族」戰士在美軍戰機的支援下，力抗激進武裝組織「伊斯蘭國」的攻勢，並且奪回重要的基礎建設「摩蘇爾水壩」。一名庫德族將領表示，水壩沒有受到破壞，運作正常。

奪佔伊拉克北部大片土地的武裝團體「伊斯蘭國」近日遭到庫德族戰士激烈抵抗，庫德族在美軍戰機轟炸的協助下，大幅減弱了「伊斯蘭國」的攻勢，並且奪回了這個月稍早被「伊斯蘭國」攻下的重要建設「摩蘇爾水壩」。

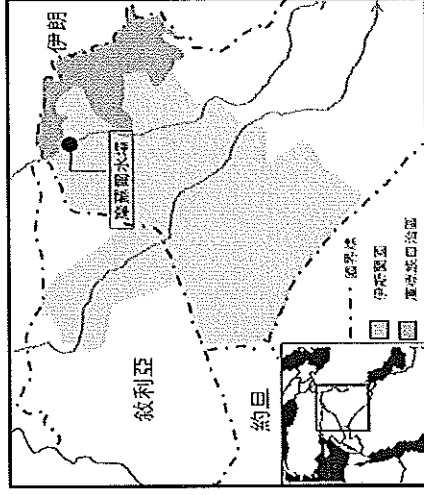
摩蘇爾水壩是伊拉克最大水壩，蓄水及發電量能供應全國大部分地區，庫爾德族部隊成功重奪水壩控制權，是對付伊斯蘭國武裝分子的重大勝利。

美國記者 佛里報導 2014. 8. 17

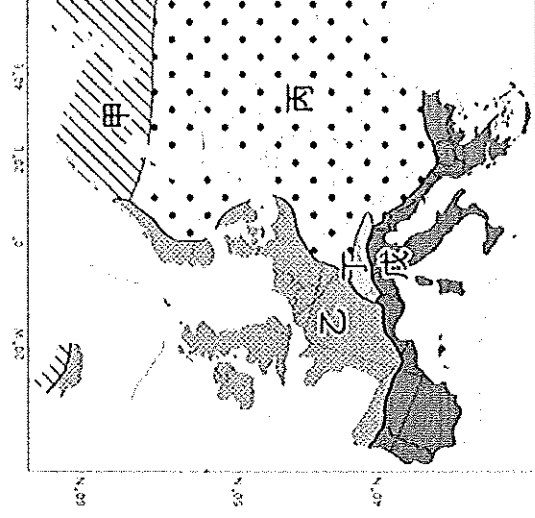
( ) 43. 美國戰地記者佛里為傳達戰爭中民眾的聲音與境遇，身單力薄深入伊斯蘭國，在那裡他感到空氣極度乾燥，為此還常流鼻血。請問此氣候特徵的原因為何？ (A) 距海遙遠 (B) 高壓壟罩 (C) 地形封閉 (D) 背西風。

( ) 44. 美國戰地記者佛里在報導當地民眾的過程中發現，當地多數的房屋多為厚牆、窗小的特徵，請問：這種現象和下列哪一地理因素最有關係？ (A) 利於防禦敵人 (B) 伊斯蘭教戒律 (C) 隔熱阻絕風沙 (D) 地震頻繁，穩定地基。

( ) 45. 根據下圖，若摩蘇爾水壩落入伊斯蘭國手中，亦即伊斯蘭國掌握哪一條河川？ (A) 底格里斯河 (B) 約旦河 (C) 幼發拉底河 (D) 阿母河。



(五) 下圖為歐洲的氣候類型分布圖，請問：



( ) 46. 歐洲各地區的氣候差異和其降水量的分布關係甚大。請問：圖中哪一個地區的降水量最多？ (A) 甲 (B) 乙 (C) 丙 (D) 戊。

( ) 47. 承上題，該地區的降水量分布情況，主要受到下列哪一風向的影響最為明顯？

(A) 東風 (B) 西風 (C) 南風 (D) 北風。

( ) 48. 請問歐洲沒有下列哪一種氣候類型？

(A) 寒帶氣候 (B) 大陸性氣候 (C) 海洋性氣候 (D) 沙漠氣候。

( ) 49. 若從乙氣候區往丙氣候區前進，其氣候特徵的變化為何？

(A) 年溫差越來越大 (B) 降雨量越來越多

(C) 冬溫越來越高 (D) 降雨季節分布越趨平均。

( ) 50. 飄飄在冬季前往歐洲旅行，預計到著名的高山地區欣賞雄偉的冰河地形景觀，並順道體驗滑雪的刺激。請問：他們將前往的地區位於附圖中哪一種氣候區內？ (A) 甲 (B) 乙 (C) 丙 (D) 丁。