

請用 2B 鉛筆依題號在電腦卡上作答，電腦讀卡時無法判斷身分者，扣總分 10 分。


範圍：第三冊 L.1~L.2

班級：\_\_\_\_\_ 座號：\_\_\_\_\_ 姓名：\_\_\_\_\_

### 基隆市立武崙國中 108 學年度第一學期第一次段考八年級社會試卷歷史科

#### 一、單選：(每題 2 分，共 100 分)

1. ( ) 距今至少已有八千年時間的中國新石器時代，人們已開始發展農業，當時黃河與長江流域分別以哪一種糧食作物為主？(A) 小米、水稻 (B) 小麥、番薯 (C) 水稻、玉米 (D) 粟、馬鈴薯。
2. ( ) 中國的新石器時代，居住形式以干欄式建築(如附圖)為主的文化是下列何者？



- (A) 河姆渡文化 (B) 龍山文化 (C) 山頂洞人 (D) 仰韶文化。
3. ( ) 人類由「採食」進步到「產食」的階段是在何時？(A) 金屬器時代 (B) 新石器時代 (C) 舊石器時代早期 (D) 舊石器時代晚期。
4. ( ) 大雄利用暑假遊歷中國各地，他在陝西參觀半坡遺址，在山東看到龍山遺址，在浙江尋訪河姆渡遺址。由這些遺址的分布狀況及其內容判斷，中國史前文化具有下列何種特色？(A) 多元並立 (B) 東西融合 (C) 一脈相承 (D) 南北對立。
5. ( ) 小夫歸納新石器時代人類的的生活創舉，其中不包括何者？(A) 磨製石器 (B) 用火熟食 (C) 農業生產 (D) 使用陶器。
6. ( ) 下述資料是知名歷史學者研究堯舜政權轉移所提出見解，由此推論這個制度應該為何？  
夏曾佑：「大約天子必選擇於一族之中，而選舉之權，則操之岳牧。」  
錢穆：「殆為古代一種王位選舉制之粉飾的記載。」  
郭沫若：「反映部落同盟議事會的情況。」  
(A) 禪讓制度 (B) 封建制度 (C) 宗法制度 (D) 禮樂制度。
7. ( ) 靜香為繳交歷史報告，她蒐集有關夏朝的資料，下列何者錯誤？(A) 是中國歷史上第一個君位世襲的王朝 (B) 是遠古中國從部落演進到國家型態的時期 (C) 和商、周合稱「三代」 (D) 從二里頭文化遺址，發現大

批甲骨文。

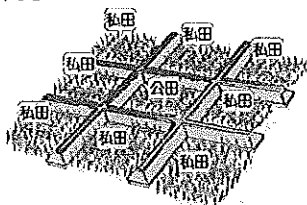
8. ( ) 為什麼夏朝會被視為中國第一個朝代？(A) 開始使用青銅器 (B) 統一各部落，發明文字、衣裳 (C) 開始了君位世襲制度 (D) 進入農耕的生活型態。
9. ( ) 《韓非子·五蠹》有記載：「民食果蓏蚌蛤，腥臊惡臭而傷害腹胃，民多疾病。有聖人作，鑽燧取火，以化腥，而民悅之，使王天下，號之曰燧人氏。」上述記載的燧人氏若依其描述情形，我們可推測其最早可能出現於中國考古學上的哪一個時代？(A) 舊石器時代 (B) 新石器時代早期 (C) 新石器時代晚期 (D) 青銅器時代。
10. ( ) 歷史課時，胖虎上臺報告說：「相傳在他的時代發明了文字、衣裳等，其不僅代表中國文化之開端，亦是中華民族的始祖。」上文的「他」是何人？(A) 黃帝 (B) 禹 (C) 舜 (D) 堯。
11. ( ) 商朝在湯建國前期曾遷都多次，直到盤庚後才停止遷徙，展開輝煌燦爛的文明。請問：盤庚最後定都於何處？(A) 殷 (B) 鎬 (C) 維也 (D) 亳。
12. ( ) 商代的工藝技術水準很高，是哪一種器具的極盛時代？(A) 鐵器 (B) 玉器 (C) 黃金器具 (D) 青銅器。
13. ( ) 商人的飲酒風氣十分盛行，由目前出土的各式各樣、極為精美的盛酒器具可見一斑。此一史實反映出商朝哪一現象？(A) 商代的農業發達 (B) 商人戰事頻繁 (C) 商人非常迷信 (D) 商朝的禮樂活動隆重。
14. ( ) 殷墟出土的文物中，最有助於我們了解商朝歷史文化，並開啟了中國「信史」階段的是下列哪一文物？(A) 青銅器 (B) 甲骨文 (C) 用作貨幣的貝 (D) 手工業作坊。
15. ( ) 今天我們有許多觀念是來自歷史的傳承，下列哪一種觀念從商代至今仍根深柢固，成為中華文化的一部分？(A) 封建思想 (B) 崇拜祖先 (C) 宗法制度 (D) 井田制度。
16. ( ) 西周建國後於各地封土建藩，大封諸侯。請問：此種政治型態屬於下列何者？(A) 封建制度 (B) 中央集權 (C) 郡縣制度 (D) 封建郡縣並行。

17. ( )周武王滅商後定都鎬，鎬即是今日的哪一座城市？(A)洛陽 (B)西安 (C)南京 (D)北京。

18. ( )西周時期制禮作樂，奠定周室王業基礎的是何人？(A)周公 (B)周幽王 (C)周武王 (D)周平王。

19. ( )西周的封建諸侯依宗法制度，其爵位由何人來繼承？(A)任何一個兒子皆可 (B)庶長子 (C)嫡長子 (D)賢能之士。

20. ( )《中國上古史》描述某一時期土地制度(如附圖)：「由貴族分配土地給農民，將田地畫一井字，周圍 8 塊為私田，由農民耕作，收穫歸農民所有，但仍要向貴族納稅。中間一塊為公田，由周圍 8 家的農民耕作，收穫要交給貴族。」請問：這應該是哪一時期的制度？



(A)夏 (B)商 (C)西周 (D)春秋時期。

21. ( )有關西周封建社會的敘述，下列何者正確？(A)貴族統治階級包括天子、諸侯、大夫和士，都是世代相傳 (B)武王藉由禮樂來確立尊卑有別的社會秩序 (C)井田制度是封建社會的經濟基礎，農民擁有土地且負擔義務 (D)宗法制度是藉由禪讓建立的統治方式。

22. ( )西周末年因寵愛褒姒而以烽火戲諸侯，導致亡國的君主是何人？(A)平王 (B)武王 (C)幽王 (D)成王。

23. ( )戰國時期，各國為求富國強兵致力改革，何國的變法奠定其後來對抗六國，統一天下的基礎？(A)楚國 (B)秦國 (C)齊國 (D)趙國。

24. ( )春秋時代，何人以管仲為相，改革內政，獎勵工商，並以「尊王攘夷」為號召，成為中原的霸主？(A)晉文公 (B)齊桓公 (C)楚莊王 (D)秦穆公。

25. ( )戰國時期提出「合縱」政策，將六國聯合為統一陣線，共同抵抗秦國的是何人？(A)商鞅 (B)蘇秦 (C)張儀 (D)李冰。

26. ( )戰國時期提出「連橫」政策，分化六國團結，再各個擊破的是何人？(A)商鞅 (B)蘇秦 (C)張儀 (D)韓非。

27. ( )戰國時代，秦國任用何人變法，推行法治，獎勵軍功，以法治取信天下，使得秦國

成為當時最強大的國家？(A)蘇秦 (B)商鞅 (C)張儀 (D)韓非。

28. ( )基督徒的處世原則有一信條是：「愛你的敵人，一如你的朋友。」這樣「兼愛」的精神，與中國哪一家學說比較接近？(A)儒家 (B)道家 (C)墨家 (D)法家。

29. ( )關於春秋五霸與戰國七雄的比較，下列敘述哪一項是錯誤的？(A)五霸代表東周前期的大勢，七雄代表東周後期的大勢 (B)五霸先後崛起，七雄同時並立 (C)五霸大多仍稱諸侯，七雄都已先後稱王 (D)五霸受制於王室，七雄掌握了實權。

30. ( )下列哪項史事可視為春秋戰國時代的重要變革？(A)土地私有制變為土地公有制 (B)世襲制變為「布衣卿相」之局 (C)思想由多元變為一元 (D)權力中心由各國諸侯轉變為周天子。

31. ( )君臣二人討論治國的方法，其對話如下——

皇帝：「如何治理國家，人民才能安樂呢？」

大臣：「國家不要太大，人口不要太多，國君要順應情勢，讓人民自然發展，不要干涉人民的生活，去除外在的拘束，人民才能安樂。」

請問：上述大臣的言論，反映出中國哪一個學派的政治思想？(A)儒家 (B)道家 (C)墨家 (D)法家。

32. ( )秦始皇廢除周朝的封建制度，改行郡縣制，郡縣的長官由朝廷任免，這項重要的改革有何影響？(A)造成了以後外戚與宦官的爭權 (B)導致藩鎮的割據 (C)使中國從此成為中央集權的國家 (D)直接引起民亂。

33. ( )下列何者不是秦始皇對中國歷史的影響之一？(A)首創帝王年號 (B)統一天下，實行郡縣制 (C)修築長城 (D)統一文字。

34. ( )中國的萬里長城是世界文化遺產之一。請問：秦始皇修築萬里長城的主要目的為何？(A)促使交通便利 (B)鎮壓六國遺民 (C)防禦匈奴入侵 (D)誇耀國力。

35. ( )秦朝國祚甚短，其迅速滅亡的原因不包括下列哪一項？(A)徵調民力戍守邊疆 (B)修築長城、宮殿和陵墓，過度耗損人力、物力 (C)政權旁落，遭外戚篡奪 (D)秦二世昏庸暴虐。

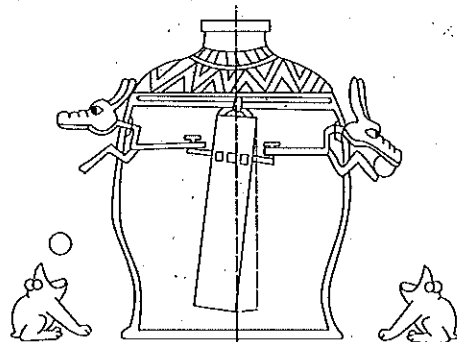
36. ( )東漢末年，規模最大的民變黃巾之亂的首腦人物是誰？(A)張衡 (B)張機 (C)張角 (D)張騫。

37. ( )黃巾之亂造成的影響為下列何者？

- (A)宦官與外戚亂政 (B)異族入侵 (C)權臣得勢 (D)群雄割據。
38. ( )下列何人以外戚的身分干政，並且篡奪王位？ (A)王莽 (B)劉秀 (C)呂不韋 (D)張角。
39. ( )哪位帝王獨尊儒術，奠定儒學在中國學術思想的正統地位？ (A)秦始皇 (B)漢武帝 (C)東漢光武帝 (D)漢明帝。
40. ( )我們下象棋時，棋盤中間可以看見「楚河漢界」四個字，其中「楚」、「漢」兩個字分別代表歷史上的哪二人？ (A)楚莊王、劉邦 (B)楚懷王、劉備 (C)王莽、劉秀 (D)項羽、劉邦。
41. ( )西漢初期國力不敵匈奴，漢高祖曾被匈奴圍困在平城，漢初因而採取哪一政策來減少雙方的衝突？ (A)邊市貿易 (B)主動攻擊 (C)和親政策 (D)聯結西域諸國。
42. ( )「絲路」的起點是下列何處？ (A)洛陽 (B)長安 (C)敦煌 (D)成都。
43. ( )在兩漢的經營下，西域成為中西商旅往來的交通要道，請問：兩漢時期曾經出使西域的使者為下列哪二人？ (A)班固、張機 (B)張騫、班超 (C)班超、張衡 (D)張騫、班固。
44. ( )北亞草原民族掠奪邊境，一直是中國歷朝的困擾。請問：草原民族南侵的最重要因素為何？ (A)外族壓迫 (B)打通西域 (C)天性好戰 (D)經濟需求。
45. ( )中共國家主席習近平於 2014 年提出「一帶一路」政策，全名稱為「絲綢之路經濟帶和 21 世紀海上絲綢之路」；其中陸路「絲綢之路」在中國歷史上，早於漢代已經開通，請問：當時開通原因為何？ (A)聯絡西域各國，抵制匈奴 (B)企圖與大秦貿易，籌措攻打匈奴的經費 (C)因國力不敵匈奴，而開通和親路線 (D)為修築馳道與萬里長城，而開通運送材料的通道。
46. ( )曹操患了「風眩」症，找來名醫治病，他建議曹操必須進行外科手術。這位名醫是誰？ (A)張衡 (B)張機 (C)華佗 (D)蔡倫。
47. ( )東漢名醫中，何人著有《傷寒雜病論》一書，並有「醫聖」之稱？ (A)張機 (B)蔡倫 (C)華佗 (D)張衡。
48. ( )東漢時期，下列哪一項科技成就，促進了教育與文化的發展？ (A)造紙術 (B)外科手術 (C)指南針 (D)印刷術。
49. ( )東漢時期，張衡發明的「渾天儀」，

可以用來解說什麼現象？ (A)天體運行的道理 (B)地震發生的方位 (C)人體經脈臟腑的位置和機能 (D)地磁偏角的理論。

50. ( )近年來世界各地地震災頻傳，令人感嘆進步科技仍無法預測地震的發生。雖然如此，中國很早就製造出測定地震發生方位的儀器（如附圖）。請問：這是何人所造？



(A)張衡 (B)張機 (C)班固 (D)蔡倫。