

基隆市立武崙國民中學 108 學年度第一學期第一次段考八年級地理科試題卷

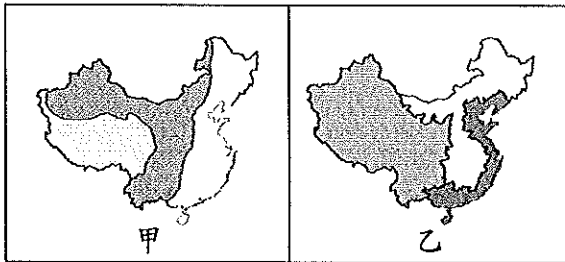
班級：

姓名：

座號：

本試卷共 50 題，每題 2 分，滿分 100 分

1. () 下列何者是影響中國黑龍江省和海南省兩地一月月均溫差異很大的主要原因？
 (A) 經度差距大 (B) 緯度差距大
 (C) 地勢落差大 (D) 距海遠近不一
2. () 請問甲、乙兩張圖的區域劃分依據分別為何？



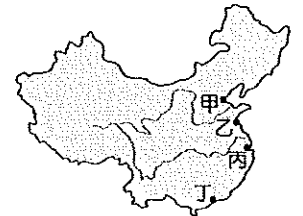
- (A) 甲：氣候分類，乙：地勢高低
 (B) 甲：經濟發展，乙：人口分布
 (C) 甲：地勢高低，乙：氣候分類
 (D) 甲：地勢高低，乙：經濟發展
3. () 中國因擁有哪項條件，使得海洋暖濕水氣得以深入內陸，孕育眾多生命？
 (A) 地勢西高東低 (B) 國土形狀完整
 (C) 地處中低緯度 (D) 疆域面積廣闊
4. () 中國歷代積極興建運河以滿足對物資運輸的強大需求，請問需要以人工運河來加強天然河運的主要因素為下列何者？
 (A) 東西向河川淤積嚴重
 (B) 缺乏南北向天然河川
 (C) 荒溪型河川流量不足
 (D) 人工運河穩定性較高
5. () 著名的京杭大運河連接中國許多重要河川，形成了便利的內河航運系統，有助於過去中國內部物資的運送和經濟的發展，請問此運河由北到南依序經過下列哪些河川？(甲)長江 (乙)黃河 (丙)珠江 (丁)海河 (戊)淮河 (己)錢塘江
 (A) 乙→戊→甲→丙→己
 (B) 丁→戊→乙→甲→丙
 (C) 丁→乙→戊→甲→己
 (D) 戊→乙→甲→己→丙
6. () 一地交通的便利性及方式深受當地地形的影響，中國某地形區的居民長久以來使用傳統交通方式『溜索』來克服地形所帶來交通上的不便，請問此地為中國哪個地形區？(A)雲貴高原 (B)青藏高原 (C)黃土高原 (D)橫斷山脈

7. () 請問諺語『一山有四季，十里不同天』是形容中國哪一個地形區？
 (A) 雲貴高原 (B) 西藏高原
 (C) 橫斷山脈 (D) 浙閩丘陵

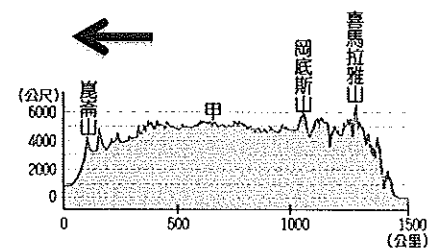
8. () 附圖為中國人口分布點圖，根據附圖請問中國人口密度最高的地區主要位於中國地勢三級階梯的哪一級？(A)第一級 (B)第二級 (C)第三級 (D)三級均有高密度人口分布區



9. () 沿海地形的差異，連帶使得產業類型有不同的發展，請問中國的海岸線主要以附圖中何地為沙岸及岩岸的分界？(A)甲 (B)乙 (C)丙 (D)丁

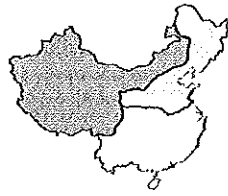


10. () 請問附圖中的『甲』為中國哪一個地形區？



- (A) 黃土高原 (B) 青藏高原
 (C) 阿拉善高原 (D) 內蒙古高原
11. () 承上題，請問箭頭所指的方位為何？
 (A) 東 (B) 西 (C) 南 (D) 北
12. () 中國由於幅員廣闊、國界線綿長，使得陸上鄰國眾多，除了在文化上影響鄰國外，也讓邊境充滿異國色彩，請問西藏地區因為哪個天然界線的阻隔使得中國和印度文化差異很大？
 (A) 橫斷山脈 (B) 崑崙山脈
 (C) 雅魯藏布江 (D) 喜馬拉雅山脈
13. () 承上題，請問中國陸上國界線綿長、鄰國眾多，除了和鄰國彼此有文化相互交流影響外，下列哪個選項是較『不容易』產生的問題？
 (A) 國界糾紛 (B) 領土爭議
 (C) 資源搶奪 (D) 領海重疊

14. () 附圖為中國三大區域圖，請問北部和南部區域的分界線為下列何者？



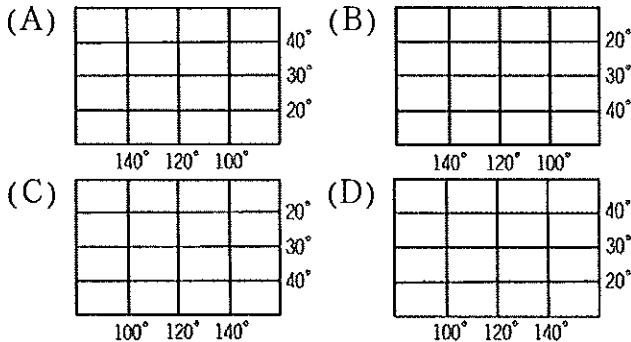
- (A) 秦嶺、淮河
(B) 黃河、海河
(C) 長江、南嶺 (D) 大興安嶺、長城

15. () 附圖為中國某地形區沿海地形景觀，請問此地形區最可能為下列何者？

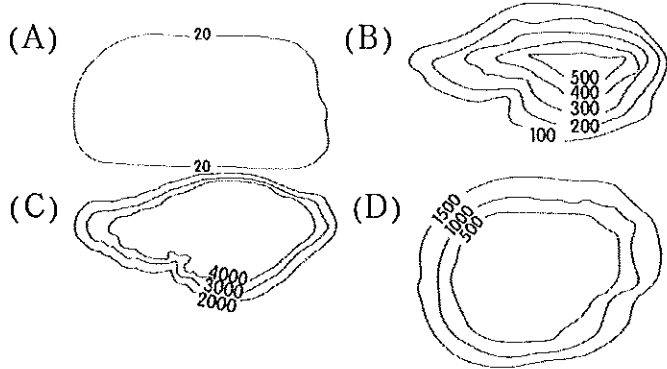


- (A) 浙閩丘陵 (B) 華北平原
(C) 珠江三角洲 (D) 雲貴高原


16. () 若要繪製中國疆域地圖，下列哪個地圖網格最為合適？



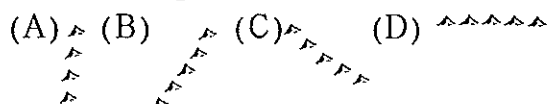
17. () 觀察中國地勢三級階梯圖，會發現第一級階梯主要以下列哪一種地形所佔比例較高？



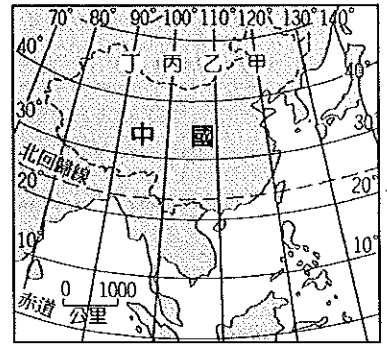
18. () 附圖為中國五大地形面積比例圖，請問在地勢三級階梯的第三階梯是以哪些地形為主體？(A) 甲、乙 (B) 乙、丁 (C) 丙、戊 (D) 丁、戊



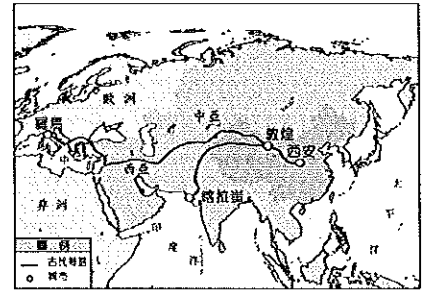
19. () 中國山地眾多，走向呈現區域差異，請問下列哪一種走向被稱為『震旦方向』、『華夏走向』？



20. () 中國面積廣大，跨越多個時區，請問中國官方統一訂定的時間是以附圖中哪一條為中央經線？(A) 甲 (B) 乙 (C) 丙 (D) 丁

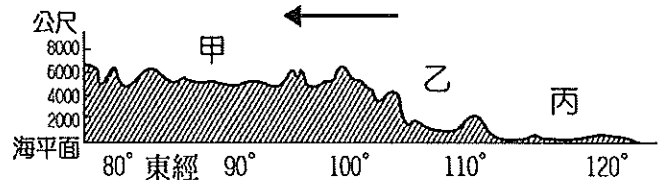


21. () 附圖為中國古絲路示意圖，今日新絲路的興起已經取代這條東西方交通往來的要道，請問新絲路主要是以何種交通方式來進行東西方的運輸？



- (A) 公路 (B) 鐵路 (C) 運河 (D) 管線

附圖為沿著北緯 30 度的中國地勢剖面圖，請回答第 22~25 題：



22. () 請問圖中箭頭走向與下列何者關係最低？
(A) 河川水流方向
(B) 人口密度遞減方向
(C) 海洋水氣深入方向
(D) 經濟發展漸趨落後方向
23. () 請問關於附圖的描述下列何者『錯誤』？
(A) 甲為青藏高原
(B) 乙為四川盆地
(C) 丙為長江中下游平原
(D) 最東側緣海為南海
24. () 請問下列何者並非甲和乙兩級階梯的界山？(A) 巫山 (B) 祁連山 (C) 崑崙山 (D) 橫斷山脈
25. () 從附圖可以看出甲、乙兩級階梯地勢高低落差大，請問下列何者與此現象關係最為密切？
(A) 礦產資源豐富 (B) 蘊藏豐沛水力
(C) 陸運交通便利 (D) 少數族群眾多

38 玉萍在退休時為自己報名參加了旅行社舉辦的『吃遍中國大江南北』行程，計畫用40天的時間透過美食來體驗中國的風土民情。下表為此趟旅行的行程安排，請回答第26~41題：

第1~2天	香港	第27~28天	首都
第3~5天	廣東	第29~30天	山東
第6~8天	廣西	第31~32天	山西
第9~11天	雲南	第33天	重慶
第12~15天	四川	第34~35天	郵輪
第16~19天	西藏	第36~37天	上海
第20~23天	新疆	第38~39天	福建
第24~26天	內蒙古	第40天	金門

26. () 旅行社提供的這40天行程，總計參訪了中國幾個少數民族自治區？

(A) 2個 (B) 3個 (C) 4個 (D) 5個

27. () 玉萍和團員在行程的一開始來到香港，除了品嚐港式飲茶、燒臘外，導遊還介紹了當地的歷史，請問香港曾被哪個國家殖民？(A) 日本 (B) 英國

(C) 西班牙 (D) 葡萄牙

28. () 玉萍在雲南吃過橋米線、汽鍋雞時發現餐廳有一幅形容當地的特殊景觀的書法，請問下列哪一句諺語最可能是此幅作品的內容？(A) 風吹草低見牛羊

(B) 蜀道難，難於上青天 (C) 上有天堂，下有蘇杭 (D) 地無三里平，天無三日晴

29. () 旅行社安排玉萍等團員在首都之旅時前往胡同品嚐精緻的宮廷餐食，並體驗知名的驢打滾、炸咯吱等傳統小吃，請問中國的首都是下列哪一個都市？

(A) 天津 (B) 北京 (C) 南京 (D) 上海

30. () 此地以火鍋和小麵聞名，導遊說此地簡稱渝，別稱霧都、山城，因夏季炎熱也被認為是中國的火爐城市，請問此時的玉萍身在旅程中的哪一個地區？

(A) 重慶 (B) 廣東 (C) 雲南 (D) 上海

31. () 【中國傳統六大地區】裡有哪一個區域是玉萍的行程完全沒有前往的？

(A) 華北 (B) 華南 (C) 東北 (D) 塞北

32. () 玉萍若考慮夏季參加此趟行程，下列哪一項物品是她不需要攜帶的？

(A) 預防高山症發作的藥品
(B) 遮陽、防曬及保濕的保養品
(C) 隨著經度差異校正時間的手錶
(D) 保暖、抗寒及方便穿脫的衣服

33. () 請問團員參訪並品嚐生煎包、清蒸鱈魚的上海是屬於哪一種類型的行政區？

(A) 省 (B) 自治區 (C) 直轄市 (D) 特別行政區

34. () 行程特別安排在某地

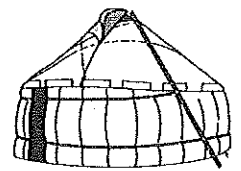
傳統建築物中(如右圖)

體驗烤全羊的盛宴，請

問此活動最可能在第幾天時出現？

(A) 第10天 (B) 第15天

(C) 第25天 (D) 第30天



35. () 在廣西，導遊特別帶團員前往景致特別的餐廳吃當地的

特色小吃螺螄粉，

並透過右圖介紹

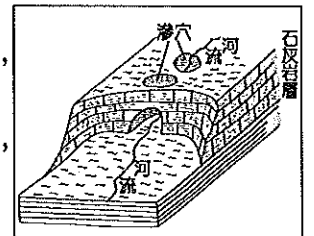
當地的特殊地景，

請問此景致是在

下列哪一種地形

作用力下形成？

(A) 溶蝕 (B) 風蝕 (C) 堆積 (D) 凍融



36. () 承上題，請問在哪一種環境下此地形的發育速度較快？(A) 高溫多雨 (B) 寒冷乾燥 (C) 溫差劇烈 (D) 強風吹拂

37. () 玉萍在第34~35天搭乘豪華郵輪前往中國繁華的沿海都市--上海，請問他們之所以能順河而下主要和下列哪一項因素關係最密切？

(A) 地勢西高東低 (B) 氣候溫和濕潤

(C) 疆域面海背陸 (D) 國土幅員遼闊

38. () 此趟旅行分別前往『山東』和『山西』，請問其中的『山』最可能指的是下列何者？(A) 秦嶺 (B) 泰山

(C) 武夷山 (D) 太行山

39. () 玉萍十分喜愛四川重口味的飲食，但當地夏季往往濕熱難耐，請問此地夏季悶濕的原因與下列何者關係『最小』？

(A) 盆地形勢封閉 (B) 盆底河道眾多

(C) 緯度相對較低 (D) 終年晴日數多

40. () 玉萍在行程的最後一天循著海路很快就從福建回到臺灣的金門，請問他最可能在哪一個都市搭船？

(A) 上海 (B) 廈門 (C) 澳門 (D) 深圳

41. () 玉萍參加為期40天的行程，依舊無法吃遍整個中國各地的特色料理，這主要是因為中國幅員遼闊，請問下列哪些國家的國土面積大於中國？

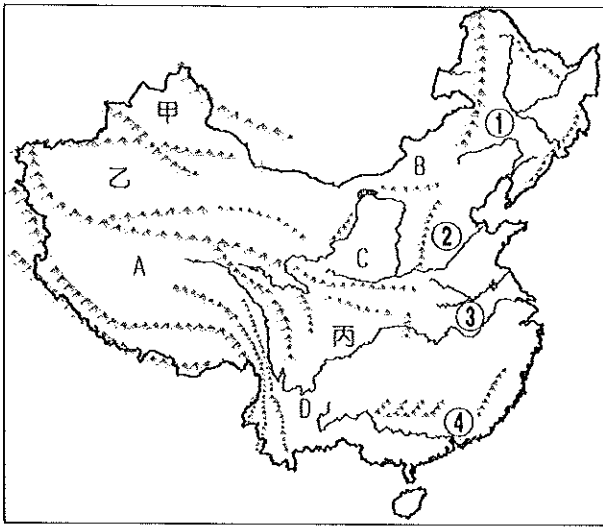
(甲) 俄羅斯 (乙) 加拿大 (丙) 澳洲

(丁) 美國 (戊) 巴西 (己) 南非

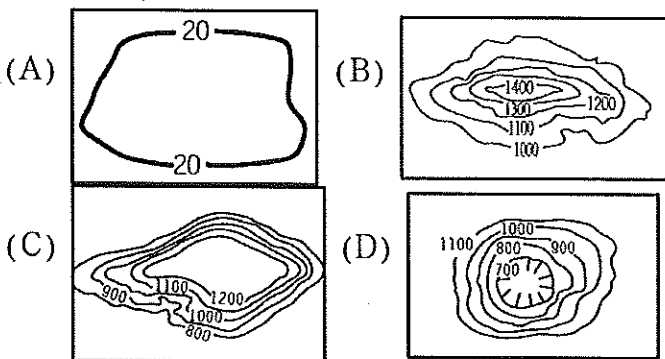
(A) 甲乙丙 (B) 甲乙丁

(C) 乙丙戊 (D) 丁戊己

98附圖為中國地形圖，請回答第42~50題：



42. () 觀察附圖，請問中國地形主要以哪兩類比例最高？(A)山地、高原 (B)山地、盆地 (C)高原、平原 (D)盆地、平原
43. () 此地因長年風力堆積加上部分地區侵蝕作用旺盛，因此擁有『遠看像平原，三步到溝邊，隔溝看得見，過溝得半天』的形容，請問此地地形區為下列何者？(A)甲 (B)乙 (C)C (D)D
44. () 承上題，導致此地溝谷遍地景象的侵蝕作用力為何？(A)溶蝕 (B)風力侵蝕 (C)冰河侵蝕 (D)流水侵蝕
45. () 觀察附圖可以發現中國東部與西部的山脈走向呈現顯著差異，請問導致此現象的主要因素為下列何者？(A)河川流向導致 (B)板塊擠壓方向不同 (C)地勢高低差異而成 (D)侵蝕作用力不同導致
46. () 請問若想繪製附圖中『丙地』的等高線地形圖，其形勢會與下列哪一個選項相同？



47. () 請問分隔附圖中甲、乙兩地形區的山脈為下列何者？(A)天山 (B)秦嶺 (C)太行山 (D)崑崙山
48. () 請問中國最大的沙漠-塔克拉瑪干沙漠位在附圖中哪個地形區？(A)甲：準噶爾盆地 (B)乙：準噶爾盆地 (C)A：塔里木盆地 (D)乙：塔里木盆地
49. () 『長江中下游平原、東北平原、華北平原和珠江三角洲』為中國四大主要平原，請問其在附圖上位置的正確排列順序為下列何者？(A) ① → ② → ③ → ④ (B) ② → ① → ④ → ③ (C) ③ → ① → ② → ④ (D) ③ → ① → ④ → ②
50. () 承上題，請問中國主要平原的形成與下列哪一種作用力關係最密切？(A)風力堆積 (B)河川堆積 (C)板塊運動 (D)溶蝕作用

【第4頁，共4頁，試卷結束】