

基隆市立武崙國中 107 學年度第二學期 第一次段考 九年級社會試卷—地理科

第一大題：單選題，每題 2 分、第二大題：題組題，每題 2 分；總分 100 分。

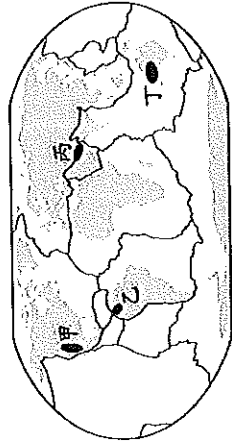
請用 2B 鉛筆依題號在電腦卡上作答，電腦讀卡時無法判斷身分者，扣總分 10 分。

範圍：第五冊俄羅斯、第六冊 L.1~L.2

班級：_____ 座號：_____ 姓名：_____

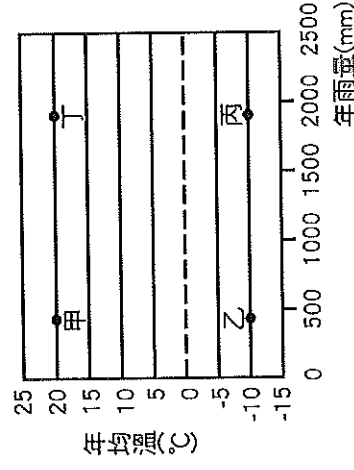
一、單選題 (每題 2 分)

- () 「這個國家曾實施『種族隔離政策』，限制黑人的居住與活動範圍，經過黑人的抗爭與國際的制裁，終於在一九九〇年代廢除此政策，而後更有黑人首次當選該國總統。」上述的國家為何？ (A) 奈及利亞 (B) 肯亞 (C) 埃及 (D) 南非共和國。
- () 非洲與南美洲在自然環境與歷史發展上有許多共通處，關於此兩洲的敘述，下列何者**錯誤**？ (A) 出口以農、礦原物料為主 (B) 皆有溫帶地中海型氣候 (C) 皆瀕臨太平洋 (D) 兩地皆曾淪為殖民地，發展熱帶栽培養。
- () 造成紐西蘭有「活的地形教室」之稱的主因為何？ (A) 全境地形多山 (B) 斷層作用強，境內多陷落湖泊 (C) 地殼擠壓區，境內山地落差起伏極大 (D) 同時存有火山與冰河地形，地形景觀豐富。
- () 氣候嚴寒的北極圈，作物無法生長，極不利人居，但仍少數民族居住在此，並以打獵、捕魚維生。請問：下列哪個民族居住在北極圈內？ (A) 貝都因人 (B) 因紐特人 (C) 印第安人 (D) 毛利人。
- () 「世界各地的高原地形，因陸塊形成時間久遠，地形相對平坦，且擁有豐富的金屬礦資源。」為支持以上論點，應以下圖中的何地來說明？ (A) 甲 (B) 乙 (C) 丙 (D) 丁。



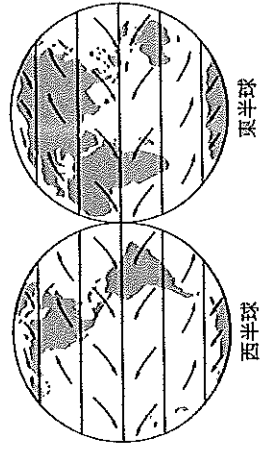
- () 凱凱塔飛機經過非洲，從高空往下看，發現一條長達數百公里的裂谷，據說是因為斷層作用所形成的特殊景觀。請問：此時凱凱最可能經過下列哪個地區？ (A) 北部非洲 (B) 西部非洲 (C) 東部非洲 (D) 南部非洲。
- () 下列哪個國家利用黃金、鑽石、鈾礦等礦業開採為基礎，得以發展工業，成為非洲經濟發展最穩定的國家？ (A) 奈及利亞 (B) 南非共和國 (C) 阿爾及利亞 (D) 利比亞。

- () 非洲的肯亞和剛果民主共和國都有赤道通過國境，年溫差皆小，但前者氣溫涼爽宜人，後者則終年高溫，造成此種差異的主要影響因素為何？ (A) 洋流的性質 (B) 距海的遠近 (C) 地勢的高低 (D) 盛行風的向背。
- () 紐西蘭全黑隊 (All Blacks) 是橄欖球國際賽的常勝軍，除了其剽悍的球風外，開賽前該隊會來一段原住民戰舞提升士氣，成為全黑隊的特色。請問：全黑隊為下列哪一民族？ (A) 毛利人 (B) 吉普賽人 (C) 印第安人 (D) 因紐特人。
- () 「澳洲是褐色的大陸，紐西蘭是綠色的島嶼。」這句話是指兩者景觀上有相當大的差異，這種差異是來自降水量多寡的不同。請問：澳洲、紐西蘭氣候的乾、溼程度是受哪些氣候帶影響？ (A) 季風帶、副熱帶高壓帶 (B) 副熱帶高壓帶、西風帶 (C) 西風帶、溫帶高壓帶 (D) 熱帶低壓帶、溫帶高壓帶。
- () 位於大洋洲的吐瓦魯為第一個地球環境難民國，現已經將居民陸續遷移到紐澳等國。請問：該國是受到何種自然威脅而被迫遷移？ (A) 降水量稀少缺乏淡水 (B) 地震頻繁引發海嘯 (C) 火山噴發有毒物質 (D) 海水上升淹沒陸地。
- () 游牧是非洲傳統部落的維生方式之一，族人通常在森林中找到一塊土地後，以火焚林開闢成耕地，期間不施肥，三、五年後需更換新耕地，因此適合在人口密度較低的地區實施。請問：附圖中的哪一種自然環境，較適合採行游牧的方式？ (A) 甲 (B) 乙 (C) 丙 (D) 丁。



13. () 動畫電影「海底總動員」，描述生活在大堡礁的小丑魚尼莫不慎被潛水人士捕捉，魚爸爸為救兒子，順著一股洋流來到雪梨外海，父子倆歷經波折終於重逢。劇情中魚爸爸最可能是利用下列哪一洋流，從大堡礁來到雪梨外海？ (A) 黑潮 (B) 墨西哥灣流 (C) 東澳暖流 (D) 北大西洋暖流。

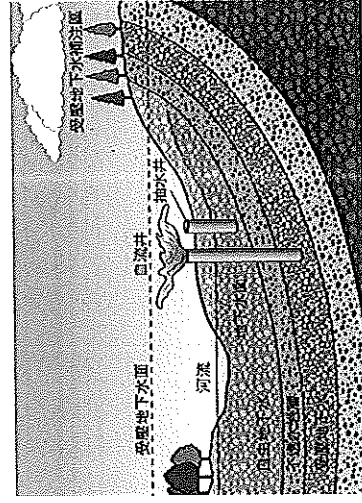
14. () 「每年大約會有 2,500 萬至 5,000 萬噸的沙子隨著盛行風，飄移到西印度群島與南美洲的北部。」根據下圖中的全球盛行風向判斷，文中所述的沙子最可能來自下列哪個地區？ (A) 黃土高原 (B) 中亞沙漠 (C) 撒哈拉盆地 (D) 北美大平原。



15. () 非洲地區因殖民和氣候條件影響，多半以出口熱帶栽培業為主要經濟來源，但也因此產生經濟發展的問題 (甲) 大量栽種單一作物，可避免受國際價格波動影響 (乙) 大部分國家都以第二級產業為主 (丙) 熱帶栽培業需要投入大量資金 (丁) 出口經濟作物，進口高單價工業產品。上述正確的為？

(A) 甲乙 (B) 甲丙 (C) 乙丁 (D) 丙丁。

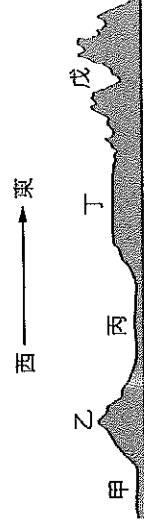
16. () 下圖為澳洲某種水資源開發方式示意圖。此種水利設施與該地的何種產業有密切關係？ (A) 牧羊業 (B) 地中海型農業 (C) 酪農業 (D) 熱帶栽培業。



17. () 西元 2010 年的世界盃足球賽於南非開普敦舉辦。請問：當地 6 月分舉辦世界盃比賽時，最容易遇到的天候狀況為下列何者？ (A) 天寒地凍 (B) 連日降雨 (C) 乾旱酷熱 (D) 沙塵風暴。

18. () 歐俄平原屬於溫帶大陸性氣候，年溫差甚大，因來自大西洋的水氣到此地區已減少許多，年降水量大約只有 500 mm，且降雨特徵呈現下列何種現象？ (A) 由南向北遞減 (B) 由北向南遞減 (C) 由西向東遞減 (D) 由東向西遞減。

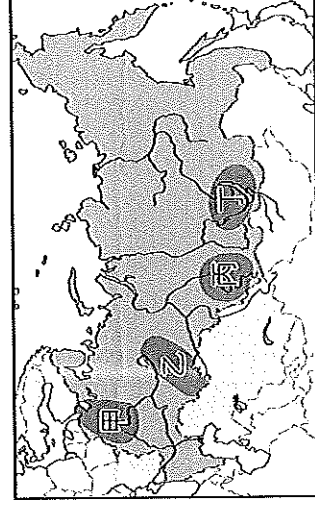
19. () 日本 311 大地震引發強烈的海嘯，畫面藉由新聞傳送，讓人感受到到自然災害的力量。下圖是俄羅斯地形剖面圖，請問下列哪一個地形區和日本擁有相同地質條件，也是地震好發區？ (A) 乙 (B) 丙 (C) 丁 (D) 戊。



20. () 「西伯利亞鐵路是世上最長的洲際鐵路，橫跨歐亞大陸。從首都中色彩繽紛如童話般的洋蔥式圓頂教堂，到濱臨太平洋的符拉迪沃斯克(海參崴)，一站站的美景吸引著旅人的心，使它成為許多旅人心目中的夢想鐵道。」請問：西伯利亞鐵路的起點，也就是上文中的首都，是指下列何地？ (A) 巴黎 (B) 柏林 (C) 莫斯科 (D) 布達佩斯。

21. () 蟹老闆打算在俄羅斯投資、興建煉鋁工廠，若考慮到工業區位，他應該要將工廠建在下圖中哪個工業區才能利用當地豐沛水力進行發電？

(A) 甲 (B) 乙 (C) 丙 (D) 丁。



22. () 歐洲與亞洲是相連的大陸，下列哪些國家的領土即跨越此兩大洲？ (甲) 中國 (乙) 俄羅斯 (丙) 土耳其 (丁) 烏克蘭

(A) 甲乙 (B) 乙丙 (C) 乙丁 (D) 丙丁。

23. () 俄羅斯在西伯利亞地區有多條河川，如鄂畢河、葉尼塞河與勒那河等，皆缺乏航運價值，其可能的原因可能為下列何者？ (甲) 冰封期太長 (乙) 出口流向不佳 (丙) 河流長度太短 (丁) 泥沙淤積太嚴重

(A) 甲乙 (B) 甲丙 (C) 乙丙 (D) 丙丁。

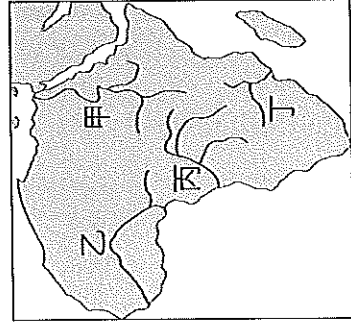
24. () 一家知名的投資機構對俄羅斯的投資環境做出評鑑，如附圖所示，其中哪一項與現實較不相符？

(A) 甲 (B) 乙 (C) 丙 (D) 丁。

- 甲、豐沛的資源
- 乙、極具潛力的市場
- 丙、廉價而優秀的勞力
- 丁、穩定的社會及廉能政府

二、題組題 (每題 2 分)

(一)下圖為非洲主要河川分布圖。請問：



25. ()埃及為解決灌溉、水患的問題，興建亞斯文高壩。

該水利工程位於哪條河流中游？

(A)甲 (B)乙 (C)丙 (D)丁。

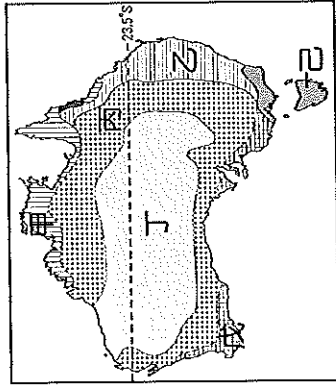
26. ()圖中哪一條河川與非洲古文明的發展有密切的關係？ (A)甲 (B)乙 (C)丙 (D)丁。

27. ()「流域所在地終年多雨，是非洲水力資源最豐富之河流。」上文是指哪條河流？

(A)甲 (B)乙 (C)丙 (D)丁。

28. ()哪一條河流的下游三角洲地區，蘊藏豐富的石油，成為非洲最大的產油區？ (A)甲 (B)乙 (C)丙 (D)丁。

(二)下圖為澳洲氣候分區示意圖。請問：



29. ()臺灣的進口紅酒除了來自歐洲與美國外，澳洲亦是主要來源地之一。澳洲釀製紅酒的葡萄最可能種植於下列哪一地區？ (A)甲 (B)乙 (C)戊 (D)己。


30. ()圖中哪一地區因受到信風的影響，潮溼多雨，為澳洲人口最稠密的地區？ (A)戊 (B)丙 (C)丁 (D)乙。

31. ()圖中丁區所占範圍最大，其氣候類型為下列何者？

(A)夏雨型暖溼氣候 (B)熱帶莽原氣候 (C)熱帶雨林氣候 (D)熱帶沙漠氣候。

〈試題未完，請繼續作答〉

(三)下圖為大洋洲三大島群示意圖。請問：



32. ()圖中三大島群的分界線為下列何者？ (A)赤道、北回歸線 (B)北回歸線、南回歸線 (C)赤道、本初子午線 (D)赤道、國際換日線。

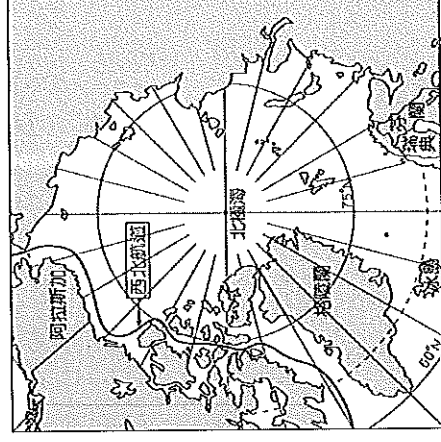
33. ()夏威夷為美國唯一地處熱帶的島州，該地屬於大洋洲的哪一個島群？ (A)玻里尼西亞 (B)密克羅尼西亞 (C)美拉尼西亞 (D)澳大利亞。

34. ()第二次世界大戰後期，美軍為加速進逼日本本土，並減少盟軍損失，執行了「跳島」戰術，選擇奪取日軍在大洋洲島群中的重要島嶼，且發生許多有名的戰役。請問：依上文，顯示大洋洲中的島嶼具有下列何種價值？ (A)經濟海域的擴張 (B)交通、戰略地位重要 (C)帶動觀光業 (D)可移動國內過多之人口。

35. ()大洋洲的島嶼面積通常不大，這些島嶼的主要經濟活動為下列何者？ (A)農業和礦產開採 (B)礦業和森林採集 (C)牧業和海水養殖 (D)漁業和觀光資源。

36. ()太平洋中的島群，下列哪一個與臺灣的距離最近？ (A)印度尼西亞 (B)密克羅尼西亞 (C)美拉尼西亞 (D)玻里尼西亞。

(四)下圖為北極地區地圖。請問：

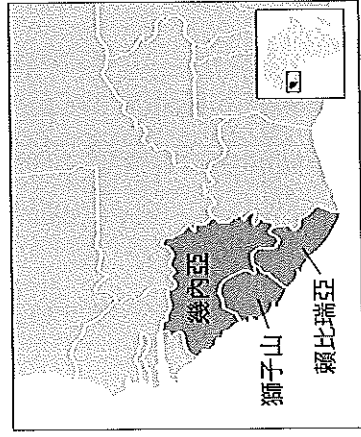


37. ()西北航道是指從大西洋經北極海，進入太平洋的航道，目前航運已有改善。西北航道的暢通與下列哪個現象密切相關？ (A)海洋汙染使海水融解 (B)暖流改變浮冰的位置 (C)全球暖化使氣溫改變 (D)船隻破冰設備的改進。

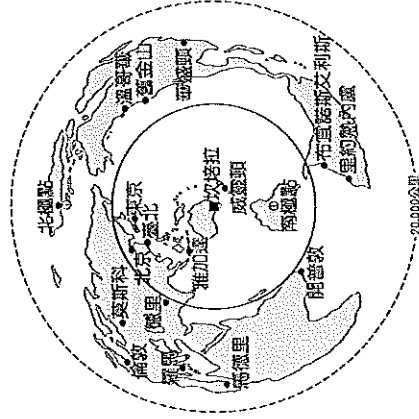
38. ()日前因在北極海海底發現蘊含石油、天然氣等豐富資源，故俄羅斯逕自派出迷你潛艇，潛入北極點的深海，同時在海床插上特製國旗，以宣示該國主權，此舉引起周圍其他國家不滿。請問：此周圍國家最不可能下列何者？

(A)挪威 (B)日本 (C)美國 (D)加拿大。

(五)自西元 2013 年底開始，伊波拉病毒在西非引爆大流行，此乃伊波拉出血熱史上最嚴重的一次爆發，臨床致死率高達 71%，根據世界衛生組織的統計，截至 2015 年 7 月 30 日全世界已有 11,295 人死亡，主要集中在幾內亞灣沿岸三國：賴比瑞亞、獅子山及幾內亞(下圖深色處)，這三個國家以銷售礦產、熱帶栽作物為國家主要收入。請回答下列問題：



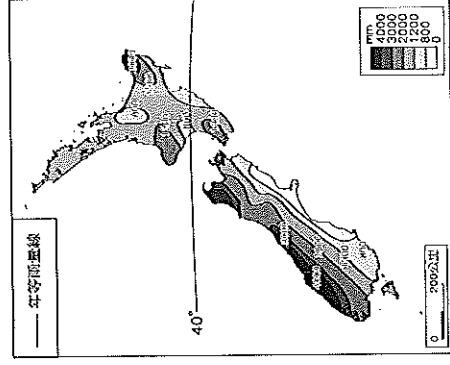
39. () 幾內亞灣沿岸三國：賴比瑞亞、獅子山及幾內亞，所種植的熱帶栽作物最可能為下列何者？ (A)棉花、花生 (B)咖啡、可可 (C)柑橘、葡萄 (D)大豆、玉米。
40. () 下列何者並非伊波拉病毒在非洲快速傳播的原因？ (A)居民普遍貧窮 (B)傳統部落巫醫信仰 (C)當地醫療醫療源缺乏 (D)過度開發造成生態破壞。
41. () 伊波拉病毒因其高致死率令人聞之色變，第一次爆發流行是西元 1976 年時發生在非洲剛果，造成 281 起死亡。與 1976 年的疫情相較，2014 年爆發的伊波拉疫情傳播速度更快、範圍更廣。請問：該現象與下列哪項原因最相關？ (A)部落社會拒絕西方醫療 (B)種族隔離政策延緩就醫 (C)非洲醫療資源較從前落後 (D)交通運輸進步，國際交流頻繁。
- (六)等距方位投影是一種地圖投影方式，常用於表現某地與世界各地的距離與位置關係，如下圖是以澳洲首都坎培拉為中心的世界地圖。請回答下列問題：



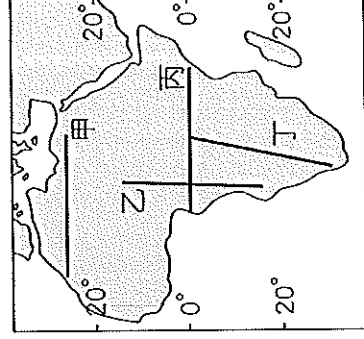
42. () 下列哪一個都市距離坎培拉最遙遠？ (A)中華民國臺北 (B)英國倫敦 (C)日本東京 (D)南非開普敦。
43. () 1950 年代，英國為澳洲最大出口貿易國，主要原因為下列何者？ (A)語言文化相近 (B)交通往來便利 (C)殖民歷史影響 (D)貿易貨品互補。

44. () 承上題，英國加入歐洲共同市場後，澳洲產品銷往英國不再有優惠待遇，貿易重心移往亞洲。澳洲該貿易策略與下列哪一項因素最為密切？ (A)恐怖主義引起區域內部保護主義 (B)國際分工興起，生產分工範圍擴大為國際 (C)交通革新帶動全球化貿易 (D)國際經濟體系趨向經濟區域整合。

(七)下圖是紐西蘭的年降水量分布圖。請問：



45. () 圖中降水量的分布主要受哪兩項因素影響？ (A)緯度、洋流 (B)地形、風向 (C)緯度、距海遠近 (D)地形、距海遠近。
46. () 由圖可推知，紐西蘭最溼冷的地區在何處？ (A)北島東岸 (B)北島西岸 (C)南島西岸 (D)南島東岸。
47. () 冰河地形的形成條件包括豐富的降雪，則哪個地區應為主要的冰河分布區？ (A)北島東岸 (B)北島西岸 (C)南島東岸 (D)南島西岸。
- (八)下圖是非洲簡圖。來自臺灣的農技團前往非洲進行當地人文環境與農業發展的相關調查。請問：



48. () (1)若想體驗非洲多樣的氣候類型，應選擇圖中哪一條考察路線？ (A)甲 (B)乙 (C)丙 (D)丁。
49. () 非洲族群多元而複雜，沿著圖中哪一條路線前進，沿途可見多為信奉伊斯蘭教的阿拉伯人？ (A)甲 (B)乙 (C)丙 (D)丁。
50. () 當他們從丙線由西向東前進，發現氣候愈來愈涼爽宜人，最後他們可能來到了何種氣候區中？ (A)溫帶地中海型氣候 (B)熱帶雨林氣候 (C)熱帶莽原氣候 (D)高地氣候。

《試題結束》