

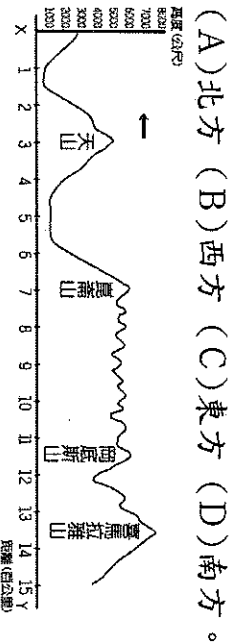
電腦讀卡，請使用 2B 鉛筆，並依據題號在答案卡上作答，答案卡無法判斷身分者，扣總分 10 分

範圍：中國西部地區、世界概述 每題 2 分，總分 100 分。

班級：_____ 座號：_____ 姓名：_____

一、單選題

() 1. 附圖為西部地區的地形剖面圖，請問：圖中的箭頭指向哪一方位？




(A) 北方 (B) 西方 (C) 東方 (D) 南方。

() 2. 河套平原為黃河流域的精華區之一，請問：下列何者不是河套平原的一部分？

(A) 前套 (B) 後套 (C) 北套 (D) 西套。

() 3. 新疆素有「瓜果之鄉」的美稱，所產瓜果特別香甜的主要原因為何？(A) 雪水豐富 (B) 氣候乾燥 (C) 地勢低窪 (D) 日夜溫差大。

() 4. 附圖為 2010 年及聯合國預測 2050 年時，亞洲、非洲、歐洲、北美洲、中南美洲各洲的人口占世界總人口的比例分布狀況。圖中五個區塊分別代表各洲，下列有關甲區塊的敘述何者正確？
(A) 為目前全球人口成長最快的洲 (B) 為人口分布最均勻的洲 (C) 為面積最大的洲 (D) 主要分布在中高緯度。



() 5. 世界人口急劇增長的主要原因為何？
(A) 人類的生育能力大大提高 (B) 醫療技術的進步，死亡率下降 (C) 地球生態環境的改善 (D) 經濟發達國家人口增長過快。

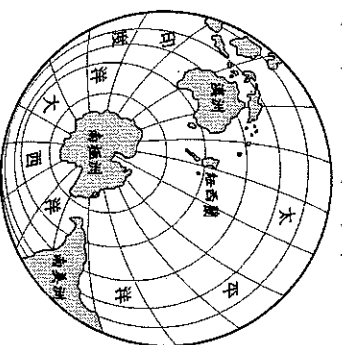
() 6. 藏南縱谷的雅魯藏布江位於下列哪兩個山脈之間，為當地重要的農業區？(A) 天山、崑崙山 (B) 阿爾泰山、天山 (C) 岡底斯山、喜馬拉雅山 (D) 崑崙山、岡底斯山。

() 7. 世界上有 13 多億人口信仰伊斯蘭教，關於伊斯蘭教的敘述，下列何者為「非」？(A) 新疆、寧夏信奉伊斯蘭教 (B) 不吃牛肉，視牛為神獸 (C) 虔誠的信徒每日朝參加方向拜五次 (D) 清真寺為其禱告的場所。

() 8. 一般而言，影響氣候的因素眾多，其中以下列何者的影響程度最小？
(A) 緯度 (B) 地形 (C) 土壤 (D) 洋流。

() 9. 地球表面起伏的五大地形中，以下列哪兩種地形所占的面積最為廣大，各約占總面積的 1/3？
(A) 平原、高原 (B) 平原、盆地 (C) 高原、山地 (D) 平原、丘陵。

() 10. 地球上依海陸面積多寡而分為水半球、陸半球，其中水半球的地圖如附圖所示。請問：附圖中南美洲位於南極點的哪一個方位？
(A) 北方 (B) 東南方 (C) 西北方 (D) 南方。



() 11. 有關地球上的海陸分布敘述，下列何者「錯誤」？
(A) 海洋和陸地的面積比是 7:3 (B) 陸地主要分布在北半球 (C) 亞洲是世界各洲中面積最大的 (D) 在陸半球中，陸地的面積大於海洋。

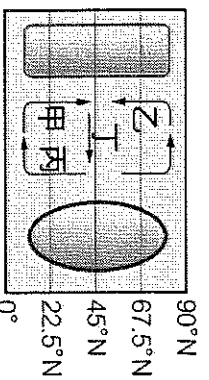
() 12. 哪一個地形區蘊藏豐富的煤、石油、池鹽等資源有「聚寶盆」之稱？(A) 青海湖盆地 (B) 準噶爾盆地 (C) 柴達木盆地 (D) 塔里木盆地。

() 13. 東南亞氣候極為炎熱潮溼，因此常會遇到潮溼、蟲蛇的問題。請問：當地居民利用哪一種傳統的建築方式來避免此問題的發生？
(A) 架高搭建 (B) 黃土窯洞 (C) 傾斜屋頂 (D) 土樓建築。

() 14. 針對西部地區的發展問題，中國提出的政策中包括了「加強生態環境保護和建設」，這是因為西部地區受到區域發展的影響，造成了何種環境問題？(A) 水土流失 (B) 土地荒漠化 (C) 地層下陷 (D) 水源汙染。


() 15. 有關中國「西部地區」的描述，下列何者是錯誤的？(A) 地處邊疆，地廣人稀 (B) 國界線綿長，鄰國眾多 (C) 東西經濟及文化交流要道 (D) 多以河流與鄰國為界。

- () 16. 「全球人口總數由10億增加至20億，大約經過110年；由20億增加至40億，大約經過40年。」由上述的內容可知全球人口現象為何？
 (A)人口加倍時間增長，成長趨緩
 (B)人口加倍時間增長，成長增速
 (C)人口加倍時間縮短，成長趨緩
 (D)人口加倍時間縮短，成長增速。
- () 17. 新疆境內有許多「口岸」，口岸的設置與新疆的哪一特徵有關？(A)是中國面積最大的省區
 (B)灌溉發達，棉花產量居中國第一 (C)位於西部邊陲，鄰國眾多 (D)有中國最大的沙漠。
- () 18. 青藏鐵路的通車為西藏帶來許多「負面衝擊」，主要包含以下哪些層面？(甲)傳統文化漸漸消失 (乙)觀光產業漸漸蕭條 (丙)生態環境遭受破壞 (丁)改善交通基礎建設。
 (A)甲乙 (B)甲丙 (C)乙丙 (D)乙丁。
- () 19. 藏南縱谷為青藏地區的精華區，當地氣候分布，隨著什麼因素影響而產生垂直變化？(A)地形 (B)緯度 (C)距海遠近 (D)盛行風向。
- () 20. 附圖為洋流示意圖，圖中甲、乙、丙、丁四股洋流，哪道洋流的經過會使沿海地區變得溼潤多雨？(A)甲 (B)乙 (C)丙 (D)丁。



- () 21. 氣象學者觀察全球不同地區的氣候變化狀況，若依其緯度由高至低排列，海洋性氣候、莽原氣候、雨林氣候及地中海型氣候的分布應該為下列何者？ (A)海洋性氣候、莽原氣候、雨林氣候、地中海型氣候 (B)海洋性氣候、地中海型氣候、莽原氣候、雨林氣候 (C)海洋性氣候、莽原氣候、地中海型氣候、雨林氣候 (D)海洋性氣候、雨林氣候、莽原氣候、地中海型氣候。
- () 22. 飄飄趁著假期到北歐地區旅遊，想要一睹當地的特殊文化景觀。請問：她在當地最常見到下列哪一種文化特色？(A)高架屋 (B)高度傾斜屋頂 (C)浴佛節慶典 (D)清真寺做禮拜。
- () 23. 西方記者前往西藏採訪其政教合一的宗教信仰，採訪過程中可見到的特色為下列何者？
 (A)每日朝拜五次 (B)週日教堂禮拜
 (C)廟宇旁轉經輪 (D)階級職業世襲。

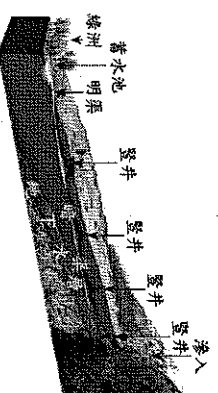
- () 24. 西套平原引黃河水灌溉，農牧業皆發達，有「塞上江南」之稱。請問：該地所產的主要糧食與下列哪一地形區相同？(A)長江三角洲 (B)藏南縱谷 (C)青藏高原 (D)準噶爾盆地。
- () 25. 下圖為世界人口分布圖，請問有關世界人口的敘述，下列何者有「誤」？(A)全球人口分布不均 (B)人口分佈深受地形與氣候條件影響 (C)青藏高原人口稀少是因為地勢太高之故 (D)亞洲和澳洲的人口數量較多。



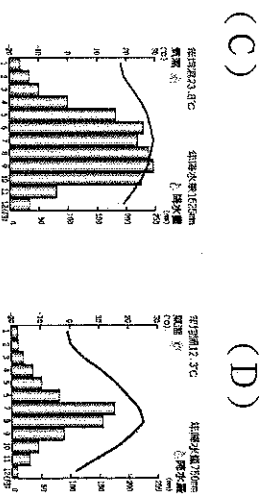
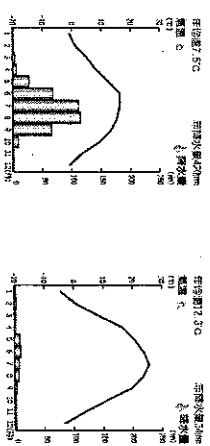
- () 26. 新疆的塔克拉瑪干沙漠被稱為「死亡之海」，是世界第二大的流動沙漠，其形成原因為下列何者？(甲)位居高緯地區，(乙)身居內陸，(丙)四周高山環繞，(丁)副熱帶高壓籠罩。
 (A)甲乙 (B)甲丙 (C)乙丙 (D)乙丁。

二、題組題

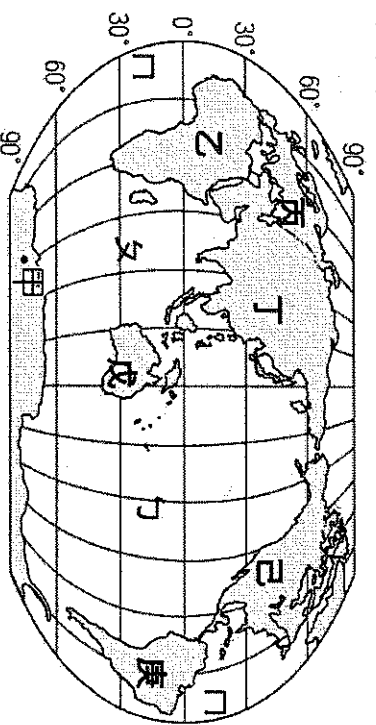
(一) 下圖為盛行於新疆吐魯番窪地的特殊灌溉方式，請根據附圖，回答下列問題：



- () 27. 坎兒井的水源主要來源為何？
 (A)海水 (B)湖水 (C)雨水 (D)雪水。
- () 28. 當地居民修建坎兒井主要的目的為何？
 (A)開發礦產 (B)防止水土流失 (C)避免水源蒸發 (D)保持水質純淨。
- () 29. 形成此灌溉方式的氣候類型最可能為下列何者？(A) (B) (C) (D)



(二) 下圖是世界七大洲、三大洋的分布圖，請回答下列問題：



- () 30. 關於上圖中世界七大洲的敘述，下列何者「錯誤」？(A) 己與庚相連，合稱「美洲」 (B) 甲是唯一瀕臨三大洋的陸地 (C) 丙、丁、己三洲環繞著北極海 (D) 若要建立稱霸歐、亞、非的大帝國，必須佔領乙、丁、戊。
- () 31. 地球上主要陸地的中心點稱為陸半球中心，反之則稱為水半球中心，請問：水、陸半球中心點各位於下列哪兩個國家境內？(A) 中國、法國 (B) 紐西蘭、巴西 (C) 紐西蘭、法國 (D) 美國、英國。

() 32. 上圖中「丙」、「丁」兩區以哪兩座山作為分界？(A) 喜馬拉雅山、岡底斯山 (B) 烏拉山、太行山 (C) 落磯山脈、高加索山 (D) 烏拉山、高加索山。

() 33. 上圖中「甲」區沒有永久性居民，主要原因為何？(A) 資源缺乏 (B) 經濟發展差 (C) 自然環境不宜人居 (D) 政治局勢不穩定。

() 34. 以下為上圖中三大洋之、文、丁的名稱排列，請問何者正確？(A) 太平洋、印度洋、大西洋 (B) 太平洋、大西洋、印度洋 (C) 印度洋、太平洋、大西洋 (D) 大西洋、印度洋、太平洋。

() 35. 小天開飛機繞地球一圈，依序看到黃沙一片的撒哈拉盆地、世界屋脊青藏高原、廣闊的北美大平原。請問：小天沿著哪條緯線飛行繞地球一圈？(A) 0° (B) 23.5°S (C) 30°N (D) 60°S。

(三) 壯闊的礫漠與沙漠、明媚的草原，讓內蒙古有著獨特的魅力。位於呼和浩特草原，每逢夏秋交替之時，廣大的草原綠草如茵，吸引許多遊客前來度假。西側有著礫石遍佈的礫漠與黃滾滾的沙丘的特殊景觀也是當地旅遊的重點景點。請問：


- () 36. 內蒙古高原為遼闊坦蕩的乾旱景觀，當地形成礫石遍佈的礫漠主要是受哪一個作用力影響？(A) 河水沖積 (B) 冰河侵蝕 (C) 海水沖積 (D) 風力侵蝕。

- () 37. 內蒙古地區西側多為游牧為主，東側多為放牧為主，請問：造成此情形主要是受到下列哪一項因素的影響較大？(A) 土壤特性 (B) 降雨多寡 (C) 氣溫高低 (D) 地形起伏。
- () 38. 內蒙古當地的生活型態受到環境的變遷而有所改變，除了發展觀光業外，傳統的牧業活動也改為何種方式？(A) 游牧 (B) 定居放牧 (C) 欄牧 (D) 山牧季移。

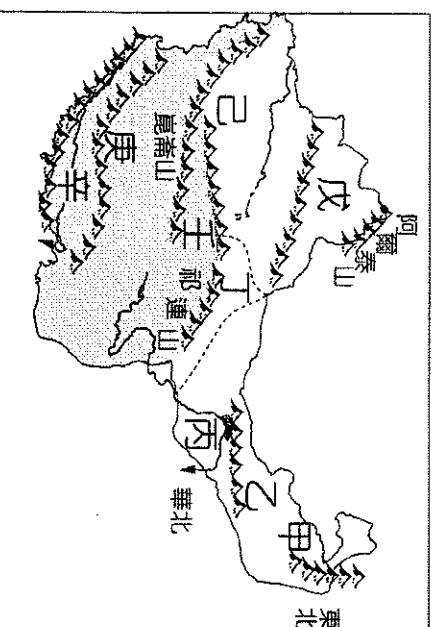
(四) 犛牛、北極熊、企鵝被稱為世界上僅存的三種無汗染動物，後兩者分布於北極與南極兩地，而全世界85%的犛牛就分布於中國境內。在當地居民眼中，犛牛可說是生活中食、衣、住、行的全部來源，從牛皮到牛肉，甚至牠們的「便便」都可以用來作為燃料，用途相當多樣化。請問：

() 39. 當地居民的食衣住行全仰賴犛牛，其日常生活中，除了犛牛肉以外，還包括了何種作物？(A) 稻米 (B) 小麥 (C) 玉米 (D) 青稞。

() 40. 地理學家到當地探訪時，拍攝犛牛的照片如下圖所示。圖中的石碑上所刻印的湖泊為中國最大的鹹水湖，應該為下列哪個湖泊？(A) 鄯陽湖 (B) 洞庭湖 (C) 青海湖 (D) 太湖。



(五) 附圖為西部地區的簡圖，請依圖回答下列問題：




- () 41. 何區呈現「寒漠」景觀，有第三極之稱？(A) 乙 (B) 丁 (C) 戊 (D) 庚。
- () 42. 圖中辛地的年降水量較多，最主要的來源為何？(A) 太平洋西南季風 (B) 印度洋西南季風 (C) 太平洋東南季風 (D) 印度洋東南季風。
- () 43. 河西走廊為古絲路必經要道，其分布位置位於附圖中何處？(A) 丙 (B) 丁 (C) 己 (D) 壬。
- () 44. 承上題，題幹中提及的「絲綢之路」，主要是何種地形？(A) 地塹 (B) 沙丘 (C) 三角洲 (D) 熔岩臺地。

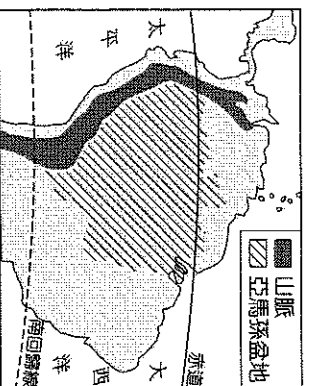
(五) 下表為世界不同類型的氣候圖，請依據圖片回答相關問題。

| 甲 | 乙 | 丙 |
|---|---|---|
| | | |
| 丁 | 戊 | 己 |
| | | |

- () 45. 請判斷上圖的氣候圖中，何者所處的緯度最高？
 (A) 甲 (B) 丙 (C) 戊 (D) 己。
- () 46. 上圖中「丙」的氣候特色為何？
 (A) 全年高溫少雨 (B) 夏乾冬雨 (C) 雨量稀少，全年低溫 (D) 全年有雨，年溫差小
- () 47. 氣候影響該地區的地理景觀，附圖中的景象主要分布於哪種氣候區中？
 (A) 甲 (B) 丙 (C) 戊 (D) 己。



- () 48. 四面被高山環繞的地形為盆地，全球面積最大的亞馬孫盆地位置如附圖所示，圖中盆地西側為全世界最長的山脈，請問為哪一座山脈？
 (A) 落磯山脈 (B) 安地斯山脈 (C) 阿爾卑斯山脈 (D) 喜馬拉雅山脈。



- () 49. 承上題，亞馬孫盆地內有全世界最大的熱帶雨林，動植物種類繁雜，有「生物的基因庫」之稱。請問亞馬孫雨林主要分布在左圖中哪一個氣候區內？(A) 甲 (B) 乙 (C) 丁 (D) 戊。
- () 50. 南半球缺乏大陸性氣候，此一情形與南半球的哪一項地理環境特色有關？(A) 沿海地區缺乏寒暖流 (B) 溫帶陸地面積較小 (C) 平均地勢高度較低 (D) 太陽長期斜射地表。