

基隆市立武崙國民中學 107 學年度第二學期第二次段考七年級歷史科試題卷

班級：_____ 姓名：_____ 座號：_____

一、單一選擇題，共 50 題，每題 2 分，總計 100 分，請用 2B 鉛筆於答案卡上作答。

1. () 日治時期的臺灣，在日本的統治之下，會依據學齡兒童不同的身份而就讀不同學校，請問在 1941 年前臺灣人、在臺日本人、原住民等不同身份的學齡兒童分別就讀哪種學校？
 (A) 公學校、小學校、番童教育所
 (B) 小學校、公學校、番童教育所
 (C) 國民學校、國民學校、番人公學校
 (D) 在臺所有學童一律都就讀國民學校
2. () 「日治時期，臺灣人有志升學者大多前往日本留學，至 1945 年為止，留日學生共達二十萬人。」上述說明日本殖民統治時期臺灣教育的何種現象？(A) 總督府給予經濟補助，提供臺人子弟跨海接受高等教育 (B) 臺人子弟前往日本留學，乃皇民化運動重要執行項目 (C) 總督府強調『日臺合一』，大力鼓吹臺人前往內地深造 (D) 教育採差別待遇，臺人子弟在臺未享公平教育機會
- ✕ 日治時期，臺灣總督府推行一系列生活改造運動，讓臺灣人民的生活獲得大幅度的改善，請回答第 3~9 題：
3. () 總督府在治臺初期，認為臺灣人有哪些三項『陋習』？(甲) 無時間觀念 (乙) 缺乏法治觀念 (丙) 纏足 (丁) 辮髮 (戊) 吸食鴉片 (己) 居家環境髒亂
 (A) 甲、乙、己 (B) 甲、丙、丁
 (C) 丙、丁、戊 (D) 乙、戊、己
4. () 總督府為了有效控制社會、維持秩序，透過許多策略養成臺灣人守法的習慣，請問下列哪項為非？(A) 引進現代司法制度 (B) 宣導教育現代法治 (C) 嚴密的警察及保甲制度 (D) 透過軍隊武力鎮壓

5. () 總督府為了統治和工業生產的需求，要求臺灣人遵守規律的作息，並且除了有如附圖的宣傳海報還引進了哪兩項制度？




- (甲) 星期制 (乙) 學期制 (丙) 彈性休假制
 (丁) 標準時間制 (戊) 西洋曆法制
 (A) 甲、乙 (B) 甲、丁
 (C) 乙、丁 (D) 丙、戊
6. () 日治時期推廣的生活改造運動，引進了新觀念及新制度，不只臺灣社會有顯著的改變，連人口也大幅增加，請問下列哪些是日治時期臺灣人口增加的主要因素？(甲) 西式醫療體系與公共衛生設施的建立 (乙) 透過保甲徹底落實環境清潔 (丙) 預防接種與防疫觀念的建立 (丁) 鼓勵生育政策的落實 (戊) 警察與壯丁團維持社會安定 (己) 熱帶傳染病有效的防治 (A) 甲乙丙己 (B) 甲丙丁己 (C) 乙丁戊己 (D) 乙丙丁戊
7. () 斷髮、放足為當時生活改造運動的重要項目，請問普遍斷髮和放足後對社會造成的影響下列何者為非？
 (A) 女權地位提高社會風氣漸開放
 (B) 易服改裝促使洋服及帽業興起
 (C) 審美觀念改變不以纏足為時尚
 (D) 女子生產力提升有助經濟發展
8. () 總督府對於當時臺灣人吸食鴉片的行為採取哪項策略？(A) 漸禁政策 (B) 嚴禁政策 (C) 放任政策 (D) 鼓勵政策
9. () 承上題，總督府採取此項鴉片政策的主要原因為下列何者？(A) 鴉片專賣為重要財政收入 (B) 鴉片能協助對抗熱帶傳染病 (C) 進口鴉片能讓總督府從中獲利 (D) 透過鴉片能有效控制臺灣社會大眾

10. () 附表是1944年4月臺灣島內公私立中等學校以上的學生人數。關於表中資料的解讀下列敘述何者正確？

學校別	學校數	日本人學生	臺灣人學生	原住民學生
中學校	22	7,230	7,881	7
職業學校	27	5,367	9,194	18
女子中學	22	8,396	4,853	11
師範學校	4	2,364	520	2
專科	4	1,529	459	1
高等學校	1	110	10	0
大學	1	227	106 (醫科 104)	0

- (A) 臺人與日人子弟均享有相同的教育機會 (B) 總督府在臺灣的中等以上教育採以實用為原則 (C) 臺人子弟因成績較優異普遍大學就讀醫科 (D) 原住民和臺灣人子弟就讀中學以上比例高
11. () 承上題，附圖為表格中日治時期臺灣唯一的大學，請問此大學在日治時期及現在的名稱分別為下列何者？



- (A) 日本帝國大學、師範大學
(B) 臺灣帝國大學、臺灣大學
(C) 臺北帝國大學、臺灣大學
(D) 臺灣總督府大學、臺北大學

12. () 日治時期，哪一個組織為了謀臺灣文化之向上，特別發行了如右圖的刊物，期待能宣揚其理念並改良社會風氣？(A) 臺灣新民會



- (B) 臺灣民眾黨 (C) 臺灣文化協會 (D) 臺灣地方自治聯盟
13. () 臺灣知識分子為制衡臺灣總督府的專制統治，要求設立『臺灣議會』以表達自身訴求、爭取權益的時代背景為下列何者？(A) 1895年乙未戰爭爆發，臺灣人

積極爭取自身權益 (B) 1937年中日戰爭爆發，日本推行皇民化運動 (C) 第一次世界大戰結束，民族自決思潮盛行 (D) 第二次世界大戰結束，列強允諾臺灣脫離日本

14. () 臺灣知識份子為謀臺灣人之權益，積極投入政治社會運動，以下為當時政治社會運動的領導組織，若根據其成立的時間先後順序加以排列，下列何者正確？



- (A) 甲→乙→丙 (B) 甲→丙→乙
(C) 乙→甲→丙 (D) 丙→甲→乙
15. () 下列關於日治時期的教育政策哪些敘述是正確的？(甲) 1943年開始實施九年國民義務教育 (乙) 採取差別待遇及隔離政策 (丙) 建立日式教育制度來同化臺灣人 (丁) 透過教育來推動產業政策 (戊) 採日語教學讓臺灣人獲得現代知識
- (A) 甲、乙、丙 (B) 乙、丙、丁
(C) 甲、丙、戊 (D) 乙、丁、戊


✧ 日治時期的臺灣出現歷史上第一場地方議員選舉，人民第一次能行使投票權，對於自治、普選、參政權有初步的認識。請回答第16~17題：

16. () 請問這一場地方選舉是經由哪一個組織的成員不斷鼓吹、請願催生而來的？(A) 臺灣民眾黨 (B) 臺灣文化協會 (C) 臺灣地方自治聯盟 (D) 臺灣議會設置請願運動
17. () 關於這場臺灣史上第一場選舉，下列敘述何者錯誤？(A) 總督府於1935年舉辦 (B) 限制選舉民眾資格 (C) 議員半數官派半數民選 (D) 選舉活動的舉辦持續到臺灣脫離日本統治

18. () 右圖為嘲諷臺灣光復初期某個政府單位長官就如同臺灣土皇帝一般，重演日治時期的戲碼。請問這個政府單位名稱及其長官分別為何？(A)臺灣省特別行政區、蔣經國 (B)臺灣省行政長官公署、陳儀 (C)臺灣省警備總司令部、陳誠 (D)中國國民黨臺灣分部、蔣中正



19. () 戰後初期的臺灣曾有一段時間物價飛漲、社會秩序不穩、民怨沸騰，請問造成這種現象的主要原因為下列何者？(A)日本撤退時銷毀許多在臺基礎建設，工商業陷入停擺 (B)政府徵調臺灣米糧運往中國大陸，支援國共內戰 (C)國民政府積極建設臺灣，投入過多經費導致負債 (D)戰爭過後臺灣民變四起，長期動盪導致經濟停滯
20. () 下列關於日治時期臺灣知識分子『蔣渭水』所投入政治社會運動的事蹟何者為非？(A)籌組臺灣自治聯盟，有『臺灣議會之父』的美名 (B)組織『臺灣民眾黨』，積極扶助農工運動 (C)被尊稱為『臺灣孫中山』，一生為臺灣人爭取權利 (D)積極參與臺灣議會設置請願運動及臺灣文化協會



21. () 右圖雜誌於民國38年在臺北創辦，主要宣揚民主理念，原本立場多擁護蔣中正，批判共產黨。後來文章內容則多評論時政、揭發國民黨政府政策的弊病，引發當局不滿，後來雜誌創辦人更遭逮捕入獄，請問此雜誌創辦人為下列何者？(A)胡適 (B)陳誠 (C)陳菊 (D)雷震
22. () 承上題，請問此雜誌創辦人之所以被逮捕入獄，除了因為雜誌內容評論時政，為政府不容，還因為他在民國49年的哪一項行動所導致？(A)勾結共產黨謀逆

- (B)發動野百合學運 (C)籌組中國民主黨 (D)密謀革命遭舉發
23. () 臺灣第一個合法組成的政黨組織，以「確立民本政治、建設合理的經濟組織、革除社會制度的缺陷」為黨綱，積極為臺灣人權益。請問：此一組織為何？(A)中國國民黨 (B)民主進步黨 (C)臺灣民眾黨 (D)臺灣團結聯盟
24. () 附圖的漫畫呈現臺灣首度進行民選總統後，有大批支持者在選後搖旗歡呼，慶賀他們支持的候選人當選，請問這是哪一年發生的事情？當時當選的候選人為下列何者？(A)民國77年，李登輝 (B)民國79年，連戰 (C)民國83年，宋楚瑜 (D)民國85年，李登輝
25. () 請將下列歷史事件依發生順序加以排列？(甲)臺灣戒嚴 (乙)制定動員戡亂臨時條款 (丙)中華民國實施憲政 (丁)中華民國政府退守臺灣 (戊)臺灣解嚴 (己)臺灣實施地方自治 (A)甲→乙→丙→丁→戊→己 (B)乙→甲→丁→丙→己→戊 (C)丙→乙→甲→丁→己→戊 (D)丙→丁→甲→乙→戊→己
26. () (甲)蔣中正 (乙)蔣經國 (丙)蔡英文 (丁)馬英九 (戊)李登輝 (己)陳水扁。上述歷任中華民國總統，按其任期時間先後排列，下列何者正確？(A)甲→乙→戊→己→丁→丙 (B)甲→乙→丁→戊→己→丙 (C)乙→甲→戊→丁→己→丙 (D)乙→戊→甲→己→丁→丙
27. () 在臺灣邁向民主政治的過程中下列哪些事件是發生在臺灣解嚴後？(甲)三月學運 (乙)民進黨成立 (丙)終止動員戡亂 (丁)地方民意代表選舉 (戊)直轄市長選舉 (A)甲、乙、丙 (B)乙、丙、丁 (C)甲、丙、戊 (D)丙、丁、戊

28. () 下表為日治時期某位醫生針對當時的臺灣社會開出的一份診斷報告書。請問這位醫生為下列何者？

患者	臺灣島
年齡	移籍現址已二十七歲
既往症	幼年時，頭腦明晰；自入清朝，身體逐漸衰弱；現在接受不完整的治療，稍見恢復
現症	道德頹廢、精神生活貧瘠
預斷	因素質純良，若能施以適當療法，尚可迅速治療
處方	正規學校教育、補習教育、幼稚園、圖書館、讀報社（最大量）

- (A)雷震(B)陳儀(C)林獻堂(D)蔣渭水
29. () 承上題，在參考診斷報告書後可以發現臺灣島罹患的疾病與當時治療此類疾病的組織分別為何？(A)日語學習溝通不良症、國民學校 (B)缺乏知識營養不良症、臺灣文化協會 (C)民族意識薄弱欠缺症、臺灣自治聯盟 (D)皇民化運動不適應症、壯丁團
30. () 臺灣的政治社會運動於哪一項治臺政策執行後，在總督府的壓制下逐漸宣告沉寂？(A)日臺合一 (B)內地延長主義 (C)無方針主義 (D)皇民化運動

✧民國68年12月10日，美麗島雜誌社舉辦遊行活動，結果爆發大規模衝突。請回答第31~32題：

31. () 請問美麗島雜誌社的領導者和舉辦遊行的訴求分別為何？(A)黨外人士、尋求臺灣獨立 (B)黨外人士、爭取政治民主 (C)民進黨黨員、推翻國民黨 (D)民進黨黨員、謀求經濟自由
32. () 請問美麗島事件在哪一位總統任內發生，其對此事件的處理手法為何？(A)蔣中正、武裝鎮壓 (B)蔣經國、鎮壓審判 (C)李登輝、開放黨禁 (D)陳水扁、平等對話

✧「這個事件誠為臺灣歷史上的一大悲劇。……就受難臺人而言，不死於日治時期帝國主義者之摧殘，卻死於他們日夜盼望回歸的祖國軍警之鎮壓。他們容或批評政府，或提出臺人治臺等要求，自信並無反叛政府的行為，竟因此被處死，且

多數並未經過公開審判的程序，甚或有祕密處決而屍首不存者，此斷非文明社會之作法。」請依此文回答第33~37題：


33. () 請問上文所敘述的事件是下列哪一起？(A)白色恐怖 (B)動員戡亂 (C)二二八事件 (D)美麗島事件
34. () 請問此事件發生的導火線為下列何者？(A)查緝私菸不當 (B)雷震籌組政黨 (C)國共內戰失利 (D)警方掃蕩毒品
35. () 請問此事件發生的社會背景下列何者為非？(A)部分官員、軍警貪污腐化，濫用特權 (B)臺灣與大陸民情、語言不盡相同，引起誤解與衝突 (C)高級官員與地方首長均為臺籍菁英，中央政府擔心革命叛亂 (D)政府管制糖、鹽等民生物資，限制人民經濟活動
36. () 該事件造成臺灣許多知識份子及無辜民眾死亡，請問此狀況除了與各地陸續爆發衝突有關外，還與政府的哪項措施有關？(A)國軍退守臺灣藉此整頓並肅殺持反對意見的知識份子 (B)政府自大陸派軍隊武力鎮壓並實施清鄉 (C)國民政府挑起閩客衝突讓臺灣人自相殘殺(D)地方人士組成『二二八事件處理委員會』引爆內亂
37. () 此事件的發生與政府處理的方式，對臺灣往後的社會發展造成的影響有下列哪些？(甲)民主化速度加快 (乙)族群關係對立 (丙)省籍矛盾情結 (丁)人民畏懼參與政治 (戊)經濟快速起飛 (A)甲、乙、丙 (B)乙、丙、丁 (C)甲、丁、戊 (D)丙、丁、戊
38. () 請問臺灣宣布戒嚴和解嚴時的總統分別為何？(甲)蔣經國 (乙)蔣中正 (丙)李登輝 (丁)陳水扁 (A)甲、乙 (B)乙、甲 (C)乙、丙 (D)丙、丁

39. () 右圖為民國 89 年總統、副總統當選人的漫畫圖，請問：當時的這場



總統選舉具有下列哪一項重大意義？
 (A)臺灣首次政黨輪替 (B)臺灣首次舉辦選舉
 (C)無黨籍候選人首次當選
 (D)首次由女總統候選人當選

※附圖為民國 38 年臺灣省省主席頒布的一份重要法令，請回答第 40~42 題：



40. () 請問附圖的法令名稱為何？下列何者？
 (A)戒嚴令
 (B)解嚴令
 (C)中華民國憲法
 (D)動員戡亂時期臨時條款

41. () 頒布此份法令的最主要目的為下列何者？(A)防堵臺獨份子滋事 (B)防範親日份子暴動 (C)預防撤退來臺軍官反叛 (D)防止共產思想和活動

42. () 此一公告施行後，下列哪些基本人權受到限制？(甲)言論 (乙)工作 (丙)出版 (丁)集會 (戊)結社 (己)信仰
 (A)甲乙丙丁 (B)甲丙丁戊
 (C)乙丁戊己 (D)丙丁戊己

43. () 蔣中正自民國 37 年開始擔任總統，一共擔任了 5 任直到逝世，請問他可以連選連任這麼多次，其法源基礎為何？
 (A)戒嚴令 (B)中華民國憲法 (C)選舉罷免法 (D)動員戡亂時期臨時條款

44. () 中華民國政府因為在哪一場戰爭中失利，而被迫使撤退來臺？
 (A)國共內戰 (B)甲午戰爭
 (C)中日戰爭 (D)第二次世界大戰

45. () 民國 40、50 年代，情治單位往往不依法

律程序逮捕民眾，也未經正常、公開的司法審判便予以定罪，造成人心惶惶不安，請問這段歷史稱為什麼？

(A)國共內戰 (B)美麗島事件
 (C)白色恐怖 (D)二二八事件

46. () 承上題，這一個歷史現象與當時哪一個統治體制有關？(A)憲政體制 (B)戒嚴體制 (C)殖民體制 (D)民主體制

47. () 民國 79 年，數千名大學生聚集在臺北市中正紀念堂廣場以臺灣野百合為精神象徵提出多項改革訴求，稱之為『野百合學運』，請問下列哪些是此學運所提出的主要訴求？(甲)廢除黨禁、報禁 (乙)為白色恐怖致歉 (丙)解散萬年國會 (丁)廢除臨時條款 (戊)總統全民直選
 (A)甲、乙 (B)乙、丁
 (C)丙、丁 (D)丁、戊

48. () 臺灣早期街道上常可以看到『匪諜就在你身邊』、『檢肅匪諜人人有責』的標語，政府也不時貼出紅色布告，記載每天被槍決的匪諜資料，請問『匪諜』代表的意涵是什麼？(A)日本撤退後遺留的情治人員 (B)黨禁時期的反對黨員 (C)違反刑罰的通緝犯 (D)中國共產黨派來的間諜

49. () 請問臺灣在哪位總統任內正式明令終止動員戡亂時期，廢除《動員戡亂時期臨時條款》？(A)李登輝 (B)蔣中正 (C)蔣經國 (D)陳水扁

50. () 下列哪種社會情況，是在日治時期的臺灣可以看見的？(甲)查看時刻表搭火車 (乙)民眾糾紛上法院解決 (丙)羅漢腳聚集鬧事 (丁)小孩子在施打預防針 (戊)街道隨處可見保密防諜標語
 (A)甲、乙、丙 (B)甲、乙、丁
 (C)乙、丙、丁 (D)丙、丁、戊

【第 5 頁，共 5 頁，試題結束！】