

# 基隆市立武崙國民中學一〇七學年度第二學期第二次段考七年級地理科試題卷

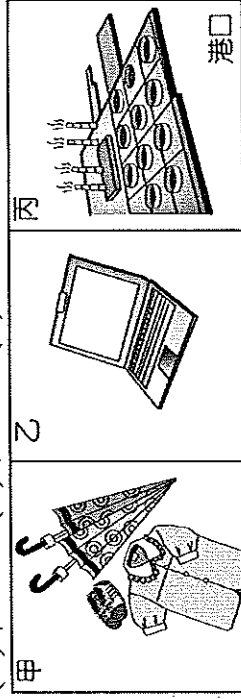
## 注意事項：

1. 本份試卷為單選題，每題 2 分，共 50 題，總分 100 分。
2. 答案卡限用 2B 鉛筆畫記，若畫記錯誤，請擦拭乾淨。分數以電腦讀卡分數為準。
3. 答案卡上的資料欄請確實填寫，若資料欄畫記錯誤導致電腦無法正確判讀，扣總分 10 分。

班級：七年 班座號： 姓名：

- ( ) 1. 附圖為臺灣工業發展不同時期主要工業產品及建設，若依時間先後順序，應為下列何者？

(A) 甲乙丙 (B) 甲丙乙 (C) 乙甲丙



- ( ) 2. 臺灣產品朝技術創新、特色產品開發及營運模式改善，協助傳統產業在質與量全面升級，其具備的工業特徵包括下列哪些？(甲)高附加價值(乙)外銷潛力大(丙)技術密集度高(丁)原料需求量大 (A) 甲乙丙 (B) 甲乙丁 (C) 甲丙丁 (D) 乙丙丁。

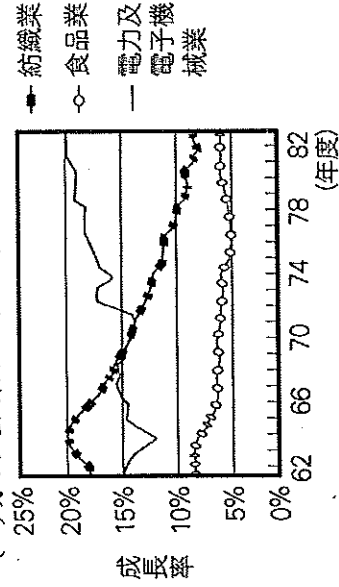
- ( ) 3. 附表是四個聚落的三級產業就業人口比例表，請問：哪兩個聚落最有可能是「鄉村」？

(A) 甲、乙 (B) 甲、丁 (C) 乙、丙 (D) 丙、丁。

產業類型 \ 聚落	就業人口(%)			
	甲	乙	丙	丁
第一級產業	66	10	13	71
第二級產業	18	38	26	12
第三級產業	16	52	61	17

- ( ) 4. 在工業類型的分類中，產品重量較重，工廠規模較大，通常需要較多資金的工業類型，稱為何種工業？(A)輕工業 (B)重工業 (C)高科技工業 (D)民生工業。

- ( ) 5. 附圖是某地區三種產業歷年平均受雇員工變動圖。從圖中變化的趨勢，可看出何種性質的產業有逐漸下滑的趨勢？(A)技術密集性的工業 (B)能源密集性的工業 (C)資本密集性的工業 (D)勞力密集性的工業。

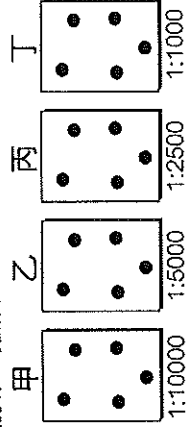


- ( ) 6. 臺灣的加工出口區是利用哪兩項優勢，吸引國外的資金及技術進入？(甲)廣大的市場(乙)廉價的勞力(丙)充足的原料(丁)優惠的政策 (A) 甲乙 (B) 乙丙 (C) 乙丁 (D) 丙丁。

- ( ) 7. 隨著臺灣工資不斷上揚、環保意識高漲等趨勢，目前許多傳統產業紛紛轉移至下列哪些國家或地區？(甲)中國(乙)東南亞(丙)南非(丁)西亞 (A) 甲乙 (B) 甲丁 (C) 乙丙 (D) 丙丁。

- ( ) 8. 就區位條件來判斷，麥當勞和肯德基這類速食店的設立地點，最適合選擇附圖中哪個地區？(A) 甲 (B) 乙 (C) 丙 (D) 丁。

說明：每點代表10000人



- ( ) 9. 下列何者的工業區位與其他三者不同？

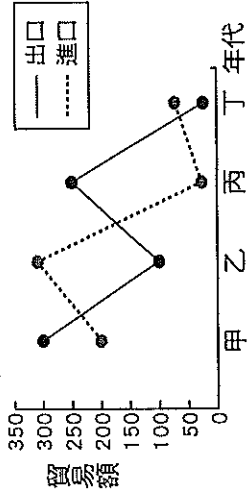
(A) 嘉南平原設置製糖廠 (B) 宜蘭蘇澳設置魚罐頭工廠 (C) 花蓮和平設置水泥廠 (D) 高雄設置石化工廠。

- ( ) 10. 量販店如「大潤發」和「家樂福」的設立地點多選在都市郊區，其原因有哪些？(甲)空間較寬廣(乙)地價較便宜(丙)人口較多(丁)停車較方便(戊)地形較平坦 (A) 甲乙丙 (B) 甲乙丁 (C) 乙丁戊 (D) 丙丁戊。

- ( ) 11. 下列有關觀光業的說明，何者錯誤？(A)近年來來臺觀光的旅客人數逐年上升 (B)臺灣因週休二日帶動國人休閒旅遊風氣 (C)觀光業可帶動相關產業如運輸、餐飲業發展 (D)故宮博物院屬於自然觀光資源。

- ( ) 12. 附圖為幸福國四個時期的貿易總額統計圖。請問：下列哪一個時期，幸福國入超情形最嚴重？(A) 甲 (B) 乙 (C) 丙 (D) 丁。

單位：億美元



- ( ) 13. 臺灣某一時期，經濟政策朝向技術、資本密集的高科技產業，政府成立投資策會，大量延攬海內外學人，將資訊、光電及生物科技等列為發展重點，擬定國家科技發展計畫。為配合此政策，政府還推行了下列哪一措施？(A)實施十大建設 (B)推動南向政策 (C)設置加工出口區 (D)成立科學工業園區。

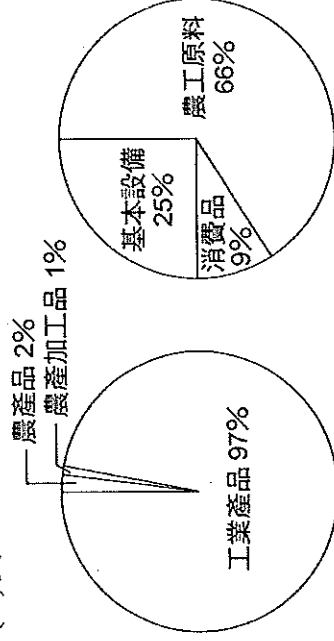
( ) 14. 臺灣早期有許多柑仔店(雜貨店), 裡面除了賣飲料也有很多童玩, 更是早期大家聯絡感情的地方。請問:「柑仔店」是屬於哪一種商業型態?  
(A)量販 (B)批發 (C)零售 (D)網路購物。

( ) 15. 近年來電視、網路等新式購物方式大行其道, 甚至捧紅了許多購物專家躍上螢幕。請問: 網路購物因可節省何項營運成本, 因此價格更具競爭力?  
(A)運輸成本 (B)購物成本 (C)店租成本 (D)生產成本。

( ) 16. 「矽谷」是美國高科技產業最早興起的地方, 下列哪個縣市最適合比喻為「臺灣矽谷」?  
(A)臺北市 (B)新竹市 (C)臺中市 (D)高雄市。

( ) 17. 臺灣國際貿易活動相當發達, 請問: 我國對於國際貿易依賴程度甚高, 其原因與下列哪些因素有關?  
(甲)自然礦產資源缺乏 (乙)疆域狹長 (丙)面積太小 (丁)地勢起伏山多田少 (丁)國內消費市場有限  
(A)甲乙 (B)丙丁 (C)甲丁 (D)乙丙。

( ) 18. 附圖為美滿國進口與出口貨品的比例圖, 由圖判斷, 下列敘述何者正確?  
(A)美滿國的資源非常豐富 (B)美滿國是農業加工品的主要出口國 (C)美滿國對外貿易的進出口值大於出口值 (D)美滿國的出口商品主要為工業產品。



主要出口產品結構


主要進口產品結構

( ) 19. 附表為 2006 年世界進口與出口貿易額排名前前五名的國家, 由表中數據推論, 下列何者為貿易入超國?  
(A)德國 (B)中國 (C)美國 (D)日本。

單位: 億美元

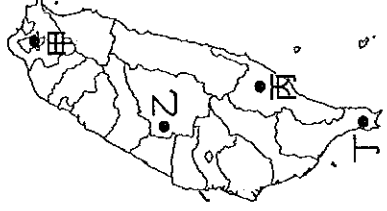
排名	出口額		進口額	
	國家	金額	國家	金額
1	德國	11,123	美國	19,196
2	美國	10,373	德國	9,102
3	中國	9,691	中國	7,916
4	日本	6,471	英國	6,008
5	法國	4,901	日本	5,775

( ) 20. 附圖為某年甲、乙、丙、丁四個國家與臺灣的貿易額統計圖, 已知臺灣對日本的入超額最大。請問: 何者最可能為日本?  
(A)甲 (B)乙 (C)丙 (D)丁。 單位: 億美元



( ) 21. 臺灣產業活動變遷過程中, 發展條件不斷轉換。根據現況判斷, 臺灣未來積極發展的方向應為下列何者?  
(A)自創品牌 (B)進口替代 (C)加工出口 (D)代工組裝。

( ) 22. 某跨國大型玩具連鎖店, 根據對國內市場潛力的判斷, 決定來臺開設分店。附圖中最適合設立分店的地點為何?  
(A)甲 (B)乙 (C)丙 (D)丁。



( ) 23. 所謂「都市化」指的是下列哪種現象?

(A)人口由鄉村向都市集中的過程 (B)都市出生率大於死亡率現象 (C)都市範圍擴張至鄰近鄉鎮的情形 (D)人口由都市移往鄉村的現象。

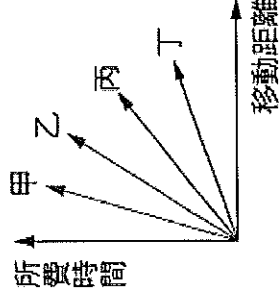
( ) 24. 恩亞在國家地理百科全書中, 查到某個國家的都市化程度為 27%, 由此判斷, 該國最可能呈現下列何種特色?  
(A)人口大多集中在鄉村 (B)人口大多從事服務業 (C)出生率與死亡率皆低 (D)平均國民所得非常高。

( ) 25. 附表為甲、乙兩國鄉村人口與總人口數比例資料, 請問: 下列何者正確?  
(A)甲國的都市化程度為 25% (B)乙國的都市人口數較甲國多 (C)甲國的都市化程度較高 (D)乙國的經濟發展程度較佳。

單位: 萬人

	甲	乙
鄉村人口數	25	25
總人口數	100	50

( ) 26. 玳玳將空運、水運、鐵路、公路等四種交通方式, 依運輸距離與所需時間的關係畫成比較圖, 如附圖所示, 請問: 空運應為圖中那一條線?  
(A)甲 (B)乙 (C)丙 (D)丁。



( ) 27. 交通建設的發達, 使得貨物間的往來更加便捷與頻繁。請問: 下列情況與運輸方式的配對, 何者最合適?  
(A)印尼進口木材到臺灣: 水運  
(B)拉山的水蜜桃宅配到家: 鐵路  
(C)荷蘭生產的鬱金香運送到臺灣: 公路  
(D)新鮮漁獲由宜蘭南方澳漁港送至臺北的圓山大飯店: 空運。

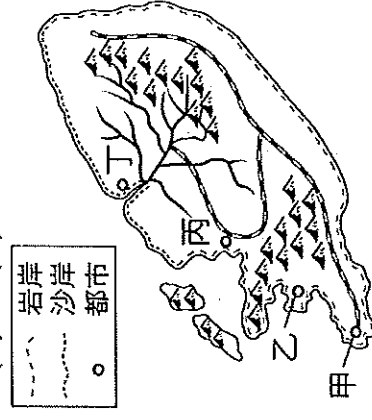
- ( ) 28. 臺灣的公路依行政系統分為四級，附圖為哪一類公路的專用標誌？(A)國道 (B)省道 (C)縣道 (D)快速公路。



- ( ) 29. 中國和臺灣都已加入世界貿易組織(WTO)，且於西元 2008 年底開放兩岸三通，使得兩岸在貿易上的接觸更加頻繁。兩岸商品大多選擇海輪運輸，這是因為海運具有下列哪項優點？(A)適應地形能力強 (B)機動性高 (C)速度較快 (D)運費較低。

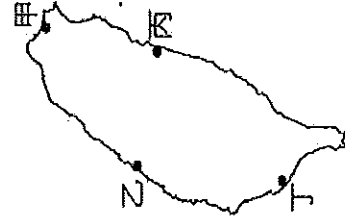
- ( ) 30. 都市快速發展後，如臺北市出現人口密集、交通擁擠的現象。下列何種運輸工具用來解決都市內部通勤族的交通需求成效可能最佳？(A)捷運 (B)國內航空 (C)高速公路 (D)高速鐵路。

- ( ) 31. 附圖是一假想島嶼上四個港口的位置圖。由附圖判斷，何者的腹地範圍最小？(A)甲 (B)乙 (C)丙 (D)丁。



- ( ) 32. 李老闖是清乾隆年間在滬尾做蔗糖批發生意的商人，他每年都固定會坐船到安平補貨數次。請問：當時李老闖不考慮陸運而選擇海運，最主要的考量因素應為下列何者？(A)山脈阻隔 (B)河流多為東西流向 (C)治安不佳，盜匪眾多 (D)航海技術較高。

- ( ) 33. 附圖為臺灣四大國際性海港的位置圖，請問：哪一個海港由潟湖興建而成，為臺灣最大的國際港？(A)甲 (B)乙 (C)丙 (D)丁。



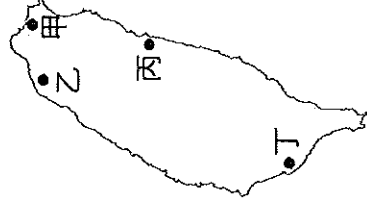
- ( ) 34. 瓊瑟地理報告要研究海棉聚落是屬於鄉村或都市，下面哪項資料對於瓊瑟的研究幫助不大？(A)居民財產 (B)人口密度 (C)人口數量 (D)居民職業。

- ( ) 35. 交通是指兩地之間人口、貨物與資訊的往來流通，可分為通訊及運輸兩大類，請問：下列哪些屬於通訊？(甲)郵政(乙)管線(丙)通訊衛星(丁)網際網路 (A)甲乙丙 (B)甲乙丁 (C)甲丙丁 (D)乙丙丁。

- ( ) 36. 下表為臺灣某四個都市擁有的交通方式，請根據其相關特色判斷，何者最可能是高雄市？(A)甲 (B)乙 (C)丙 (D)丁。

	空運	高鐵	捷運	公路	海運
甲	○	○	×	○	×
乙	○	○	○	○	○
丙	○	○	×	○	○
丁	○	×	×	○	○

- ( ) 37. 請問附圖哪一個機場為民國 60 年代「十大建設」之一，且為臺灣國際旅客與貨運的主要航空運輸門戶？(A)甲 (B)乙 (C)丙 (D)丁。



※請閱讀以下新聞，回答下列問題：

蔣渭水高速公路(北宜高速公路)北起南港，南至蘇澳，全長 54 公里。該路段最艱鉅的工程是全長 12.9 公里的公路隧道——雪山隧道，因受地質影響，施工期長達十多年，施工期間備極艱辛。民國 95 年 6 月通車後，大幅縮短臺北與宜蘭間行車時間，加速宜蘭產業及觀光遊憩的發展。

高速鐵路則是繼雪山隧道之後，臺灣人所完成的巨大工程，民國 96 年初全線通車後，南北往來的時間不再那麼漫長，從臺北到高雄，只要 90 分鐘。在時間就是金錢的時代，相信它會帶動臺灣的經濟發展。

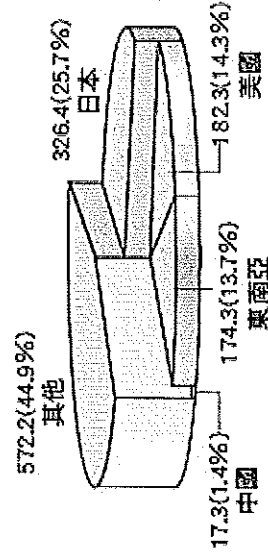
- ( ) 38. 蔣渭水高速公路開通後，搭乘下列哪條鐵路線的旅客可能會減少？(A)北迴線 (B)南迴線 (C)縱貫線 (D)宜蘭線。

- ( ) 39. 下列對於蔣渭水高速公路通車後的影響，何者錯誤？(A)帶動宜蘭的觀光業發展 (B)利於宜蘭農產品運送行銷 (C)促進西部平原產業專業化 (D)縮短臺北與宜蘭間的行車時間。

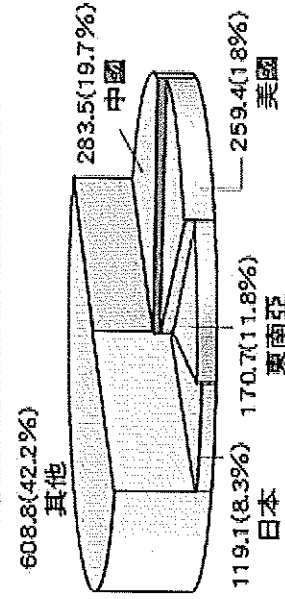
- ( ) 40. 高速鐵路通車後，對於臺灣各項產業的影響何者正確？(A)國道運輸更繁忙 (B)國內旅遊業更興盛 (C)航空運輸業更蓬勃發展 (D)勞力密集的工業可望從中國回流。

※附圖是臺灣某一年進出口地區貿易產值比例圖，請由圖中數據判斷，並回答下列問題：

**進口總值1,272.5億美元**



**出口總值1,441.5億美元**

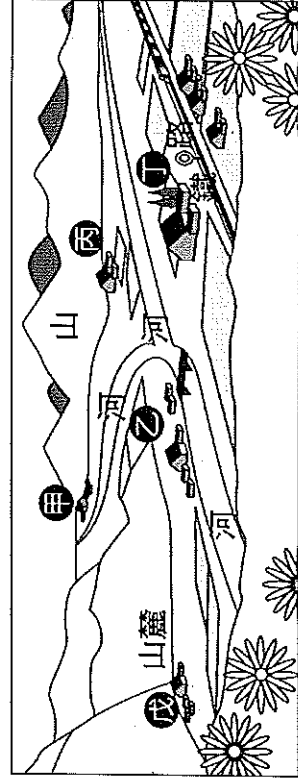


( ) 41. 臺灣的國際貿易在哪些地區呈現「入超」？

(甲)日本(乙)中國(丙)美國(丁)東南亞 (A)甲乙  
(B)甲丁 (C)乙丙 (D)丙丁。

( ) 42. 根據圖中數據判斷，請問：下列何者與臺灣貿易總額最高，與臺灣貿易關係密切？(A)日本 (B)美國 (C)中國 (D)東南亞。

※附圖為甲、乙、丙、丁、戊五個集村的示意圖。請問：



( ) 43. 圖中甲、乙、丙、丁、戊五個集村，何處最有可能發展成為都市？(A)甲乙 (B)乙丁 (C)丙丁 (D)丙戊。

( ) 44. 承上題，此兩地發展成為都市與下列哪項因素最有關係？(A)地形 (B)氣候 (C)資源 (D)交通。

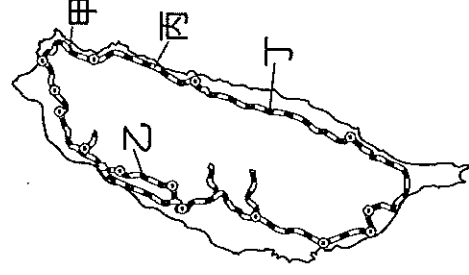
※交通是經濟發展的原動力，由於地理環境的差異，各地的交通也會因而有所不同。請問：

( ) 45. 「臺灣的鐵路分布不如公路普及。」此現象與下列鐵路的哪一特性關係最密切？(A)適應地形能力較差 (B)運輸費用較昂貴 (C)行車花費時間較長 (D)客貨的載運量較小。

( ) 46. 臺灣有許多陸上交通路線，下列哪一項交通建設，對臺灣東部地區的發展與聯絡所產生的貢獻度最低？(A)中山高速公路 (B)北迴鐵路 (C)南迴鐵路 (D)花東公路。

( ) 47. 「北宜高速公路是現今由臺北到宜蘭的捷徑，與北宜公路相較路程較短，較節省時間。」北宜高速公路的興建主要突破了下列哪個地形障礙？(A)雪山山脈 (B)中央山脈 (C)海岸山脈 (D)玉山山脈。

※附圖為臺灣鐵路分布圖，請問：



( ) 48. 莫拉克颱風重創南臺灣，導致南迴鐵路柔腸寸斷，交通完全中斷。這時哪兩縣市居民與貨物往來益加困難？(A)基隆市、新北市 (B)臺南市、高雄市 (C)臺北市、宜蘭縣 (D)臺東縣、屏東縣。

( ) 49. 十大建設完成的北迴鐵路，位於圖中哪一段？(A)甲 (B)乙 (C)丙 (D)丁。

( ) 50. 高速鐵路通車，對哪一路段的營運衝擊最大？(A)甲 (B)乙 (C)丙 (D)丁。

(題目到此結束，請再仔細檢查~)