

基隆市立武崙國民中學一〇七學年度第二學期第三次段考七年級歷史科試題卷

注意事項：

1. 本份試卷為單選題，每題 2 分，共 50 題，總分 100 分。
2. 答案卡限用 2B 鉛筆畫記，若畫記錯誤，請擦拭乾淨。分數以電腦讀卡分數為準。
3. 答案卡上的資料欄請確實填寫，若資料欄畫記錯誤導致電腦無法正確判讀，扣總分 10 分。


班級：七年_____ 班座號：_____ 姓名：_____

- () 1. 我國政府發布文告：「海內外全體同胞們：第 26 屆聯合國大會違反《憲章》規定，通過阿爾巴尼亞等附匪國家之提案，牽引毛共匪幫竊取中華民國在聯合國及安全理事會中的席位；我們本『漢賊不兩立』之立場及維護《憲章》之尊嚴，已在該案支付表決之前，宣布退出所參與締造的聯合國……」。請問：此文告最有可能是
在哪一年發布的？(A)1945 年 (B)1960 年
(C)1971 年 (D)1979 年。

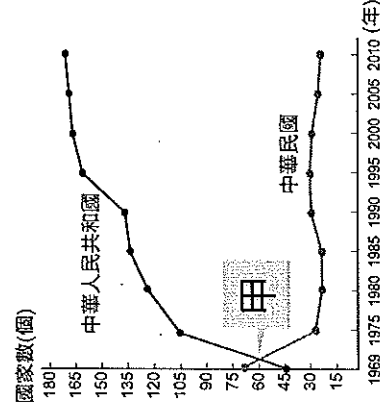
- () 2. 中華民國播遷來臺灣時，臺海形勢原本頗為緊張，後因哪場戰爭爆發，美國派軍艦協防臺灣海峽，並給予我國協助？(A)韓戰 (B)越戰
(C)八二三炮戰 (D)古寧頭戰役。

- () 3. 民國 38 年政府來臺，在缺乏豐富天然資源的條件下，締造出眾所矚目的臺灣經濟奇蹟。當時政府最先實施哪一方面的改革，奠定日後經濟發展的基礎？(A)國防 (B)土地 (C)貿易
(D)教育。

- () 4. 附圖中的事件發生於臺北，激動的群眾認為美國背棄了臺灣，所以拿著國旗與海報抗議。圖中協商的美國代表團，並蛋洗其座車。請問：圖中激動的群眾是為了抗議何事？(A)臺灣退出聯合國 (B)美國宣布與中共建交 (C)第七艦隊協防臺灣海峽 (D)美國派軍援助南韓。



- () 5. 附圖是中華民國與中華人民共和國邦交變化曲線表。表中兩條曲線相交的甲，發生了何事？
(A)臺灣與美國斷交 (B)韓戰爆發 (C)臺灣退出聯合國 (D)八二三炮戰。



- () 6. 民國 43 年，美國和臺灣簽訂《中美共同防禦條約》，其目的為何？(A)要求臺灣參加韓戰
(B)幫助臺灣反攻中國 (C)將臺灣納入反共防衛體系 (D)與臺灣維持非官方往來。

- () 7. 中華人民共和國因下列何項事件，對我國改採「和平統戰」的策略？(A)韓戰爆發 (B)古寧頭大捷 (C)中共與美國建交 (D)臺灣退出聯合國。

- () 8. 承上題，中華人民共和國改以「和平統戰」的策略，進一步提出「一國兩制」時，我國則採取何種對策回應？(A)堅決反共，以反攻大陸為號召 (B)提出「三通四流」，加強兩岸經貿合作 (C)開放民眾赴大陸探親，讓大陸同胞了解臺灣的富裕 (D)堅持「三不政策」，以不接觸、不談判、不妥協因應。

- () 9. 有關國際局勢與兩岸關係的演變：(甲)退出聯合國 (乙)臺美斷交 (丙)韓戰爆發 (丁)發布戒嚴令。若按照時間先後排列，下列順序何者正確？

(A)甲丁乙丙 (B)乙丙甲丁 (C)丙丁乙甲 (D)丁丙甲乙。

- () 10. 「不再堅持中華民國是代表中國的唯一合法政府，強調兩岸是處於分裂分治的對等政治實體。」上述這種理念是下列哪個階段的外交政策？(A)鞏固外交 (B)務實外交 (C)彈性外交 (D)金援外交。

- () 11. 附表是民國 70 年代以後，臺灣所出現的部分社會運動，根據內容判斷，下列哪一項為表中四種社會運動所共同具有的特性？(A)以獲取政府補助為最終目標 (B)以促進自由民主為目的 (C)以爭取社會公平正義為訴求 (D)均採用暴力抗爭活動為手段。

興起時間	社會運動
民國 71 年	女權運動
民國 76 年	農民運動
民國 79 年	車禍受難者救援運動
民國 81 年	雜技救援與終止運動

- () 12. 一九五〇年代，中共總理周恩來曾經發表一篇措詞極為強硬的聲明，內容強調「美國與臺灣簽訂的□□是干涉中國內政，並試圖割裂中國領土，中國將無法容忍此一條約，中國必將有所行動。」請問：□□應是下列何者？(A)《臺灣關係法》 (B)《中美共同防禦條約》 (C)《國家統一綱領》 (D)《動員戡亂時期臨時條款》。

()13. 宣布解嚴以後，由於臺灣與中共的主張不同，使兩岸情勢一度緊張。此時因為政府各項政策的開放，雙方緊繃的關係才得以減緩。下列那一政策最先施行？(A)小三通 (B)兩岸直航 (C)開放探親 (D)一國兩制。

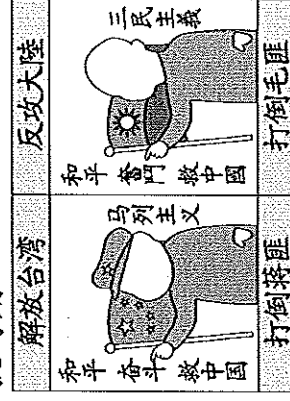
()14. 一部回憶錄寫道：「當時是民國47年，我們的基地一天要接受數十數百顆炮彈的攻擊，短短44天，敵人總共發射了四十萬顆以上的炮彈。」請問：此一戰役為下列何者？(A)古寧頭戰役 (B)八二三炮戰 (C)韓戰 (D)國共內戰。

()15. 2017年是英國將香港主權移交中國20週年紀念，港媒一社論以「香港回歸20年一國兩制『失敗地成功』」為標題；請問：當時中共領導人鄧小平提出「一國兩制」，他所針對的除了香港、臺灣外，還有下列哪個地區？(A)澳門 (B)廈門 (C)西藏 (D)新疆。

()16. 地理老師介紹某個國家，他說：「這個國家曾為亞洲四小龍之一，並在解嚴後的兩岸關係中扮演重要角色，民國82年的辜汪會談、民國104年的馬習會就是在此進行。」請問：這是哪個國家？(A)新加坡 (B)日本 (C)臺灣 (D)香港。

()17. 承上題，海基會董事長辜振甫曾與海協會會長汪道涵在民國82年舉行世人矚目的辜汪會談。根據當時的局勢來看，會舉辦辜汪會談應是屬於下列哪一階段的外交政策？(A)務實外交時期 (B)鞏固外交時期 (C)全援外交時期 (D)彈性外交時期。

()18. 小武繪製了附圖中的兩幅海報，這可用來表示哪一時期的兩岸關係？(A)政治對峙時期 (B)國際角力時期 (C)兩岸交流時期 (D)武力對抗時期。



()19. 「世界上沒有永遠的敵人與永遠的朋友」，海峽兩岸的發展剛好可以驗證這句話。下列關於兩岸關係的描述，何者正確？(A)民國四十年代，中共提出「一國兩制」(B)民國六十年代，我國提出「三通四流」(C)海協會為我國的民間交流機構 (D)李登輝時代，兩岸進行交流對談。

()20. 「政府以債券、股票等徵購地主土地，再轉讓佃農取得土地所有權。而地主則用債券、股票投資工商業，有助於臺灣工商業的發展。」請問：這是政府推行的哪一項改革？(A)三五五減租 (B)公地放領 (C)農地重劃 (D)耕者有其田。

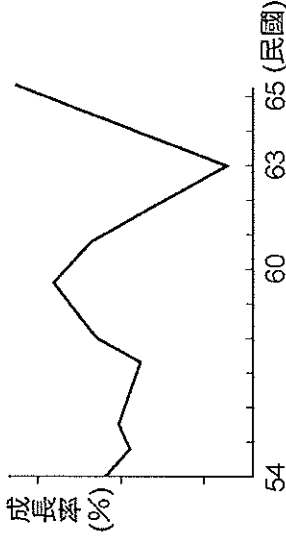
()21. 附圖為戰後初期國民政府所推動的土地改革措施，其實施先後順序為下列何者？(A)甲乙丙 (B)甲丙乙 (C)乙丙甲 (D)丙乙甲。



()22. 承上題，請問這些土地改革所造成的影響，下列何者錯誤？(A)佃農逐漸成為自耕農

(B)農業生產提高，改善農民生活 (C)地主將資金轉投於工商業，有助於工商業發展 (D)臺灣正式從農業社會邁向工業社會。

()23. 附圖為民國54年到65年臺灣經濟成長率的曲線圖。請問：為何曲線在60年代初期突然大幅下降？(A)世界能源危機 (B)臺灣退出聯合國 (C)臺美斷交 (D)受到中共飛彈威脅。




()24. 承上題，當時政府採取何種方式促進國內景氣復甦？(A)推動十大建設 (B)進行土地改革 (C)向美國尋求援助 (D)成立科學園區。

()25. 為使臺灣經濟自由化與國際化，我國近年來積極參與國際組織，目前已經成功加入的有下列何者？(甲)世界貿易組織(乙)亞太經濟合作會議(丙)世界衛生組織(丁)聯合國 (A)甲乙 (B)甲丁 (C)乙丙 (D)甲乙丙丁。

()26. 附圖的書籍曾經被翻拍成電影，劇情感人熱淚，也見證臺灣社會發展過程中，市井小民的心酸。這種描寫臺灣中下階層生活的作品屬於哪種文學？(A)鄉土文學 (B)懷鄉文學 (C)反共文學 (D)兒童文學。

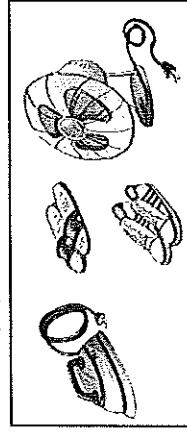
兒子的大玩偶

● 黃春明著



()27. 臺灣經濟建設分成幾個階段：(甲)進口替代 (乙)十大建設(丙)自由化、國際化(丁)出口導向。按照時間的先後順序排列，下列何者正確？(A)甲丁乙丙 (B)乙丙甲丁 (C)丙乙甲丁 (D)丁丙甲乙。

- ()28. 附圖是某時期我國主要外銷商品示意圖。請問：關於此時期的經濟發展敘述何者正確？
 (甲)工業類型以輕工業為主(乙)利用便宜的勞工及優惠的政策吸引外資和技术(丙)設立新竹科學工業園區(丁)配合南向政策，大量僱用國際移民。
 (A)甲乙(B)甲丁(C)乙丙(D)乙丁。

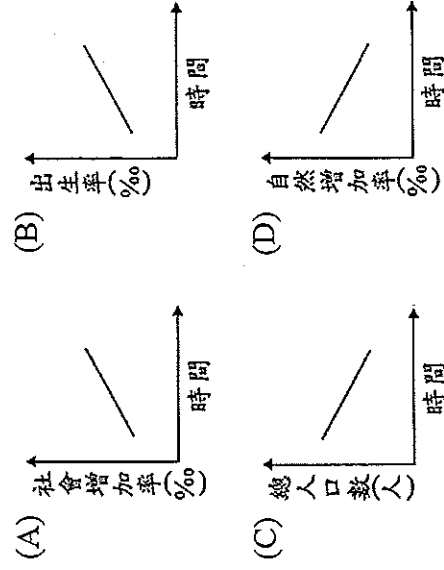


- ()29. 戰後臺灣的出口產品有：(甲)加工食品、紡織、服飾(乙)米、糖等農產品(丙)電子產品、塑膠、化工產品等。依時間先後排序，正確的組合為何？
 (A)甲乙丙(B)乙甲丙(C)乙丙甲(D)丙乙甲。

- ()30. 附表為臺灣在不同政權統治下官方的重要教育措施，若按其施行的時間先後排列，下列何者正確？
 (A)甲乙丙(B)乙甲丙(C)丙甲乙(D)甲丙乙。

教育措施
甲、設西學堂、電報學堂
乙、建立公學校及小學校
丙、推行九年國民義務教育

- ()31. 臺灣人口政策的口號由「兩個孩子恰恰好，一個不嫌少」轉變為「兩個孩子恰恰好，三個更熱鬧」。下列哪一個圖形最能用來說明上述口號轉變的原因？



- ()32. 有關近年來臺灣教育的發展，下列何者錯誤？
 (A)臺灣最早的義務教育始於日治時期
 (B)日治時期，臺北帝國大學是第一所專收臺人的高等教育機構
 (C)為培育經濟發展所需人才，政府大力推展技職教育
 (D)近年來陸續推動多元入學、十二年國民基本教育等措施。
 ()33. 民國四十年代，政府開始推行「國語運動」，禁止學生在學校使用方言，請問：下列關於國語運動的說明，何者錯誤？
 (A)「國語」指的是閩南語
 (B)目的為提倡中華文化，培養人民對國家的認同感
 (C)為保存各族群語言，民國九十年代，各小學開始實施母語教學
 (D)日治時期為了強化臺灣人對日本的愛國心及犧牲精神，也曾推動「國語運動」。

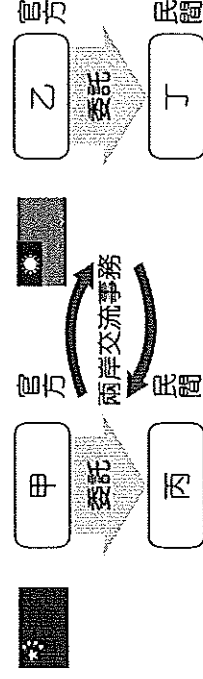
- ()34. 臺灣自加入 WTO 之後，除了享受會員國的權利之外，也必須面對許多衍生的問題。附表為 2006 年我國國產稻米與美國進口稻米之價格比較，造成二者差異的原因，與下列何項臺灣農業特色的關連性最密切？
 (A)生產集約度下降
 (B)農村人口高齡化
 (C)農場經營規模小
 (D)休閒農業的興起。

產地	平均價格(新臺幣/公斤)
臺灣	25.74
美國	15.71

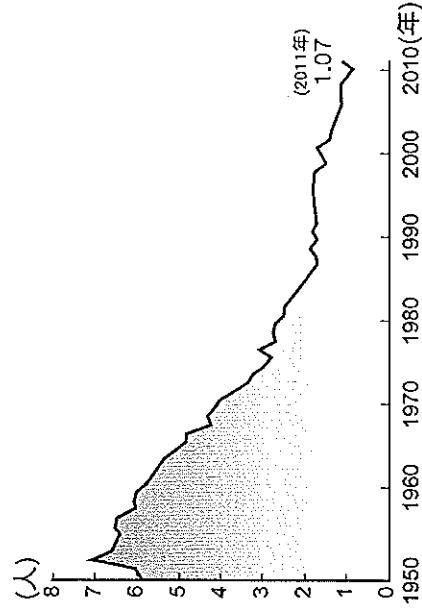
- ()35. 附圖中的漫畫是民國 57 年臺灣政府推動的某項政策，從圖中內容判斷，此一政策為何？
 (A)實施六年國民義務教育
 (B)推動十二年國民基本教育
 (C)實施多元入學
 (D)實施九年國民義務教育。



- ()36. 附圖是兩岸交流事務處理機構的示意圖，根據圖中的內容判斷，圖中的「乙」應該是下列何者？
 (A)大陸委員會
 (B)海峽兩岸關係協會
 (C)海峽交流基金會
 (D)臺灣事務辦公室。



- ()37. 附圖是臺灣某項統計資料的曲線圖。請問：這張圖的標題應為下列何者？
 (A)臺灣扶養比推估圖
 (B)臺灣老年人口比例統計圖
 (C)臺灣新移民比例統計圖
 (D)臺灣生育率變化圖。



- ()38. 承上題，請問為解決此現象所導致的社會問題，政府推行下列哪項政策？
 (A)鼓勵生育、推動育嬰假及生育津貼
 (B)老人安養與國民年金
 (C)實施全民健康保險
 (D)開放僱用國際移工。

【背面尚有試題，請翻頁繼續作答！】

()39. 國民政府在民國38年底遷臺之後，外交政策曾幾度改變，請按照先後順序排列，下列何者正確？(甲)務實外交(乙)鞏固外交(丙)彈性外交
(A)甲乙丙 (B)乙甲丙 (C)乙丙甲 (D)丙乙甲。

()40. 有關臺灣原住民的敘述，下列何者錯誤？

(A)臺灣的原住民屬於南島語族 (B)臺灣原住民比例最高的縣市是屏東縣 (C)民國86年，「原住民族」的名稱正式入憲 (D)民國94年制定《原住民民族基本法》，原住民的權益取得法律保障。

()41. 附表是臺灣在西元1951~1965年間的某項收入占全年歲入比例，請問：上述的「某項收入」最可能來自以下何者？(A)美國的經濟援助 (B)土地改革的稅收 (C)鴉片樟腦專賣收入 (D)加工出口區稅收。

□歲入：一年中的總收入

年代	占全年歲入比例
1951	47.3%
1955	49%
1958	27.4%
1960	37.9%

※阿武的爸爸是一家紡織工廠的老闆，於民國五十年代在配合政府的經濟政策下成立，原本經營得有聲有色，但近年來因為臺灣經濟環境的變化，使他考慮將工廠遷至海外發展。請問：

()42. 阿武的爸爸當時是配合政府的哪項經濟政策而設立紡織工廠？(A)進口替代 (B)出口導向 (C)產業升級 (D)十大建設。

()43. 阿武的爸爸考量到「臺灣經濟環境的變化」，此與下列何者有關？(A)勞工素質低落 (B)貧富差距懸殊 (C)勞工工資提高 (D)中共武力威脅。

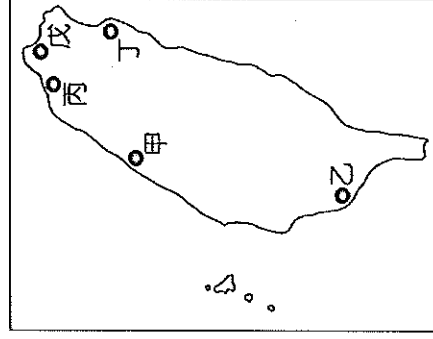
※《輾轉紅蓮》是作家廖輝英從女性視角所寫的一本小说，描寫女主角蓮花從日治後期到民國的一生。其中有一段是蓮花在街上聽到政府新公布的政策後氣急敗壞就病倒了，新政策是說超過水田三甲或旱田六甲的土地擁有者，必須將多餘土地所有權以耕地正產物(稻穀甘藷)全年收穫總量2倍半(分十年均等攤還)賣給政府，再由政府統籌分配。蓮花一家原本可以靠著地租過活，但將土地賣給政府後，收回的地租就不夠一家人開銷了。請問：

()44. 文中這項政府新政策可能是以下哪一政策？

(A)三七五減租 (B)耕者有其田 (C)公地放領 (D)土地收歸公有。

()45. 上文中，蓮花聽到政府新政策公布的年代，當時的臺灣經濟狀況為何？(A)轉以發展外銷為主 (B)遭逢能源危機衝擊 (C)美國提供經濟援助 (D)產業西進中國設廠。

※十大建設對臺灣的經濟起飛發揮了不可抹滅的貢獻。請依據附圖回答下列問題：



()46. 「甲地」的建設為我國對外聯絡的重要交通設施，請問是下列何者？(A)中正國際機場 (B)蘇澳港 (C)臺中港 (D)中山高速公路。

()47. 「乙地」未包括下列哪一項建設？(A)核能發電廠 (B)石油化學工業 (C)大煉鋼廠 (D)中國造船廠。

()48. 十大建設中，以下列哪方面的建設比例最高？(A)高科技產業 (B)能源建設 (C)交通建設 (D)石油化學工業。

※閱讀下列選文，回答第49至50題：

下文是某人自述其生平的摘要：

公學校畢業後，我在家鄉苗栗做雜工，後來由於當時的統治者實施徵兵，我被徵召成為皇軍，為躲避美軍的轟炸，每天挖防空洞。

光復後，國軍接收臺灣，並以高薪吸引青年從軍，我馬上報名參加，之後政府派遣我們到中國大陸參與內戰。在我們部隊轉移陣地的過程中，遭到敵軍的埋伏，我被俘虜並編入敵軍，轉而對國軍作戰。

1949年後，我在中國大陸落地生根，因兩岸對立，長期無法和臺灣家中聯絡，直到臺灣的政策改變，開放兩岸探親，才得以和家人重逢。

()49. 上文中主角的身分在不同時期而有所差異，

下列何者正確呈現出這種轉變？

(A)國民政府的士兵→共產黨的士兵→臺灣日本兵
(B)國民政府的士兵→臺灣日本兵→共產黨的士兵
(C)臺灣日本兵→共產黨的士兵→國民政府的士兵
(D)臺灣日本兵→國民政府的士兵→共產黨的士兵

□臺灣日本兵：指臺灣籍的日本兵

()50. 上文中「臺灣的政策改變」最可能是指下列何者？(A)解除戒嚴 (B)退出聯合國 (C)實施地方自治 (D)實施一國兩制。

【試題到此結束，請再檢查一次！】