

基隆市立武崙國民中學一〇七學年度第二學期第三次段考八年級地理科試題卷

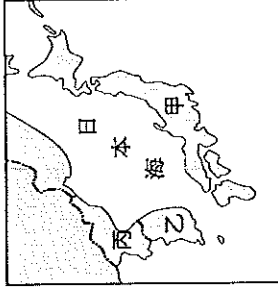
注意事項：

1. 本份試卷為單選題，每題 2 分，共 50 題，總分 100 分。
2. 答案卡限用 2B 鉛筆畫記，若畫記錯誤，請擦拭乾淨。分數以電腦讀卡分數為準。
3. 答案卡上的資料欄請確實填寫，若資料欄畫記錯誤導致電腦無法正確判讀，扣總分 10 分。

班級：八年 班座號： 姓名： _____

- () 1. 日本工業區多分布於太平洋沿岸，主要的因素為何？(A)利用當地豐富的水力 (B)方便原料和產品進出口 (C)當地擁有較高技術的勞工 (D)沿海地區有豐富的礦產資源。
- () 2. 小蘆將信放入瓶中，希望瓶子可以從蘇澳港漂至日本橫濱，那麼須順著下列哪條洋流而行才有機會到達日本？(A)黑潮 (B)親潮 (C)中國沿岸流 (D)北大西洋暖流。

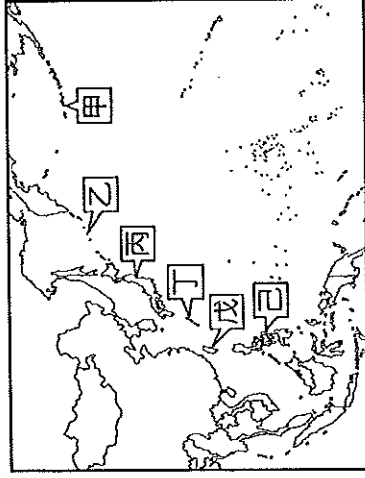
- () 3. 附圖為東北亞行政區圖，請問有關甲國的自然資源敘述正確為何？(A)河流短小，缺乏水力 (B)石油可滿足國內需要 (C)礦產貧乏，森林資源豐富 (D)礦產資源豐富。



- () 4. 2012 年，某作物的世界前四大出口國為泰國、印尼、越南和馬來西亞。根據這些國家的自然環境特徵判斷，該作物最可能為下列何者？

- (A)小麥 (B)棉花 (C)橄欖 (D)橡膠。
- () 5. 「新加坡的土地面積雖然不大，但因具有某項優越的條件，加上政府政策的指導，成功地讓新加坡的煉油產業快速發展，現已成為世界第三大煉油中心。」文中所述的優越條件應是指下列何者？(A)為主要石油生產國 (B)人口多且勞力充足 (C)地理位置佳且海運便利 (D)國內重工業市場需求大。

- () 6. 附圖是西太平洋的區域圖，「菲律賓群島、琉球群島、日本群島、臺灣、千島群島、阿留申群島」等六大群島，合稱為「東亞島弧」，又稱「花線列島」。如果將圖中的甲~己按照上述的順序排列，下列何者正確？(A)甲丁丙戊己乙 (B)己甲丙戊乙丁 (C)甲乙丙丁戊己 (D)己丁丙戊乙甲。



- () 7. 臺灣與日本皆屬「東亞島弧」的範圍，下列有關這兩個國家的地理特徵，何者正確？(A)內河航運皆不發達 (B)降水集中於冬季 (C)平原多分布在西部 (D)東部皆鄰大西洋。

- () 8. 附表為四個地區的年雨量及氣溫資料表，請問：哪一個地區較可能是「熱帶季風氣候」？

地區	年雨量 (mm)	一月月均溫 (°C)	七月月均溫 (°C)
(A)甲	19	-8.1	33.2
(B)乙	483	19.2	25.4
(C)丙	1,223	3.5	28.8
(D)丁	2,290	20.4	28.0

- () 9. 小鍾老師在上課提到日本的經濟發展，下了這樣的注解：「國際貿易是日本的經濟命脈」，請問：針對這句話，下列哪位同學的看法較正確？(A)小西：「陸上交通以鐵路為主，運輸繁忙。」(B)小南：「海岸曲折多良港，國際港口眾多。」(C)小東：「工業原料仰賴進口，產品運銷全球。」(D)小北：「產品品質佳，價格低廉，競爭力強。」

- () 10. 「這個地區早期被稱為 Gangaridai，意謂『恆河位於土地的心臟地帶』。雖然現在當地居民的主要宗教信仰，已經由印度教轉變為伊斯蘭教，也不再視恆河為聖河，但是河水仍然影響著人們的衣食住行。」上述地區的範圍應約略等於現今哪一國家？(A)印度 (B)孟加拉 (C)巴基斯坦 (D)斯里蘭卡。

- () 11. 太平洋與印度洋為早期東西航海貿易往來的必經地區。請問：下列哪一個海峽位於兩大洋的必經地區？(A)直布羅陀海峽 (B)巴士海峽 (C)英吉利海峽 (D)麻六甲海峽。

- () 12. 「□□江水流湍急，水量豐穩，蘊藏豐富水力，北韓目前已開發水豐及雲豐兩處水力發電廠，所生產的電力除了供應本國之外，也提供中國使用。」文中空格所指的應是下列哪條河川？(A)雅魯藏布江 (B)黑龍江 (C)烏蘇里江 (D)鴨綠江。

- () 13. 東南亞由中南半島及南洋群島組成，關於兩地的比較，何者正確？

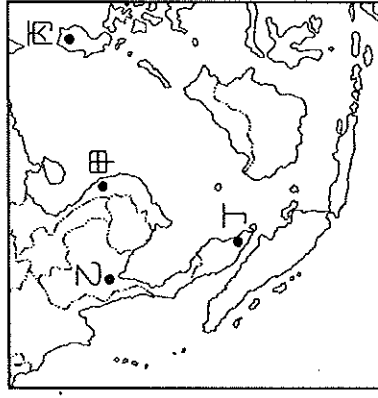
	(A)地形	(B)氣候	(C)降雨	(D)宗教
中南半島	多火山地震	熱帶季風	多對流雨	伊斯蘭教盛行
南洋群島	平原廣大	熱帶雨林	多鋒面雨	佛教為主

()14. 中國籌畫在雲南縱谷區湄公河上游興建多座水庫，這些水庫興建完成後，將影響到下游的用水和生態環境。請問：下列哪一半島會受到影響？(A)朝鮮半島 (B)印度半島 (C)中南半島 (D)阿拉伯半島。

()15. 朝鮮半島東岸多雨、西岸少雨，主要是因為季風風向所造成的降水空間差異。請問：該半島冬季與夏季的風向分別為下列何者？

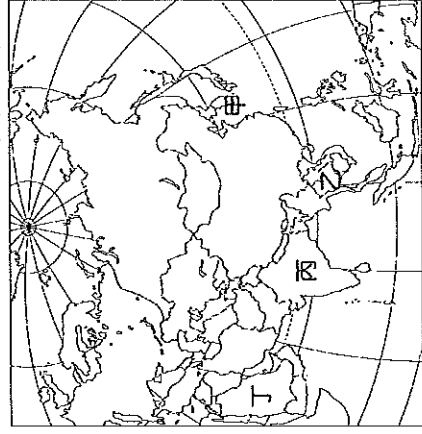
(A)→, ← (B)↓, ↑ (C)↙, ↗ (D)↘, ↖

()16. 因故鄉的文化與中國相近，阿水來到臺灣擔任看護工作，適應相當良好。由於她聰明勤勞，很快學會中文，再加上故鄉過去的被殖民經驗，使得她還會說一些法文，她的雇主對她相當滿意，把她當作女兒般疼愛。請問：阿水的故鄉可能位於附圖中的何處？(A)甲 (B)乙 (C)丙 (D)丁。



()17. 東南亞國家的大都市多位於港口附近，如馬尼拉、雅加達、新加坡。這些城市的興起與下列者關係最密切？(A)河口三角洲 (B)戰略地位重要 (C)方便輸出農礦原料 (D)氣候涼爽舒適。

()18. 附圖為亞洲各半島位置圖，素有「東亞陸橋」之稱的是哪個半島？(A)甲 (B)乙 (C)丙 (D)丁。



()19. 在每年的7月至10月間，菲律賓常受到一種當地稱為「碧瑤」的天氣系統影響。此種系統是由廣大海面上的熱帶性低氣壓發展而成，為當地帶來豐沛的降雨。根據上述資訊判斷，「碧瑤」應是指下列何者？(A)梅雨 (B)颱風 (C)龍捲風 (D)沙塵暴。

()20. (甲)中國北部區域；(乙)朝鮮半島；(丙)日本群島。上列三地，其緯度相近，年溫差卻有所差異。其年溫差由大至小依序排列為何？(A)甲乙丙 (B)乙甲丙 (C)乙丙甲 (D)丙乙甲。

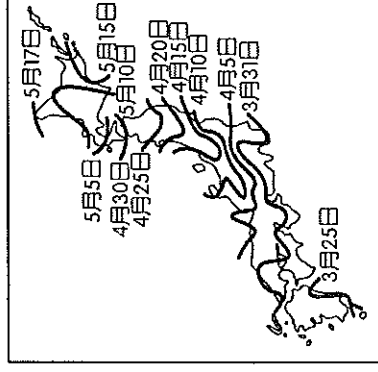
()21. 鈺翔正在閱讀亞洲的資料，附表是亞洲地區四個國家的產業人口組成一覽表。請問：根據表中資料判斷，哪個國家最可能是日本？

國家	第一級產業	第二級產業	第三級產業
(A)甲	62%	11%	27%
(B)乙	6%	33%	61%
(C)丙	27%	27%	46%
(D)丁	15%	32%	53%

()22. 越南、泰國為世界重要稻米出口國，兩地盛產稻米的原因，除了高溫多雨的氣候條件外，還與下列哪一種環境最有關係？(A)多港埠型的都市 (B)三角洲面積廣大 (C)中印文化的影響 (D)受殖民國的統治。

()23. 春季為日本著名的賞櫻季節，滿開的櫻花花海吸引來自世界各地的觀光客前往，附圖為日本民間機構公布的櫻花開花日期預測。請問：下列哪一個地方的櫻花開花時間會最早？

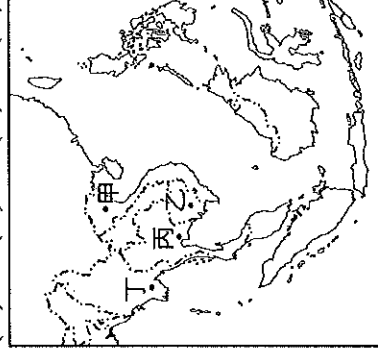
(A)北海道 (B)九州 (C)四國 (D)本州。



()24. 東南亞自古受中國和印度兩大文明古國影響，近代又遭西方國家殖民，居民和文化呈現過渡性和多樣性，帶有濃厚的殖民地式經濟色彩。請問：東南亞深受中國和印度兩大文明古國影響的主要原因為何？(A)氣候相似 (B)位置接近 (C)海運便利 (D)半島與島嶼分布廣大。

()25. 昭披耶河的水上交通是曼谷的重要樞紐，水上市場、運河岸邊並排的水上人家，滿載著蔬菜和大小船隻，讓曼谷贏得了「東方威尼斯」的封號。請問：曼谷位於附圖中的哪個地點？

(A)甲 (B)乙 (C)丙 (D)丁。

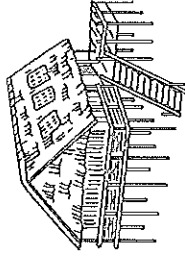


()26. 自古以來，魚、貝類一直是日本人最重要的動物性蛋白質來源，甚至創造一百多個以魚為部首的漢字，如鮭、鯊、鱈、鱒等。請問：造成日本人上述食魚文化產生的原因，不包括下列何者？(A)地狹人稠 (B)經濟海域廣大 (C)寒暖流交會 (D)海岸線平直。

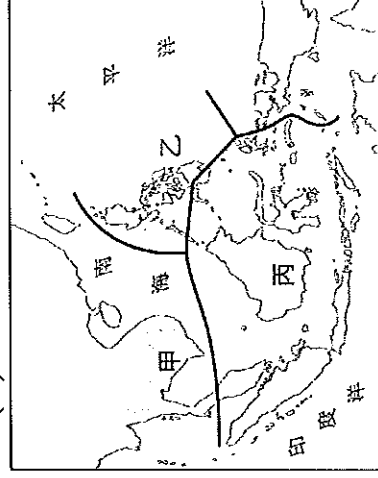
() 27. 根據統計，印尼的海岸線長度排名世界第二，比俄羅斯還長，其原因最可能為下列何者？
 (A) 峽灣海岸曲折 (B) 島嶼數量眾多 (C) 國土面積較大 (D) 所處緯度較低。

() 28. 附圖為東南亞地區的傳統建築，此種建築不僅可以通風、防潮，下層還可以圈養家畜。此種建築景觀反映出當地的哪項地理特性？

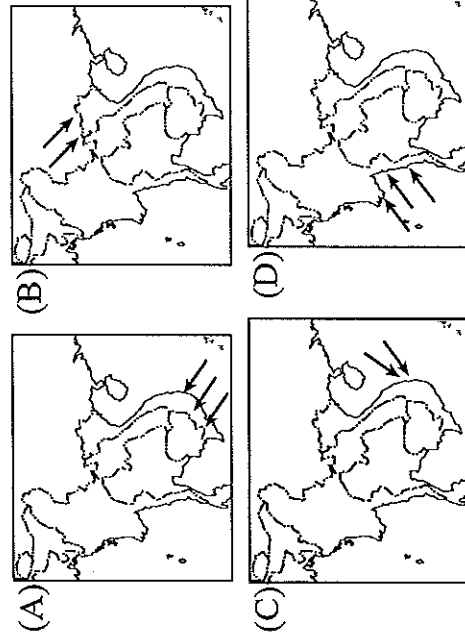
(A) 氣候高溫多雨 (B) 地震發生頻繁 (C) 文化多元 (D) 交通位置優越。



() 29. 東南亞自古深受中國、印度及西亞文化的影響，近代又受西方國家殖民，宗教與生活呈現多元性。下圖為東南亞宗教分布圖。請問：圖中甲、乙、丙三地居民主要的宗教信仰分別為何？
 (A) 伊斯蘭教、天主教、佛教 (B) 佛教、天主教、伊斯蘭教 (C) 佛教、伊斯蘭教、印度教 (D) 伊斯蘭教、佛教、天主教。



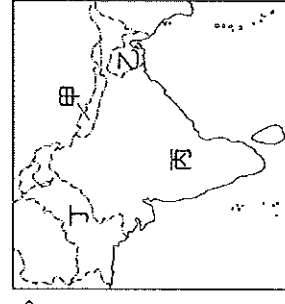
() 30. 中南半島與臺灣同屬季風亞洲的範圍，下列哪張風向示意圖能正確呈現出中南半島夏季時的季風風向？



() 31. 南洋群島地形破碎且多火山、地震，這與哪項地理事實關係最密切？
 (A) 人口集中在沿海平原 (B) 位在板塊交界處 (C) 位在颱風路徑上 (D) 地勢高低起伏大。

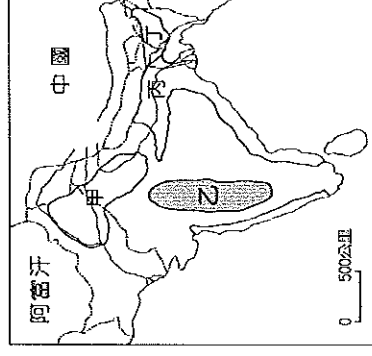
() 32. 承軒到東南亞某國旅遊，回國後興奮地對朋友誇耀說：「我從北半球玩到南半球，而且每天出門都腰纏萬貫——因為幣值很低……」從上述研判，承軒最有可能是到下列哪個國家旅遊？
 (A) 印尼 (B) 泰國 (C) 新加坡 (D) 馬來西亞。

() 33. 印度半島的塔爾沙漠，因位於季風路徑的末端，水氣不足，再加上副熱帶高氣壓的影響，因此為自然條件惡劣的乾燥氣候。請問：塔爾沙漠的分布位置以附圖中哪一個地區為主？

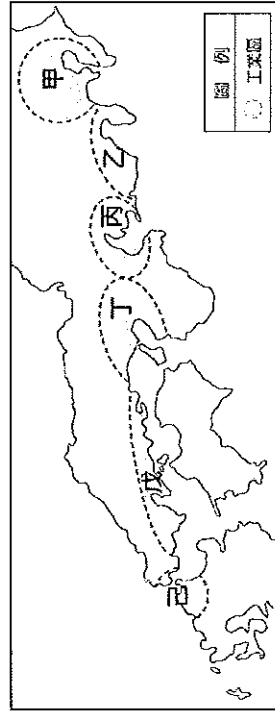


(A) 甲 (B) 乙 (C) 丙 (D) 丁。

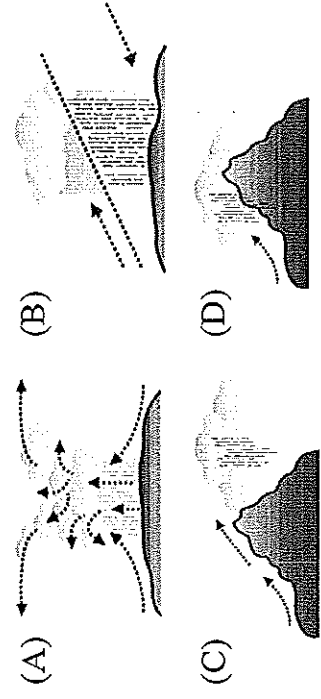
() 34. 印度的棉花生產量豐富，早期主要銷售至殖民國家英國，作為發展紡織工業的主要原料。請問：印度半島的棉花主要生產區為附圖中何處？
 (A) 甲 (B) 乙 (C) 丙 (D) 丁。



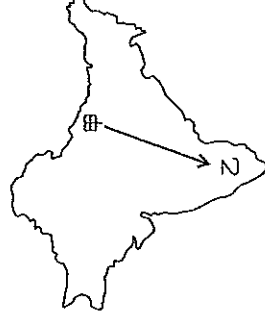
() 35. 日本重要工業區多位於東側太平洋沿岸地區。請問：目前日本的行政中心與第一大都市——東京，位於圖中哪個工業區域？
 (A) 甲 (B) 丙 (C) 丁 (D) 乙。



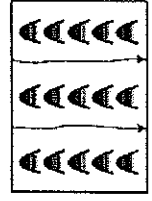
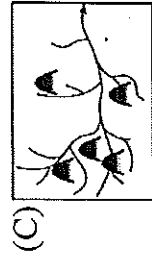
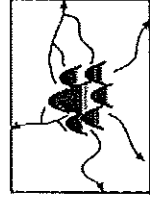
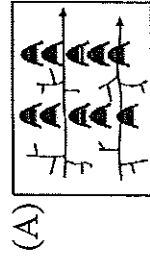
() 36. 南洋群島有一句氣候諺語——「夜間是熱帶的冬天」。請問：該地主要的降水類型為何？



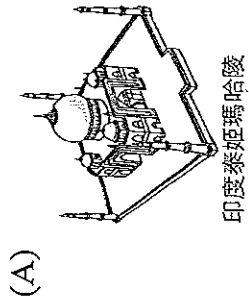
() 37. 附圖為「印度半島簡圖」，乘飛機由甲往乙前進時，地表所呈現的景觀為何？
 (A) 高原→平原→山地 (B) 山地→平原→高原 (C) 高原→山地→平原 (D) 山地→高原→平原。



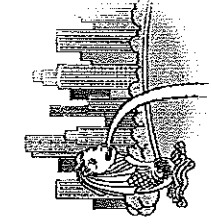
() 38. 若從地形上來觀察中南半島的山脈分布，可發現當地地形分布的特色和中國某一地形區很相近，此種地形可用下列何圖來表示？




() 39. 這個國家的建築美觀宏偉，轉口貿易發達。由馬來人、華人、印度人融合而成，市容整齊清潔有秩序，經濟發展程度為東南亞最高，近來也因為發展博奕事業而使得觀光客人數持續增加。如果前往上述國家旅遊，在該國境內拍攝照片中^最可能出現哪個背景？



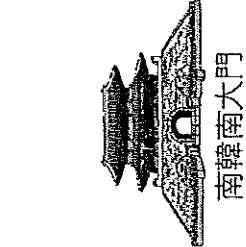
印度泰姬瑪哈陵



新加坡魚尾獅



東京鐵塔



南韓南大門

() 40. 附圖是亞洲某城市「全年」每日的天氣變化概況，該地最可能是下列哪個城市？(A)新加坡 (B)東京 (C)首爾 (D)馬尼拉。

時間	天氣特色
ⓐ	太陽升起
ⓑ	氣溫升高
ⓒ	日霧朵朵
ⓓ	風雲突變
ⓔ	雨過天晴
ⓕ	涼爽宜人

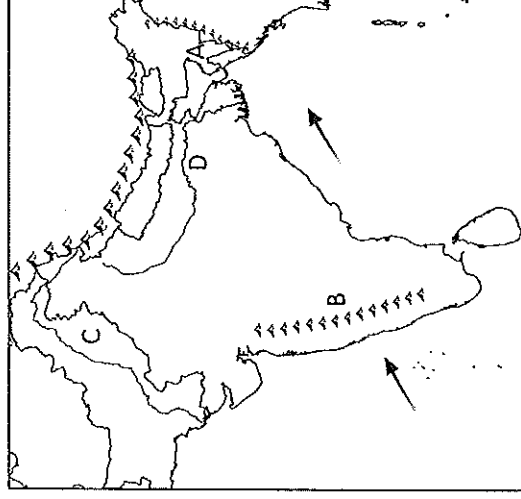
() 41. 經濟學者曾提出：「未來半世紀，『新金磚11國』經濟發展潛力可能超越『金磚四國』，其中『新金磚11國』的國家包含有：韓國、印尼、埃及、越南、伊朗、孟加拉、菲律賓、墨西哥、土耳其、巴基斯坦、奈及利亞。」請問：「新金磚11國」中屬於東南亞的國家有幾個？(A)2 (B)3 (C)4 (D)5。

() 42. 亞洲南部三大半島：(甲)中南半島(乙)阿拉伯半島(丙)印度半島。由西而東依序排列是：(A)甲丙乙 (B)乙甲丙 (C)乙丙甲 (D)丙乙甲。

() 43. 印度哪一個都市因為軟體工業相當發達，因此被稱為「印度矽谷」？(A)孟買 (B)新德里 (C)邦加羅爾 (D)加爾各答。

() 44. 印度半島的冬季因為哪一座山脈的阻擋，寒冷氣流無法入侵，因此氣候涼爽，成為當地最佳的季節？(A)東高止山 (B)西高止山 (C)岡底斯山 (D)喜馬拉雅山。

※附圖為南亞簡圖，請根據南亞的氣候回答下列問題：



() 45. A 區的年降水量居全球之冠，主要的影響因素為何？(A)緯度、地形 (B)地形、季風 (C)緯度、季風 (D)地形、距海遠近。

() 46. B 區的氣候較為乾燥，主要的影響因素為何？(A)深居內陸 (B)背西南季風 (C)東北季風不易進入 (D)屬於四周高山圍繞的盆地地形。

() 47. 印度大平原 C、D 兩地的農業景觀不同，主要的影響因素為何？(A)雨量不同 (B)緯度不同 (C)政策因素 (D)農業技術。

※寰宇旅行社在暑假推出一系列的東南亞套裝行程，莎莎是負責行程標語的工作人員，但是因為工作繁忙，她把想好的標語和國家名稱弄亂了，請根據下列問題的標語幫她找出正確的國家。

() 48. 「整潔乾淨的獅城，位居東南亞交通要道，國土不大，但麻雀雖小，五臟俱全，保證值回票價。」(A)印尼 (B)東帝汶 (C)新加坡 (D)馬來西亞。

() 49. 「想知道深受印度史詩、神話影響所形成的建築景觀嗎？來一趟吳哥窟，你就能摘下它神祕的面紗。」(A)柬埔寨 (B)寮國 (C)越南 (D)泰國。

() 50. 「位於中南半島最西邊的仰光，佛塔林立，如此景觀訴說著佛教在此地的盛行，想一睹濃厚佛教色彩的你，心動不如馬上行動！」(A)緬甸 (B)印尼 (C)越南 (D)菲律賓。

【試題到此結束，請再檢查一次！】