

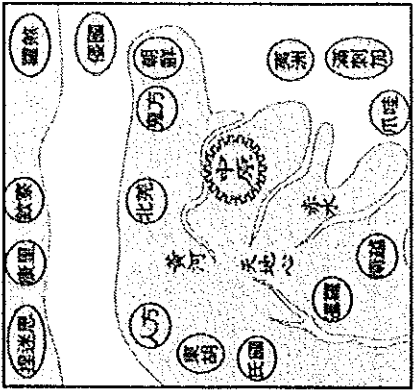
# 基隆市立武崙國中 107 學年度第二學期 第一次段考 八年級社會科試卷—歷史科

電腦讀卡，請使用 2B 鉛筆，並依據題號在答案卡上作答，答案卡無法判斷身分者，扣總分 10 分

範圍：第四冊 L.1-L.2 本試卷共 42 題 共 6 面


班級：\_\_\_\_\_ 座號：\_\_\_\_\_ 姓名：\_\_\_\_\_

## \*單選題 (每題 2 分，共 52 分)

1. 英國的《泰晤士報》曾報導一則有關中國在清代時的新聞：「據估計，被掠奪和破壞的財產，總值超過 600 萬英鎊，在場的每個軍人都掠奪很多，進入皇室的宮殿後，誰也不知道該拿什麼，為了拿金子，而把銀子丟了；為了拿鑲有珠寶的首飾和寶石，又把金子給丟了；無價的瓷器和琺瑯器，因為太大拿不走，竟被打碎……。」請問，上述這場掠奪應與下列哪一場戰爭有關？ (A)鴉片戰爭 (B)第一次英法聯軍 (C)第二次英法聯軍 (C)甲午戰爭。
2. 清朝官員氣憤的說道：「這個國家身為中國的鄰居，自以為是中國的好朋友，口口聲聲想為中國貢獻一份心力，但卻在中國水深火熱之際，強迫中國駐守黑龍江的將軍奕山簽下□□條約，使中國喪失了黑龍江以北的土地。」請問：當時奕山將軍被迫簽訂的是哪個條約？ (A)《南京條約》 (B)《天津條約》 (C)《北京條約》 (D)《璦琿條約》。
3. 清末的中國領土宛如一塊牛肉，任憑西方食客盡情瓜分享用，但是有位食客並未嘗到肉味，於是想出一個辦法使中國能夠不被吞食殆盡。請問：上述未能嘗到肉味的食客最有可能是何國？ (A)英國 (B)美國 (C)日本 (D)法國。
4. 馬涼是北洋艦隊的士兵，在黃海海戰中，他的艦艇被敵方擊沉而不幸戰死。請問：馬涼應該是於哪場戰爭中殉職？ (A)中法戰爭 (B)鴉片戰爭 (C)英法聯軍 (D)甲午戰爭。
5. 為早期中國人想像的世界地圖，圖中的「中原」指的就是中國所在地。請問：中國人將中原畫在世界的中心，主要的原因為何？ (A)中國人認為中國在地理上處於地球的中心 (B)中國人從未到過其他國家，對外國不甚了解 (C)中國人抱持天朝思想，以天下中心自居 (D)中國人以為當時亞洲僅有中國一個國家。
6. 一位英國官員說道：「我們跟中國的貿易量十分龐大，如果能取得□□的權利，就可減少貨物進口到中國時所需繳納的費用。」請問：這位英國官員提到的應是指下列什麼權利？ (A)協定關稅 (B)領事裁判權 (C)在通商口岸設立工廠 (D)租界。
7. 《馬關條約》中除了賠款與割地外，中國損失最重大的，是之前其他國家從未與中國簽訂的哪項要求？ (A)片面最惠國待遇 (B)在通商口岸設立工廠 (C)領事裁判權 (D)協定關稅。
8. 「二十世紀初，清廷與某國簽訂『中越交界禁止革命黨章程』，要求該國官員協助查辦在中越邊境活動的革命份子，若有人在越南境內傳播對清廷不利的言論，則依照該國的律例加以懲治。」請問，上文中的「某國」應是指下列何者？ (A)英國 (B)美國 (C)俄國 (D)法國。
9. 資料一：這座城市在唐朝以前曾經是六朝古都。資料二：19 世紀中葉，清朝曾與西方列強在這座城市簽訂近代史上第一個不平等條約。資料三：清末曾有反清勢力以這座城市為政權之國都，並將此地改名為「天京」。請問，透過這三則資料的敘述，這座城市應是指下列何地？ (A)上海 (B)天津 (C)南京 (D)北京。
10. 中國歷史上，官方為管理與經營對外貿易，會因此設立相關機構。在清乾隆年間，有一種機構雖是民間設立，但由官方主導，是與外商之間中介的橋梁。請問：此機構為下列何者？ (A)市舶司 (B)會館 (C)商幫 (D)公行。
11. 清末中國對外戰爭連續挫敗，導致有識之士提出改革，其中魏源提出「師夷長技以制夷」的觀念。他認為西方的長處為何？ (A)武器技術 (B)政治制度 (C)教育思想 (D)財經觀念。

12. 西元 1861 年恭親王奕訢等人奏請設立某機構，此機構下設立有英國、法國、美國等司務廳；下屬機構尚有海關總稅務司署。請問，此機構應是指下列何者？ (A)同文館 (B)福州船政局 (C)廣方言館 (D)總理各國事務衙門。

13. **右圖**是描述清末某個事件的漫畫示意圖。請問：請從圖中內容判斷，文中提及的「土地」應指下列何者？ (A)琉球 (B)山東半島 (C)遼東半島 (D)臺灣。



14. 「在此改革運動中，研擬廢除八股文取士的制度，並且將政府中的冗官、冗員一舉撤除，這樣一來便可以使行政的效率提升，但受到守舊人士的反對，最終未達成其理想。」請問：上文所述應該是指哪項改革運動？ (A)自強運動 (B)戊戌變法 (C)新文化運動 (D)皇民化運動。

15. 清末流行的歌謠小冊中，記載了一首歌謠：「世間女人最受苦，三從四德把他束，天國世界真是好，共同享受平等福。」請問：下列有關這首歌謠的敘述何者錯誤？ (A)這首歌謠應流行於十九世紀 (B)歌謠中強調了人人平等的觀念 (C)這首歌謠的流行應該與洪秀全有關 (D)曾國藩應該會大力支持這首歌謠的主張。

16. 時值清末時期，許多居住在中國內地的人，首次見到西方人後多感驚奇與惶恐，直呼「洋鬼子」。這些西方人能夠進入中國內地旅行，是因為哪個條約的關係？ (A)《南京條約》 (B)《馬關條約》 (C)《天津條約》 (D)《瓊瑯條約》。

17. 線索一：割讓九龍司給英國。線索二：喪失最多東北領土。線索三：為躲避戰爭而倉皇出逃。請問，根據這三條線索，我們可推論皆與下列哪位皇帝有關？ (A)道光皇帝 (B)咸豐皇帝 (C)同治皇帝 (D)光緒皇帝。

18. 十九世紀以來，外國對於中國商品需求日盛，急欲打開中國的通商口岸，引發戰爭與簽訂不平等條約便成為外國取得利權的重要手段。請問：中國對外的第一場戰爭其導火線為何？ (A)俄國的挑釁 (B)英使來華被遣返 (C)法國傳教士被殺 (D)中國查禁鴉片。

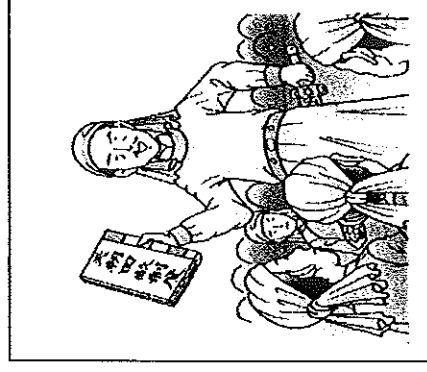
19. 蔣夢麟《西潮》中曾提及：「外國人是半鬼半神的怪物，像是千手觀音，三隻手分別拿著電燈、輪船、洋娃娃，另外三隻手分別拿著巡棍、手槍、鴉片。從某一邊來看，他是天使；從另一邊看，他卻是魔鬼。……李鴻章看到西方文明醜惡猙獰的一面，因而決定建立海軍，以魔鬼之矛攻魔鬼之盾。」文中所謂「李鴻章決定建立海軍，以魔鬼之矛攻魔鬼之盾」是指下列哪一場改革運動？ (A)自強運動 (B)戊戌變法 (C)戊戌政變 (D)新文化運動。

20. 有關曾國藩、李鴻章的共同事蹟是下列哪幾項呢？(甲)平定太平天國之亂 (乙)共同查禁鴉片 (丙)推動自強運動 (丁)推動戊戌變法 (A)甲乙 (B)甲丙 (C)乙丙 (D)丙丁。

21. 「劉銘傳來到臺灣以後，開始在臺鋪設鐵路，並且設立電報學堂、新式學堂等學校，甚至設立郵政機構，希望把臺灣建成一個中國的模範省。」請問：劉銘傳來到臺灣所推行的建設，正值中國哪個改革運動期間？ (A)皇民化運動 (B)戊戌變法 (C)自強運動 (D)新文化運動。

22. 西元 1858 年，英國商人來到台灣安平營業並且成立德記洋行，從事海外貿易，興盛一時，然，在日治時代貿易被日商壟斷，洋行紛紛倒閉。請問，德記洋行設立的背景，與下列何事有關？ (A)牡丹社事件後，清廷開始積極治台，也逐漸關注台灣的經濟狀況 (B)中英法天津條約的簽訂，迫使台灣開港，其中也包含安平開港 (C)鄭經時期，與英國貿易往來密切，英國也在安平設有商館 (D)鴉片戰爭後，開放五口通商，使得英國在中國積極設立洋行

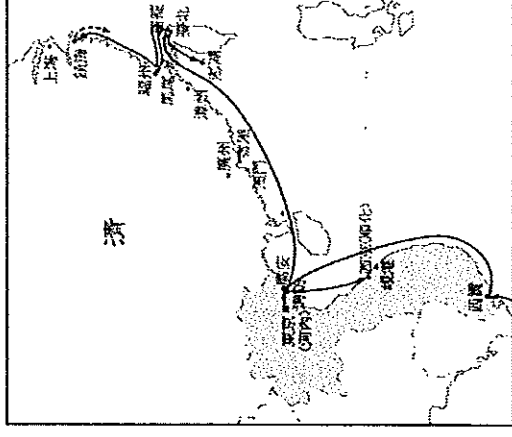
23. 右圖為《漫畫中國史》中的一則漫畫。請問：書中在介紹這則漫畫時，最有可能提及下列哪個觀念？ (A)僅貴族能擁有土地所有權 (B)土地為人民公有共享 (C)土地全歸於教會領袖所有 (D)年紀越大者擁有越多土地



24. 「清朝當時因為此事使得地方漢人督撫勢力變大，不但掌有軍權，在財政及一般行政的權力也加重不少，是為滿、漢權力，以及中央與地方權力消長的關鍵事件。」請問：這應是指以下何事？ (A)廣州查禁鴉片 (B)自強運動的推行 (C)平定太平天國 (D)發動戊戌政變。

25. 自強運動與戊戌變法，是清廷在面臨侵略危機時所推動的改革，兩者改革所著重的層面雖不一樣，但其中內容仍有相同之處。請問：兩者相同之處為何？ (A)都設立有培育人才的教育機構 (B)都倡議廢除八股文 (C)都鼓勵臣民批評時政 (D)都精簡了政府組織。

26. 右圖是清末某場戰爭的形勢圖。請問：下列何者是這場戰爭所造成的影響？ (A)《馬關條約》的簽署 (B)英國占領緬甸 (C)促使自強運動的展開 (D)割讓香港。



### 題組：每題3分，共48分

(一)請閱讀下文，並回答27~29題

- 自地理大發現以來，中國開始面臨外患的威脅，但中國還是自認為是世界的中心，將來華交涉的國家視為蠻夷之邦，因此，對於通商貿易並不重視，引發中外對於外交與貿易上的觀念歧異。請回答下列問題：
27. 中國並不重視對外的通商，因此常將通商視為是可有可無的事情，中國以往都是進行什麼貿易？ (A)平等貿易 (B)互利貿易 (C)關稅貿易 (D)朝貢貿易。
28. 為了改善與中國的通商關係，英國曾經在乾隆皇帝壽誕時派遣哪位使者來華祝壽？ (A)阿美士德 (B)馬加爾尼 (C)利瑪竇 (D)馬賴。
29. 英國在嘉慶年間曾遣使來華，最後仍舊無功而返，其任務失敗的原因為何？ (A)英國帶來的朝貢物品皇帝不喜歡 (B)英國要求在中國派駐公使 (C)要求中國給予英國不用繳納關稅的特權 (D)英國使者拒絕對皇帝行跪拜之禮。

(二)請閱讀下文，並回答 30-31 題

清末以來，中國面臨強大的外患威脅，使中國開始轉變對外的態度，開始由「中國的世界」轉變為「世界的中國」，因此，開始有知識分子提出「師夷長技以制夷」的主張，試圖推展中國的改革運動。請問：

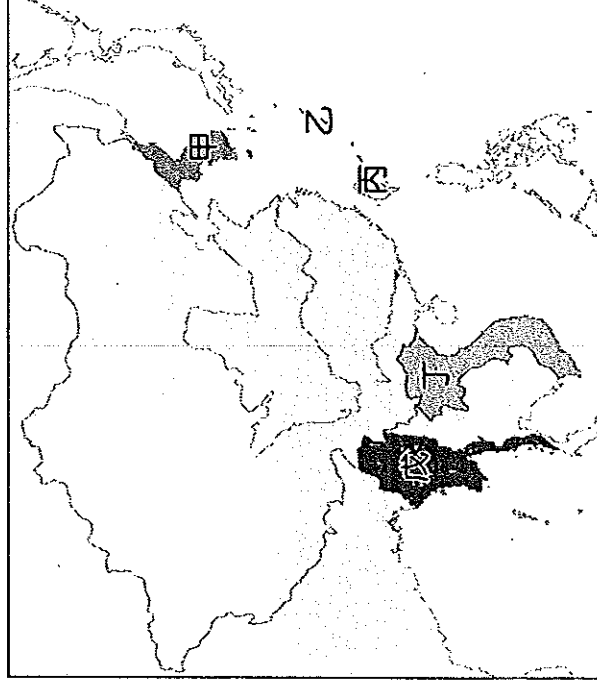
30. 由上述可知，在進入到「世界的中國」此等局面後，知識分子開始提出「師夷長技以制夷」的改革主張，並開始著手富國強兵的改革運動，。請問，下列何者並未主持這場改革運動？ (A)李鴻章 (B)林則徐 (C)左宗棠 (D)奕訢。

31. 這場改革運動試圖改變中國衰頹的命運，下列有關改革內容的敘述何者錯誤？

- (A)將總理各國事務衙門視為是專責的對外機構 (B)開始培養外語的翻譯人才 (C)建造中國最早的鐵路與郵政 (D)廢除了中國使用千餘年的科舉制度。

(三)請閱讀下文，並回答 32-34 題

中國在自強運動期間面臨日趨嚴重的外患威脅，列強對中國虎視眈眈，藉由各種事端來奪據中國的藩屬，使中國在此期間逐漸喪失其宗主國的地位。請由附圖來回答下列問題：



32. 日本在維新運動以後，開始積極的對外擴張，最先侵略圖中的哪個地區？

- (A)甲 (B)乙 (C)丙 (D)丁。

33. 圖中的「戊」地之所以變成外國的藩屬，與以下什麼事件有關？

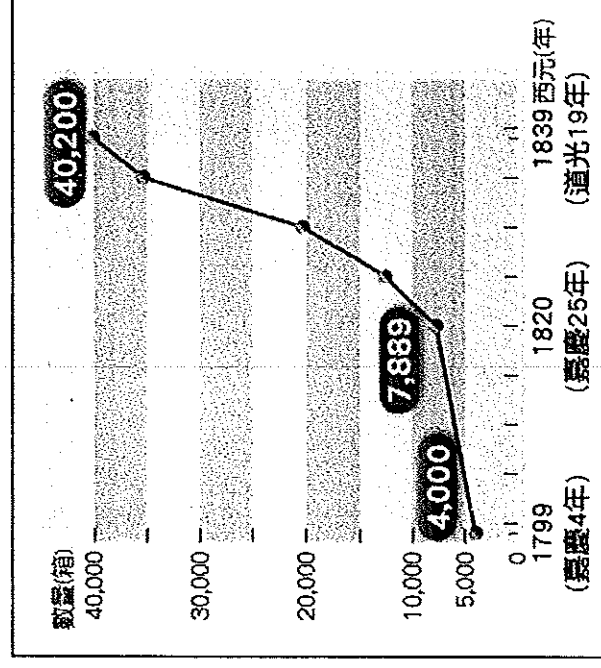
- (A)亞羅船事件 (B)甲午戰爭 (C)牡丹社事件 (D)中法戰爭。

34. 光緒 20 年，中日爆發嚴重的衝突事件，當時的導火線是因哪個地區而起？

- (A)甲 (B)乙 (C)丙 (D)丁。

(三)請閱讀下文，並回答 35~37 題

下圖是清末自英國輸入某商品的數量變化。請問：



35. 依史實判斷，英國將此商品大量輸入中國的目的為何？

(A)打擊中國對外貿易活動 (B)協助中國抑制人口成長 (C)打擊中國的傳統手工業 (D)平衡與中國的貿易逆差。

36. 依據史實，此項商品大量輸入中國，造成中國何種影響？

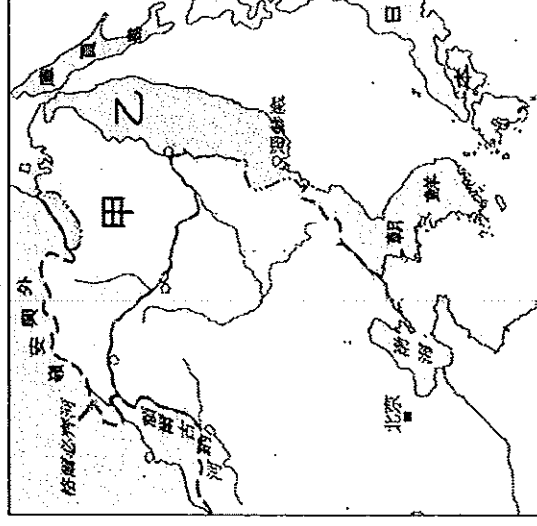
(A)有益於人民的健康，延年益壽 (B)利於中國賺取外匯，刺激商業 (C)造成中國白銀外流，國庫日窮 (D)促使國人媚外，喪失民族精神。

37. 清廷面對此項商品的輸入，採取什麼樣的因應行動？

(A)將該商品收歸國營，不許民眾私自販賣 (B)派遣專人進行查禁，嚴厲要求英方不得再販售 (C)與英商協議進口數量，避免造成供過於求現象 (D)為避免與英國的衝突，因此鼓勵商品大量進口。

(三)請閱讀下文，並回答 38~39 題

附圖中的甲、乙兩地為晚清時所喪失的廣大領地。請看圖中內容，回答下列問題：




38. 甲、乙兩塊領地，是被哪個國家所併吞？ (A)英國 (B)法國 (C)俄國 (D)日本。

39. 乙地被割讓後，以哪個河川與中國為界？ (A)黃河 (B)黑龍江 (C)鴨綠江 (D)烏蘇里江。


(三)請閱讀下文，並回答 40~42 題

西元 1895 年，中國面臨對外戰爭的失敗，國內要求改革的呼聲漸高。請參考下列與前述歷史背景相關的圖片並回答問題：



在北京考試的舉人聯合上書

▲圖 1



設立京師大學堂

▲圖 2



變法人士失敗，保守派獲勝

▲圖 3

40. 圖 1 所顯示的事件背景應是下列何者？

(A)英法聯軍後，臺灣開港通商，知識分子表達強烈的不滿 (B)中法戰爭，中國喪失藩屬，在華的外國留學生群起反對 (C)甲午戰爭中國戰敗，知識分子聚集表達變法救國的主張 (D)臺灣確定割讓給日本，臺灣民眾向清廷表達獨立抗日的態度。

41. 根據圖 2，這場變法著重於哪個層面的改革？

(A)器物層面：製造西式武器，建立新式軍隊 (B)制度層面：革新政治與教育，設新式學堂 (C)文化層面：批判中國傳統，主張全盤西化 (D)思想層面：傳播西方觀念，掃除陳舊思想。

42. 根據上列圖片的敘述，這場變法的結果，下列敘述何者正確？

(A)參與變法者全部被判罪處死，改革措施全數被廢除 (B)參與變法者雖遭到懲處，但當權者仍持續推行改革 (C)部分參與變法者逃往邊疆，另立政權繼續推行新政 (D)改革雖因政變而宣告中斷，但京師大學堂仍得以保留。

作答結束後，請再三檢查