

# 基隆市立武崙國中 107 學年度第二學期 第一次段考 八年級社會試卷—地理科

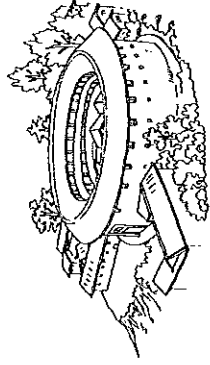
電腦讀卡，請使用 2B 鉛筆，並依據題號在答案卡上作答，答案卡無法判斷身分者，扣總分 10 分

範圍：L.1~L.2 每題 2 分，總分 100 分。

班級：\_\_\_\_\_ 座號：\_\_\_\_\_ 姓名：\_\_\_\_\_

## 一、單選題

- ( ) 1. 廣西壯族自治區風景秀麗，觀光資源豐富，桂林、陽朔一帶的灘江兩岸有「山水甲天下」之譽。上述「山」的特色，最可能是何種原因所形成的？  
(A)溶蝕作用 (B)冰蝕作用  
(C)火山作用 (D)風蝕作用
- ( ) 2. 近年來北部地區工業發展面臨許多困境，包括下列何者？(A)交通運輸不便 (B)工廠設備太新 (C)礦產逐漸枯竭 (D)民營事業生產缺乏效率。
- ( ) 3. 造成黃河水位變化大的原因，可能有哪些？  
甲、年降水量不多；乙、河床坡度陡；丙、年雨量變率大；丁、降水集中在夏季  
(A)乙丁 (B)甲乙 (C)乙丙 (D)丙丁。
- ( ) 4. 黃土高原受到侵蝕作用影響，呈現高低起伏的樣貌；該區最嚴重的環境問題為何？(A)沙塵暴 (B)水汙染 (C)水土流失 (D)土壤鹽鹼化。
- ( ) 5. 上海市簡稱「滬」，為上海話中「小漁村」之意，讓上海從小漁村發展成為中國最大經濟中心，其主要原因為何？(A)氣候四季宜人 (B)位置優腹地大 (C)蘊藏豐富礦產 (D)發展經濟特區。
- ( ) 6. 華北平原主要由黃河和下列哪兩條河川所共同沖積而成？(A)淮河、長江 (B)淮河、海河 (C)海河、長江 (D)閩江、珠江。
- ( ) 7. 妍欣前往福建內陸丘陵區旅遊，看到當地建築下圖所示。請問：當地居民建造此種建築的主要目的為何？(A)避淹水 (B)抵乾旱 (C)抗潮溼 (D)防盜匪

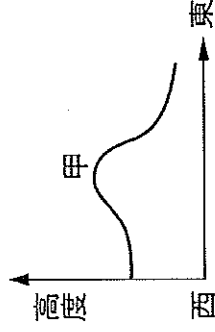


- ( ) 8. 中國北部地區的東側大多屬何種氣候類型？  
(A)溫帶季風氣候 (B)溫帶草原氣候  
(C)副熱帶季風氣候 (D)熱帶季風氣候。
- ( ) 9. 下圖為憶萱上網搜尋到的新聞，依文中內容可知，此則新聞最可能於何時發生？(A)冬春之際 (B)春夏之際 (C)夏秋之際 (D)秋冬之際。

報載：中國北京、濟南受沙塵暴影響，天空一片灰濛，能見度不到 500 公尺，外出的民眾紛紛戴上口罩

- ( ) 10. 中國煤礦儲量指黃土高原最豐，下列哪個省區境內因盛產煤礦，而有中國「煤海」之稱？  
(A)吉林省 (B)陝西省 (C)山西省 (D)河北省。

- ( ) 11. 下圖為華北地區地形剖面示意圖。圖中「甲」是黃土高原與華北平原的地形分界，由此判斷，「甲」應是哪座山脈？  
(A)秦嶺 (B)太行山 (C)南嶺 (D)大興安嶺。



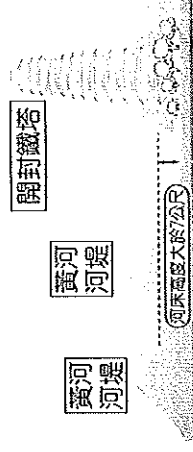
- ( ) 12. 下圖是中國「谷灣式」海岸的示意圖，關於谷灣式海岸的敘述，下列何者錯誤？(A)是由於海水面上升，陸地相對下沉所造成的 (B)容易形成灣澳、島嶼 (C)海岸線平直 (D)中國南方沿海多此種地形。



- ( ) 13. 如下圖所示，中關村被稱為「中國矽谷」，可知其為哪一產業的發展重鎮？(A)加工出口區 (B)石化工業 (C)高科技工業 (D)軍事工業。

位於北京市西北方的中關村，吸引許多跨國企業前往研發基地，有「中國矽谷」之稱。

- ( ) 14. 「天津新港」的興建，主要是為了解決天津港的哪一項缺點？(A)冬季結冰 (B)腹地狹小 (C)陸運不便 (D)常有水患。
- ( ) 15. 下圖為「黃河下游一帶的地上河景觀」。請問：形成此種景觀的主因為何？  
(A)年降水變率大 (B)冬季強風堆積  
(C)河道縮減流速慢 (D)河川含沙量大。



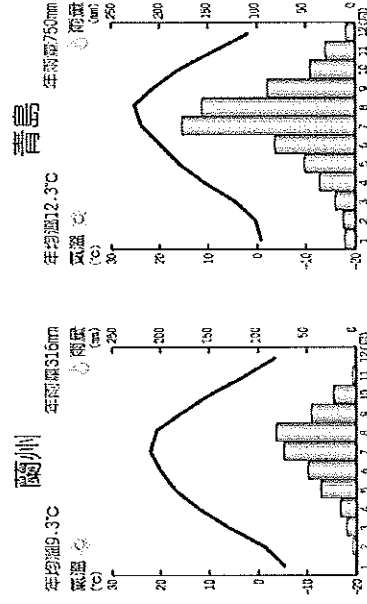
- ( ) 16. 長城的山海關城上題著「天下第一關」，因為在過去這裡是中國歷朝防範「關外」民族入侵中國的重要關隘之一。請問上文中的「關外」指的是哪一個地區？(A)東北平原 (B)山東丘陵 (C)黃土高原 (D)華北平原。

( ) 17. 珠江是華南最大的河流，其所沖積的珠江三角洲，更成為人口密集的精華區。下列哪個城市並不位於三角洲內？

(A) 廣州 (B) 澳門 (C) 香港 (D) 貴州。

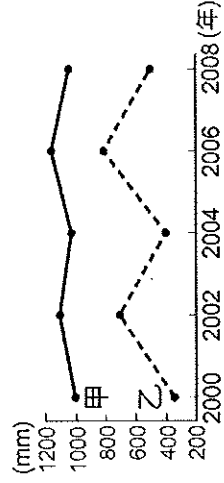
( ) 18. 中國東北的三江平原，由昔日的「北大荒」轉變成今日的「北大倉」，成為重要的稻米產區，其關鍵在於發生了下列哪項轉變？ (A) 排水問題改善 (B) 「南水北調」動工 (C) 居民圍湖造田 (D) 全球氣候暖化。

( ) 19. 附圖為蘭州和青島的氣候圖。圖中青島的雨量較蘭州多且冬溫也較高，兩地氣候差異與下列何者最相關？ (A) 緯度高低 (B) 距海遠近 (C) 東北季風 (D) 西北季風。



( ) 20. 右圖為甲、乙兩個地區年降水量變率比較圖。依圖中資料判斷，下列何者敘述正確？

(A) 甲地年降水量變率較大 (B) 甲地水、旱災較頻繁 (C) 乙地年降水量較不穩定 (D) 乙地年降水量較豐富。

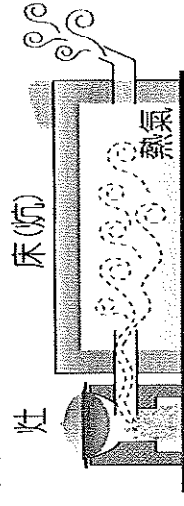


( ) 21. 真純到雲貴高原旅遊，聽到導遊介紹當地的「壩子」。下列哪一個介紹內容才是正確的？

(A) 黃土廣布，溝谷遍布 (B) 平原廣大，肥沃黑土 (C) 港灣眾多，水運發達 (D) 山間盆地，人口密集。

( ) 22. 附圖是某民宅室內設置「炕」的情形。「炕」是把灶中的餘熱導引到通鋪下面，通鋪上的溫度可使屋內較為溫暖。請問：類似這種「炕」的設置，最常在下列哪一個地區出現？

(A) 廣州 (B) 上海 (C) 重慶 (D) 西安。

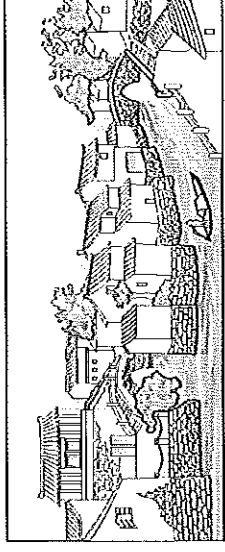


( ) 23. 中國推出「一帶一路」政策，其中的陸上絲綢之路經濟帶主要是以鐵路運輸為主，即以古代絲路的起點城市開始，向西通聯中亞、歐洲等地。請問：上文提及的城市應為何？

(A) 西安 (B) 北京 (C) 上海 (D) 天津。

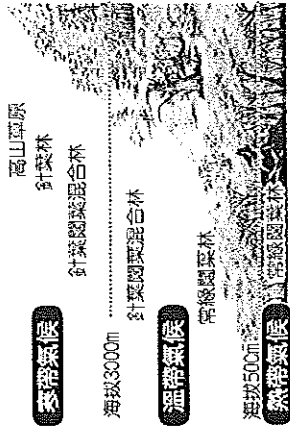
( ) 24. 中國北部區域包含華北與東北，下列關於北部區域的敘述，何者正確？ (A) 夏、秋季常有沙塵暴 (B) 都市多位於水陸運交會處 (C) 年溫差較南部區域大 (D) 中國經濟改革開放起點。

( ) 25. 江蘇省河湖眾多、渠道縱橫，如下圖所示。下列對於當地湖泊和渠道功能的敘述，哪一項並不適當？ (A) 湖泊和渠道開築可減少洪患 (B) 湖泊和渠道可建構蓄水灌溉系統 (C) 相連的渠道可增加交通運輸的功能 (D) 河流和渠道的高度差可提供水力發電。



( ) 26. 中國實施經濟改革開放政策，於東南沿海地區設置經濟特區，以吸引國外資金與技術。下列何者不是東南沿海的發展優勢？ (A) 交通便利 (B) 勞工眾多 (C) 礦產豐富 (D) 為中國僑鄉。

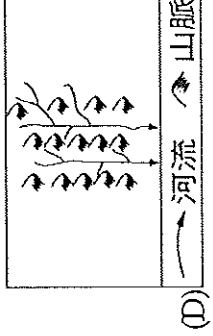


( ) 27. 芷瑄前往中國某山區進行植物觀察，該區植物分布特色如附圖所示。請問：此山區最有可能是下列何者？ (A) 橫斷山脈 (B) 大興安嶺 (C) 太行山 (D) 秦嶺。



( ) 28. 「漠河縣位於黑龍江沿岸，為中國最北方的城市，冬季時曾測得當地氣溫只有攝氏零下41.5度，民眾灑水秒變冰柱。」請問：依該地的地理位置判斷，漠河縣最有可能隔江與下列哪一鄰國相望？ (A) 俄羅斯 (B) 北韓 (C) 南韓 (D) 越南


( ) 29. 黃土高原的黃土，主要來自鄰近的哪個地理區？ (A) 青藏高原 (B) 內蒙古高原 (C) 雲貴高原 (D) 塔克拉瑪干沙漠。

( ) 30. 就水系而言，下列哪張圖能表現出珠江的水系形態？



- ( ) 31. 南部地區農業發達，作物種類眾多。下列關於南部地區的敘述，何者有誤？(A) 丘陵區適宜種植茶葉 (B) 珠江三角洲一帶種植甘蔗 (C) 小麥為主要糧食作物 (D) 長江流域地區適宜種植棉花。

- ( ) 32. 珠江入海口為中國華南的精華區，該地沿海地區的地形特色主要為下列何者？



- ( ) 33. (甲) 戰亂頻仍 (乙) 山多田少 (丙) 港澳多、出海外方便 (丁) 多水旱災，上述哪些是造成華南地區早期人口外移的原因？  
(A) 甲乙 (B) 甲丙 (C) 乙丙 (D) 丙丁。

- ( ) 34. 武崙集團打算到中國投資，利用當地盛產的大豆與甜菜，成立沙拉油工廠和糖廠。根據上述考量，武崙集團到下列哪個省區設廠最理想？  
(A) 四川省 (B) 黑龍江省 (C) 廣東省 (D) 雲南省。

- ( ) 35. 東北為中國重要的農業產區，也是重要的糧食輸出區。請問：東北農業發達的主因為何？  
(A) 年可二穫 (B) 具肥沃黃土層 (C) 機械化耕作 (D) 生長季長。

- ( ) 36. 下表為怡仙整理中國兩個地理區的特色比較，其中只有哪些項目的敘述是正確的？  
(A) 甲丙 (B) 甲丁 (C) 乙丙 (D) 乙丁。

地區	(甲)	(乙)	(丙)	(丁)
	位置	華中	氣候	糧食作物
長江三角洲	華南	溫帶季風	小麥	上海
珠江三角洲	華南	熱帶季風	稻米	廣州

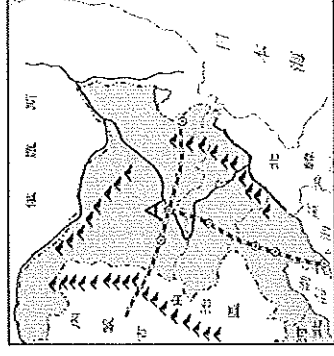
- ( ) 37. 上海港因泥沙淤積、水位淺的缺點，故興建外港以彌補不足，請問上海的外港為下列何者？  
(A) 洋山港 (B) 大連港 (C) 連雲港 (D) 維多利亞港。

- ( ) 38. 下列各諺語所對應的地形區，哪些是正確的？  
(A) 甲丙 (B) 甲丁 (C) 乙丙 (D) 乙丁。

代號	諺語	地形區
甲	中國夏威夷	長江三角洲
乙	蜀犬吠日	四川盆地
丙	魚米之鄉	鄱陽盆地
丁	一山有四季，十里不同天	橫斷山脈

- ( ) 39. 附圖所示為中國東北地區的「T」字形的鐵路網交會點A地，下列有關A都市的說明，何者正確？

- (A) 有「中國矽谷」之稱，中國高科技工業中心 (B) 市區名勝古蹟多，是歷史上「絲路」的起點 (C) 是聯繫東北地區與華北地區的重要交通樞紐 (D) 曾被俄國統治，市區多俄式風情的建築。

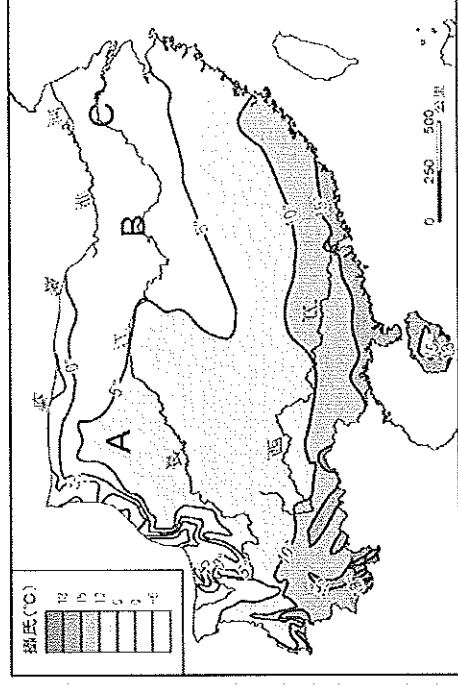


- ( ) 40. 都市發展與交通息息相關，大都市常位在各種交通方式交會的樞紐上。一軒整理中國大連、北京、上海、重慶的交通方式，將其歸納成附表的四種類型。請問：對於下述四個都市與附表的對應，何者正確？(A) 甲 (B) 乙 (C) 丙 (D) 丁。

類型	交通方式	都市
甲	鐵路—公路樞紐	北京
乙	海運—鐵路—公路樞紐	重慶
丙	河運—鐵路—公路樞紐	上海
丁	河運—海運—鐵路—公路樞紐	大連

## 二、題組題

- (一) 附圖為中國南部地區一月等溫線圖。請問：

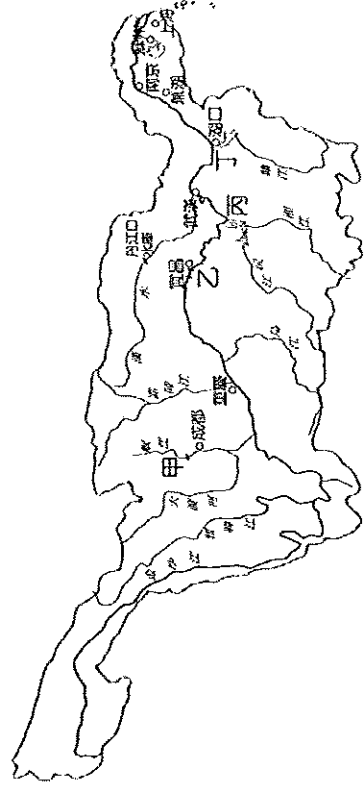


- ( ) 41. 圖中A地一月月均溫高於B、C兩地的主要原因為何？(A) 地勢較平坦 (B) 距海較遙遠 (C) 北側有高山屏障 (D) 南側有高原。

- ( ) 42. 圖中海南島在一月時會出現 $20^{\circ}\text{C}$ 的高溫。上述主要的成因應與下列何者有關？(A) 地處環太平洋火山地震帶 (B) 位處北回歸線以南 (C) 此區地形封閉，不易散熱 (D) 夏季盛行西南季風。

- ( ) 43. 圖中的一月等溫線的分布大致呈東西向平行排列，此現象主要是受到下列哪項因素影響所致？  
(A) 緯度高低 (B) 季風風向 (C) 距海遠近 (D) 地勢高低。

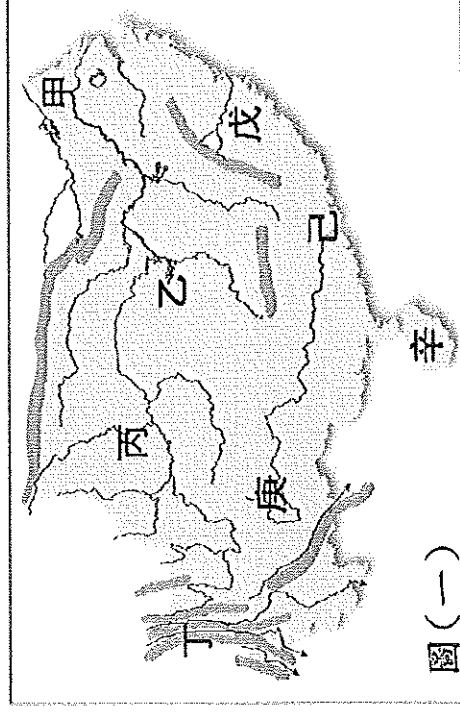
(二) 下圖為長江流域圖，請依附圖上的代號回答下列問題



- ( ) 44. 「水災」是中國歷史上重要的環境問題，圖中哪個地區因民眾的「圍湖造田」，造成本來是第一大淡水湖的洞庭湖，縮減為第二大湖，也因為湖泊調洪能力大減，導致該地區近年來出現水災頻仍的現象？(A) 甲 (B) 乙 (C) 丙 (D) 丁。
- ( ) 45. 長江三峽是長江最驚險的河段，現今中國已在三峽中段截流築壩，三峽大壩是中國近年的重要水利工程之一，也是世界上最大的水利工程。該工程水庫區位置最接近圖中的哪個區域？(A) 甲 (B) 乙 (C) 丙 (D) 丁。
- ( ) 46. 長江三峽大壩完工後，連帶使中國某個都市成為第四個直轄市。請問：這是指哪個都市？(A) 北京市 (B) 上海市 (C) 天津市 (D) 重慶市。
- ( ) 47. 長久以來，三峽大壩的興建過程一直受到各界的爭議，主要是因為此工程對中國造成了下列哪些影響？(A) 甲 乙 丙 (B) 甲 丁 (C) 乙 丙 (D) 乙 丁。

甲	強迫當地居民遷移
乙	減少長江航運里程
丙	破壞長江沿岸與江中生態
丁	增加水災的發生機率

(三) 下圖為中國「南部地區的地形簡圖」。請問：




- ( ) 48. 飄飄到了中國某處，體驗當地的傳統交通工具，稱為溜索，如右圖所示，飄飄可能到了圖中哪一個地形區？(A) 甲 (B) 乙 (C) 丁 (D) 己。



- ( ) 49. 明清時有了「湖廣熟，天下足」之說，形容只要湖廣豐收，則中國糧食不虞匱乏。湖廣地區的正確位置位於圖中的何處？(A) 甲 (B) 乙 (C) 戊 (D) 己。

- ( ) 50. 騎著單車遊中國的佩臻，某次騎到一地時，被眼前所見的石林、峰林等特殊山水景觀及深不可測的地下洞穴等石灰岩地形深深吸引。她可能是騎到南部何處？(A) 甲 (B) 乙 (C) 己 (D) 庚。



試題到此結束，請再檢查一次！