

基隆市立武崙國民中學一〇七學年度第二學期第一次段考七年級歷史科試題卷

注意事項：

1. 本份試卷為單選題，每題 2 分，共 50 題，總分 100 分。
2. 答案卡限用 2B 鉛筆畫記，若畫記錯誤，請擦拭乾淨。分數以電腦讀卡分數為準。
3. 答案卡上的資料欄請確實填寫，若資料欄畫記錯誤導致電腦無法正確判讀，扣總分 10 分。

班級：七年 班座號： 姓名：

- () 1. 日本占領臺灣後，為了增加財政收入，曾實施專賣制度，由政府獨占經營。請問：下列哪項物品，被列為專賣商品之一？ (A)鴉片 (B)茶葉 (C)甘蔗 (D)稻米。
- () 2. 1896 年日本頒布「六三法」，其第一條：「臺灣總督得於其轄區內，頒布具有法律效力之命令。」由此條文內容來看，「六三法」對於當時臺灣代表的意義是什麼？ (A)從此臺灣人可以自主管理 (B)形成總督專制的統治體制 (C)臺灣總督須具備司法背景 (D)視臺灣為日本內地的延長。

- () 3. 日本對臺灣的統治被視為「典型的警察政治」，其原因應為下列何者？ (A)警察是地方上最高行政首長 (B)警察可以自行處理地方行政工作 (C)警察可制定法律 (D)地方行政以警察為中心，不少事務都有警察介入。

- () 4. 西元 1930 年代以後，臺灣總督府在臺灣積極推動工業化，下列何者是其主要目的？ (A)使臺灣成為南進的補給基地 (B)改善臺灣的經濟，提升人民的生活水準 (C)使臺灣成為日本國內工業零組件的供應地 (D)有效利用臺灣的資源，促進臺灣工業的發展。

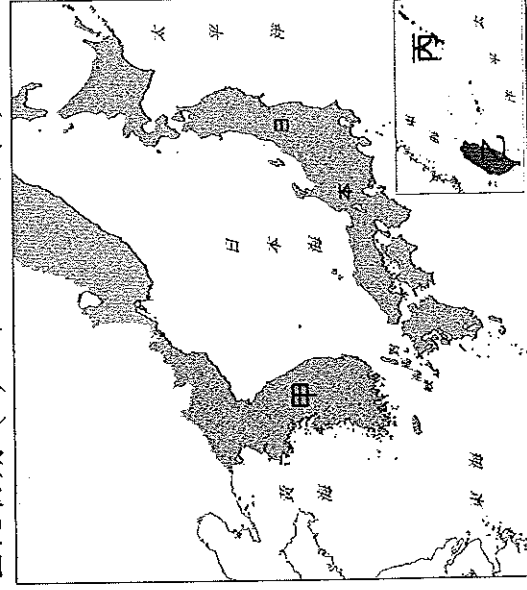
- () 5. 中法戰爭後臺灣建省，一直到臺灣割讓給日本，期間臺灣歷經三位臺灣巡撫：(甲)邵友濂 (乙)劉銘傳 (丙)唐景崧。若依照時間先後順序排列，下列何者正確？ (A)甲乙丙 (B)乙甲丙 (C)丙乙甲 (D)乙丙甲。

- () 6. 某士紳曾主持臺灣抗拒日本接收的行動，擔任義勇軍統領，主要鎮守中部，最後見形勢不可為而逃至中國，留下附圖的詩句。上述這名士紳是何人？ (A)李鴻章 (B)羅福星 (C)丘逢甲 (D)劉永福。



- () 7. (甲)立法 (乙)司法 (丙)軍事 (丁)行政，日治時期的臺灣總督有「土皇帝」之稱，這是因為臺灣總督總攬哪些大權？ (A)甲乙丁 (B)乙丙丁 (C)甲乙丙 (D)甲乙丙丁。

- () 8. 均庭正在閱讀某個時期的日本疆域圖。請問：根據附圖判斷，均庭最有可能看的是下列哪一時期的日本地圖？ (A)十八世紀末期 (B)十九世紀初期 (C)二十世紀初期 (D)二十世紀末期。



- () 9. 文學家賴和，在其創作的詩歌《南國哀歌》中，有附圖的句子。賴和詩句中描述的是哪個抗日事件？ (A)苗栗事件 (B)霧社事件 (C)牡丹社事件 (D)噶吧嘔事件。

休怕他毒氣、機關槍！
休怕他飛機、爆裂彈！
來！和他們一拚！
兄弟們！


- () 10. (甲)霧社事件 (乙)牡丹社事件 (丙)西來庵事件 (丁)苗栗事件。上列是有關日本人與臺人之間的重大衝突事件，依照發生地點，由北向南排列為何？ (A)甲乙丙丁 (B)乙丙丁甲 (C)丙丁甲乙 (D)丁甲丙乙。

- () 11. (甲)嘉南大圳 (乙)瑠公圳 (丙)八堡圳 (丁)曹公圳。上述水圳請依照地理位置，由北向南排列，其順序應為何者？ (A)甲乙丙丁 (B)乙丙甲丁 (C)乙丁丙甲 (D)丁丙乙甲。

- () 12. 附圖是 1895 年清朝欽

差大臣李鴻章與日本首相，雙方於日本簽訂割讓臺灣的條約。請問：此一條約的簽訂是因為下列

西元 1895 年



哪一事件所造成？ (A)牡丹社事件 (B)霧社事件 (C)第一次世界大戰 (D)甲午戰爭。

- () 13. 承上題，請問此事件是因為兩國為哪一地區問題而爆發戰爭？ (A)朝鮮 (B)越南 (C)臺灣 (D)琉球。

- () 14. 柏融在書上看到一段有關日治時期民眾反抗的敘述(如附圖)。這應是在描述下列哪個事件?
 (A) 噍吧哖事件 (B) 西來庵事件 (C) 霧社事件
 (D) 苗栗事件。

時間：1913年
 領導者：是位華僑
 人員：曾參加辛亥革命
 意義：抗日運動在密謀時期就失敗，表示日本對臺灣基層控制力強

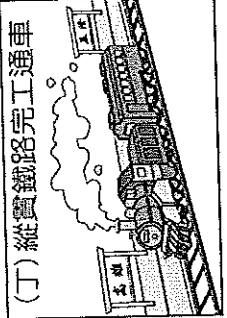

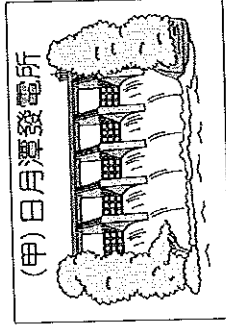
- () 15. 喬珉為準備會考，整理了一張「牡丹社事件」與「霧社事件」的比較表，如下表所示。表中哪項資料不正確?

項目	(A)發生時間	(B)與原住民關係	(C)性質	(D)結果
牡丹社事件	清領後期	與原住民有關	反抗清朝統治	清治臺由消極轉為積極
霧社事件	日治時期	與原住民有關	反抗日本統治	總督府重新檢討對原住民的統治政策

- () 16. 下列有關日治時期的警察制度，誰的說法正確?

- (A) 甲生：「當時警察被人民稱為『大人』，接受總統指揮。」
 (B) 乙生：「當時警察權責極大，甚至可以制定法律處分罪犯喔！」
 (C) 丙生：「警察除了要調查人口、督導公共衛生，連原住民都得被警察還組成『壯丁團』，協助救災及鎮壓抗日分子呢！」

- () 17. 歷史老師將日治時期重要措施的漫畫貼在黑板上，如附圖，要求同學們按時間順序加以排列。請問：正確的順序應該為何? (A) 甲乙丙丁 (B) 甲丙丁乙 (C) 乙丁丙甲 (D) 丁乙甲丙。



- () 18. 下列關於日治時期「保甲制度」的敘述，何者錯誤? (A) 規定十戶為一甲，十甲為一保 (B) 日治時期首創的制度 (C) 保甲須輔助警察和地方機關執行公務 (D) 保甲成員間負連坐責任。
 () 19. 日本以南洋為侵略目標，是因為要獲得下列哪些資源? (A) 軍火、鹿皮 (B) 茶葉、樟腦 (C) 石油、橡膠 (D) 稻米、甘蔗。

- () 20. 承璽在網路搜尋歷史資料，發現一旗幟(如附圖)，請問：此旗幟出現的那一年發生了哪些事? (甲) 清廷與日本簽訂馬關條約 (乙) 第一次世界大戰爆發 (丙) 劉銘傳抗日失敗 (丁) 日軍登臺進入臺北城。

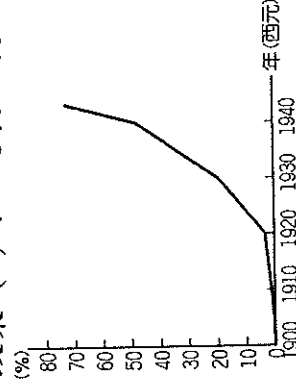


- (A) 甲乙 (B) 甲丙 (C) 甲丁 (D) 乙丙。

- () 21. 日治時期，總督府提出「內地延長主義」政策，請問，關於此時期，下列敘述何者錯誤?

- (A) 改由文官出任臺灣總督 (B) 臺灣人民仍然受到不平等的待遇 (C) 為了安撫要求民族自決的臺灣知識分子 (D) 將臺灣視為中國內地的延伸。

- () 22. 附圖為日治時期日語普及率曲線圖，1940年代日語普及率迅速增高與何項措施有密切關係? (A) 征討與安撫並行策略 (B) 無方針主義政策 (C) 內地延長主義政策 (D) 皇民化運動。



- () 23. 下列為日本殖民統治臺灣五十年中，臺灣所發生的重要事件，請按照先後順序排列，下列何者正確? (甲) 第二次世界大戰結束 (乙) 1937年中日戰爭爆發 (丙) 甲午戰爭 (丁) 第一次世界大戰結束 (戊) 皇民化運動時期 (己) 內地延長主義時期 (A) 甲乙丙丁戊己 (B) 丙乙甲丁己戊 (C) 丙己丁戊乙甲 (D) 丙丁己乙戊甲。

- () 24. 下列關於「嘉南大圳」的敘述，何者錯誤?

- (A) 灌溉水源主要來自翡翠水庫 (B) 是八田與一所設計建造 (C) 主要灌溉嘉南平原 (D) 興建完成後，增加水稻的種植面積。


- () 25. 阿嬤拿出一張宣傳單(如附圖)，說是她小時候躲空襲警報時，在路上撿到的，大家七嘴八舌的討論著。請問：下列四位小朋友所發表的相關意見，何者最為貼切?

- (A) 小鐘：傳單內容是為了徵召臺人從軍


- (B) 小美：單子上「太平洋沿岸兩大國家」是指日本與臺灣

- (C) 小和：是日本宣傳「大東亞新秩序」的傳單

- (D) 小祚：是美軍的飛機扔的，是對臺灣人喊話。



- () 26. 附圖(一)、圖(二)分別是臺灣某兩個時期的產業生活簡圖。由圖(一)演變到圖(二)，代表臺灣社會經濟的特色有何改變？(A)商業活動改以出口貿易為主 (B)宗教習慣改變為基督教信仰 (C)經濟活動重視觀光產業 (D)農業社會邁向工業社會。



- () 27. 17世紀以來，臺灣歷經數個外來民族的統治，但每一個政權都未能精確掌握臺灣人口的數量，直到何時臺灣才實施第一次人口普查，確實掌握臺灣人口的實況？(A)1895年 (B)1905年 (C)1919年 (D)1937年。

- () 28. 清領後期，臺灣已從事近代化建設；日治時期，總督府近一步拓展建設規模，下列哪些是兩者共同的建設項目？(甲)統一貨幣與度量衡 (乙)興建鐵路(丙)郵局、電報等通訊系統(丁)人口普查。(A)甲乙 (B)甲丁 (C)乙丙 (D)乙丁。


- () 29. 根據以下資料，何者敘述正確？(A)資料一的「會社」指的是外國人成立的洋行 (B)資料二的規定，可保障日資糖廠，使其可低價收購甘蔗原料 (C)這是在臺灣總督府實施「工業臺灣，農業南洋」政策下的措施 (D)因不滿日方的壓榨，蔗農紛紛轉作花卉及蔬果。

資料一：第一憨，種甘蔗乎會社磅。

資料二：1905年6月臺灣總督府規定：為制止各製糖工廠間的原料爭奪，避免擾亂蔗價，各蔗作區畫定一定範圍的區域。此區域內的甘蔗未經許可，不得運出區域之外，或供作砂糖以外成品的製作原料。

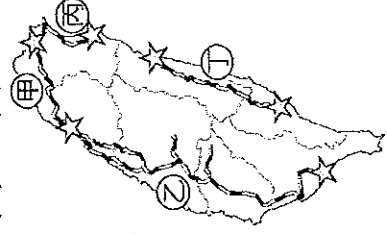
- () 30. 附圖為家瑜環島旅行中在臉書的貼文，他搭乘的鐵路支線現在主要是以觀光為主，但其最初修築的目的應為下列何者？(A)開發森林資源 (B)載運甘蔗、稻米 (C)聯絡各城鎮的公路 (D)聯絡南北交通。

這是日治時期所修築的阿里山鐵道。



- () 31. 藪安參加「橋仔頭文化工作室」的活動，參觀糖廠，解說員告訴大家：「這是臺灣第一座新式製糖廠，此後臺灣製糖業蓬勃發展，成為糖業王國……。」請問：他應該是前往何處參觀？(A)高雄 (B)花蓮 (C)台南 (D)基隆。

- () 32. 登瑋是臺灣鐵道迷，專門研究臺灣鐵路的發展史，他以附圖呈現日治時期的鐵路建設。請問：附圖哪段鐵路不是首次完工於日治時期？(A)甲 (B)乙 (C)丙 (D)丁。



- () 33. 某位英國商人在1915年來臺灣經營商，他可能曾經歷下列哪一種體驗？(A)從臺北搭乘火車到臺南，前往製糖會社參觀 (B)在臺北找找不到銀行而苦惱不已 (C)可任意開闢無主山林地 (D)直接向農民購買甘蔗，自行製糖。

- () 34. 日治後期，日本開始在臺灣推動工業化，輕工業也有顯著的成長。請問：當時臺灣的輕工業主要以生產哪一方面的產品為主？(A)高科技工業 (B)食品加工 (C)國防軍需工業 (D)生物科技。

※臺灣傳統經濟時期又可以分為荷鄭時期傳統經濟的萌芽、1860年代以前清領時期傳統經濟的發展期、以及1860年代至1895年之間傳統經濟的衝擊時期等三個階段。

1895年以後的日治時代則進入了現代經濟的建構時期。日治時代臺灣經濟發展的最大特徵有兩方面：一為現代化，另一為日本化。所謂現代化是指現代經濟體系的建構，而所謂日本化則是指臺灣與日本經濟關係的強化。

- () 35. 根據上文，下列哪一產業的發展，淵源於荷鄭時期？(A)糖業 (B)冶鐵 (C)樟腦 (D)畜牧。

- () 36. 下列選項中，何者符合文中「所謂日本化則是指臺灣與日本經濟關係的強化」。(A)統一度量衡 (B)修築島內公路 (C)鴉片專賣 (D)設立郵局。

※大家耳熟能詳的臺語老歌「雨夜花」，在1940年代初期曾被改寫為《榮譽的軍伕》，歌詞內容節錄如下：「……獻給天皇，我的生命；為了國家，不會憐惜。……如要凋謝，必做櫻花，我的父親，榮譽軍伕。」請問：

- () 37. 從《榮譽的軍伕》內容與年代判斷，改寫的背景應該為何？(A)第一次世界大戰期間 (B)皇民化運動時期 (C)臺灣民主國抗日期間 (D)甲午戰爭期間。


- () 38. 當時改寫這首歌的目的是什麼？(A)促進臺灣人民本土意識覺醒 (B)激發臺灣人民為日本犧牲的愛國精神 (C)希望臺灣人民效忠清朝皇帝而犧牲生命 (D)鼓舞臺灣人民奮勇抵抗日軍的入侵。

※圖(三)、(四)為描繪臺灣日治初期的歷史漫畫，請由圖中內容回答下列問題：

農曆七月七日西來庵，密謀起事。



我有符咒可避子彈，寶劍可飛斬日本人。



總督下令，只要投降，就免你死罪。

圖(三)

()39. 漫畫中提及的「密謀起事」，指的是下列哪一事件？(A)霧社事件 (B)苗栗事件 (C)臺灣民主國 (D)噍吧哖事件。

()40. 漫畫中，主要策畫起事的是哪一歷史人物？(A)丘逢甲 (B)余清芳 (C)羅福星 (D)莫那魯道。

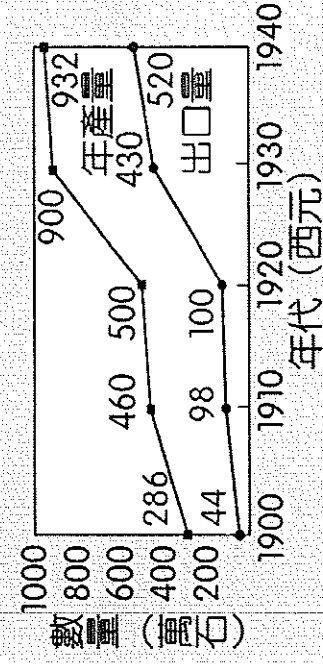
()41. 此這起事件的最後結局為何？(A)領導人先後返回中國而宣告失敗 (B)起事者受到民眾大力支持而成功 (C)臺人漸以政治社會運動取代武裝抗日 (D)中華民國政府趁機出兵臺灣，擊敗日軍。

圖(四)

※附圖為西元1911~1940年的臺灣輕工業生產指數圖。請問：

- ()42. 1930年代以後輕工業生產指數快速增高。這種情形與哪項建設的完成有關？(A)高雄港 (B)日月潭發電所 (C)縱貫鐵路 (D)嘉南大圳。
- ()43. 承上題，這與哪項政策的推動有關？(A)工業臺灣，農業南洋 (B)農業臺灣，工業日本 (C)無方針主義政策 (D)發展新式製糖業。
- ()44. 承上題，這一政策的推動，是為了配合下列哪項因素而改變對臺灣的經濟政策？(A)日本天災，工業發展受阻 (B)日本發動對東南亞的侵略戰爭 (C)臺灣農業生產過剩 (D)臺人教育水準普遍提升，產業升級。

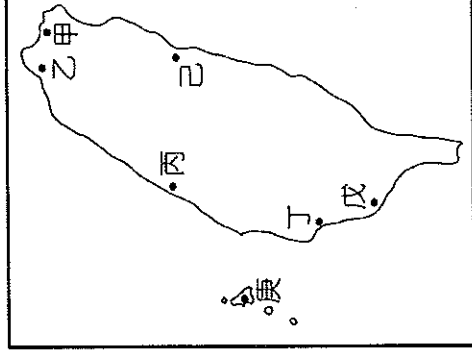
※附圖為日治時期臺灣稻米年產量及出口數量圖。請問：



- ()45. 1920年代以後，臺灣稻米生產量大幅增加。請問：稻米產量大增的原因可能有哪些？
 (甲)日本企業來臺設廠(乙)大型水利設施興建
 (丙)皇民化運動的推展(丁)研發新的稻米品種
 (戊)引進新的耕作技術 (A)甲乙丙 (B)乙丁戊 (C)乙丙丁 (D)甲丙戊。
- ()46. 承上題，這時期大量的稻米多輸往何地？
 (A)南洋各國 (B)荷蘭 (C)美洲 (D)日本。

※日治初期，臺人反抗事件層出不窮與財政入不敷出需要日本國大力援助，導致日本政府飽受國際社會嘲笑認為不具備治理殖民地的能力。甚至當時日本瀟漫著《臺灣實政論》的思維(將臺灣以一億日圓賣給法國)，最後在當時民政長官積極極推動基礎建設與財政改革下，臺灣脫離入不敷出的窘境。請問：

- ()47. 上文中的民政長官為下列何者？(A)後藤新平 (B)伊藤博文 (C)八田與一 (D)磯永吉。
- ()48. 為進行各項建設，總督府曾實施大規模土地與林野調查，以下相關敘述何者錯誤？(A)掌握地籍資料及徵稅對象有利徵稅 (B)劉銘傳時期亦曾丈量田地、重訂賦稅 (C)無主林地轉國有地可供資本家開發 (D)此為皇民化運動下相關政策。
- ()49. 當時日本對臺推動的基礎建設不包括下列何者？(A)設立郵便局 (B)實施土地與林野調查 (C)成立臺灣銀行 (D)興辦西式學堂。
- ()50. 為了聯絡日本內地與東南亞地區，總督府分別在臺灣擴建附圖哪兩個港口，使臺灣成為往來東南亞的重要中繼站？(A)甲丙 (B)甲戊 (C)乙丁 (D)乙戊。



(題目到此結束，請再仔細檢查~)