

基隆市立武崙國民中學 107 學年度第二學期第一次段考七年級地理科試題卷

本試卷分為兩部分，

班級：_____ 姓名：_____ 座號：_____

第一大題：單一選擇題，共 45 題，每題 2 分，總計 90 分，請用 2B 鉛筆於答案卡上作答。

第二大題：非選擇題，共 10 題，每題 1 分，總計 10 分，請用藍色或黑色原子筆於答案卷上直接作答。

第一大題：單一選擇題

☐根據下述人口資料回答第1~3題：

數據‰/時間	1940	1960	1980	2000
出生率	15	13	10	8
移入率	2	3	3	3
自然增加率	-3	0	2	5
社會增加率	-4	-1	-1	-1

- () 請問此地在哪一年開始人口正成長？
(A)1940年 (B)1960年
(C)1980年 (D)2000年
- () 請問影響此地『人口正成長』的主要因素為下列何者？
(A)出生率下降 (B)死亡率下降
(C)移入率提升 (D)移出率下降
- () 若此地人口有20萬人，請問2000年時將戶籍遷離此地的人有多少？
(A)8000人 (B)800人
(C)600人 (D)400人

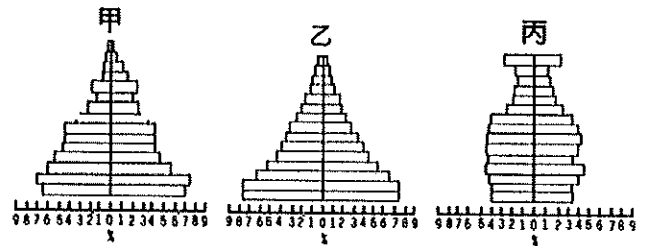
☐根據下述人口資料回答第4~6題：

時間	1995	2000	2005	2010
性別比	95	98	101	105
幼年人口(萬人)	20	16	11	8
壯年人口(萬人)	60	63	70	80
老年人口(萬人)	5	6	9	12

- () 隨著時間的推進，請問此地的性別結構呈現什麼樣的改變？
(A)男性人口愈來愈多
(B)女性人口愈來愈多
(C)男女數量差距變大
(D)無法判斷數量差距

- () 從1995到2010年的這段時間，此地扶養比的變化為何？
(A)愈來愈高，壯年人口負擔加重
(B)愈來愈高，壯年人口負擔減輕
(C)愈來愈低，壯年人口負擔加重
(D)愈來愈低，壯年人口負擔減輕
- () 請問此地哪一年進入『高齡化社會』？
(A)1995年 (B)2000年
(C)2005年 (D)2010年

☐附圖為三種不同類型的人口金字塔圖。請問7~9題：



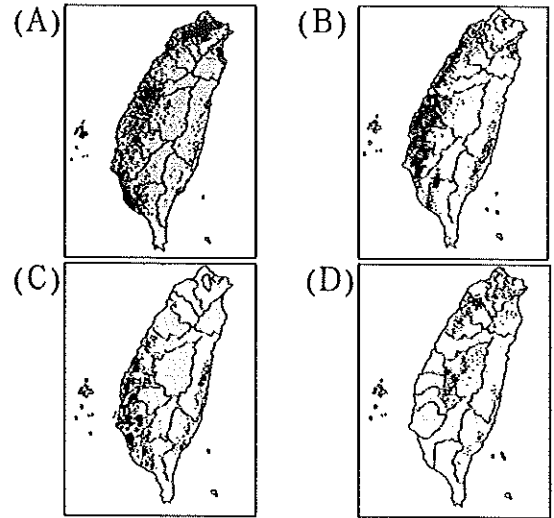
- () 若此三種人口金字塔分別代表臺灣人口變化的三個階段，請將其依年代順序排列？(A)甲→乙→丙 (B)甲→丙→乙
(C)乙→甲→丙 (D)丙→乙→甲
- () 關於人口金字塔所表示的人口數據下列何者錯誤？(A)年齡5歲為一階
(B)男性資料位於左側
(C)丙國的幼年人口數量最少
(D)藉由數據能判斷一地的經濟發展
- () 請問丙國未來需要面對及解決的是哪些人口問題？(甲)加強家庭節育宣導
(乙)人力資源日漸短缺不足
(丙)學童教育設備數量不足
(丁)老人長照安養機構缺乏
(A)甲、乙 (B)乙、丙
(C)乙、丁 (D)丙、丁

10. 俊宏為國中七年級學生，以下表格為他的家庭成員資料。請回答第10~16題：

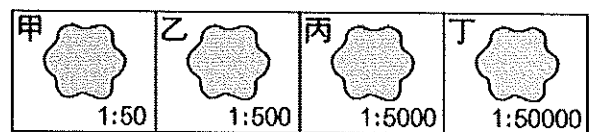
稱謂	年齡	職業
爺爺	74	茶農
奶奶	68	無
叔公	64	娃娃車司機
爸爸	45	鮮奶經銷商經理
媽媽	42	食品包裝廠作業員
伯父	47	乳牛養殖
伯母	46	老人安養院護理師
姑姑	43	科技業工程師
叔叔	38	美髮、美甲師
堂姐	14	國中生
哥哥	18	大學生
妹妹	5	幼稚園學生

10. () 關於俊宏家中成員敘述何者錯誤？
 (A)幼年人口3人 (B)老年人口2人
 (C)人力資源8人 (D)被扶養人口4人
11. () 請問俊宏家人的職業屬於第三級產業的有幾人？
 (A)3人 (B)4人 (C)5人 (D)6人
12. () 俊宏伯父平時種植牧草和飼料來餵養他所飼養的乳牛，並生產鮮乳供應市場的需求，我們稱這種經濟活動？
 (A)放牧業 (B)酪農業
 (C)精緻牧業 (D)養殖牧業
13. () 俊宏爸爸建議伯父開放他的畜牧場，讓遊客可以在假日的時候親近乳牛、體驗餵食小牛、認識鮮奶生產流程、親手製作鮮奶餅乾，並請哥哥規劃一系列體驗活動來吸引人潮，請問這種建議是屬於臺灣哪種農業經營模式？
 (A)發展精緻農業 (B)邁向無毒農業
 (C)建立生產履歷 (D)提倡休閒農業
14. () 俊宏的伯母在老人安養院擔任護理師，他提到近年來院裡總是一房難求，因此分院已經連續開了兩間。請問這種情形和臺灣哪一種現象有關？
 (A)人力資源不足 (B)邁入高齡社會
 (C)貧富差距擴大 (D)福利服務提升

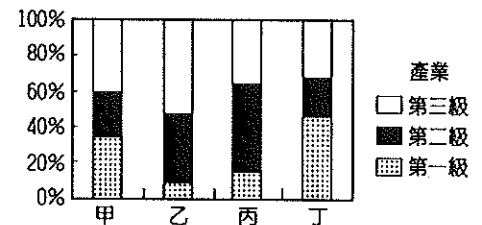
15. () 俊宏想要向同學介紹爺爺的茶園，請問哪一張圖最適合用來展現臺灣茶葉種植分布的位置？



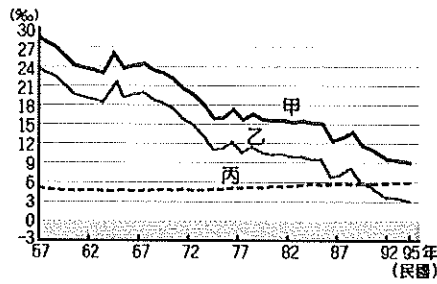
16. () 俊宏對臺灣的茶葉文化非常有興趣，他發現市面上銷售較好的茶葉多半講究品質、履歷清楚且包裝精美並用茶農的奮鬥故事作為宣傳，他希望未來爺爺的茶也能朝這種模式努力，請問這是屬於哪一種農業經營模式？
 (A)生態農業 (B)精緻農業
 (C)休閒農業 (D)文青農業
17. () 若下圖四個都市的人口數量均相同，參考圖中的土地比例尺資訊，請問哪個都市每人的生活空間最擁擠？



- (A)甲 (B)乙 (C)丙 (D)丁
18. () 右圖為臺灣某四個都市的人口就業結構比例圖，請依圖判斷哪一個都市經濟最為繁榮？
 (A)甲 (B)乙 (C)丙 (D)丁



19. () 右圖為臺灣近年來的人口統計圖，請問甲



、乙、丙分別代表哪些數據？

- (A) 出生率、死亡率、自然增加率
- (B) 出生率、自然增加率、死亡率
- (C) 人口成長率、移入率、出生率
- (D) 人口增加率、社會增加率、自然增加率

20. () 承上題，根據統計圖可以發現臺灣的人口成長主要是受到哪一項數據的下降所影響？

- (A) 出生率 (B) 死亡率
- (C) 性別比 (D) 撫養比

21. () 請問從右側的臺灣人口分布圖可以發現人口分布受到哪些因素影響？

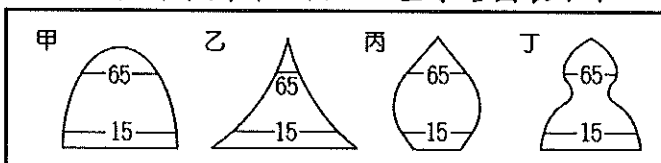


- (甲) 地形 (乙) 氣候
- (丙) 水文 (丁) 交通
- (戊) 經濟發展
- (己) 就業機會
- (A) 甲乙丙丁
- (B) 甲乙丁己
- (C) 甲丁戊己 (D) 乙丁戊己

22. () 承上題，臺灣此種人口分布容易出現哪一種問題？

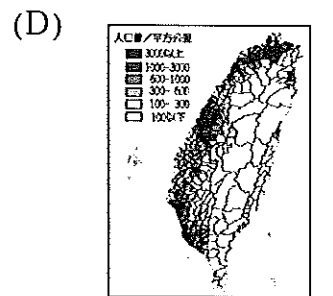
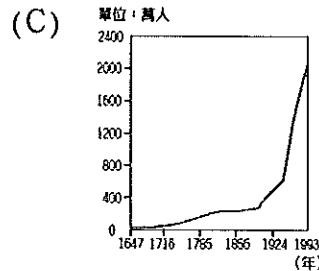
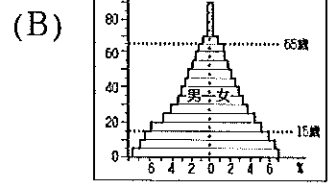
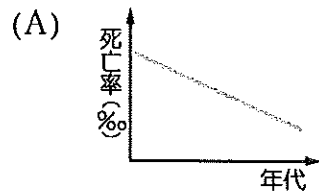
- (A) 區域發展失衡 (B) 東部無人管理
- (C) 稅收支出不足 (D) 山區環境破壞

23. () 日前臺灣的農村人力缺乏的問題最適合用下列哪一個人口金字塔圖表示？




- (A) 甲 (B) 乙 (C) 丙 (D) 丁

24. () 昱婷想要製作臺灣歷年來人口成長的報告，請問哪一張圖最適合呈現此報告的主題？



25. () 人口專家近年來對臺灣發出嚴正警告，若不積極正視並改善下列哪一項人口問題，未來可能出現如下圖的狀況？



- (A) 人口區域分布不均衡
- (B) 人口素質差異漸擴大
- (C) 新移民文化適應困難
- (D) 高齡化與少子化嚴重

26. () 銘歆嚮往生活在自然、純樸的鄉村，因此計劃舉家搬遷到花蓮，請問對她而言，花蓮具備哪些人口移動中的『拉力』？

- (甲) 交通不便 (乙) 噪音污染
- (丙) 空氣清新 (丁) 工作機會少
- (戊) 環境品質佳 (己) 生活步調緩慢

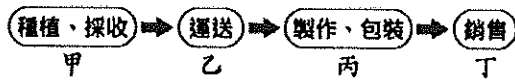
- (A) 甲、乙、丁 (B) 丙、戊、己
- (C) 丙、丁、戊 (D) 丁、戊、己

27. () 雅琪發現臺灣的畜牧業通常將牲畜圈養在欄舍並餵以飼料，請問此種經營方式主要與下列哪個因素有關？

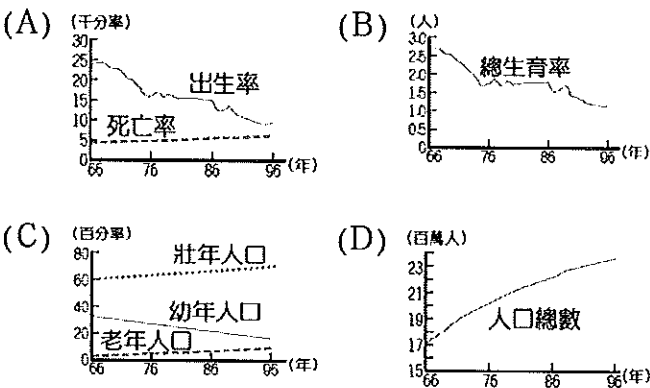
- (A) 土地面積有限 (B) 氣候變化無常
- (C) 傳染疾病管制 (D) 土壤沃度貧瘠

28. () 智盛要加盟一間連鎖超市，他需要展店在一個人口密度高、人潮絡繹不絕的地方，請問他需要哪些資料協助他找到合適的地點？(甲)人口數量 (乙)土地類型 (丙)土地面積 (丁)氣候數據
 (A)甲、乙 (B)甲、丙
 (C)乙、丙 (D)丙、丁

29. () 近年來，鳳梨酥成為國人及外國遊客喜愛的伴手禮之一，產值逐年上升。附圖為鳳梨酥產銷過程的示意圖，甲、乙、丙、丁哪些屬於第三級產業？

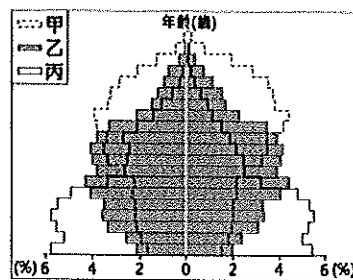


- (A)甲、乙 (B)乙、丙
 (C)乙、丁 (D)丙、丁
30. () 下列哪一張圖最適合用來呈現臺灣近年來扶養比變化的趨勢？



31. () 臺灣早期農家栽種多種作物，自給自足以求溫飽；但現代農家的農產品以供應市場需求為導向、賺取利潤為目的。請問此種轉變屬於下列何種現象？
 (A)商品化 (B)專業化
 (C)單一化 (D)精緻化

32. () 某國受到人口結構改變的衝擊，長期照護、專屬旅遊、到府清潔、就醫接送等「陪伴商機」也應運而生。附

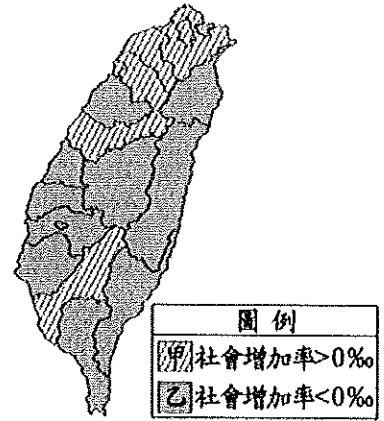


圖為該國不同時期的人口金字塔，該國出現上述陪伴商機最可能是因為其人口結構如何轉變？

- (A)由甲轉變成乙 (B)由甲轉變成丙
 (C)由乙轉變成甲 (D)由乙轉變成丙

33. () 附圖為

2010年臺灣本島各縣市社會增加率類型的分布圖，下列用來說明圖中分布



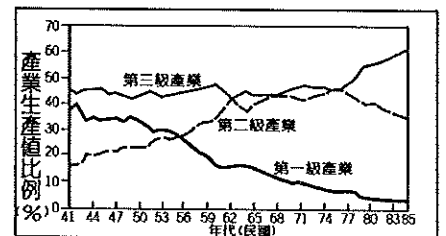
狀況的原因何者正確？

- (A)甲類型的拉力大於推力，因就業機會較多 (B)甲類型的推力大於拉力，因物價水準較高
 (C)乙類型的拉力大於推力，因社會福利完善 (D)乙類型的推力大於拉力，因工業汙染嚴重

34. () 臺灣水果種類多、品質優，有『水果王果』之稱，請問臺灣能贏得此美名的條件為下列哪幾項？(甲)可耕地面積廣大 (乙)緯度橫跨熱帶到溫帶 (丙)地形高低落差大 (丁)農業科技進步 (戊)海陸位置優越
 (A)甲、乙 (B)乙、丙
 (C)丙、丁 (D)丙、戊

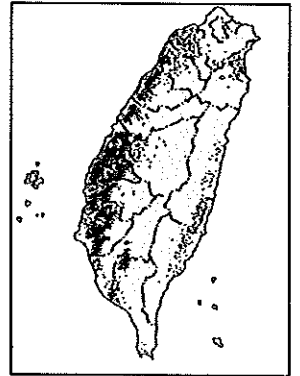
35. () 右圖為

臺灣三大產業的產值比例變



化圖，請問下列那份報告最可能使用此圖作為舉證？(A)臺灣產業結構的轉移 (B)臺灣物價指數的提升 (C)臺灣農業面臨的困境 (D)工業臺灣、農業南洋。

36. () 臺灣山地面積廣大，木材外銷曾為國民政府賺取巨額外匯，請問當前政府的林業政策為下列何者？(A)禁止砍伐人造林 (B)只砍伐特定樹種 (C)積極尋找新林區 (D)嚴禁砍伐天然林
37. () 筱晴翻開臺灣糖廠分布圖，發現糖廠主要分布在西南部地區，請問這個現象與下列何者關係最密切？
(A)日治時期的殖民產業政策
(B)西南部土地面積較為廣大
(C)蔗糖的製作需要烈陽曝曬
(D)甘蔗適合生長在熱帶平原
38. () 臺灣的農業可以用『農無閒年、地無閒田』這句俗諺來描述，請問這與臺灣哪些農業特徵有關？(甲)單位面積產量高 (乙)農業經營高度集約 (丙)採用大規模機械化耕作 (丁)單位面積農地投入較多人力 (戊)農村老化勞動力不足
(A)甲、乙、丙 (B)甲、乙、丁
(C)乙、丙、丁 (D)丙、丁、戊
39. () 下列關於糧食作物與經濟作物的比較何者錯誤？(A)糧食作物主要種植目的為果腹飽食 (B)經濟作物主要種來換取現金 (C)小麥、甘蔗、花卉為經濟作物 (D)水稻為臺灣最主要的糧食作物
40. () 下列何者不是臺灣漁業發達、漁產豐富多元的主要原因？
(A)大陸棚廣大 (B)經濟海域廣大
(C)寒暖洋流交會 (D)四面環海港灣多
41. () 臺灣稻米近年來『供過於求』，迫使農家轉型或轉作其他作物的主要原因為下列何者？(甲)可耕地面積增加 (乙)氣候漸趨穩定溫暖 (丙)收穫次數增加 (丁)單位面積產量增加 (戊)居民飲食習慣改變 (A)甲、乙 (B)甲、丁
(C)丙、丁 (D)丁、戊
42. () 承上題，臺灣中部地區許多稻田紛紛轉型改種植經濟價值較高的花卉、蔬菜，並成立專業生產區，將農產品銷售到都市及國外，請問此種經營模式的形成主要和下列哪一項因素有關？
(A)交通便捷，利於外銷
(B)科技進步，品質優化
(C)耕地擴大，閒田釋出
(D)政府推廣，提供補助
43. () 近年來臺灣許多雞隻養殖戶排擺脫過去傳統農家副業的養殖模式，紛紛改善養殖房舍，增加現代化的設備，如：溫度調控、通風設備與完善的飼料與供水系統，並擴大養殖規模，雞隻數量達上萬隻，請問這種經營模式主要展現出現代畜牧業的哪種特徵？
(A)專業化 (B)多元化
(C)機械化 (D)標準化
44. () 右側為臺灣某種作物的分布圖，關於此作物的描述下列何者錯誤？(A)性喜濕熱 (B)適合生長於平原 (C)為臺灣人主要糧食 (D)為臺灣重要經濟作物

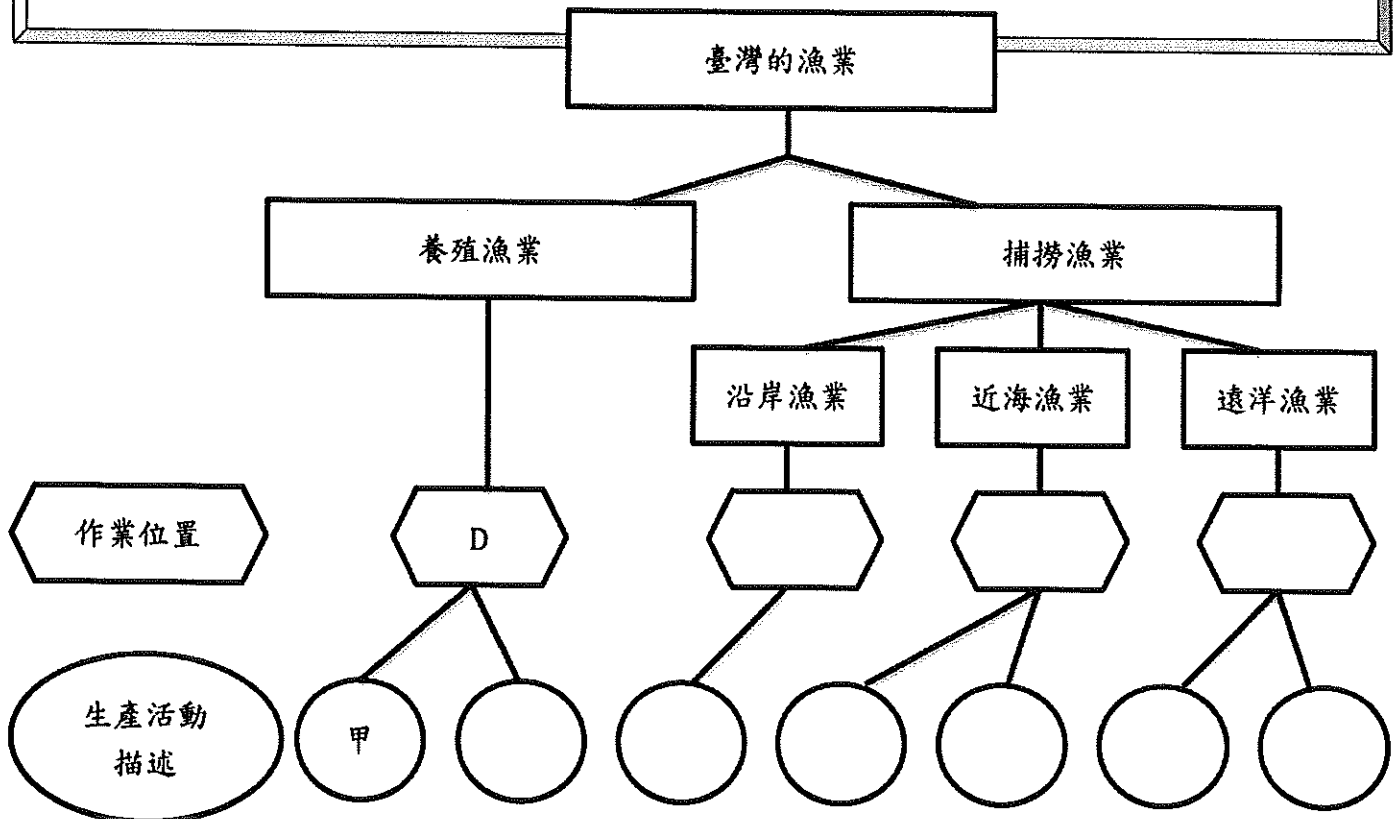


基隆市立武崙國民中學 107 學年度第二學期第一次段考七年級地理科答案卷

第二大題：非選擇題

一、請將「臺灣各地漁業生產活動」資料加以分類，並完成下方階層圖：(每格 1 分，共 9 分)

臺灣各地漁業生產活動			
作業位置		生產活動描述	
A	公海 (經濟海域以外)	甲	彰化王功的牡蠣養殖
B	經濟海域	乙	臺南南鯤鯓的虱目魚產業
C	領海以內	丙	蘭嶼大型拼板舟夜間出海捕飛魚
D	臺灣西南部沿海	丁	高雄海神號出海捕烏魚 2~3 天後回興達港
		戊	基隆海倫號出海捕鎖管 2 天後回八斗子漁港
		己	高雄吉新號前往大西洋利用鮪延繩釣捕撈黃鰭鮪
		庚	高雄金馬號鮫釣漁期出海作業 3~5 個月後回前鎮港



二、請任選一個漁業類型，舉出一項臺灣在此所面臨的問題填在對應的格子裡：(共 1 分)

漁業類型	面臨的問題
遠洋漁業	
近海、沿岸漁業	

班級	姓名	座號	選擇題得分 90%	非選擇題得分 10%	總分